



وزارة التربية
التوجيه العام للاجتماعيات

بنك اسئلة لمقرر تاريخ دولة الكويت الصف العاشر

الفصل الدراسي الأول
العام الدراسي ٢٠٢١/٢٠٢٢

إعداد الموجه الفنية للاجتماعيات
أ/ سعاد الخالدي - أ/ فضاة العنزي

إشراف الموجه الأول
أ/ محمد المهنا

د. محمد فرج المهنا
الموجه الأول للاجتماعيات بالإنابة



الإشراف العام

الموجه الفني العام للاجتماعيات

الأستاذة /إيمان السويحل



المحتوى

الصفحة	الفصل الأول
٣٦ - ١٩	معالم الكويت الجغرافية
٦١ - ٥٦	المعالم الحضارية لدولة الكويت
الفصل الثاني	
٨٠ - ٧١	نشأة الكويت
الفصل الثالث	
٨٩ - ٨٣	التنافس الاستعماري الأوروبي على منطقة الخليج العربي
الفصل الرابع	
١٠٥ - ٩٣	الحاكم السابع الشيخ مبارك الكبير

السؤال الأول: أكمل العبارات التالية بما يناسبها فيما درست:

- ١- تقع دولة الكويت بالنسبة لشبة الجزيرة العربية في الجزء الشمال الشرقي.
- ٢- الدولة التي تحد دولة الكويت من جهة الجنوب والجنوب الغربي المملكة العربية السعودية.
- ٣- المسطح المائي الذي تطل عليه دولة الكويت من جهة الشرق يسمى الخليج العربي.
- ٤- ينحدر سطح دولة الكويت انحدار تدريجيا من جهة الغرب إلى الشرق.
- ٥- تقع دولة الكويت بالنسبة للخليج العربي في الجزء الشمال الغربي.
- ٦- تقع دولة الكويت بين دائرتي عرض ٢٨,٤٥ و ٣٠,٠٥ شمال خط الاستواء.
- ٧- تقع دولة الكويت بين خطي ٤٦,٣٠ و ٤٨,٣٠ شرق خط غرينتش.
- ٨- الحد الفاصل بين الحدود الكويتية والعراقية بمسافة ١٥٠ كم يسمى وادي الباطن.
- ٩- السهل الذي يمتد من جون الكويت باتجاه الجنوب موازيا لخط الساحل يسمى سهل برقان.
- ١٠- سهل يقع في شمال دولة الكويت ينحدر نحو الشرق والشمال الشرقي يسمى سهل الروضتين.
- ١١- السهل الذي يحتل مساحة كبيرة في غرب وجنوب دولة الكويت يسمى سهل الدبدبة.
- ١٢- أكبر الجزر الكويتية والتي تمثل ٥% من المساحة الإجمالية لدولة الكويت تسمى جزيرة بوبيان.
- ١٣- يعود الوجود البشري في منطقة الكويت إلى أكثر من ٤٠٠٠ سنة قبل الميلاد.
- ١٤- جزيرة كويتية شهدت تواجد سكانيا سابقا وأصبحت غير مأهولة بعد أحداث الغزو العراقي عام ١٩٩٠م هي جزيرة فيلكا.
- ١٥- أصغر الجزر الكويتية مساحة جزيرتا مسكان و قاروه.
- ١٦- بدأ التنقيب الاثري في جزيرة فيلكا عام ١٩٥٨م.
- ١٧- ترجع الآثار الحضارية في جزيرة فيلكا لحضارة دلمون.
- ١٨- تعود حضارة العبيد القديمة إلى ٥٥٠٠ - ٤٥٠٠ قبل الميلاد.
- ١٩- تقع دولة الكويت ضمن الإقليم الصحراوي.
- ٢٠- إقليم يحتل المنطقة الغربية للخليج العربي ويمتد من جنوب البصرة شمالاً حتى عمان جنوبا يسمى إقليم البحرين.

٢١- الجهة المسؤولة عن اجراء التعداد السكاني تسمى دائرة الشؤون الاجتماعية.

٢٢- الشيخ الذي تم في عهده أول تعداد للسكان في دولة الكويت يسمى عبد الله السالم الصباح.

د. محمد هرج المهنا
الموجه الأول للاجتماعيات بالإناث

٢٣- الشيخ الذي أجري في عهده تعداد للسكان عام ٢٠١٤م في دولة الكويت يسمى صباح الأحمد الصباح.

٢٤- بلغت نسبة عدد السكان لغير الكويتيين الوافدين حوالي ٧٢٪.

٢٥- عثر على العديد من الكتابات على الصخور كحجر ايكاروس.

٢٦- وقعت معركة ذات السلاسل عام ١٢ هجرية.

٢٧- المعركة التي وقعت بين المسلمين والفرس عام ١٢ هجرية على أرض الكويت تسمى ذات

السلاسل.

٢٨- عثر على مسكوكات إسلامية أهمها عملة أموية مؤرخة بعام ١٢٣ هجرية.

٢٩- الكويت أرض قفراء نزلها جدنا صباح عام ١٠٢٢ هجرية عبارة قالها الشيخ مبارك الصباح.

٣٠- الموطن الأصلي لجماعات العتوب في نجد يسمى الهدار.

٣١- المنطقة الأولى التي استقر فيها العتوب بالقرب من الزبارة في قطر تسمى الفريحة.

٣٢- العتوب ترجع في أصلها إلى عدة قبائل أبرزها قبيلة عنز.

٣٣- منطقة شكلت محطة الاستقرار الأولى للعتوب تسمى قطر.

٣٤- تأسست دولة الكويت في عام ١٦١٣م.

٣٥- الكويت تصغير لكلمة كوت وهي تعني القلعة أو الحصن.

٣٦- اصل كلمة العتوب الفعل عتب ومعناه الإكثار في الترحال.

٣٧- قبيلة امتد نفوذها من قطر جنوباً حتى البصرة شمالاً تسمى بني خالد.

٣٨- البداية الحقيقية لظهور الكويت ككيان سياسي منظم باختيار حاكم الكويت الشيخ صباح الأول

بن جابر.

٣٩- تولى آل الجلاهمة في الكويت قديماً شؤون البحر.

٤٠- أول معركة للكويت كانت معركة بحرية.

٤١- تولى الشيخ عبد الله الأول بن صباح بن جابر الحكم عام ١٧٦٣م.

٤٢- الشيخ الذي حدثت في عهده معركة الرقة يسمى عبد الله الأول بن صباح بن جابر.

٤٣- وقعت معركة الرقة بين الكويت وبني كعب في عام ١٧٨٣م.

٤٤- تم بناء سور الكويت الأول عام ١٧٩٧م.

- ٤٥- حاكم دولة الكويت الذي لقب بجابر العيش يسمى جابر الأول.
- ٤٦- ألغي الرسوم على البضائع احتراماً لرغبة شعبة هو الشيخ صباح الثاني بن جابر.
- ٤٧- زار المعتمد البريطاني لويس بيلي الخليج العربي عام ١٨٦٥م.
- ٤٨- المعتمد البريطاني في الخليج العربي والذي زار الكويت عام ١٨٦٥ يسمى لويس بيلي.
- ٤٩- من أهم الأحداث السياسية في عهده ترحيبية وتسهيله لاستقرار أسرة الأمير عبد الرحمن آل سعود هو الشيخ محمد بن صباح.
- ٥٠- التسهيلات التي كانت تمنح لتجار البادية تسمى تجارة المسابله.
- ٥١- مؤسس الدولة السعودية الثالثة هو الملك عبد العزيز آل سعود.
- ٥٢- أحد موظفي شركة الهند الشرقية البريطانية هو فرنسيس وarden.
- ٥٣- تولي الحكم في الكويت قديماً حسب تقسيم المهام أسرة آل صباح.
- ٥٤- تولي آل خليفة في الكويت قديماً شؤون التجارة.
- ٥٥- اشتهر بالنزاهة والوقار والتواضع وساعدة في الحكم اخواه الشيخان جراح ومبارك هو الشيخ محمد بن صباح.
- ٥٦- اتصف بحسن السيرة ودمائة الاخلاق وكان محبوباً لدى الجميع هو الشيخ عبد الله بن صباح الثاني.
- ٥٧- تم بناء السور الثاني لدولة الكويت في عام ١٨١٤م.
- ٥٨- أولى الدول الأوربية في استعمار منطقة الخليج العربي البرتغال.
- ٥٩- اتخذ الهولنديون مركز تجاري في ميناء بندر عباس.
- ٦٠- خرج أول اسطول هولندي إلى آسيا ليبلغ جزر الهند الشرقية في عام ١٥٩٥م.
- ٦١- بدأ الوجود الهولندي في آسيا خصوصاً وفي الشرق عموماً في أواخر القرن السادس عشر.
- ٦٢- سعى الأوروبيون لاستعمار الخليج العربي في مطلع القرن السادس عشر.
- ٦٣- ظهرت الخطوات الروسية نحو تعزيز نفوذها في الكويت أكثر وضوحاً منذ نهاية القرن التاسع عشر.
- ٦٤- المؤسس الحقيقي لدولة الكويت الحديثة يسمى الشيخ مبارك الصباح.
- ٦٥- العام الذي وقعت فيه معركة الصريف ١٩٠١م.

٦٦- العام الذي وقعت معركة هدية ١٩١٠م.

٦٧- الحملة التي قام بها مدحت باشا عام ١٨٧١ للسيطرة على إقليم يسمى الاحساء.

٦٨- الدولة التي تعد مركز التوابل في جنوب شرق آسيا تسمى الهند.

٦٩- الدولة الخليجية التي ظهرت فيها قوة اليعاربة تسمى عمان.

٧٠- الرحي الحجري كانت تستخدم في طحن الغلال.

السؤال الثاني: اختر الإجابة الصحيحة من بين البدائل التالية:

١- يحد دولة الكويت من الشمال والشمال الغربي:

(البحرين - المملكة العربية السعودية - قطر - جمهورية العراق)

٢- تبلغ مساحة دولة الكويت:

(١٦,٨١٨ كم - ١٧,٨١٨ كم - ١٨,٨١٨ كم - ١٩,٨١٨ كم)

٣- يبلغ عدد الجزر الكويتية:

(٨ - ٩ - ١٠ - ١١)

٤- تصل أحيانا درجة الحرارة بدولة الكويت في فصل الصيف:

(٤٧ درجة - ٤٨ درجة - ٤٩ درجة - ٥٠ درجة)

٥- نسبة المساحة التي تشغلها جزيرة بوبيان من إجمالي مساحة دولة الكويت تبلغ:

(٥% - ٦% - ٧% - ٨%)

٦- رياح تهب معظم أيام السنة وهي رياح جافة بفعل المرتفع السيبيري تسمى:

(الشمالية الغربية - السموم - رياح الكوس - العواصف الترابية)

٧- تلال على شكل قباب تقع في جنوب دولة الكويت:

(جال الزور- كراع المرو- اللياح - وارة).

٨- العام الذي أجري فيه أول تعداد رسمي موثق لسكان دولة الكويت:

(١٩٥٥م - ١٩٥٦م - ١٩٥٧م - ١٩٥٨م)

٩- الجزيرة الكويتية التي توجد بها دلائل اثرية ومعمارية وهي ثاني أكبر جزيرة من حيث

المساحة:

(وربه - بوبيان - فيلكا - كبر)

- ١٠- توجد القلعة الهلينستية في جزيرة:
(فيلكا - بوبيان - قاروه - وربه).
- ١١- استمر الوجود الإغريقي على جزر جون الكويت حتى بداية القرن:
(الأول - الثاني - الثالث - الرابع) قبل الميلاد.
- ١٢- الشيخ الذي حصلت معركة الرقة في عهده:
(عبد الله الأول - جابر الأول - صباح الثاني - محمد بن صباح).
- ١٣- وقعت معركة الرقة بين بني كعب والكويت عام:
(١٧٧٥م - ١٧٨٣م - ١٧٨٩م - ١٨٠٠م).
- ١٤- تأسست الشركة الهندية الشرقية عام:
(١٦٠٠م - ١٦٠١م - ١٦٠٢م - ١٦٠٣م).
- ١٥- انتقل مركز البريد البريطاني للكويت عام:
(١٧٥٥م - ١٧٦٥م - ١٧٧٥م - ١٧٨٥م).
- ١٦- حاكم الكويت الأول هو الشيخ:
(صباح الأول - عبد الله الأول - محمد بن صباح - مبارك الكبير).
- ١٧- ساعد العثمانيون في حملتهم على الاحساء بقيادة مدحت باشا هو الشيخ:
(جابر الأول - صباح الثاني - عبد الله بن صباح - محمد بن صباح).
- ١٨- من الزيارات التي حدثت في عهدة زيارة المعتمد البريطاني لويس بيلي هو الشيخ:
(جابر الأول - صباح الثاني - عبد الله بن صباح - محمد بن صباح).
- ١٩- عقدت بريطانيا اتفاقية الحماية البريطانية على الكويت عام:
(١٨٩٦م - ١٨٩٧م - ١٨٩٨م - ١٨٩٩م).
- ٢٠- أول دولة استعمارية في منطقة الخليج العربي تسمى:
(هولندا - بريطانيا - البرتغال - العثمانية).
- ٢١- العام الذي اتجهت فيه حملة مدحت باشا للسيطرة على إقليم الاحساء:
(١٨٧٠م - ١٨٧١م - ١٨٧٢م - ١٨٧٣م).

٢٢- المنطقة التي وقعت فيها معركة ذات السلاسل بين المسلمين والفرس عام ١٢ هجرية تسمى:

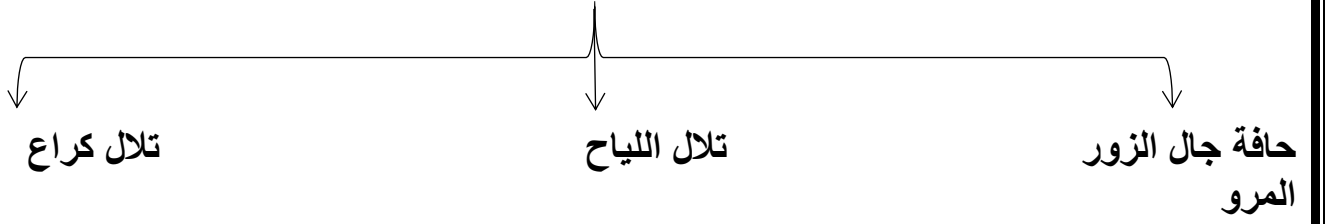
(كاظمة - الصبية- أم العيش - الجهراء)

السؤال الثالث: عرف المفاهيم والمصطلحات التالية:

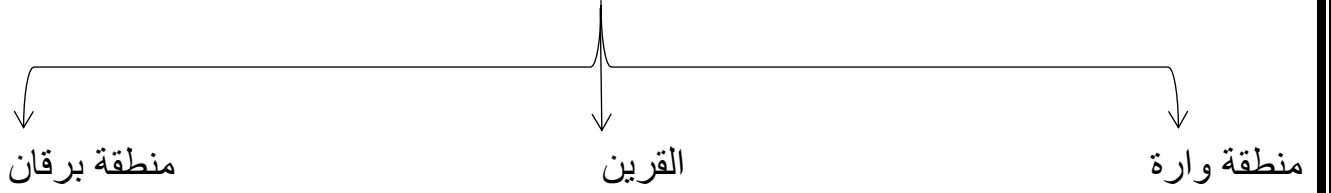
- ١- الترانزيت: منطقة لتجارة العبور قليلة الضرائب -إعادة تصدير الواردات.
- ٢ - الكوس (الرياح الجنوبية الشرقية): رياح رطبة دافئة تهب من الجنوب الشرقي وتتأثر في المنخفض السوداني وتعمل على رفع درجة الحرارة والرطوبة صيفاً.
- ٣ - السموم: رياح جافة جداً تهب في الظهيرة حيث تنخفض معها الرطوبة النسبية وتعمل على رفع درجات الحرارة تهب من الشمال أو الشمال الشرقي في فصل الصيف.
- ٤ - السرايات (العواصف الترابية): رياح تهب في أواخر الربيع وأوائل الصيف فتثير الغبار ويصاحبها عواصف رعدية يسقط بسببها المطر الشديد.
- ٥ - سهل الروضتين: أرض منبسطة تنحدر نحو الشرق والشمال الشرقي.
- ٦- حضارة العبيد: بقايا الآثار الحضارية القديمة التي عثر عليها في مناطق مختلفة من أراضي الكويت كالصبية وجزيرة فيلكا وواردة وتلال القرين وبرقان.
- ٧ - العتوب: مجموعه من الأسر أو العشائر ترجع أصولها الى عدة قبائل أبرزها قبيلة عنزة وموطنهم الأصلي نجد في منطقة الهدار.
- ٨ - كويت: هي تصغير لكلمة كوت وتعني القلعة أو الحصن.
- ٩ - القرين: مفردا القرن وهو اسم شائع في شبه الجزيرة العربية للدلالة على المرتفع أو التل الصغير
- ١٠ - السهل: مساحات أرضية واسعة من الأراضي المستوية.
- ١١ - التل: ارتفاع اقل من الجبل.
- ١٢ - إقليم البحرين: إقليم يمتد من جنوب البصرة شمالا حتى عمان جنوبا.

السؤال الرابع: أكمل المخططات السهمية التالية: -

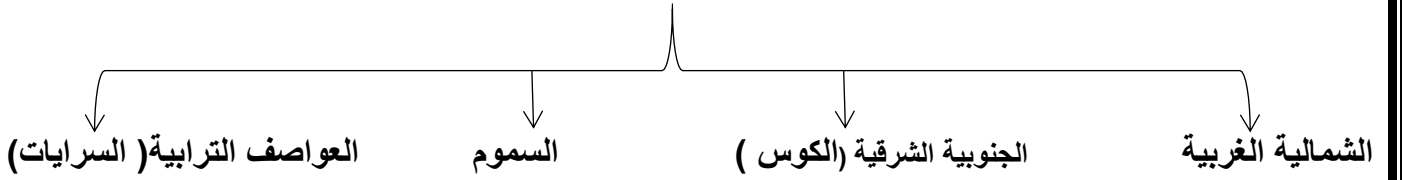
١ - توجد سلسلة من التلال في شمال دولة الكويت مثل:



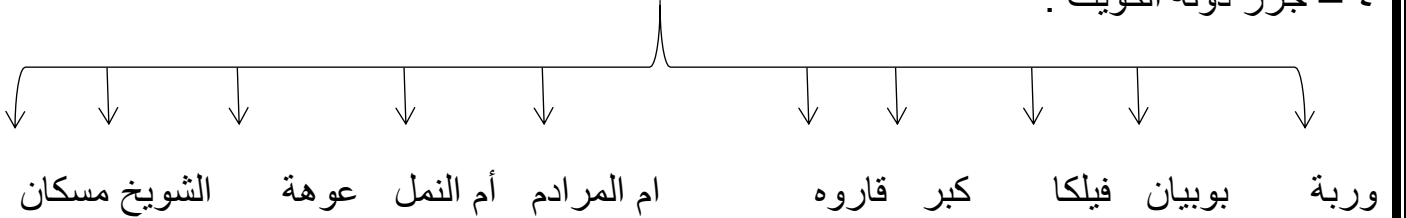
٢ - توجد بعض التلال في جنوب دولة الكويت على شكل قباب مثل:



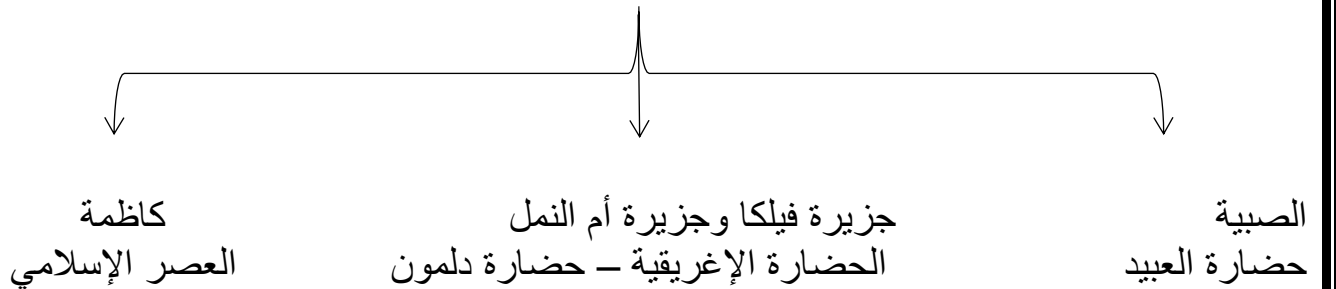
٣ - أنواع الرياح في دولة الكويت:



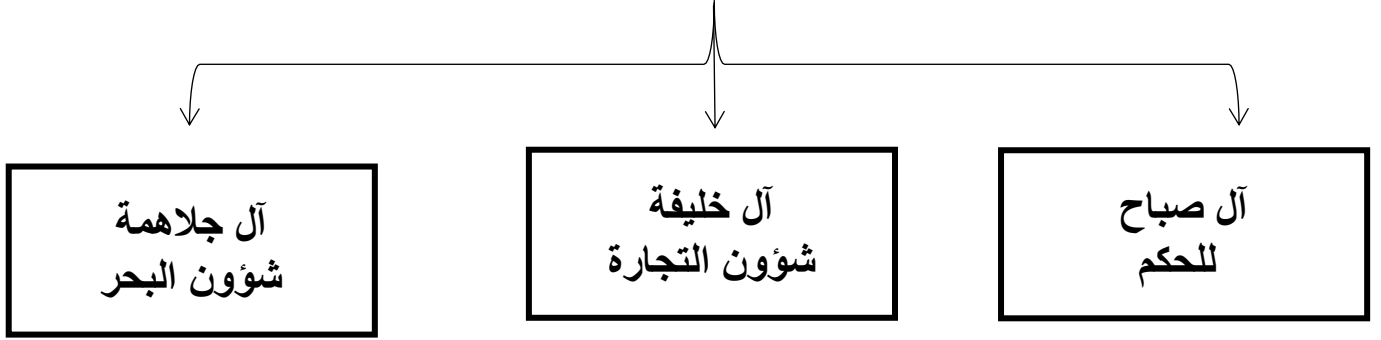
٤ - جزر دولة الكويت :



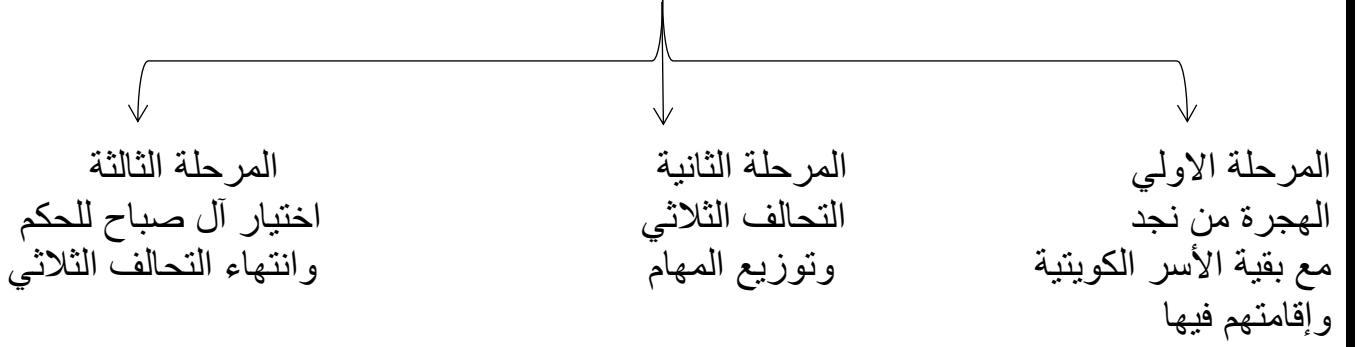
٥- مراحل التطور الحضاري للكويت قديماً:



تقسيم المهام بين الأسر الثلاث الكبيرة



مراحل استقرار الحكم



السؤال الخامس :

١- فرق بين السهل والتل من حيث ما هو مطلوب بالجدول التالي:

وجه المقارنة	السهل	التل
المفهوم	مساحات أرضية واسعة من الأراضي المستوية	هو إرتفاع أقل من الجبل

٢- قارن بين ما يلي:

نوع التضاريس	التلال	الأودية	السهول	هضاب
أمثلة	١ - حافة جال الزور ٢ - تلال كراع المرو ٣ - تلال اللياح ٤ - تلال وارة	وادي الباطن	- سهل الدببة - سهل برقان - سهل الروضتين	الأحمدي

٣- فرق بين المميزات المناخية لدولة الكويت في الفصول الأربعة:

الصيف	الشتاء	الربيع	الخريف
- طويل جاف حار - تهب رياح مثيرة للغبار - ترتفع نسبة الرطوبة - تصل درجة الحرارة الى ٥٠ درجة	- دافئ قصير - ممطر أحياناً - تصل درجة الحرارة إلى ١٨ درجة مئوية وقد تنخفض للصفر	قصير معتدل	- ترتفع فيه نسبة الرطوبة - تقل فيه درجة الحرارة نسبياً عن الصيف

٤- صنف مناخ دولة الكويت في كل فصل :

الصيف	الشتاء
طويل جاف وحار	قصير ودافئ وممطر أحياناً

الربيع	الخريف
معتدل وقصير	رطوبة عالية ودرجة أقل من الصيف

٥- أنواع الرياح التي تهب في دولة الكويت ومميزاتها :

الرياح	المميزات وآثارها المناخية
الشمالية الغربية	رياح جافة بفعل المرتفع السيبيري المتمركز شمال القارة الآسيوية - تهب معظم أيام السنة - خافضة لدرجة الحرارة .
الجنوبية الشرقية (الكوس)	رياح رطبة دافئة - تهب من الجنوب الشرقي وتتأثر بالمنخفض السوداني - ترفع درجة الحرارة تزيد من نسبة الرطوبة في فصل الصيف - تسهم باعتدال الجو في فصل الشتاء وتحمل معها المطر .
السموم	رياح جافة جداً تهب في الظهرية - تخفض نسبة الرطوبة - تتميز بدرجات حرارة عالية - تهب من الشمال أو الشمال الشرقي في فصل الصيف
العواصف الترابية (السرايات)	عواصف ترابية تهب في أواخر الربيع وأوائل الصيف - مثيرة للغبار - مصحوبة بعواصف رعديّة يسقط بسببها المطر الشديد .

٦- فرق بين الدولة البحرية والدولة المغلقة من حيث المفهوم :

الدولة البحرية	الدولة المغلقة
هي الدولة التي تحاط أراضيها بالمياه وتسيطر على أقاليم بحرية.	هي دولة محاطة باليابس من الكامل .

٧- نظم جدولاً لمعركة الرقة يحتوى على (تاريخ المعركة - الأطراف المتحاربة - الأسباب - النتائج)

عناصر جدول المقارنة	معركة الرقة
التاريخ	١٧٨٣م
الأطراف المتحاربة	بني كعب والكويت
الأسباب	غيره بني كعب من أن الميناء الكويتي هو الذي أصبح المفضل للتجار وهذا يضيق على معاملاتهم التجارية.
النتائج	انتصار الكويت وأخذ الذخائر والمدافع ووضعها على الشاطئ تخليداً لانتصارهم.

٨- فرق بين كل مما يلي حسب الجدول التالي:

الأعمال والأحداث في عهد الشيخ عبدالله الأول	الأعمال والأحداث في عهد الشيخ صباح الأول
-ازدهرت التجارة في عهده حيث امتدت الي الهند واليمن وشرق آسيا والعراق. -معركة الرقة عام ١٧٨٣م. بناء سور الكويت الأول عام ١٧٩٧م.	-عمل على توطيد الأمن ونشر العدل وتنظيم أمور السكان. -ترسيخ أنشطة الكويت التجارية. -اجتذاب الكثير من المهاجرين الذين وجدوا فيها موطن استقرار ونظام حكم قائم على الشورى والعدل.

٩-قارن بين حكام دولة الكويت حسب الجدول:

ترتيب الحاكم	اسم الحاكم	تاريخ توليه الحكم	سماته الشخصية	اهم الأحداث في عصره	تاريخ نهاية حكمه
الحاكم الأول	الشيخ صباح الأول بن جابر	١٧٥٢م	الشجاعة والحكمة	- ظهور الكويت ككيان سياسي - تنظيم - توطيد الأمن - نشر العدل - ترسيخ أنشطة الكويت التجارية	١٧٦٣م
الحاكم الثاني	الشيخ عبد الله الأول بن جابر بن صباح	١٧٦٣م	سيرة حسنة - نباهه - حزم - قريب من الحق - محب للعدالة	معركة الرقة - بناء سور الكويت الأول -	١٨١٤م
الحاكم الثالث	جابر الأول بن عبد الله الصباح	١٨١٤م	الحكمة - هدوء الطبع - حبه لشعبه - أشتهر بجابر بالعيش	تطور صناعة السفن - نقل البضائع - بناء السور الثاني	١٨٥٩م
الحاكم الرابع	الشيخ صباح الثاني بن جابر	١٨٥٩م	حبه لشعبه - العدل	تقدمت التجارة - ألغى الرسوم على البضائع - زيارة المعتمد البريطاني للكويت	١٨٦٦م
الحاكم الخامس	الشيخ عبد الله بن صباح الثاني	١٨٦٦م	حسن السيرة - دماثة الأخلاق	مساعدته العثمانيين في حملتهم على الإحساء	١٨٩٢م
الحاكم السادس	الشيخ محمد بن صباح	١٨٩٢م	النزاهة والوقار والتواضع	ترحيبه وتسهيله لإستقرار أسرة الأمير عبد الرحمن آل سعود	١٨٩٦م
الحاكم السابع	الشيخ مبارك الصباح	١٨٩٦م	حاكما مطلقاً يمثل الدولة بأكملها	- معركة الصريف عام ١٩٠١م. - معركة هدية ١٩١٠م. - انشاء المدرسة المباركية عام ١٩١١. - انشاء اول مستشفى عام ١٩١١م - وقع اتفاقية الحماية البريطانية عام ١٨٩٩م. - مؤسس دولة الكويت الحديثة .	١٩١٥م

١١- أهم التطورات الداخلية التي حدثت في عهد الشيخ مبارك الصباح:

المجالات	تطور الأوضاع الداخلية والخارجية في دولة الكويت
حفظ الأمن وتشجيع التجارة	- اخراج قوات عسكرية لتأمين طرق القوافل التجارية. - ضمان سلامة الطرق داخل حدود إمارته أو بالقرب منها. - تشجيع التجارة ومراقبة الأسواق ومشكلات الأهالي. - معاقبة الخارجين على القانون. - فتح خزائنه للتجار ومساعدتهم بالمال في تجارتهم. - كان يتوسط لحل المشكلات بين التجار. - شجع على تصنيع السفن الكبيرة لنقل البضائع بين الكويت والموانئ المختلفة خاصة الهند.
التعليم	- إنشاء المدرسة المباركية عام ١٩١١م أول المدارس النظامية الأهلية.
الصحة	- وافق على تأسيس أول مستشفى عام ١٩١١م وأطلق عليها المستشفى الأمريكي.
الجيش	- وفر للجيش عقيدة قتالية وتمويل وإدارة وتشكيلات قتالية معتمداً على قبائل وسكان الكويت.

١٢- سياسة الدولة العثمانية مع الكويت قبل وبعد إتفاقية الحماية البريطانية عام ١٨٩٩م:

قبل الحماية	بعد الحماية
<p>(١) فرض سيطرتها بجعلها نهاية لخط سكة حديد بغداد برلين.</p> <p>(٢) إقامة حجر صحي وإرسال موظفين.</p> <p>(٣) تظاهروا بالتعامل بموقف حيادي مع الكويت خوفاً من توجيه الشيخ مبارك للقوى الخارجية</p>	<p>(١) محاولات فرض النفوذ بالقوة.</p> <p>(٢) تهديد الشيخ مبارك الصباح بالنفي.</p> <p>(٣) إرسال بعض الوحدات العسكرية لأراضي الكويت.</p> <p>(٤) ظلت تهديدات الدولة العثمانية للكويت مستمرة طوال عهد الشيخ مبارك.</p>

١٣- السبب المعلن وغير المعلن لخطوات روسيا للتأثير على الشيخ مبارك في القرن ١٩م:

السبب المعلن	السبب الحقيقي
إقامة بعض المشاريع التجارية في الكويت	تعزيز النفوذ الروسي في الكويت

١٤- الجوانب الإيجابية والسلبية لإتفاقية الحماية عام ١٨٩٩م:

الجوانب الإيجابية للإتفاقية	الجوانب السلبية للإتفاقية
<p>(١) تدعيم استقرار الأوضاع في الكويت</p> <p>(٢) دعم الكويت في مواجهة الاخطار الخارجية والداخلية</p> <p>(٣) إيقاف التهديدات العثمانية والروسية للكويت.</p> <p>(٤) محافظة الكويت على كيانه السياسي.</p>	<p>(١) فقد الكويت سيادتها فيما يتعلق بشؤونها الخارجية.</p> <p>(٢) طبقت على الكويت عبارة (إمارة مستقلة تحت الحماية البريطانية) في جميع الاتصالات الرسمية.</p>

-السؤال السادس: علل لما يلي:-

١-أهمية الموقع الإستراتيجي لدولة الكويت بين دول العالم.

- تمثل النهاية الطبيعية للطريق الملاحي البحري والتجاري.
- تمثل البوابة الرئيسية لشمال شرق الجزيرة العربية.
- منطقة (ترانزيت) ،منطقة لعبور التجارة قليلة الضرائب.
- أحد اهم الموانئ في شمال إقليم الاحساء.
- أكسب موقعها الكويتيون مهارة نقل التجارة بين موانئ الخليج والهند وأفريقيا.

٢- زيادة أهميه سهل برقان.

- بسبب إكتشاف النفط، حيث يضم أكبر حقول النفط الكويتية وهو حقل برقان.

٣- صلاحية بعض مناطق الكويت دون غيرها للزراعة.

- بسبب توافر المياه الجوفية.

٤-أهمية جزيرة فيلكا.

- يوجد بها بقايا ودلائل أثرية ومعمارية قديمة.
- ذكرها الرحالة الغربيون في المصادر اليونانية والرومانية القديمة.
- إهتمام البعثات الإستكشافية للكشف عن تاريخها الحضاري.
- الجزيرة الثانية من حيث المساحة.

٥-طمع العراق خلال مراحل صراعه مع دولة الكويت في جزيرتي وربة وبوبيان.

- حيث كانت ستمنحه منفذا بحريا على الخليج العربي.

٦-يمتاز مناخ دولة الكويت بالجفاف والرطوبة.

- بسبب قلة الأمطار ونسبة التبخر العالية.

٧-يعاني سكان دولة الكويت منذ القدم من مشكلة المياه.

- لأن الموارد المائية شحيحة وعالية الملوحة.

٨-افتقدت الكويت لمفهوم الدولة قبل نزول العتوب فيها.

- لأنها افتقدت لعنصرين من اهم عناصر البناء السياسي وهما (السلطة - الحدود السياسية).

٩- الأهمية الاثرية لجزيرة فيلكا.

- مركز من مراكز حضارة دلمون.
- العملات النحاسية.
- أختام مستديرة.
- صورة لختم دلموني.
- ظهر بها أقدم الحفريات الجيولوجية.
- القلعة الهلينستية وتل الخزنة.
- الكتابات على الصخور مثل حجر ايكاروس.
- كنيستين متجاورتين.
- الأهمية الاثرية لمنطقة الصبية.

١٠- تسمية الكويت بهذا الاسم.

-تصغير لكلمة الكوت والكلمة تعني القلعة أو الحصن.

١١- كانت قطر محطة الإستقرار الأولى بالنسبة للعتوب.

-بسبب القحط الذي أصاب مناطقهم الأصلية.

-الصراعات القبلية في موقعهم.

١٢- تسمية العتوب بهذا الاسم.

-أصل كلمة عتوب يرجع إلى الفعل عتب ومعناه الإكثار من الترحال.

١٣- هجرة العتوب من قطر إلى جنوب البصرة ثم الصبية بالكويت.

- بسبب الخلاف الذي حدث بينهم وبين آل مسلم حكام قطر.

١٤- إختيار الشيخ صباح بن جابر للحكم.

- سماته الشخصية من شجاعة وحكمة.

-كانت الزعامة لوالدة على قومه منذ أن كانوا بنجد.

- كان يقيم في الكويت طوال أيام العام وكان عملة في الصحراء خلافا للبقية الذين كانوا يعملون في البحر.

١٥- إشتهر الشيخ جابر الأول بجابر العيش.

-لكرمه ولكثرة ما يتصدق به على الفقراء والمساكين.

١٦- إختار الكويتيون أرض الكويت موطناً لهم رغم البيئة الصحراوية.

-رغبة منهم في العيش الحر المستقل وعدم التبعية لأحد.

١٧-بناء السور الأول عام ١٧٩٧م.

- لحماية المدينة من الأخطار الخارجية.

١٨-إتجاه البرتغاليون للسيطرة على الخليج العربي في مطلع القرن ١٦.

-النهضة الملاحية التي شهدتها أوروبا.

-أدراك البرتغال للأهمية الاقتصادية لمنطقة الخليج.

-سرعة توجه الكشوف الجغرافية والإستعمارية بدافع العامل السياسي والديني على منطقة الخليج

العربي حيث كان هناك صراع بينهم وبين العثمانيين.

١٩-تعرض التواجد البرتغالي في منطقة الخليج العربي للإنهيار التدريجي .

-بسبب المنافسة التجارية بينه وبين الهولنديون.

-وقوع البرتغال نفسها تحت الاحتلال الأسباني.

-جهود اليعاربة في عمان التي ساهمت في تصفية الوجود البرتغالي وطردهم من المنطقة.

٢٠-وقعت تغيرات في أوضاع البرتغاليين في الشرق في أواخر القرن السادس عشر.

-وصول سفن لدول أوروبية لمشاركة البرتغاليين في الأرباح التي كانوا يحصلون عليها من تجارة

الشرق.

-ظهور الهولنديون في مياه الهند الشرقية.

-تحرك إنجلترا في تجاه الهند.

٢١-اهتمام بريطانيا بمنطقة الخليج العربي.

-لأنه طريق حيوي لحماية إمبراطوريتهم ومصالحهم في الهند.

٢٢-نقل مركز البريد والتجارة البريطاني من البصرة إلى الكويت عام ١٧٧٥م.

-بسبب الصراع بين الدولة الفارسية والعثمانية ما بين ١٧٧٥ - ١٧٧٩م.

-الحصار الفارسي للبصرة عام ١٧٧٥.

٢٣-عودة الإنجليز إلى الكويت مره أخرى واتخاذها مقر مؤقتاً عام ١٧٩٣ - ١٧٩٥م.

-بسبب المشاكل التجارية والسياسية بين العثمانيين والوكالة الإنجليزية.

٢٤-أهمية معاهدة ١٨٩٩م بالنسبة للكويت.

-حفظت للكويت حدودها من الأطماع في تلك الفترة.

٢٥- رفض الشيخ مبارك الصباح كافة المشاريع المقدمة من الروس.

- لأنها كانت ستار لأهداف سياسية غير معلنة وتعامل معها الشيخ مبارك الصباح بكل حذر من خلال رفضها.

٢٦- سعي الشيخ مبارك الصباح نحو البريطانيين وعقد اتفاقية الحماية ١٨٩٩م.

- قلق الشيخ مبارك من التهديد العثماني المستمر.

- خوفه من ضم العثمانيين الإمارة بالقوة.

- إيقاف النفوذ العثماني والروسي.

- جعل الكويت تنموا بعيداً عن الصراعات.

٢٧- دعم الشيخ مبارك الصباح الأمير عبد العزيز آل سعود عسكرياً.

- استعادة ملك آبائه وأجداده.

٢٨- تعتبر فترة حكم الشيخ مبارك الصباح حاسمة في تاريخ الامارة الكويت.

(أ) كان حاكماً مطلقاً يمثل الدولة بأكملها.

(ب) واجه العديد من التغيرات والتهديدات التي طالما وهددت إمارته.

(ج) استطاع أن يحافظ على كيان الدولة نحو الاستقرار والتطور.

٢٩- إتجهت الكويت إلى توقيع معاهدة الحماية مع بريطانيا ١٨٩٩م.

- بسبب التهديد العثماني للكويت - وأطماع الروس - والتمهيد لجعل الكويت تنمو بعيداً عن الصراعات.

٣٠- تراجع الشيخ صباح الثاني عن قرار فرض الضرائب.

- رفض التجار - واحتراما لرغبة شعبه.

السؤال السابع: اكتب فيما درست عما يلي:

١- اختيار الشيخ صباح الأول يعد البداية الحقيقية لظهور الكويت ككيان سياسي منظم.

- حيث بدأ بالعمل على توطيد الأمن ونشر العدل.

- تنظيم أمور السكان.

- ترسيخ أنشطة الكويت التجارية.

- تحديد نظام الحكم القائم على الشورى والعدل.

٢-تولي الشيخ عبد الله الأول الحكم بعد وفاة والده على الرغم من أنه أصغر أبنائه.

-لأنه صاحب سيرة حسنة ونبيهة وحازم وقريب من الحق ومحب للعدالة.

٣-تعد فترة حكم الشيخ جابر الأول فترة ازدهار بحري لدولة الكويت.

-لتطور صناعة السفن الكبيرة الخاصة بالنقل البحري. (البغلة والبتيل)

-استطاع الكويتيون الوصول لسواحل الهند واليمن لنقل البضائع منها وإليها.

السؤال الثامن: نفذ المطلوب فيما بين القوسين:

١- حرص حكام الكويت على اتخاذ قرارات ذات أبعاد اقتصادية مما ساعد على النمو لتجاري

والاقتصادي (انكرأهم القرارات) .

- قلة الضرائب على البضائع القادمة للكويت.

- تشجيع بناء سفن الغوص وتأمين طرق التجارة المارة عبر أراضيها.

- اجتذاب الوكالات التجارية التابعة للشركات الأوروبية العاملة في الخليج العربي.

- لعب التجار الكويتيون دور الوسيط التجاري مع دول الجوار.

- تعزيز نزعة الاستقلال لدى حكام الكويت وتأكيد كيانهم المستقل مستنديين الى الاستقرار الأمني

والسياسي والاقتصادي.

- سماحة وصدق وأمانة أهل الكويت.

٢- نمو وازدهار دولة الكويت تحت حكم آل صباح (عدد العوامل).

- موقع الكويت الإستراتيجي على الجزء الغربي للخليج العربي والجزء الشمال الشرقي لشبة

الجزيرة العربية.

- طبيعة نظام الحكم المعتمد على العدل والشورى والأمن.

- وجود علاقات متوازنة مع القوى المجاورة.

- التسهيلات التي كانت تمنح لتجار البادية، والتي كانت تسمى (تجارة المسابلة).

- النظام الإقتصادي الدقيق وتوزيع المهام مابين الغوص ونقل التمور وتجارة البادية.

- الصفات التي تميز بها أهل الكويت من التسامح والانفتاح على الآخرين.

٣- العلاقة القوية بين الكويت وقبيلة بني خالد. (اذكر النتائج).

- تمتع الكويت بمزيد من الأمن والرخاء والحماية.
 - جعلتها تنمو وتزدهر في جو أكثر استقرارا وهدوء.
 - استطاعت أن تنجو من التهديدات والأخطار (العثمانيين -السعوديين).
- ### ٤- عهد الشيخ عبد الله الأول (اذكر أهم الاحداث).

- ازدهرت التجارة في عهده حيث امتدت الي الهند واليمن وشرق آسيا والعراق.
 - معركة الرقة عام ١٧٨٣م. - بناء سور الكويت الأول عام ١٧٩٧م
- ### ٥-إنهيار الإستعمار الهولندي (النتائج على بريطانيا).

- (أ) - وضع الإنجليز أيديهم على ممتلكات هولندا في الهند.
- (ب) الحصول على بعض الإمتيازات من شاه فارس.
- (ج) تعزيز بريطانيا لوجودها العسكري بشكل يضمن لهم الإنفراد بالخليج.
- (د) استولوا على سيلان والمواقع التجارية في الخليج.

٦- كانت العلاقة العثمانية الكويتية علاقة إسمية قائمة على الولاء الديني فقط.

- لم يكن للعثمانيين أي سلطة إدارية او سياسية او عسكرية في الكويت،فمن أدار شؤون الكويت الداخلية هم حكامها وأهلها.
- استصدار مدحت باشا الفرمان العثماني الذي حدد فيه علاقة الكويت بالدولة العثمانية ،والتي تؤكد أن شيخ الكويت مستقل في شؤونه وكما سمح للكويت من ممارسة قضائها الخاص ،ولم يتضمن الفرمان وجود قوات عسكرية تابعه للدولة العثمانية ،ولم يتدخل في فرض الحاكم واختياره.

السؤال التاسع:دلل على صحة العبارات التالية:

١- لم تكن الكويت منطقة مهجورة وخالية من السكان.

- سكنها وعاش على أرضها جماعات إنتمت لعهود وفترات زمنية متعددة.
- جماعات عاشت ومارست حياتها الطبيعية حيث كانت موجودة حولها أو على مقربة منها.
- يعود الوجود البشري في منطقة الكويت الى أكثر من أربعة آلاف سنة ق م.
- وجود بقايا الآثار الحضارية القديمة التي عثر عليها في جزيرة فيلكا وتل وارة وتل القرين وبرقان (حضارة العبيد).

٢- لمنطقة الصبية قيمة وأهمية أثرية كبيرة.

- إذ أنها تحتضن مئات المواقع الأثرية التي برهنت على وجود حضارة العبيد القديمة.
- العثور على أقدم القرى السكنية وآبار المياه في (بحرة - طبيج) شمال الصبية.
- العثور على جرار فخارية. - عثر على عشرات من المدافن الركامية.
- العثور على الرحي الحجرية التي تستخدم في طحن الغلال.
- عثر على أدوات الغزل وحياسة الملابس ومسكن بيضاوية الشكل.

٣- صبغت دولة الكويت بصبغة إسلامية منذ الفترة المبكرة لظهور الإسلام.

- معركة ذات السلاسل عام ١٢ هـ والتي وقعت في منطقة كاظمة بالكويت.
- العثور على مسكوكات إسلامية، أهمها عملة أموية مؤرخة بعام ١٢٣ هـ.
- مباني في منطقة أم العيش ترجع الى الفترة الإسلامية.
- مستوطنات متتالية في منطقة الشقاييا ووادي الباطن والذي من المحتمل أنها تقع على طريق الحج البصري (طريق الحج).

٤- تعتبر السيطرة البرتغالية من أسوأ النظم الإستعمارية في الخليج العربي.

- تدمير البرتغاليون القاعدة الاقتصادية لمنطقة الخليج.
- احتلال القرى والمدن بطريقة وحشية.
- كانت فترة حكم الشيخ مبارك الصباح ١٨٩٦م - ١٩١٥م حاسمة في تاريخ الكويت.
- كان الشيخ مبارك حاكماً مطلقاً.

- كان يواجه واقعاً دولياً يموج بالتغيرات والمطامع والتهديدات التي هددت إمارته ووجودها.

٦- تطور (التعليم والصحة والجيش) في دولة الكويت في عهد الشيخ مبارك الصباح.

- التعليم: إنشاء المدرسة المباركية في عهدة عام ١٩١١م وكانت أول المدارس النظامية الأهلية.
- الصحة: وافق على تأسيس أول مستشفى عام ١٩١١م والذي أطلق عليها المستشفى الأمريكي.
- الجيش: وفر للجيش عقيدة قتالية وتمويل وإدارة وتشكيلات قتالية معتمداً على قبائل الكويت وسكانها.

٧-براعة الشيخ مبارك الإستقلالية رغم إرتباطه باتفاقية الحماية مع بريطانيا.

- تحركه المنفرد في الكثير من الأحيان
- دعم الأمير عبد العزيز آل سعود عسكرياً.
- تخفيف التوتر مع العثمانيين وعدم التصادم العسكري معهم.
- وقوف في وجه بريطانيا من أي سياسية تنقص من سيادة الكويت.

٨-إهتمام الشيخ مبارك الصباح بحفظ الأمن وتشجيع التجارة.

- أخرج قوات عسكرية لتأمين طرق القوافل التجارية. -تشجيع التجارة ومراقبة الأسواق.
- يتوسط لحل المشاكل بين التجار. - حل مشاكل الأهل
- ضمان سلامة الطرق داخل حدود أمارته أو بالقرب منها.
- معاقبة الخارجين على القانون - مساعدته للتجار بالمال.

٩-تبدو الخطوات الروسية لتعزيز نفوذها في الكويت أكثر وضوحاً منذ نهاية القرن التاسع عشر الميلادي.

- إقامة بعض المشاريع التجارية مثل إنشاء محطة للفحم - ميناء تزويد سفنها بالوقود.
- جعل الكويت نهاية لخط سكة حديدية(مشروع كابنيست).

١٠-أهمية الكويت بالنسبة لبريطانيا في نهاية القرن الثامن عشر.

- أسس البريطانيون مراكز تجارية لهم في الكويت.
- أسس البريطانيون مركز للبريد البري المتجه من الهند إلى لندن.
- نقل مركز البريد والتجارة من البصرة إلى الكويت.

١١-تأييد الشيخ مبارك الصباح للأمير عبد العزيز آل سعود.

- عندما تجهز الأمير عبد العزيز آل سعود لمغادرة الكويت قدم له الشيخ مبارك الصباح الأسلحة والمؤن وما يعينه على تحقيق هدفه في استعادة ملك آباءه وأجداده بعد استقرار دام ٩ سنوات.

١٢-دور الشيخ مبارك الصباح في التصدي للأطماع الخارجية.

- الروس: أنه رفض مشروع انشاء محطة فحم لأنه راه يميل على الجانب البريطاني.
- الالمان: رفض مشروع سكة برلين - بغداد لأنه لا يريد للالمان أي مشروع اقتصادي.
- الدولة العثمانية: رفض مشروع خط سكة الحديد لأنه أدرك ان الكويت سوف تفقد استقلاليتها.

السؤال العاشر: اجب عن الأسئلة التالية:

١- أذكر خصائص التضاريس في دولة الكويت.

- أنحدار السطح تدريجيا من الغرب إلى الشرق باتجاه سواحل الخليج العربي.
- لا يزيد أعلى ارتفاع عن ٣٠٠ متر.
- يتكون السطح من سهول رملية مستوية تتخللها بعض التلال قليلة الارتفاع (١٤٥) م

٢- عدد أهم مناطق المياه الصالحة للاستهلاك الآدمي بالكويت.

- الروضتين - أم العيش - الصليبية- العبدلي - الوفرة.

٣- أذكر المميزات المناخية لدولة الكويت.

- مناخ قاري جاف قاس.
- ارتفاع درجة الحرارة معظم أيام السنة.
- وجود فصلين رئيسيين هما (الصيف - الشتاء) وفصلين ثانويين (الربيع - الخريف).

٤- عدد أهم المناطق الأثرية في دولة الكويت.

- تل وارة - القرين - برقان - تل الصليبخات - كاظمة - الصبية - جزيرة فيلكا).

- ماهي دلائل وجود الحضارة الإغريقية في دولة الكويت.

- عثر في جزيرة أم النمل على (قبر على الساحل - تمثال من الطين المحروق - مذبح من الحجر الرملي)

- عثر في جزيرة فيلكا على (القلعة الهلنستية - تل الخزنة - العملات النحاسية - حجر ايكاروس)

٦- أذكر أهم الاكتشافات الأثرية لحضارة دلمون في جزيرة فيلكا.

- مجموعة من الأختام المستديرة التي تحمل نقوشا وصور لحيوانات.
- معابد تنتشر حولها الوحدات السكنية.
- أكثر من ٤٠٠ ختم دلموني كانت تستعمل كتعويذة أو ختم تجاري أو هوية لحاملها.

٧- ما أهم سمات الشيخ جابر الأول بن عبد الله الصباح.

- كان هادئ الطبع، محب لقومه، مشفق عليهم. - اشتهر بجابر العيش لكرمه.
- قال عنه البريطاني الكابتن ج بروكس بأنه ذكي جدا ويحترمه قومه.

٨- عدد أهم الأعمال في عهد الشيخ جابر الأول بن عبد الله.

- بناء السور الثاني عام ١٨١٤م. - ساعد العثمانيين على إعادة البصرة.
- فترة ازدهار بحري للكويت. - تطور صناعة السفن وازدهار التجارة.
- رفض عرض مقدم من شركة الهند الشرقية الإنجليزية لإقامة محطة فحم لدولة الكويت ١٨٤١م.
- رفض إقامة بعض المباني ورفع الراية الإنجليزية على أرض الكويت.
- وصول الكويتيون لسواحل مختلفة لنقل البضائع منها واليها.

٩- عدد أهم الأحداث في عهد الشيخ صباح الثاني بن جابر.

- تقدم التجارة في عهده بشكل كبير. - ألغى الرسوم على البضائع احتراماً لرغبة شعبه.
- زيارة المعتمد البريطاني للكويت لويس بيلي عام ١٨٦٥م والتي أشاد فيها الى ازدهار الكويت تجارياً واقتصادياً.

- أشار بكنجهام بأهل الكويت بأنهم أكثر الخليج حبا للحرية والإقدام

١٢- أذكر الأحداث التي تمت في عهد الشيخ عبد الله بن صباح الثاني.

- ساعد العثمانيين في حملتهم على إقليم الإحساء عام ١٨٧١م (حملة مدحت باشا).
- ١٣- أذكر اشكال المساعدات التي قدمها الشيخ عبدالله بن صباح الثاني للعثمانيين في حملة مدحت باشا.

- ساند الشيخ الحملة بأسطول بحري (٨٠) سفينة يقودها بنفسه.

- أرسل جيش بري بقيادة شقيقه الشيخ مبارك.

١٤- ما أهم سمات الشيخ محمد بن صباح؟

- اتصف بالنزاهة والوقار والتواضع.
- ساعدة في الحكم أخويه الشيخ (جراح تولى الشؤون المالية - مبارك شؤون البادية والجيش).

١٥- ما موقف الشيخ مبارك الصباح من البعثة الألمانية.

أحسن الشيخ مبارك استقبال البعثة عام ١٩٠٠م في منطقة الجهراء ولكنه رفض أي مشاريع اقتصادية بحكم الاتفاقية ١٨٩٩م.

السؤال الحادي عشر: عدد ما يلي:

١- الأسس التي حددها الفرمان العثماني حول علاقة الكويت بالدولة العثمانية.

- شيخ الكويت مستقل بشؤونه الداخلية.

- منح شيخ الكويت لقب "قائم مقام"

- أهالي الكويت لا يلتزمون بدفع ضرائب أو رسوم للباب العالي.

- إلزام السفن الكويتية برفع العلم العثماني مع إعفائها من دفع الرسوم.

٢- بنود اتفاقية الحماية ١٨٩٩م.

- لا يستقبل حاكم الكويت أي وكيل أو ممثل لأي سلطة أو حكومة بدون موافقة بريطانية.

- ليس لحاكم الكويت بيع أو تأجير شيء من أراضي الكويت لأي دولة أجنبية أو رعيا إلا بمراجعة

بريطانيا.

٣- ما أهم الأحداث في عهد الشيخ محمد بن صباح.

- رحب وسهل استقرار أسرة الأمير عبد الرحمن آل سعود في الكويت عام ١٨٩١م.

السؤال الثاني عشر: فند العبارات التالية:

١- لم يتخذ حكام الكويت قديما أي قرارات تساعد على النمو التجاري والاقتصادي.

- بل اتخذ حكام الكويت العديد من القرارات ذات أبعاد إقتصادية ساعدت على النمو التجاري والاقتصادي للكويت.

- قلة الضرائب على البضائع القادمة للكويت.

- تشجيع بناء سفن الغوص وتأمين طرق التجارة.

- اجتذاب الوكالات التجارية التابعة للشركات الأوروبية العاملة في الخليج العربي،

- لعب التجار الكويتيون دور الوسيط التجاري مع دول الجوار.

- تعززت نزعة الإستقلال لدى حكام الكويت وتأكيد كيانهم المستقل مستندين الى الإستقرار الأمني

والسياسي والاقتصادي وسماحة وصدق وأمانة أهل الكويت.

٢- استمر وضع السكان في الكويت دون تغير عام ١٩٩٠م.

- تعرض وضع السكان لتغيرات كبيرة نتيجة الإحتلال العراقي الغاشم على دولة الكويت، وماتبع ذلك

من عودة كبيرة للوافدين الى أوطانهم.

- ٣- لم يكن لليعاربة في منطقة الخليج أي جهود تذكر نحو الوجود البرتغالي.
-سأهم اليعاربة في تصفية الوجود البرتغالي في الخليج وطردهم من المنطقة.
٤- استمر التفوق الهولندي في منطقة الخليج العربي طويلاً.
-لم يستمر طويلاً بسبب التنافس الإنجليزي الهولندي الذي قضى على آمالهم في النهاية.
٥- قيدت اتفاقية ١٨٩٩م استقلالية الكويت في عهد الشيخ مبارك الصباح.
-بل حافظت الكويت على استقلالها في ظل المعاهدة إذا إنطبق عليها وصف الدولة المستقلة تحت الحماية البريطانية والدليل ما يلي:
-عدم تدخل بريطانيا في مآزره الشيخ مبارك للأمير عبد العزيز آل سعود في قيام الدولة السعودية الثالثة عام ١٩٠٢م.
-قيادة الشيخ مبارك عدة حروب دون مشاورة بريطانيا.
-معارضة الشيخ مبارك لبريطانيا في تعيين المعتمد البريطاني في دولة الكويت.

السؤال الثالث عشر: ما تفسيرك لما يلي:

- ١- حرص بريطانيا على بقاء اتفاقية الحماية للكويت عام ١٨٩٩م سرية.
-بسبب عدم رغبتها في إثارة الدولة العثمانية.
-عدم خلق توتر جديد بينها وبين القوى الأوروبية.
٢- لو لم يرفض الشيخ مبارك الصباح مشروع سكة الحديد مع الدولة العثمانية والالمان.
-لفرضت الدولة العثمانية سيطرتها على الكويت وجعلتها نهاية لمشروع خطة سكة حديد برلين بغداد بالتعاون مع الألمان.
٣- فترة حكم الشيخ مبارك الصباح ١٨٩٦م - ١٩١٥م حاسمة في تاريخ الكويت.
-كان الشيخ حاكماً مطلقاً.
-كان يواجه واقعاً دولياً يموج بالتغيرات والمطامع والتهديدات التي هددت إمارته ووجودها.

السؤال الرابع عشر: ما النتائج المترتبة على:

- ١- توقيع اتفاقية الحماية البريطانية ١٨٩٩م.
-تم حماية الكويت من الأخطار الداخلية والخارجية وحافظت على حدود دولة الكويت واستقرار الأوضاع.

٢- الصراع القائم بين الدولة الفارسية والدولة العثمانية وحصار فارس للبصرة عام ١٧٧٥م.

- اضطر البريطانيون إلى نقل مركز البريد والتجارة إلى الكويت.

٣- مساعدة الكويت للدولة العثمانية في حملة مدحت باشا عام ١٨٧١م.

- تلطيف الأجواء بين الطرفين. - إصدار مدحت باشا والي بغداد فرمانا موسعا عن الكويت.

السؤال الخامس عشر: من قائل العبارات التالية:

١- الكويت أرض فقراء نزلها جدنا صباح عام ١٠٢٢هـ الموافق ١٦١٣م.

- **القائل:** الشيخ مبارك الصباح.

- **لمن:** للمقيم البريطاني في الخليج العربي.

- **المناسبة:** بيان حدود الكويت.

٢- سكن الكويت قبل نزول العتوب قليل من البدو وصيادي الأسماك.

- **القائل:** عبد العزيز الرشدي في كتاب تاريخ الكويت.

- **المناسبة:** بعد استقرار العتوب ظهرت الحاجة إلى قيام سلطة تؤول لها القيادة وتتوافر لها الشرعية.

٣- دخلت ثلاث أسر عربية ذات شأن هي آل صباح وآل جلاهمة وآل خليفة تحدوهم عوامل

المصلحة والطموح في التحالف واستقرت على بقعة من الأرض على الساحل الشمالي الغربي

من الخليج العربي.

- **القائل:** فرنسيس وarden.

- **المناسبة:** إختيار آل صباح للحكم.

٤- لو كانت تحت يدى ثروة طائلة لقت بحاجة الفقراء والمحتاجين منها إلى أن يموتوا.

- **القائل:** جابر الأول بن عبد الله بن صباح.

- **المناسبة:** لأنه اشتهر بجابر العيش وكثرة ما يتصدق به على الفقراء والمساكين.

٥- لقد قاومت هذا طيلة عمري وأنت تطالبني بالموافقة على ذلك:

- **القائل:** الشيخ مبارك الصباح للمعتمد البريطاني.

- **المناسبة:** عندما أرادت بريطانيا تعيين ممثل تركي في الكويت واحتد النقاش

مع المعتمد البريطاني.

- **علام تدل هذه العبارة:** عدم تبعية الكويت للدولة العثمانية.

السؤال السادس عشر:

اقرأ الفقرة التاريخية التالية، ثم أجب عما يليها:



(للكويت أهمية كبيرة بالنسبة لبريطانيا كمكان آمن، لذلك سعت بريطانيا لتطوير وتوثيق علاقته مع الكويت من خلال عدة خطوات حتى توجت هذه العلاقة بعقد إتفاقية الحماية عام ١٨٩٩م، والتي نصت على أن يلزم حاكم الكويت (الشيخ مبارك الصباح) نفسه ووارثيه وخلفه في الحكم بالألا يتنازل أو يبيع أو يوجر أو يرهن أو يعطي للإستغلال لأي غرض كان أي جزء من مقاطعته لأي حكومة أو رعايا أي سلطة بدون الموافقة السابقة للحكومة البريطانية.

• ما أسباب توقيع إتفاقية الحماية؟

.....
.....
.....

• أذكر إثنين من بنود إتفاقية الحماية:

.....
.....
.....

٢- أكتب فقرة مترابطة من ثلاث أسطر مستعينا بالكلمات التالية:

(الشيخ عبد الله بن صباح الثاني - دولة عثمانية - مدحت باشا - الإحساء)
من أهم الأحداث في عهد الشيخ عبدالله الثاني مساعدته للدولة العثمانية في حملتهم (حملة مدحت باشا) عام ١٨٧١م لإعادة سيطرتها على إقليم الأحساء.

الاتفاقيات والمعاهدات

الاتفاقية المرقية (٣٦) البريطانية الكويتية الأولى

المقتردة مع شيخ الكويت سنة ١٨٩٩

بسم الله تعالى شأنه . إن العلية من تحرير هذه الاتفاقية المشرفة هو إتمام التمهيد والاتفاق بين اللجان كقوليل مالكولم جون ميد المقم السياسي لصاحبة الجلالة بالنيابة عن الحكومة البريطانية كطرف أول وبين الشيخ مبارك بن صباح بن الشيخ مبارك كطرف ثان . بأن الشيخ مبارك بن صباح يكامل حريته . يرغب أن يرتبط ويخدم وراثيه وشطفه في الحكم بأن لا يستقبل أي وكيل أو ممثل لأي سلطة أو حكومة في الكويت أرق أي مكان آخر من حدود مقاطعته بدون الموافقة السابقة للحكومة البريطانية . وهو بالإضافة إلى ذلك يلزم نفسه ووارثيه وشطفه في الحكم بأن لا يتنازل أو يبيع أو يوجر أو يرهن أو يعطي للإستغلال لأي غرض كان أي جزء من مقاطعته لأي حكومة أو رعايا أي سلطة بدون الموافقة السابقة لهذه الأغرراض من حكومة صاحبة الجلالة .

وهذا الاتفاق يتعد أي جزء من المقاطعة التابعة للشيخ المذكور مبارك ابن الشيخ صباح التي قد تقع الآن في حوزة رعايا أي حكومة أخرى . ودمر لصداقة على توقيع هذه الاتفاقية القانونية المشرفة بين اللجان كقوليل مالكولم جون ميد المقم السياسي لصاحبة الجلالة في الخليج الفارسي والشيخ مبارك بن الشيخ صباح . يقوم الطرف الأول بالنيابة عن الحكومة البريطانية والطرف الثاني بالنيابة عن نفسه ووارثيه وخلفائه . بالتوقيع على هذه الاتفاقية بحضور الشهود في اليوم العاشر من رمضان سنة ١٣١٦ الموافق اليوم الثالث والعشرين من كانون الثاني ١٨٩٩ .

التوقيع
مبارك الصباح

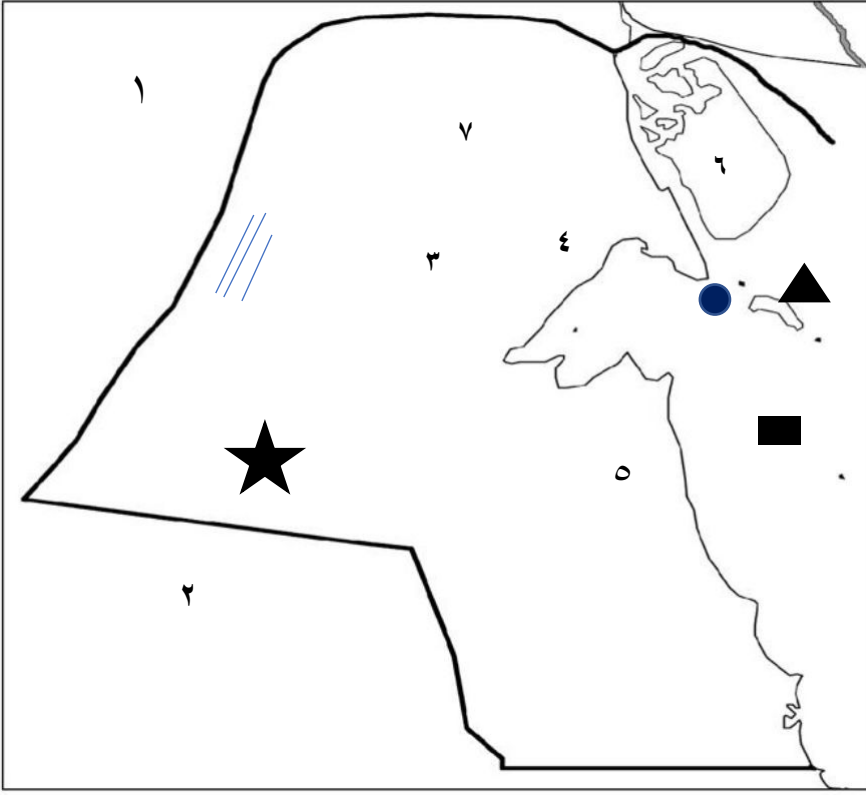
التوقيع
ج . ميد

المقم السياسي في الخليج الفارسي

الشهود
أي . وكلام حور . كاتين . ج كاللوت جاسكن

السيد محمد رحيم ابن عبد النبي

لاحظ خريطة دولة الكويت الصماء ثم أجب عما يلي :-



* دولة تحد الكويت من جهة الشمال والشمال الغربي يمثلها الرقم (١)

جمهورية العراق

* دولة تحد دولة الكويت من جهة الجنوب والجنوب الغربي يمثلها

الرقم (٢) **المملكة العربية السعودية**

* حافة جال الزور يمثلها الرقم

٤.....

* تلال وارة يمثلها الرقم

٥.....

* سهل الروضتين يمثلها الرقم

٧.....

* تلال كراع المرو يمثلها الرقم

٣.....

* جزيرة بوبيان يمثلها الرقم

٦.....

* حدد على الخريطة الصماء لدولة الكويت ما يلي :



١ - جزيرة فيلكا بالرمز



٢ - معركة الرقة بالرمز



٣ - الخليج العربي بالرمز

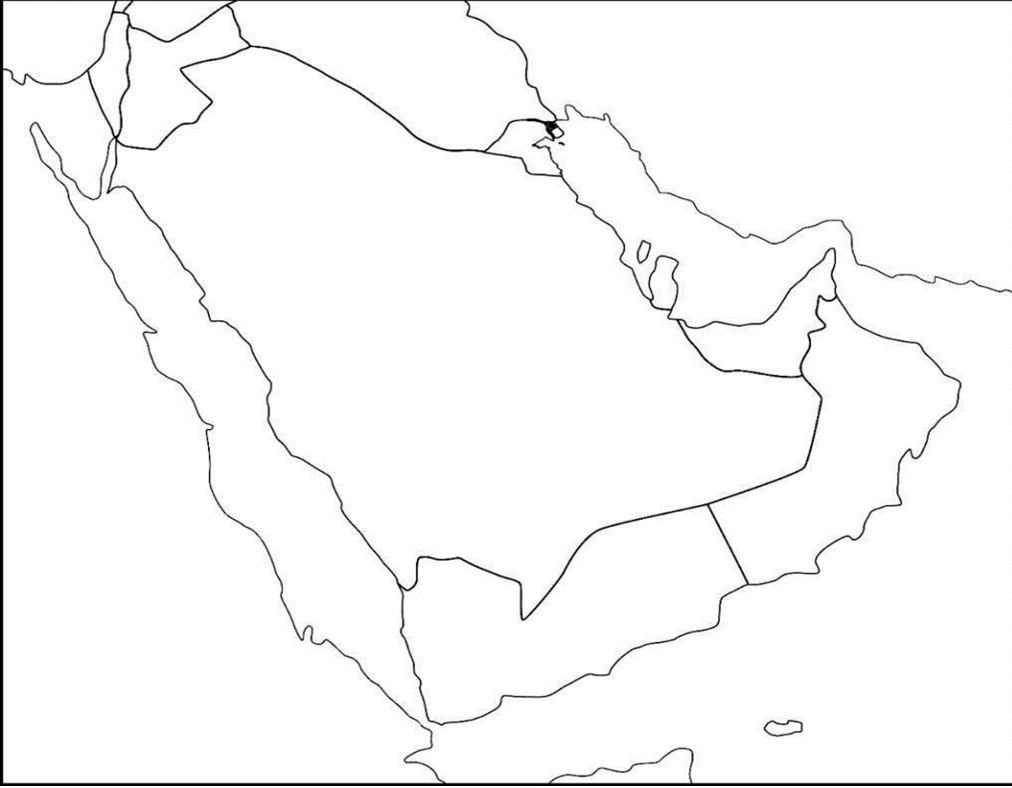





٤ - وادي الباطن بالرمز



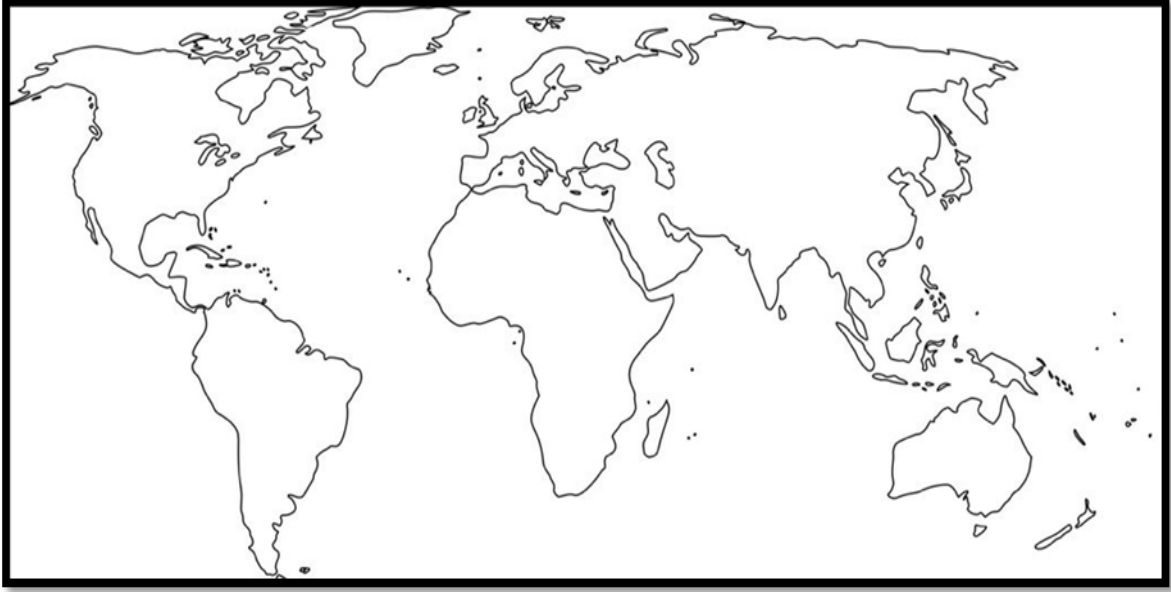
٥ - سهل الدبدبة بالرمز

-حدد على خريطة شبه الجزيرة العربية الصماء ما هو مطلوب منك :



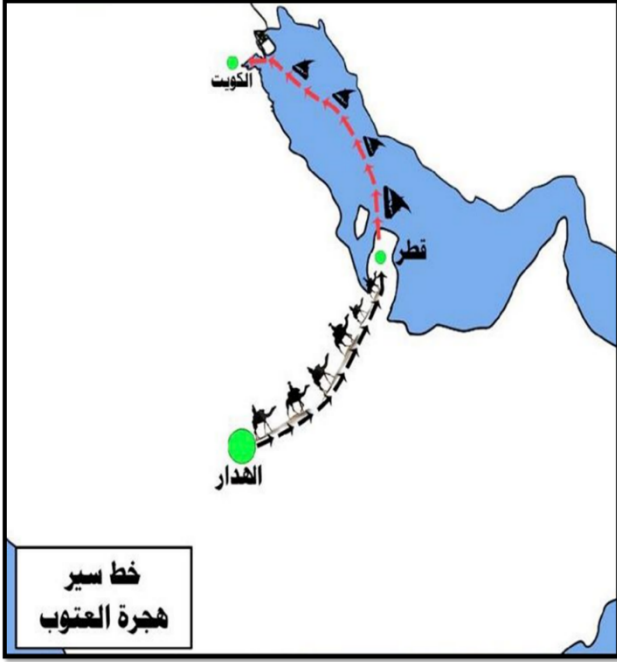
- * معركة الصريف بالرمز 
- * معركة هديه بالرمز 
- * منطقة شكلت محطة الاستقرار الأولى للعتوب بالرمز 

-لاحظ خريطة العالم القديم وحدد عليها مايلي حسب الرمز:-



- دولة تعد مركزا للتوابل في جنوب آسيا بالرمز ★
- خط سير الطرق التجارية البحرية الى الهند ←

- ١- حدد على خريطة شبه الجزيرة العربية ما هو مطلوب منك:
- خط سير هجرة العتوب.



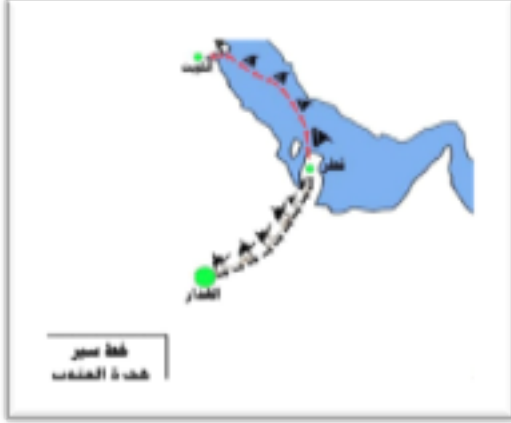
- ٢- لاحظ الصور التالية ثم أكمل العبارات بما يناسبها:



- ١- تدل الصورة على أول مدرسة نظامية في دولة الكويت تسمى المباركية.....

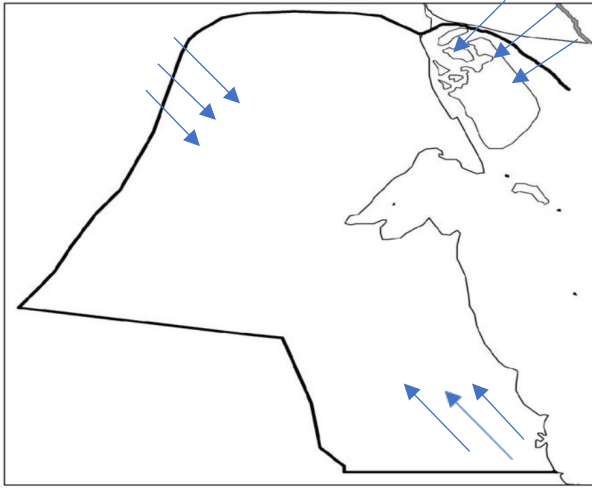


- ٢- يمثل الرمز x معركة بارزة في تاريخ دولة الكويت تسمى.....معركة الرقة

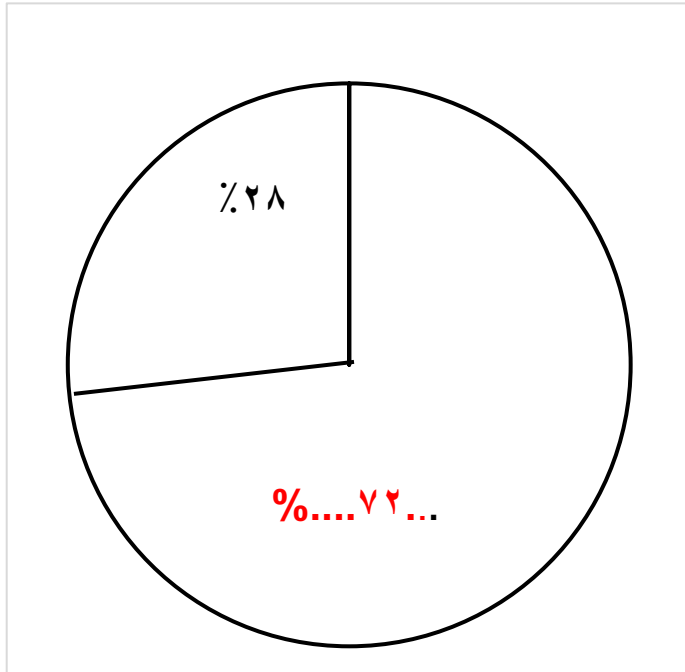


٣- تدل الخريطة على خط سير هجرة... العتوب

- اذكر أنواع الرياح التي تهب على دولة الكويت محددًا اتجاهاتها بالرسم على الخريطة.



- الرياح الشمالية الغربية
- الرياح الجنوبية الشرقية
- رياح السموم

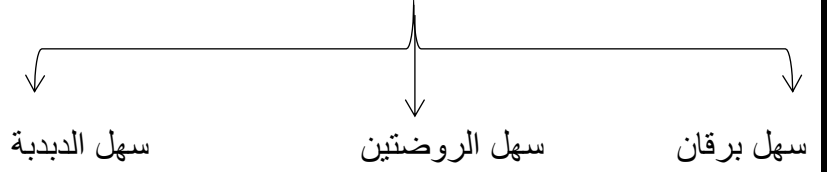


■ أكمل الدائرة البيانية التالية بنسبة الوافدين في

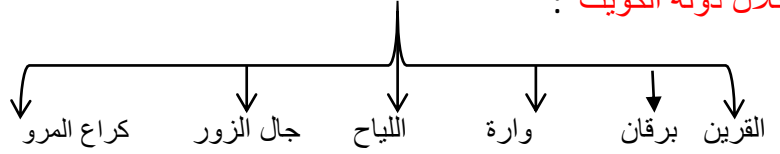
دولة الكويت عام ١٩٩٠م.



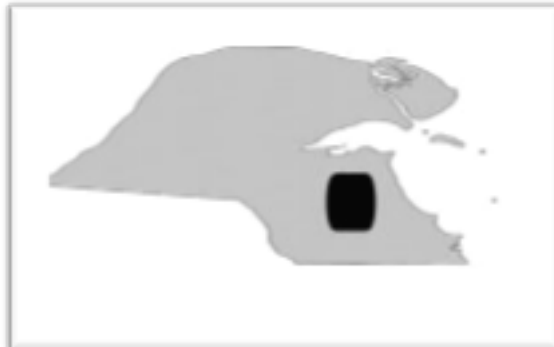
- أهم سهول دولة الكويت:



- تلال دولة الكويت :



- أودية دولة الكويت ← وادي الباطن



← هضبة الأحمدية

انسب الصور التالية الي الحضارة التي تنتمي إليها:



حضارة العبيد
قارب فخاري
منطقة الصبية



الحضارة الاغريقية
القلعة الهلنستية
في جزيرة فيلكا



الحضارة الدلمونية
طبعة ختم
جزيرة فيلكا



الحضارة الدلمونية
ختم مستدير
جزيرة فيلكا