



مذكرة الصف الثاني عشر علمي

مادة
الرياضيات

أئلة امتحانات
وإجاباتها النموذجية

الفترة الأولى

العام الدراسي
2022-2021

القسم الأول – أسئلة المقال

أجب عن جميع أسئلة المقال موضحا خطوات الحل في كل منها

السؤال الأول : (14 درجة)

(7 درجات)

$$\lim_{x \rightarrow 0} \frac{x^2}{1 - \cos x}$$

(a) أوجد

الحل :

(7 درجات)

تابع السؤال الأول :

(b) ابحث اتصال الدالة f عند $x = 0$ حيث :

$$f(x) = \begin{cases} \frac{x^2 - 3x}{|x|} & : x \neq 0 \\ -3 & : x = 0 \end{cases}$$

الحل :

السؤال الثاني : (14 درجة)

(7 درجات)

$$\lim_{x \rightarrow \infty} \frac{x - 2}{\sqrt{x^2 + 2x - 4}}$$

(a) أوجد

الحل:

تابع السؤال الثاني :

(b) أوجد معادلة المماس لمنحنى الدالة $y = \frac{8}{4+x^2}$ عند $x = 2$

(7 درجات)

الحل :

السؤال الثالث : (14 درجة)

(7 درجات) (a) لتكن الدالة $f : f(x) = x^3 - 12x - 5$

أوجد كلا مما يلي :

- (1) النقاط الحرجة للدالة
- (2) الفترات التي تكون الدالة f متزايدة أو متناقصة عليها
- (3) القيم القصوى المحلية

الحل :

.....

.....

.....

.....

.....

.....

.....

.....

.....

.....

.....

.....

.....

.....

.....

.....

.....

.....

.....

.....

.....

.....

.....

.....


تابع السؤال الثالث :

(b) بين أن الدالة $f : f(x) = x + \frac{1}{x}$ تحقق شروط نظرية القيمة المتوسطة

على الفترة $[\frac{1}{2}, 2]$ ثم أوجد قيمة c التي تنبئ به النظرية ، فسر اجابتك

(7 درجات)

الحل :



السؤال الرابع : (14 درجة)

دالة متصلة على مجالها $f(x) = \begin{cases} x^2 + 1 & : x \leq 2 \\ 4x - 3 & : x > 2 \end{cases}$

(a) لتكن الدالة f :

(8 درجات)

أوجد $f'(x)$ إن أمكن


الحل :

تابع السؤال الرابع:

(b) إذا كانت : $n = 20$, $\bar{x} = 40$, $S = 7$ (6 درجات)

اختبر الفرض بأن $\mu = 35$ عند مستوى معنوية $\alpha = 0.05$

الحل :



القسم الثاني: البنود الموضوعية

أولاً: في البنود من (1) إلى (4) عبارات ظلل في ورقة الإجابة (a) إذا كانت العبارة صحيحة (b) إذا كانت العبارة خاطئة

$$\lim_{x \rightarrow -\infty} \frac{x}{|2x - 3|} = \frac{1}{2} \quad (1)$$

$$\frac{dy}{dx} = \boxed{\text{معلق}} = 5 \cot\left(\frac{2}{x}\right) \quad (2) \text{ إذا كانت}$$

(3) أكبر مساحة لمستطيل قاعدته $12 - x^2$ الذي معادلته $12 - x^2$ $\boxed{\text{معلق}}$ باه العلويان على القطع المكافئ

(4) إن القيمة الحرجة $Z_{\frac{\alpha}{2}}$ لـ $\boxed{\text{معلق}}$ 2.

ثانياً : في البنود من (5) إلى (14) لكل بند أربعة اختيارات واحد فقط منها صحيح ظلل في ورقة الإجابة الرمز الدال على الإجابة الصحيحة .

$$\lim_{x \rightarrow -3} \frac{2x^3 + 9x^2 + 9x}{x + 3} \text{ يساوي} \quad (5)$$

- (a) -9 (b) -3 (c) 0 (d) 9

(6) لتكن الدالة $f: f(x) = \sqrt{x^2 + 7}$: $g(x) = x^2 - 3$ فإن $(f \circ g)(0)$ يساوي

- (a) 1 (b) -1 (c) 4 (d) -4

$$\lim_{x \rightarrow \infty} \frac{ax^2 + bx + 3}{2x + 5} = 3 \text{ إذا كان} \quad (7) \text{ فإن قيم } a, b \text{ هي}$$

- (a) $a = 0, b = 6$ (b) $a = 0, b = -6$
(c) $a = 6, b = 0$ (d) $a = -6, b = 0$

$$f(x) = \frac{2x - 1}{\sqrt{x^2 - 25}} \text{ متصلة على} \quad (8) \text{ الدالة } f$$

- (a) $\left(-\infty, \frac{1}{2}\right)$ (b) $(5, \infty)$ (c) R (d) $(-5, 5)$

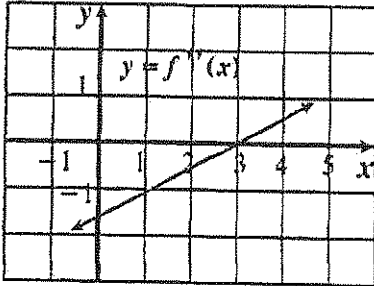
(9) أي من الدوال التالية ليس لها نقطة انعطاف

(a) $f(x) = x^3 + 5x$

(b) $f(x) = 4x^2 - 2x^4$

(c) $f(x) = x^3$

(d) $f(x) = (x - 2)^4$



(10) إذا كانت f دالة كثيرة حدود من الدرجة الثالثة والشكل المقابل يوضح بيان f'' فإن منحنى

معلق

(b) $(3, \infty)$

(c) $(-1, 4)$

(d) $(3, 5)$

(11) الدالة $k : k(x) = -|x^2 - 4|$ لها

(a) نقطتان حرجتان فقط

معلق

قيمة صغرى مط

(c) قيمة عظمى مطلقة

(d) ليس أياً مما سبق

(12) إن الدالة $f : f(x) = x + \sqrt{x^2} + 2$ ليست قابلة للاشتقاق عند $x = 0$ و السبب هو

(a) ناب

(b) ركن

(c) مماس عمودي

(d) غير متصلة

(13) ميل الخط العمودي على المماس (الناظم) عند النقطة $A(3, 2)$ على

منحنى : $x^2 - y^2 - 2xy = -7$ هو

(a) -5

(b) $-\frac{1}{5}$

(c) $\frac{1}{5}$

(d) 5

(14) لتكن الدالة $f : f(x) = \begin{cases} x^2 + 2x & : x \geq 1 \\ 4x - 1 & : x < 1 \end{cases}$ فإن مجال f' هو

(a) $\{1\}$

(b) $[1, \infty)$

(c) \mathbb{R}

(d) $\mathbb{R} - \{1\}$

انتهت الأسئلة

ورقة إجابة البنود الموضوعية

(1)	(a)	(b)	(c)	(d)
(2)	(a)	(b)	(c)	(d)
(3)	(a)	(b)	(c)	(d)
(4)	(a)	(b)	(c)	(d)
(5)	(a)	(b)	(c)	(d)
(6)	(a)	(b)	(c)	(d)
(7)	(a)	(b)	(c)	(d)
(8)	(a)	(b)	(c)	(d)
(9)	(a)	(b)	(c)	(d)
(10)	(a)	(b)	(c)	(d)
(11)	(a)	(b)	(c)	(d)
(12)	(a)	(b)	(c)	(d)
(13)	(a)	(b)	(c)	(d)
(14)	(a)	(b)	(c)	(d)

القسم الأول – أسئلة المقال

تراعى الحلول الأخرى في جميع أسئلة المقال

السؤال الأول : (14 درجة)

(7 درجات)

$$\lim_{x \rightarrow 0} \frac{x^2}{1 - \cos x}$$

(a) أوجد

الحل :

$$\lim_{x \rightarrow 0} \frac{x^2}{1 - \cos x} = \lim_{x \rightarrow 0} \left(\frac{x^2}{1 - \cos x} \cdot \frac{1 + \cos x}{1 + \cos x} \right)$$

$$= \lim_{x \rightarrow 0} \left(\frac{x^2(1 + \cos x)}{1 - \cos^2 x} \right)$$

$$= \lim_{x \rightarrow 0} \left(\frac{x^2(1 + \cos x)}{\sin^2 x} \right)$$

$$= \lim_{x \rightarrow 0} \left(\left(\frac{x^2}{\sin^2 x} \right) \cdot (1 + \cos x) \right)$$

$$= \lim_{x \rightarrow 0} \left(\left(\frac{x}{\sin x} \right)^2 \cdot (1 + \cos x) \right)$$

$$= \lim_{x \rightarrow 0} \left(\frac{x}{\sin x} \right)^2 \cdot \lim_{x \rightarrow 0} (1 + \cos x)$$

$$= \left(\lim_{x \rightarrow 0} \frac{x}{\sin x} \right)^2 \cdot \left(\lim_{x \rightarrow 0} (1) + \lim_{x \rightarrow 0} \cos x \right)$$

$$= (1)^2 \times (1 + 1)$$

$$= 1 \times 2 = 2$$

$$\frac{1}{2} + \frac{1}{2} + \frac{1}{2}$$

1

 $\frac{1}{2}$ 

تابع السؤال الأول :

(7 درجات)

(b) ابحث اتصال الدالة f عند $x = 0$ حيث :

$$f(x) = \begin{cases} \frac{x^2 - 3x}{|x|} & : x \neq 0 \\ -3 & : x = 0 \end{cases}$$

الحل :

$$1 \quad \frac{x^2 - 3x}{|x|} = \begin{cases} \frac{x(x-3)}{x} & : x > 0 \\ \frac{x(x-3)}{-x} & : x < 0 \end{cases}$$

$$1 \quad \therefore f(x) = \begin{cases} x-3 & : x > 0 \\ -x+3 & : x < 0 \\ -3 & : x = 0 \end{cases}$$

$$f(0) = -3$$

$$1 \quad \lim_{x \rightarrow 0^+} f(x) = \lim_{x \rightarrow 0^+} (x-3) = -3$$

$$1 \quad \lim_{x \rightarrow 0^-} f(x) = \lim_{x \rightarrow 0^-} (-x+3) = 3$$

$$1 \quad \therefore \lim_{x \rightarrow 0^+} f(x) \neq \lim_{x \rightarrow 0^-} f(x)$$

$$1 \quad \therefore \lim_{x \rightarrow 0} f(x) \text{ ليست موجودة}$$

$$1 \quad \therefore \text{الدالة } f \text{ ليست متصلة عند } x = 0$$



السؤال الثاني : (14 درجة)

(7 درجات) (a) أوجد $\lim_{x \rightarrow \infty} \frac{x-2}{\sqrt{x^2+2x-4}}$

الحل:

$f(x) = \frac{x-2}{\sqrt{x^2+2x-4}}$ بفرض أن

1 $f(x) = \frac{x-2}{\sqrt{x^2+2x-4}} = \frac{x(1-\frac{2}{x})}{\sqrt{x^2(1+\frac{2}{x}-\frac{4}{x^2})}}$

$\frac{1}{2}$ $= \frac{x(1-\frac{2}{x})}{|x|\sqrt{1+\frac{2}{x}-\frac{4}{x^2}}}$

$\frac{1}{2} + \frac{1}{2}$ $= \frac{x(1-\frac{2}{x})}{x\sqrt{1+\frac{2}{x}-\frac{4}{x^2}}}$ عندما $x > 0$ يكون $|x| = x$

$\frac{1}{2}$ $= \frac{1-\frac{2}{x}}{\sqrt{1+\frac{2}{x}-\frac{4}{x^2}}}$ بشرط $x \neq 0$

$\frac{1}{2}$ $\therefore \lim_{x \rightarrow \infty} (1 + \frac{2}{x} - \frac{4}{x^2}) = \lim_{x \rightarrow \infty} 1 + \lim_{x \rightarrow \infty} \frac{2}{x} - \lim_{x \rightarrow \infty} \frac{4}{x^2}$

$\frac{1}{2} + \frac{1}{2}$ $= 1 + 0 - 0 = 1, 1 > 0$

1 $\therefore \lim_{x \rightarrow \infty} \sqrt{1 + \frac{2}{x} - \frac{4}{x^2}} = \sqrt{\lim_{x \rightarrow \infty} (1 + \frac{2}{x} - \frac{4}{x^2})} = \sqrt{1} = 1, 1 \neq 0$

$\frac{1}{2}$ $\lim_{x \rightarrow \infty} (1 - \frac{2}{x}) = \lim_{x \rightarrow \infty} 1 - \lim_{x \rightarrow \infty} \frac{2}{x} = 1 - 0 = 1$

$\frac{1}{2}$ $\lim_{x \rightarrow \infty} f(x) = \lim_{x \rightarrow \infty} \frac{1 - \frac{2}{x}}{\sqrt{1 + \frac{2}{x} - \frac{4}{x^2}}} = \frac{\lim_{x \rightarrow \infty} (1 - \frac{2}{x})}{\lim_{x \rightarrow \infty} \sqrt{1 + \frac{2}{x} - \frac{4}{x^2}}}$

$\frac{1}{2}$ $= \frac{1}{1} = 1$



تابع السؤال الثاني :

(b) أوجد معادلة المماس لمنحنى الدالة $y = \frac{8}{4 + x^2}$ عند $x = 2$ (7 درجات)

الحل :

$$\frac{dy}{dx} = \frac{d}{dx} \left(\frac{8}{4 + x^2} \right)$$

$$\frac{dy}{dx} = \frac{-8(2x)}{(4 + x^2)^2} = \frac{-16x}{(4 + x^2)^2}$$

$$\left. \frac{dy}{dx} \right|_{x=2} = \left[\frac{-16x}{(4 + x^2)^2} \right]_{x=2} = \frac{-16(2)}{(4 + (2)^2)^2} = \frac{-1}{2}$$

ميل المماس لمنحنى الدالة يساوي $\frac{-1}{2}$

$$\because x = 2 , \quad \therefore y = \frac{8}{4 + (2)^2} = 1$$

معادلة المماس لمنحنى الدالة : $y - y_1 = \left. \frac{dy}{dx} \right|_{x=x_1} \cdot (x - x_1)$

$$y - 1 = \left(\frac{-1}{2} \right) (x - 2)$$

$$y - 1 = \frac{-1}{2} x + 1$$

$$y = \frac{-1}{2} x + 2$$



السؤال الثالث : (14 درجة)

(7 درجات) (a) لتكن الدالة $f : f(x) = x^3 - 12x - 5$

أوجد كلا مما يلي :

- (1) النقاط الحرجة للدالة
- (2) الفترات التي تكون الدالة f متزايدة أو متناقصة عليها
- (3) القيم القصوى المحلية

الحل :

(1) f دالة كثيرة الحدود

f متصلة وقابلة للاشتقاق عند كل $x \in \mathbb{R}$:

نوجد النقاط الحرجة :

$$f'(x) = 3x^2 - 12$$

$$f'(x) = 0$$

$$3x^2 - 12 = 0 \Rightarrow 3(x - 2)(x + 2) = 0$$

$$x = 2, x = -2$$

\therefore النقاط الحرجة هي :

$$(-2, f(-2)) = (-2, 11)$$

$$(2, f(2)) = (2, -21)$$

(2) نكون الجدول لدراسة إشارة f'



	$-\infty$	-2	2	∞
الفترات	$(-\infty, -2)$	$(-2, 2)$	$(2, \infty)$	
إشارة f'	+++	---	+++	
سلوك الدالة f	متزايدة ↗	متناقصة ↘	متزايدة ↗	

الدالة متزايدة على الفترة $(-\infty, -2)$ و الفترة $(2, \infty)$

و متناقصة على الفترة $(-2, 2)$

(3) توجد قيمة عظمى محلية عند $x = -2$ وهي $f(-2) = 11$

توجد قيمة صغرى محلية عند $x = 2$ وهي $f(2) = -21$



تابع السؤال الثالث :

(b) بين أن الدالة $f : f(x) = x + \frac{1}{x}$ تحقق شروط نظرية القيمة المتوسطة على الفترة $[\frac{1}{2}, 2]$ ثم أوجد قيمة c التي تنبئ به النظرية ، فسر اجابتك

الحل :

(7 درجات)

لتكن الدالة $g : g(x) = x$

الدالة g دالة كثيرة حدود متصلة على \mathbb{R}

الدالة $h : h(x) = \frac{1}{x}$

الدالة h حدودية نسبية متصلة على $\mathbb{R} - \{0\}$

∴ دالة الجمع f حيث $f(x) = g(x) + h(x)$ هي دالة متصلة على $\mathbb{R} - \{0\}$

∴ الدالة f متصلة على $[\frac{1}{2}, 2]$ ، قابلية الاشتقاق على $(\frac{1}{2}, 2)$

معلق

∴ شروط نظرية

∴ يوجد على الأقل $c \in (\frac{1}{2}, 2)$ بحيث $f'(c) = \frac{f(b) - f(a)}{b - a}$

$$= \frac{f(2) - f(\frac{1}{2})}{2 - \frac{1}{2}}$$

$$f(2) = \frac{5}{2}, f(\frac{1}{2}) = \frac{5}{2}$$

$$f'(x) = 1 - \frac{1}{x^2} \rightarrow f'(c) = 1 - \frac{1}{c^2}$$

$$1 - \frac{1}{c^2} = \frac{\frac{5}{2} - \frac{5}{2}}{2 - \frac{1}{2}} \rightarrow 1 - \frac{1}{c^2} = 0 \quad \therefore c^2 = 1 \Rightarrow c = \pm 1$$

$$c = 1 \in (\frac{1}{2}, 2), \quad c = -1 \notin (\frac{1}{2}, 2)$$

التفسير: يوجد مماس لمنحنى الدالة f عند $x = 1$ يوازي القاطع المار بالنقطتين $(\frac{1}{2}, \frac{5}{2})$ ، $(2, \frac{5}{2})$

السؤال الرابع : (14 درجة)

دالة متصلة على مجالها (a) لتكن الدالة f : $f(x) = \begin{cases} x^2 + 1 & : x \leq 2 \\ 4x - 3 & : x > 2 \end{cases}$

(8 درجات)

أوجد $f'(x)$ إن أمكن

الحل :

$\frac{1}{2}$

$$D_f = (-\infty, 2] \cup (2, \infty) = \mathbb{R}$$

مجال الدالة :

$\frac{1}{2}$

$$f'(x) = \begin{cases} 2x & : x < 2 \\ \text{تبحث} & : x = 2 \\ 4 & : x > 2 \end{cases}$$

$\frac{1}{2}$

$$f(2) = 2^2 + 1 = 5$$

$\frac{1}{2}$

$$f'_-(2) = \lim_{x \rightarrow 2^-} \frac{f(x) - f(2)}{x - 2}$$

(إن وجدت)

$\frac{1}{2}$

$$= \lim_{x \rightarrow 2^-} \frac{x^2 + 1 - 5}{x - 2}$$

$\frac{1}{2}$

$$= \lim_{x \rightarrow 2^-} \frac{x^2 - 4}{x - 2}$$

1

$$= \lim_{x \rightarrow 2^-} \frac{(x - 2)(x + 2)}{x - 2} = \lim_{x \rightarrow 2^-} (x + 2) = 4$$

$\frac{1}{2}$

$$f'_+(2) = \lim_{x \rightarrow 2^+} \frac{f(x) - f(2)}{x - 2}$$

(إن وجدت)

$\frac{1}{2}$

$$= \lim_{x \rightarrow 2^+} \frac{4x - 3 - 5}{x - 2}$$

$\frac{1}{2}$

$$= \lim_{x \rightarrow 2^+} \frac{4x - 8}{x - 2}$$

1

$$= \lim_{x \rightarrow 2^+} \frac{4(x - 2)}{x - 2} = \lim_{x \rightarrow 2^+} 4 = 4$$

$\frac{1}{2}$

$$f'_-(2) = f'_+(2) = 4$$

$\frac{1}{2}$

$$\therefore f'(2) = 4$$

$\frac{1}{2}$

$$\therefore f'(x) = \begin{cases} 2x & : x \leq 2 \\ 4 & : x > 2 \end{cases}$$



تابع السؤال الرابع:

(6 درجات)

(b) إذا كانت: $n = 20$, $\bar{x} = 40$, $S = 7$

اختبر الفرض بأن $\mu = 35$ عند مستوى معنوية $\alpha = 0.05$

الحل:


$n = 20$, $\bar{x} = 40$, $S = 7$

(1) صياغة الفروض:

$H_0: \mu = 35$ مقابل $H_1: \mu \neq 35$

(2) σ غير معلومة، $n < 30$

نستخدم المقياس



$\sqrt{20}$

(3) $n = 20$ \therefore درجات الحرية $n - 1 = 20 - 1 = 19$

مستوى المعنوية α : $\therefore \alpha = 0.05 \rightarrow \frac{\alpha}{2} = 0.025$

من جدول توزيع t : $\therefore t_{\frac{\alpha}{2}} = 2.093$

(4) منطقة القبول هي: $(-2.093, 2.093)$

(5) اتخاذ القرار الإحصائي: $\therefore 3.194 \notin (-2.093, 2.093)$

\therefore القرار نرفض فرض العدم $\mu = 35$ و نقبل الفرض البديل $\mu \neq 35$



القسم الثاني: البنود الموضوعية

أولاً: في البنود من (1) إلى (4) عبارات ظلل في ورقة الاجابة (a) إذا كانت العبارة صحيحة (b) إذا كانت العبارة خاطئة



$$\lim_{x \rightarrow -\infty} \frac{x}{|2x - 3|} = \frac{1}{2} \quad (1)$$

$$\frac{dy}{dx} = \frac{1}{x} \quad \text{معلق} = 5 \cot\left(\frac{2}{x}\right) \quad (2) \text{ إذا كانت}$$

(3) أكبر مساحة لمستطيل قاعدته $2x$ معلق أساه العلويان على القطع المكافئ الذي معادلته $12 - x^2$

(4) إن القيمة الحرجة $Z_{\frac{\alpha}{2}}$ لدرجته 2.0 معلق

ثانياً: في البنود من (5) إلى (14) لكل بند أربعة اختيارات واحد فقط منها صحيح ظلل في ورقة الإجابة الرمز الدال على الإجابة الصحيحة.

$$\lim_{x \rightarrow -3} \frac{2x^3 + 9x^2 + 9x}{x + 3} \text{ يساوي} \quad (5)$$

- (a) -9 (b) -3 (c) 0 (d) 9

(6) لتكن الدالة $f: \sqrt{x^2 + 7}$: $f(x) = \sqrt{x^2 + 7}$ ، $g(x) = x^2 - 3$ فإن $(f \circ g)(0)$ يساوي

- (a) 1 (b) -1 (c) 4 (d) -4

$$\lim_{x \rightarrow \infty} \frac{ax^2 + bx + 3}{2x + 5} = 3 \text{ إذا كان} \quad (7) \text{ فإن قيم } a, b \text{ هي}$$

- (a) $a = 0, b = 6$ (b) $a = 0, b = -6$
(c) $a = 6, b = 0$ (d) $a = -6, b = 0$



$$f(x) = \frac{2x - 1}{\sqrt{x^2 - 25}} \text{ متصلة على} \quad (8) \text{ الدالة}$$

- (a) $(-\infty, \frac{1}{2})$ (b) $(5, \infty)$ (c) R (d) $(-5, 5)$

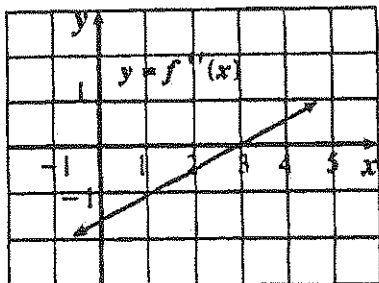
(9) أي من الدوال التالية ليس لها نقطة انعطاف

(a) $f(x) = x^3 + 5x$

(b) $f(x) = 4x^2 - 2x^4$

(c) $f(x) = x^3$

(d) $f(x) = (x - 2)^4$



(10) إذا كانت f دالة كثيرة حدود من الدرجة الثالثة، الشكل المقابل يوضح بيان f'' فإن

معلق

(b) $(3, \infty)$

(c) $(-1, 4)$

(d) $(3, 5)$

(a) نقطتان حرجتان فقط

(c) قيمة عظمى مطلقة

معلق

(11) الدالة $k : -|x^2 - 4|$ قيمة صغرى

(d) ليس أي مما سبق

(12) إن الدالة $f : f(x) = x + \sqrt{x^2} + 2$ ليست قابلة للاشتقاق عند $x = 0$ و السبب هو

(a) ناب

(b) ركن

(c) مماس عمودي

(d) غير متصلة

(13) ميل الخط العمودي على المماس (الناظم) عند النقطة $A(3, 2)$ على

منحنى : $x^2 - y^2 - 2xy = -7$ هو

(a) -5

(b) $\frac{-1}{5}$

(c) $\frac{1}{5}$

(d) 5

(14) لتكن الدالة $f : f(x) = \begin{cases} x^2 + 2x & : x \geq 1 \\ 4x - 1 & : x < 1 \end{cases}$ فإن مجال f' هو

(a) $\{1\}$

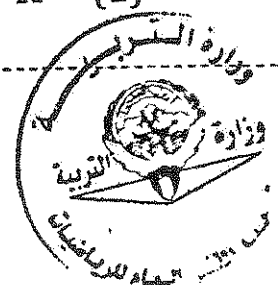
(b) $[1, \infty)$

(c) \mathbb{R}

(d) $\mathbb{R} - \{1\}$




انتهت الأسئلة



ورقة إجابة البنود الموضوعية

(1)	(a)		(c)	(d)
(2)		(b)	(c)	(d)
(3)	(a)		(c)	(d)
(4)		(b)	(c)	(d)
(5)	(a)	(b)	(c)	
(6)	(a)	(b)		(d)
(7)		(b)	(c)	(d)
(8)	(a)		(c)	(d)
(9)	(a)	(b)	(c)	
(10)		(b)	(c)	(d)
(11)	(a)	(b)		(d)
(12)	(a)		(c)	(d)
(13)		(b)	(c)	(d)
(14)	(a)	(b)		(d)



دولة الكويت

وزارة التربية

امتحان نهاية الفترة الدراسية الأولى للصف الثاني عشر علمي 2018 / 2019 م
المجال الدراسي: الرياضيات الزمن: ساعتان و45 دقيقة الأسئلة في 13 صفحة

القسم الأول : أسئلة المقال

أجب عن الأسئلة التالية موضحاً خطوات الحل في كل منها:

السؤال الأول :

(a) أوجد

14

(6 درجات)

$$\lim_{x \rightarrow 2} \frac{(x+1)^2 - 9}{x^2 - 2x}$$

تابع السؤال الأول : (8 درجات)

$$f(x) = 2x + 1 , \quad g(x) = x^3 \quad ; \quad (b) \text{ إذا كانت}$$

$$(1) \text{ أوجد } (g \circ f)'(x)$$

$$(2) \text{ أوجد معادلة المماس للدالة } (g \circ f)(x) \text{ عند النقطة } A(0, 1)$$

.....

.....

.....

.....

.....

.....

.....

.....

.....

.....

.....

.....

.....

.....

.....

.....

.....

.....

.....

.....

.....

.....

.....

(7 درجات)

تابع السؤال الثاني:

(b) إذا كانت:

$$y = \frac{\sin x}{\sin x + \cos x}$$

$$y' = (y \cdot \csc x)^2$$

أثبت أن

.....

.....

.....

.....

.....

.....

.....

.....

.....

.....

.....

.....

.....

.....

.....

.....

.....

.....

.....

.....

.....

.....

.....

تابع السؤال الثالث:

(6 درجات)

(b) أثبت أن من بين المستطيلات التي محيطها 8 cm واحداً منها يعطي أكبر مساحة ويكون مربعاً ؟

.....

.....

.....

.....

.....

.....

.....

.....

.....

.....

.....

.....

.....

.....

.....

.....

.....

.....

.....

.....

.....

.....

.....

.....

A large grid of dashed lines for writing answers, consisting of 10 columns and 15 rows.

(5 درجات)

تابع السؤال الرابع:

(b) أجريت دراسة لعينة من الإناث حول معدل النبض لديهن فإذا كان حجم عينة

الإناث $n = 40$ والانحراف المعياري لمجتمع الإناث $\sigma = 12.5$ ،

والمتوسط الحسابي للعينة $\bar{x} = 76.3$.

استخدم مستوى ثقة 95% لإيجاد:

(1) هامش الخطأ

(2) فترة الثقة للمتوسط الحسابي للمجتمع الإحصائي μ .

معلق

القسم الثاني (البنود الموضوعية) :
أولاً : في البنود (1-4) ظلل في ورقة الإجابة: (a) إذا كانت العبارة صحيحة
(b) إذا كانت العبارة خاطئة

$$\lim_{x \rightarrow 0} \frac{4x^2 + 5\sin^2 x}{3x^2} = 3 \quad (1)$$

$$a = -3, b = -2 \quad \text{فإن} \quad \lim_{x \rightarrow -\infty} \frac{ax^3 + bx^2 + 4}{3x^2 - 2x + 1} = -1 \quad \text{إذا كانت} \quad (2)$$

(3) الدالة $f : f(x) = x|x|$ قابلة للاشتقاق $\forall x \in \mathbb{R}$

(4) الدالة $f : f(x) = \sqrt[3]{x-1}$ تحقق شروط  الفترة $[-1, 2]$

ثانياً : في البنود (5-14) لكل بند أربع اختيارات واحد فقط منها صحيح ظلل في ورقة الإجابة الرمز الدال على الاختيار الصحيح

$$(5) \text{ إذا كانت الدالة } f : f(x) = \frac{3}{\sqrt{2x-1}} \text{ فإن } f'(1) \text{ تساوي}$$

- (a) $\frac{3}{2}$ (b) $\frac{3}{2}$ (c) -3 (d) 3

(6) ميل التانجم لمنحنى الدالة $f : f(x) = \frac{2}{x}$ عند $x = -2$ هي :

- (a) -2 (b) $\frac{-1}{2}$ (c) $\frac{1}{2}$ (d) 2

(7) للدالة $f : f(x) = -3x + 1$ قيمة عظمى مطلقة في $[0, 3]$ عند

- (a) $x = 3$ (b) $x = 1$ (c) $x = 0$ (d) $x = -8$

(8) الدالة $f : f(x) = \frac{x+1}{25-x^2}$ متصلة على :

- (a) \mathbb{R} (b) $[-5, 5]$
(c) $\mathbb{R} \setminus \{-5, 5\}$ (d) $(-\infty, 25)$

(9) إذا كانت الدالة f متصلة عند $x = -2$ وكانت $\lim_{x \rightarrow -2} (x^2 + f(x)) = 7$

فإن $f(-2)$ تساوي :

- (a) 3 (b) 5 (c) 9 (d) 11

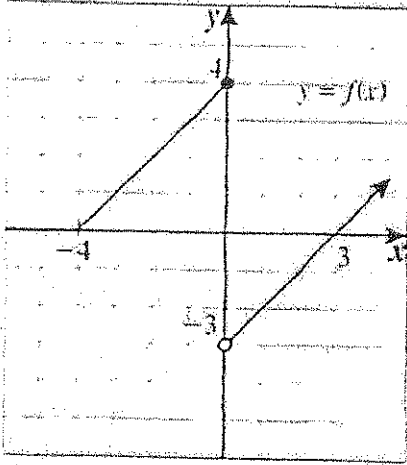
(10) إذا كان $x^2 + y^2 = 25$ ، فإن $\frac{dy}{dx}$ تساوي

- (a) $\frac{x}{y}$ (b) $\frac{-x}{y}$ (c) $2x + 2y$ (d) $-x$

(11) عدد النقاط الحرجة للدالة $y = 3x^2 - 9x - 4$ على الفترة $(-2, 0)$ هو :

- (a) 3 (b) 2 (c) 1 (d) 0

(12) إذا كان الشكل المقابل هو بيان دالة f فإن العبارة الصحيحة في ما يلي هي :



- (a) $\lim_{x \rightarrow 0^+} f(x) = 4$
(b) $\lim_{x \rightarrow 0^-} f(x) = 4$
(c) $\lim_{x \rightarrow 0^-} f(x) = -3$
(d) $\lim_{x \rightarrow 0} f(x) = -3$

(13) أي منحنيات الدوال التالية يكون مقعراً للأسفل في $(-1, 1)$:

- (a) $f(x) = x^3$ (b) $f(x) = -x^3$
(c) $f(x) = x^2$ (d) $f(x) = -x^2$

(14) إذا كان القرار قبول فرض العدم، وفترة الثقة $(-1.96, 1.96)$ فإن قيمة

الاختبار Z يمكن أن

- (a) -2.5 (b) -2 (c) 2 (d) 1.99

انتهت الأسئلة

دولة الكويت

وزارة التربية

نموذج إجابة امتحان نهاية الفترة الدراسية الأولى للصف الثاني عشر علمي 2018/2019 م
المجال الدراسي: الرياضيات الزمن: ساعتان و45 دقيقة الأسئلة في 12 صفحة

القسم الأول: أسئلة المقال

أجب عن الأسئلة التالية موضحاً خطوات الحل في كل منها:

السؤال الأول:

(a) أوجد

14

(6 درجات)

$$\lim_{x \rightarrow 2} \frac{(x+1)^2 - 9}{x^2 - 2x}$$

الحل:

عند التعويض المباشر عن x بـ 2 في كل من البسط والمقام نحصل على صيغة غير معينة

$$1 + \frac{1}{2}$$

$$\frac{1}{2} + \frac{1}{2}$$

$$\frac{1}{2}$$

$$\frac{1}{2}$$

$$\frac{1}{2} + \frac{1}{2}$$

$$\frac{1}{2}$$

$$\frac{1}{2} + \frac{1}{2}$$

$$\frac{(x+1)^2 - 9}{x^2 - 2x} = \frac{(x+1-3)(x+1+3)}{x(x-2)}$$

$$= \frac{(x-2)(x+4)}{x(x-2)}$$

$$= \frac{x+4}{x}, \quad x \neq 2$$


$$\therefore \lim_{x \rightarrow 2} \frac{(x+1)^2 - 9}{x^2 - 2x} = \lim_{x \rightarrow 2} \frac{x+4}{x}$$

$$\therefore \lim_{x \rightarrow 2} x = 2, \quad 2 \neq 0$$

$$\therefore \lim_{x \rightarrow 2} \frac{x+4}{x} = \frac{\lim_{x \rightarrow 2} (x+4)}{\lim_{x \rightarrow 2} x}$$

$$= \frac{2+4}{2} = 3$$

تراجعى الحلول الأخرى في جميع أسئلة المقال



تابع السؤال الأول : (8 درجات)

(b) إذا كانت : $f(x) = 2x + 1$, $g(x) = x^3$

(1) أوجد $(g \circ f)'(x)$

(2) أوجد معادلة المماس للدالة $(g \circ f)(x)$ عند النقطة $A(0, 1)$

الحل :

1 $(g \circ f)'(x) = g'(f(x)) \cdot f'(x)$ (1)

1 $g'(x) = 3x^2$

1 $g'(f(x)) = 3(2x + 1)^2$

1 $f'(x) = 2$

$(g \circ f)'(x) = 3(2x + 1)^2$ (2)

1 $= 6(2x + 1)^2$

(2) ميل المماس للدالة $(g \circ f)(x)$ عند $x = 0$

1 $(g \circ f)'(0) = 6(0 + 1)^2 = 6$

∴ معادلة المماس هي :



$\frac{1}{2}$

$y - y_1 = m(x - x_1)$

$\frac{1}{2} + \frac{1}{2} + \frac{1}{2}$

$y - 1 = 6(x - 0)$

$6x - y + 1 = 0$



14

السؤال الثاني :

(a) لتكن $f : f(x) = \sqrt{x^2 - 7x + 10}$

(7 درجات)

أوجد مجال الدالة f ثم ادرس اتصال الدالة f على $[-1, 1]$

الحل :

نفرض أن

$$f(x) = \sqrt{g(x)} \quad , \quad g(x) = x^2 - 7x + 10$$

$$D_f = \{x : g(x) \geq 0\}$$


$$x^2 - 7x + 10 \geq 0$$

المعادلة المناظرة :

$$x^2 - 7x + 10 = 0$$

$$(x - 2)(x - 5) = 0$$

$$x = 2 \quad , \quad x = 5$$



∴ مجال الدالة f هو $(-\infty, 2] \cup [5, \infty)$

لدراسة اتصال الدالة f على $[-1, 1]$

$$g(x) \geq 0 \quad \forall x \in (-\infty, 2] \cup [5, \infty)$$

∴ $[-1, 1]$ مجموعة جزئية من D_f

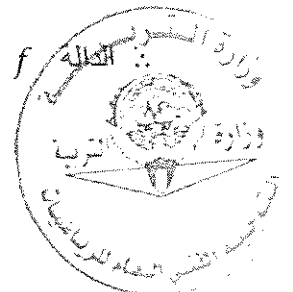
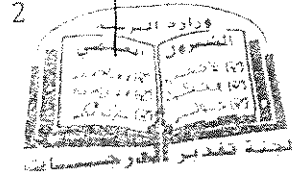
$$\therefore g(x) \geq 0 \quad \forall x \in [-1, 1] \quad (1)$$

(2) الدالة $g : g(x) = x^2 - 7x + 10$ متصلة على $[-1, 1]$

من (1) و (2)

متصلة على $[-1, 1]$

(3)



(7 درجات)

تابع السؤال الثاني:

(b) إذا كانت:

$$y = \frac{\sin x}{\sin x + \cos x}$$

$$y' = (y \cdot \csc x)^2$$

أثبت أن

الحل:

$$y' = \frac{(\sin x)' (\sin x + \cos x) - (\sin x)(\sin x + \cos x)'}{(\sin x + \cos x)^2}$$

$$= \frac{\cos x (\sin x + \cos x) - \sin x (\cos x - \sin x)}{(\sin x + \cos x)^2}$$

$$= \frac{\cos x \cdot \sin x + \cos^2 x - \sin x \cdot \cos x + \sin^2 x}{(\sin x + \cos x)^2}$$

$$= \frac{\cos^2 x + \sin^2 x}{(\sin x + \cos x)^2}$$

$$= \frac{1}{(\sin x + \cos x)^2}$$

$$(y \cdot \csc x)^2 = \left(\frac{\sin x}{\sin x + \cos x} \cdot \frac{1}{\sin x} \right)^2$$

$$= \frac{1}{(\sin x + \cos x)^2}$$

$$= y'$$

$$1 + 1 + 1 + \frac{1}{2}$$


1

$\frac{1}{2}$

$\frac{1}{2}$

1

$\frac{1}{2}$



14

السؤال الثالث:

(a) أوجد

(8 درجات)

$$\lim_{x \rightarrow \infty} \frac{x - 5}{\sqrt{x^2 - 2x - 3}}$$

الحل :

$$f(x) = \frac{x - 5}{\sqrt{x^2 - 2x - 3}}$$

$$= \frac{x \left(1 - \frac{5}{x}\right)}{\sqrt{x^2 \left(1 - \frac{2}{x} - \frac{3}{x^2}\right)}}$$

$$= \frac{x \left(1 - \frac{5}{x}\right)}{|x| \sqrt{1 - \frac{2}{x} - \frac{3}{x^2}}}$$

$|x| = x : x > 0$

$$= \frac{x \left(1 - \frac{5}{x}\right)}{x \sqrt{1 - \frac{2}{x} - \frac{3}{x^2}}}$$

$$= \frac{1 - \frac{5}{x}}{\sqrt{1 - \frac{2}{x} - \frac{3}{x^2}}} \quad : x \neq 0$$


$$\therefore \lim_{x \rightarrow \infty} \left(1 - \frac{2}{x} - \frac{3}{x^2}\right) = \lim_{x \rightarrow \infty} 1 - \lim_{x \rightarrow \infty} \frac{2}{x} - \lim_{x \rightarrow \infty} \frac{3}{x^2}$$

$$= 1 - 0 - 0 = 1, 1 > 0$$

$$\therefore \lim_{x \rightarrow \infty} \sqrt{\left(1 - \frac{2}{x} - \frac{3}{x^2}\right)} = \sqrt{\lim_{x \rightarrow \infty} \left(1 - \frac{2}{x} - \frac{3}{x^2}\right)} = \sqrt{1} = 1, 1 \neq 0$$

$$\lim_{x \rightarrow \infty} \left(1 - \frac{5}{x}\right) = \lim_{x \rightarrow \infty} 1 - \lim_{x \rightarrow \infty} \frac{5}{x} = 1 - 0 = 1$$

$$\lim_{x \rightarrow \infty} f(x) = \lim_{x \rightarrow \infty} \frac{1 - \frac{5}{x}}{\sqrt{1 - \frac{2}{x} - \frac{3}{x^2}}} = \frac{\lim_{x \rightarrow \infty} \left(1 - \frac{5}{x}\right)}{\lim_{x \rightarrow \infty} \sqrt{1 - \frac{2}{x} - \frac{3}{x^2}}} = \frac{1}{1} = 1$$



تابع السؤال الثالث: (6 درجات)

(b) أثبت أن من بين المستطيلات التي محيطها 8 cm واحداً منها يعطي أكبر مساحة ويكون مربعاً؟

الحل:

بفرض طول البعد الأول للمستطيل هو x وطول البعد الثاني y

$$2x + 2y = 8 \rightarrow 2x + 2y = 8$$

$$4 = x + y \rightarrow y = 4 - x$$

∴ طول البعد الثاني للمستطيل هو $4 - x$

x لا يمكن أن تزيد على 4 أي: $0 < x < 4$

مساحة المستطيل = حاصل ضرب البعدين

$$s(x) = x \cdot (4 - x)$$

$$= 4x - x^2$$

$$s'(x) = 4 - 2x$$

نضع $s'(x)$

$$4 - 2x = 0$$

$$x = 2 \in (0, 4)$$

∴ نقطة حرجة $(2, s(2))$

$$s''(x) = -2, \quad -2 < 0$$

∴ توجد قيمة عظمى مطلقة عند $x = 2$

∴ أكبر مساحة ممكنة للمستطيل عند $x = 2$

∴ البعد الأول للمستطيل هو $x = 2 \text{ cm}$

والبعد الثاني هو $4 - x = 4 - 2 = 2 \text{ cm}$

المستطيل يصبح مربع لأن بعديه متساويان

$$\frac{1}{2} + \frac{1}{2}$$



السؤال الرابع:

(a) ادرس تغير الدالة $f : f(x) = 2x^3 + 3x^2 - 1$

(9 درجات)

ثم ارسم بيانها

الحل:

f دالة كثيرة الحدود مجالها \mathbb{R}
توجد النهايات عند الحدود المفتوحة

$$\lim_{x \rightarrow -\infty} f(x) = \lim_{x \rightarrow -\infty} 2x^3 = -\infty$$

$$\lim_{x \rightarrow \infty} f(x) = \lim_{x \rightarrow \infty} 2x^3 = \infty$$

توجد النقاط الحرجة حيث f دالة قابلة للإشتقاق على مجالها

$$f'(x) = 6x^2 + 6x$$

$$f'(x) = 0$$

نضع

$$6x^2 + 6x = 0$$

$$6x(x + 1) = 0$$

$$6x = 0 \rightarrow x = 0 \quad \text{أو} \quad x + 1 = 0 \rightarrow x = -1$$

$$f(0) = -1, \quad f(-1) = 0$$

النقاط الحرجة $(0, -1)$, $(-1, 0)$

نكون جدول التغير لدراسة إشارة f'

	$-\infty$	-1	0	∞
الفترات	$(-\infty, -1)$	$(-1, 0)$	$(0, \infty)$	
إشارة f'	++++	----	++++	
سلوك الدالة f	متزايدة ↗	متناقصة ↘	متزايدة ↗	

الدالة f متزايدة في الفترة $(-\infty, -1)$ والفترة $(0, \infty)$

الدالة f متناقصة في الفترة $(-1, 0)$

للدالة f قيمة عظمى محلية عند $x = -1$ وقيمة صغرى محلية عند $x = 0$

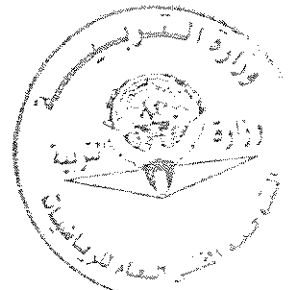
$$f''(x) = 12x + 6$$

نضع

$$f''(x) = 0$$

$$12x + 6 = 0 \rightarrow x = -\frac{1}{2}$$

(7)



1

	$-\infty$	$-\frac{1}{2}$	∞
الفترات	$(-\infty, -\frac{1}{2})$		$(-\frac{1}{2}, \infty)$
إشارة "f"	---		+++
التقعر	∩		∪

منحنى الدالة مقعر للأسفل على الفترة $(-\infty, -\frac{1}{2})$

منحنى الدالة مقعر للأعلى على الفترة $(-\frac{1}{2}, \infty)$

$$f\left(-\frac{1}{2}\right) = -\frac{1}{2}$$


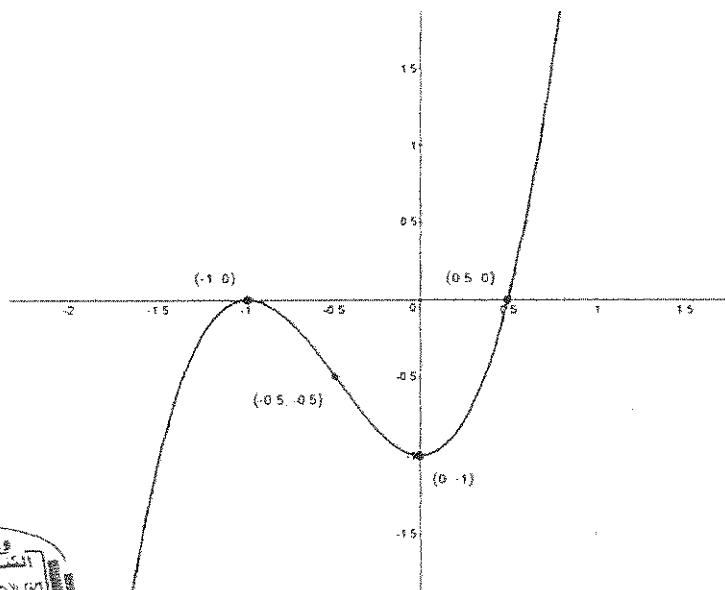
نقطة انعطاف $\left(-\frac{1}{2}, -\frac{1}{2}\right) \therefore$

$\frac{1}{2}$

نقاط اضافية

x	-2	-1	$-\frac{1}{2}$	0	$\frac{1}{2}$	1
f(x)	-5	0	$-\frac{1}{2}$	-1	0	4

$\frac{1}{2}$



(5 درجات)

تابع السؤال الرابع:

(b) أجريت دراسة لعينة من الإناث حول معدل النبض لديهن فإذا كان حجم عينة الإناث $n = 40$ والانحراف المعياري لمجتمع الإناث $\sigma = 12.5$ ، والمتوسط الحسابي للعينة $\bar{x} = 76.3$.
استخدم مستوى ثقة 95% لإيجاد:

(1) هامش الخطأ

(2) فترة الثقة للمتوسط الحسابي للمجتمع الإحصائي II

الحل :

(1) مستوى الثقة 95%

القيمة الحرجة : تستخدم توزيع $Z_{\frac{\alpha}{2}} = 1.96$

فلاحظ أن σ معلومة

$$n = 40 , \sigma = 12.5 , \bar{x} = 76.3$$

$$\therefore E = Z_{\frac{\alpha}{2}}$$

$$= (1.96) \cdot$$

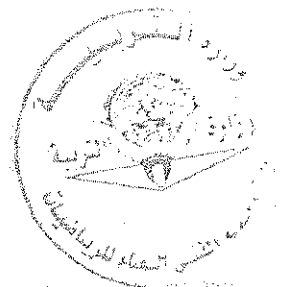
$$\therefore \text{هامش الخطأ} \approx 3.8738$$

$$(\bar{x} - E , \bar{x} + E)$$

(2) فترة الثقة هي :

$$= (76.3 - 3.8738 , 76.3 + 3.8738)$$

$$= (72.4262 , 80.1738)$$



القسم الثاني (البنود الموضوعية) :

أولاً : في البنود (1-4) ظلل في ورقة الإجابة: (a) إذا كانت العبارة صحيحة
(b) إذا كانت العبارة خاطئة

$$\lim_{x \rightarrow 0} \frac{4x^2 + 5\sin^2 x}{3x^2} = 3 \quad (1)$$

$$a = -3, b = -2 \quad \text{فإن} \quad \lim_{x \rightarrow -\infty} \frac{ax^3 + bx^2 + 4}{3x^2 - 2x + 1} = -1 \quad \text{إذا كانت} \quad (2)$$

$$(3) \text{ الدالة } f : f(x) = x|x| \quad \text{قابلة للإشتقاق} \quad \forall x \in \mathbb{R}$$

$$(4) \text{ الدالة } f : f(x) = \sqrt[3]{x-1} \quad \text{متوسطة في الفترة } [-1, 2]$$

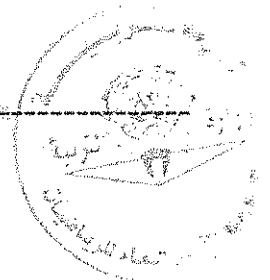
ثانياً : في البنود (5-14) لكل بند أربع اختيارات واحد فقط منها صحيح ظلل في ورقة
الإجابة الرمز الدال على الاختيار الصحيح

$$(5) \text{ إذا كانت الدالة } f : f(x) = \frac{3}{\sqrt{2x-1}} \quad \text{فإن } f'(1) \text{ تساوي}$$

(a) $\frac{3}{2}$ (b) $\frac{3}{2}$ (c) -3 (d) 3

$$(6) \text{ ميل الناظم لمنحنى الدالة } f : f(x) = \frac{2}{x} \quad \text{عند } x = -2 \text{ هي :}$$

(a) -2 (b) $\frac{-1}{2}$ (c) $\frac{1}{2}$ (d) 2

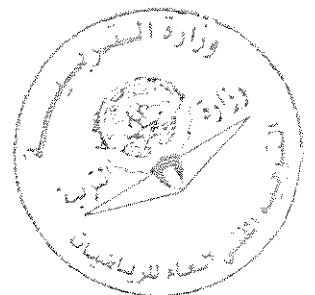
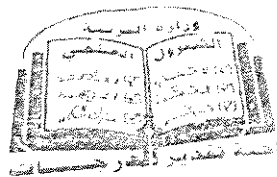


جدول إجابة البنود الموضوعية

(1)	(a)	(b)		
(2)	(a)	(b)		
(3)	(a)	(b)		
(4)	(a)	(b)		
(5)	(a)	(b)	(c)	(d)
(6)	(a)	(b)	(c)	(d)
(7)	(a)	(b)	(c)	(d)
(8)	(a)	(b)	(c)	(d)
(9)	(a)	(b)	(c)	(d)
(10)	(a)	(b)	(c)	(d)
(11)	(a)	(b)	(c)	(d)
(12)	(a)	(b)	(c)	(d)
(13)	(a)	(b)	(c)	(d)
(14)	(a)	(b)	(c)	(d)

14

الدرجة:



دولة الكويت

وزارة التربية

امتحان نهاية الفترة الدراسية الأولى للصف الثاني عشر علمي 2017 / 2018 م
المجال الدراسي : الرياضيات الزمن : ساعتان و 45 دقيقة الأسئلة في 12 صفحة

القسم الأول : أسئلة المقال

أجب عن الأسئلة التالية موضحاً خطوات الحل في كل منها:

السؤال الأول :

(a) أوجد

14

(7 درجات)

$$\lim_{x \rightarrow 0} \frac{x^2}{1 - \cos x}$$

الحل :

(7 درجات)

تابع السؤال الأول :

(b) للمنحنى الذي معادلته $2\sqrt{y} + y = x$ أوجد:

(1) y'

(2) ميل المماس لهذا المنحنى عند النقطة (1 ، 3)

الحل :

السؤال الثاني :

(a) أوجد

14

(7 درجات)

$$\lim_{x \rightarrow \infty} \frac{\sqrt{2x^2 - x}}{x + 1}$$

الحل :

(7 درجات)

تابع السؤال الثاني:

(b) أوجد عددين موجبين مجموعهما 20 وناتج ضربهما أكبر ما يمكن

الحل :

السؤال الثالث:


14

(a) ادرس تغير الدالة f : $f(x) = 1 - x^3$

ثم ارسم بيانها

الحل :

(9 درجات)



تابع السؤال الثالث:

(5 درجات)

(b) أخذت عينة عشوائية من مجتمع طبيعي حجمها $n = 25$ ، فإذا كان الانحراف

المعياري للعينة (s) يساوي 10 ، ومتوسطها الحسابي (\bar{x}) يساوي 15 ،

استخدم مستوى ثقة 95% لإيجاد:

(1) هامش الخطأ

(2) فترة الثقة للمتوسط الحسابي للمجتمع الإحصائي μ

الحل :

معلق

14

السؤال الرابع:

(a) لتكن f : $f(x) = \sqrt{4 - x^2}$

ادرس اتصال الدالة f على $[-2, 2]$

(7 درجات)

الحل :

(7 درجات)


تابع السؤال الرابع:

$$f(x) = \begin{cases} x - \frac{4}{x} & : x \geq 2 \\ x^2 - 4 & : x < 2 \end{cases}$$

(b) لتكن الدالة f :



أوجد $f'(x)$ وعين مجالها

الحل:



القسم الثاني (البنود الموضوعية) :
أولاً : في البنود (1-2) ظلل في ورقة الإجابة: (a) إذا كانت العبارة صحيحة
(b) إذا كانت العبارة خاطئة

$$\lim_{x \rightarrow 0^-} \frac{\sqrt{x^2} - x}{x} = -2 \quad (1)$$

(2) متوسط عمر الإطارات في إحدى المصانع = 25000 ميل. من خلال دراسة لعينة عشوائية
تبيّن أن المتوسط الحسابي  المقياس الإحصائي $Z = 2$ فإن حجم العينة $n = 20$ إذا كان
المقياس الإحصائي الحسابي  معياري $S = 5000$ إذا كان

ثانياً : في البنود (3 -10) لكل بند أربع اختيارات واحد فقط منها صحيح ظلل في ورقة
الإجابة الرمز الدال على الاختيار الصحيح

$$\left(\frac{3}{-2} \right)^5 = \quad (3)$$

(a) 0

(b) 2

(c) $-\infty$

(d) ∞

(4) لتكن $y = |x|$ فإن الدالة y

- (a) لها قيمة صغرى مطلقة فقط
(b) لها قيمة عظمى مطلقة فقط
(c) لها قيمة عظمى مطلقة وقيمة صغرى مطلقة
(d) ليس لها قيمة صغرى مطلقة وليس لها قيمة عظمى مطلقة

(5) ليكن منحنى الدالة $f : f(x) = x^2 - 4x + 3$ فإن النقطة التي يكون مماس المنحنى
عندها أفقياً هي :

(a) (3, 0)

(b) (1, 0)

(c) (2, -1)

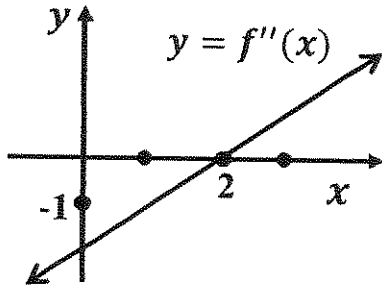
(d) (2, 1)

(6) إذا كانت الدالة f : فإن $f(x) = \begin{cases} x^2 + 1 & : x \geq 2 \\ \frac{x^2 - 4}{x - 2} & : x < 2 \end{cases}$

- (a) $\lim_{x \rightarrow 2^+} f(x) = 4$ (b) $\lim_{x \rightarrow 2^-} f(x) = 4$ (c) $\lim_{x \rightarrow 2} f(x)$ موجودة (d) $x = 2$ متصل عند f

(7) إذا كانت g دالة متصلة عند $x = 1$ فإن الدالة المتصلة عند $x = 1$ فيما يلي هي $f(x)$ تساوي

- (a) $\sqrt{g(x)}$ (b) $\frac{1}{g(x)}$ (c) $\frac{g(x)}{x-1}$ (d) $|g(x)|$



(8) إذا كانت f دالة كثيرة حدود من الدرجة الثالثة والشكل المقابل

يوضح بيان f'' فإن منحنى f مقعراً لأسفل في الفترة

- (a) $(-\infty, 2)$ (b) $(0, \infty)$ (c) $(0, 2)$ (d) $(2, \infty)$

(9) للدالة $f : f(x) = \sqrt[3]{x-1}$ مماس رأسي معادلته

- (a) $x = 0$ (b) $y = 0$ (c) $x = 1$ (d) $y = 1$

(10) إذا كانت $y = \sin^{-5}x - \cos^3x$ فإن $\frac{dy}{dx}$ تساوي

- (a) $5\sin^{-6}x \cos x - 3\cos^2x \sin x$ (b) $5\sin^{-6}x \cos x + 3\cos^2x \sin x$
(c) $-5\sin^{-6}x \cos x + 3\cos^2x \sin x$ (d) $-5\sin^{-6}x \cos x - 3\cos^2x \sin x$

انتهت الأسئلة

القسم الأول : أسئلة المقال

أجب عن الأسئلة التالية موضحاً خطوات الحل في كل منها:

السؤال الأول :

(a) أوجد

14

(7 درجات)

$$\lim_{x \rightarrow 0} \frac{x^2}{1 - \cos x}$$

الحل :

$$1 \quad \lim_{x \rightarrow 0} \frac{x^2}{1 - \cos x} = \lim_{x \rightarrow 0} \left(\frac{x^2}{1 - \cos x} \cdot \frac{1 + \cos x}{1 + \cos x} \right)$$

$$\frac{1}{2} \quad = \lim_{x \rightarrow 0} \frac{x^2(1 + \cos x)}{1 - \cos^2 x}$$

$$1 \quad = \lim_{x \rightarrow 0} \frac{x^2}{\sin^2 x} \cdot (1 + \cos x)$$

$$\frac{1}{2} \quad = \lim_{x \rightarrow 0} \left(\left(\frac{x}{\sin x} \right)^2 \cdot (1 + \cos x) \right)$$

$$1 \quad = \lim_{x \rightarrow 0} \left(\frac{x}{\sin x} \right)^2 \cdot \lim_{x \rightarrow 0} (1 + \cos x)$$

$$\frac{1}{2} \quad = \left(\lim_{x \rightarrow 0} \frac{x}{\sin x} \right)^2 \cdot \left(\lim_{x \rightarrow 0} 1 + \lim_{x \rightarrow 0} \cos x \right)$$

$$\frac{1}{2} + \frac{1}{2} \quad = (1)^2 \cdot (1 + 1)$$

$$\frac{1}{2} \quad = 2$$



(7 درجات)

تابع السؤال الأول :

(b) للمنحنى الذي معادلته $2\sqrt{y} + y = x$ أوجد:

(1) y'

(2) ميل المماس لهذا المنحنى عند النقطة (3, 1)

الحل :

$$\frac{1}{2} \quad 2y^{\frac{1}{2}} + y = x$$

بالاشتقاق الضمني

$$3 \quad 2 \cdot \frac{1}{2} y^{-\frac{1}{2}} y' + y' = 1$$

$$\frac{1}{2} \quad \frac{y'}{y^{\frac{1}{2}}} + y' = 1$$



$$\frac{1}{2} \quad y' \left(\frac{1}{\sqrt{y}} + 1 \right) = 1$$

$$\frac{1}{2} \quad y' = \frac{1}{\frac{1}{\sqrt{y}} + 1}$$

$$1 \quad y' = \frac{\sqrt{y}}{1 + \sqrt{y}}$$

بالتعويض ب (3, 1)

$$1 \quad \therefore y' = \frac{1}{1 + 1} = \frac{1}{2}$$

\therefore ميل المماس = $\frac{1}{2}$

14

السؤال الثاني :
(a) أوجد

(7 درجات)

$$\lim_{x \rightarrow \infty} \frac{\sqrt{2x^2 - x}}{x + 1}$$

الحل :

$$f(x) = \frac{\sqrt{2x^2 - x}}{x + 1}$$

$$= \frac{\sqrt{x^2(2 - \frac{1}{x})}}{x(1 + \frac{1}{x})}$$

$$= \frac{|x| \sqrt{2 - \frac{1}{x}}}{x(1 + \frac{1}{x})}$$

$$= \frac{x \sqrt{2 - \frac{1}{x}}}{x(1 + \frac{1}{x})}$$

$$= \frac{\sqrt{2 - \frac{1}{x}}}{1 + \frac{1}{x}} \quad : x \neq 0$$

$$\therefore \lim_{x \rightarrow \infty} (2 - \frac{1}{x}) = \lim_{x \rightarrow \infty} 2 - \lim_{x \rightarrow \infty} \frac{1}{x} = 2 - 0 = 2, \quad 2 > 0$$

$$\therefore \lim_{x \rightarrow \infty} \sqrt{2 - \frac{1}{x}} = \sqrt{\lim_{x \rightarrow \infty} (2 - \frac{1}{x})} = \sqrt{2}$$

$$\lim_{x \rightarrow \infty} (1 + \frac{1}{x}) = \lim_{x \rightarrow \infty} 1 + \lim_{x \rightarrow \infty} \frac{1}{x} = 1 + 0 = 1, \quad 1 \neq 0$$

$$\lim_{x \rightarrow \infty} f(x) = \lim_{x \rightarrow \infty} \frac{\sqrt{2 - \frac{1}{x}}}{(1 + \frac{1}{x})} = \frac{\lim_{x \rightarrow \infty} \sqrt{2 - \frac{1}{x}}}{\lim_{x \rightarrow \infty} (1 + \frac{1}{x})} = \frac{\sqrt{2}}{1} = \sqrt{2}$$



عندما $x > 0$ يكون $|x| = x$

(7 درجات)

تابع السؤال الثاني:

(b) أوجد عددين موجبين مجموعهما 20 وناتج ضربهما أكبر ما يمكن

الحل:

$\frac{1}{2}$
 $\frac{1}{2}$

بفرض أن أحد العددين x حيث $0 < x < 20$

∴ العدد الآخر هو $20 - x$

∴ حاصل ضربهما هو:

1

$$f(x) = x(20 - x)$$

$$f(x) = 20x - x^2$$

1

$$f'(x) = 20 - 2x$$

$\frac{1}{2}$
 $\frac{1}{2}$

$$f'(x) = 0$$

$\frac{1}{2}$
 $\frac{1}{2}$

$$\therefore 20 - 2x = 0$$

$$x = 10$$

∴ توجد نقطة حرجة عند $x = 10$

1

$$f''(x) = -2$$

$\frac{1}{2}$
 $\frac{1}{2}$

$$f''(10) = -2, \quad -2 < 0$$

$\frac{1}{2}$
 $\frac{1}{2}$

∴ توجد قيمة عظمى مطلقة عند $x = 10$

$\frac{1}{2}$
 $\frac{1}{2}$

∴ العدد الأول هو: $x = 10$

$\frac{1}{2}$
 $\frac{1}{2}$

العدد الثاني هو: $20 - x = 20 - 10 = 10$

∴ العددان هما 10 و 10

السؤال الثالث:

14

(a) ادرس تغير الدالة f : $f(x) = 1 - x^3$

ثم ارسم بياناتها

الحل:

f دالة كثيرة حدود مجالها \mathbb{R}
نوجد النهايات عند الحدود المفتوحة

$$\lim_{x \rightarrow -\infty} f(x) = \lim_{x \rightarrow -\infty} (-x^3) = \infty$$

$$\lim_{x \rightarrow \infty} f(x) = \lim_{x \rightarrow \infty} (-x^3) = -\infty$$

نوجد النقاط الحرجة حيث f دالة قابلة للاشتقاق على مجالها \mathbb{R}

$$f'(x) = -3x^2$$

$$f'(x) = 0$$

$$\therefore -3x^2 = 0$$

$$x = 0$$

$$f(0) = 1$$

نضع

$\therefore (0,1)$ نقطة حرجة

نكون جدول التغير لدراسة إشارة f'

	$-\infty$	0	∞
إشارة f'	---	---	---
سلوك الدالة f	متناقصة ∞ ↘		متناقصة ↘ $-\infty$

الدالة f متناقصة على الفترة $(-\infty, 0)$ وعلى الفترة $(0, \infty)$

لا توجد نقاط محلية عظمى أو نقاط محلية صغرى

نكون جدول التغير لدراسة إشارة f''

$$f''(x) = -6x$$

$$f''(x) = 0$$

$$-6x = 0 \rightarrow x = 0$$

$$f(0) = 1$$

نضع

	$-\infty$	0	∞
إشارة f''	+++	---	---
التقعر	U تقعر لأعلى		n تقعر لأسفل

$(0,1)$ نقطة انعطاف

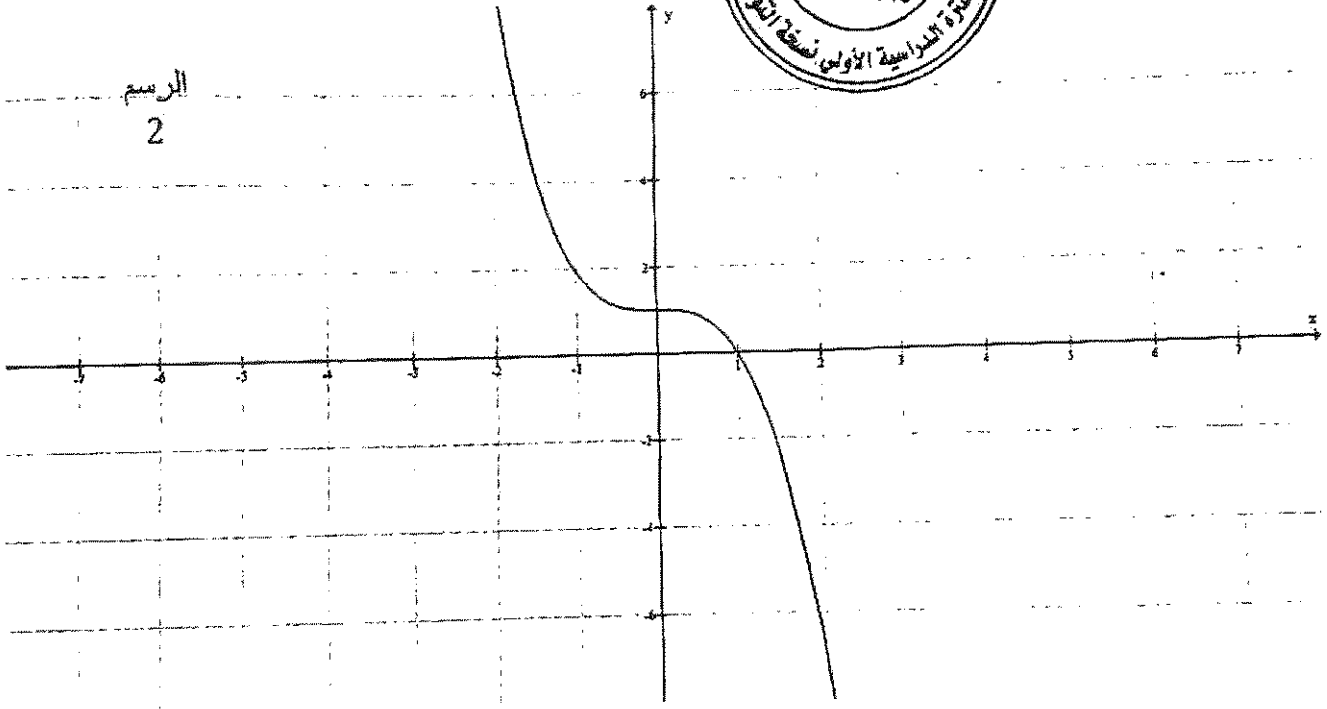
إجابة امتحان نهاية الفترة الدراسية الأولى للصف الثاني عشر علمي 2017 / 2018 م
المجال الدراسي / الرياضيات

نقاط اختيارية

x	-2	-1	0	1	2
$f(x)$	9	2	1	0	-7



الرسم
2



(5 درجات)

تابع السؤال الثالث:

(b) أخذت عينة عشوائية من مجتمع طبيعي حجمها $n = 25$ ، فإذا كان الانحراف المعياري للعينة (s) يساوي 10 ، ومتوسطها الحسابي (\bar{x}) يساوي 15 ، استخدم مستوى ثقة 95% لإيجاد:

(1) هامش الخطأ

(2) فترة الثقة للمتوسط الحسابي للمجتمع الإحصائي μ

الحل:

(1) $\because \sigma^2$ غير معلوم ، $n \leq 30$ ،

\therefore نستخدم توزيع t

$$\because n = 25$$

$\frac{1}{2}$

$$n - 1 = 25 - 1 = 24$$

درجات الحرية

$$1 - \alpha = 0.95$$

\therefore مستوى الثقة

$\frac{1}{2}$

$$\therefore \alpha = 0.05$$

معلق

من جدول توزيع

1

$$t_{\frac{\alpha}{2}} = 2.064$$

هامش الخطأ:

$$E = t_{\frac{\alpha}{2}} \cdot \frac{s}{\sqrt{n}}$$

1

$$= (2.064) \cdot \frac{10}{\sqrt{25}} = 4.128$$

(2) فترة الثقة:

2

$$(\bar{x} - E, \bar{x} + E)$$

$$= (15 - 4.128, 15 + 4.128)$$

$$= (10.872, 19.128)$$

14

السؤال الرابع:

(a) لتكن $f : f(x) = \sqrt{4 - x^2}$

ادرس اتصال الدالة f على $[-2, 2]$

(7 درجات)

الحل:

$\frac{1}{2}$

بفرض أن $f(x) = \sqrt{g(x)} : g(x) = 4 - x^2$

$\frac{1}{2}$

$D_f = \{x : g(x) \geq 0\}$

$\frac{1}{2}$

$4 - x^2 \geq 0$

$\frac{1}{2}$

$4 - x^2 = 0$

$\frac{1}{2}$

$(2 - x)(2 + x) = 0$

$x = 2$ أو $x = -2$

$\frac{1}{2}$



مجال الدالة هو: $[-2, 2]$

1

$\therefore g(x) \geq 0 \quad \forall x \in [-2, 2]$

1

g متصلة على $[-2, 2]$

1

\therefore الدالة f متصلة على $[-2, 2]$

1

تابع السؤال الرابع:

(7 درجات)

$$f(x) = \begin{cases} x - \frac{4}{x} & : x \geq 2 \\ x^2 - 4 & : x < 2 \end{cases}$$

(b) لتكن الدالة f :

أوجد $f'(x)$ وعين مجالها

الحل:

مجال f :


$$D_f = [2, \infty) \cup (-\infty, 2) = \mathbb{R}$$

$$f'(x) = \begin{cases} 1 + \frac{4}{x^2} & : x > 2 \\ \text{نبحث} & : x = 2 \\ 2x & : x < 2 \end{cases}$$

$$f(2) = 2 - 2 = 0$$

$$f'_-(2) = \lim_{x \rightarrow 2^-} \frac{f(x) - f(2)}{x - 2}$$

إن وجدت



$$f'_+(2) = \lim_{x \rightarrow 2^+} \frac{f(x) - f(2)}{x - 2}$$

$$= \lim_{x \rightarrow 2^+} \frac{x - \frac{4}{x} - 0}{x - 2} = \lim_{x \rightarrow 2^+} \frac{x^2 - 4}{x(x - 2)}$$

$$= \lim_{x \rightarrow 2^+} \frac{(x - 2)(x + 2)}{x(x - 2)} = \lim_{x \rightarrow 2^+} \frac{x + 2}{x} = 2 : \lim_{x \rightarrow 2^+} x = 2 \neq 0$$

$$\therefore f'_-(2) \neq f'_+(2)$$

$\therefore f'(2)$ غير موجودة

$$\therefore f'(x) = \begin{cases} 1 + \frac{4}{x^2} & : x > 2 \\ 2x & : x < 2 \end{cases}$$

مجال f' هو $\mathbb{R} - \{2\}$

جدول إجابة البنود الموضوعية



(1)	(a)	(b)	(c)	(d)
(2)	(a)	(b)	(c)	(d)

الدرجة: = 1 ×

(3)	(a)	(b)	(c)	(d)
(4)	(a)	(b)	(c)	(d)
(5)	(a)	(b)	(c)	(d)
(6)	(a)	(b)	(c)	(d)
(7)	(a)	(b)	(c)	(d)
(8)	(a)	(b)	(c)	(d)
(9)	(a)	(b)	(c)	(d)
(10)	(a)	(b)	(c)	(d)

الدرجة: = 1.5 ×

دولة الكويت

وزارة التربية

المجال الدراسي : الرياضيات
الزمن : ساعتان و 45 دقيقة
الأسئلة في 12 صفحة

إمتحان نهاية الفترة الدراسية الأولى للصف الثاني عشر علمي 2016 / 2017 م

القسم الأول : أسئلة المقال :

أجب عن الأسئلة التالية موضحا خطوات الحل في كل منها :

السؤال الأول :

(a) أوجد :

14

(6 درجات)

$$\lim_{x \rightarrow 0} \frac{\tan 2x + 3x \cos 4x}{5x}$$

الحل :

تابع السؤال الأول :

(b) أوجد :

(8 درجات)

$$\lim_{x \rightarrow -\infty} \frac{\sqrt{3x^2 - 5x + 1}}{3x - 5}$$

الحل :

14

السؤال الثاني

(a) ادرس إتصال الدالة f على $[1, 3]$ حيث :

(7 درجات)

$$f(x) = \begin{cases} -2 & : x = 1 \\ x^2 - 3 & : 1 < x < 3 \\ 5 & : x = 3 \end{cases}$$

الحل:

تابع السؤال الثاني :

(b) إذا كان : $y = x \sin x$

فأثبت أن : $y'' + y - 2 \cos x = 0$

(7 درجات)

الحل :

السؤال الثالث :

$$f(x) = x^3 - 3x + 2 : f \text{ بين أن الدالة } (a)$$

تحقق شروط نظرية القيمة المتوسطة على الفترة $[0, 4]$
ثم أوجد قيمة c التي تنبئ بها النظرية

(5 درجات)


الحل:

معلق

تابع السؤال الثالث :

(b) إدرس تغير الدالة f : $f(x) = 2x^2 - x^4 + 5$ ثم إرسم بيانها
(9 درجات)

الحل :



إمتحان نهاية الفترة الدراسية الأولى للصف الثاني عشر علمي 2016 / 2017 م
المجال الدراسي / الرياضيات

معلق

الرسم البياني

السؤال الرابع

14

(a) أوجد معادلة المماس لمنحنى الدالة $f : f(x) = \frac{3x-4}{x+2}$ عند $x = 0$

(8 درجات)

الحل:

تابع السؤال الرابع :

(b) يعتقد مدير شركة أن متوسط رواتب المستخدمين لديه 290 دينار ، فإذا أخذت عينة عشوائية من 10 مستخدمين و تبين أن متوسطها الحسابي $\bar{x} = 283$ دينار وإنحرافها المعياري $S = 32$ دينار . فهل يمكن الاعتماد على هذه العينة لتأكيد ما إفترضه باستخدام مستوى ثقة 95 % (علما بأن المجتمع يتبع التوزيع الطبيعي) (6 درجات)

الحل :

معلنة

القسم الثاني (الأسئلة الموضوعية) :

<p><u>أولا</u> : في البنود (1 - 2) ظلل في جدول الإجابة (a) إذا كانت العبارة صحيحة و (b) إذا كانت العبارة خاطئة</p>	
(1)	<p>إذا كانت الدالة f متصلة عند $[-3, 1]$ ، g دالة متصلة على $[-1, 3]$ فإن $f + g$ هي دالة متصلة عند $x = 0$</p>
(2)	<p>إذا كانت الدالة $f : f(x) = \sqrt{x + 3}$ فإن $f'(1) = \frac{1}{4}$</p>
<p><u>ثانيا</u> : في البنود (3 - 10) لكل بند أربع إختيارات واحد منها فقط صحيح اختر الإجابة الصحيحة ثم ظلل في جدول الإجابة الرمز الدال على الإجابة الصحيحة :</p>	
(3)	<p>$\lim_{x \rightarrow 3^-} \frac{5}{(x - 3)} =$</p> <p>(a) ∞ (b) $-\infty$ (c) 5 (d) 0</p>
(4)	<p>إذا كانت :</p> $\lim_{x \rightarrow \infty} \frac{ax^2 + bx + 3}{2x + 5} = 3$ <p>فإن قيم الثابتين a, b هما :</p> <p>(a) $a = 0, b = 6$ (b) $a = 0, b = -6$ (c) $a = 0, b = 2$ (d) $a = 0, b = -2$</p>
(5)	<p>الدالة المتصلة عند $x = 2$ فيما يلي هي</p> <p>(a) $f(x) = \sqrt{x - 2}$ (b) $g(x) = x - 2$ (c) $h(x) = \frac{1}{x - 2}$ (b) $k(x) = \frac{x - 2}{x^2 - 4}$</p>
(6)	<p>إذا كانت الدالة $f : f(x) = 3x + \tan x$ فإن $f'(0)$ تساوي</p> <p>(a) 0 (b) 1 (c) 3 (d) 4</p>

<p>(7) الدالة $f : f(x) = x^2 - 1$ لها :</p> <p>(a) قيمة صغرى مطلقة (b) قيمة عظمى مطلقة (c) نقطتان حرجتان فقط (d) ليس أيًا مما سبق</p>	
<p>(8) إذا كانت الدالة $f' : f'(x) = -3x$ فإن الدالة f</p> <p>(a) متزايدة على الفترة $(0, \infty)$ (b) متزايدة على مجال تعريفها (c) متزايدة على الفترة $(-\infty, 0)$ ، متناقصة على الفترة $(0, \infty)$ (d) متناقصة على الفترة $(-\infty, 0)$</p>	
<p>(9) للدالة $f : f(x) = \sqrt[3]{x-1}$ مماس رأسي معادلته :</p> <p>(a) $x = 0$ (b) $x = 1$ (c) $y = 0$ (d) $y = 1$</p>	
<p>(10) في دراسة لمجتمع إحصائي تبين أن متوسطه الحسابي $\mu = 125$ أخذت عينة من هذا المجتمع حجمها $n = 36$ فتبين أن متوسطها الحسابي $\bar{x} = 130$ إذا كان المقياس الإحصائي $= 3.125$ تحت مستوى ثقة 95% يساوي</p> <p>(a) -9.6 (b) 9.6 (c) 9.6 (d) -6.9</p>	

انتهت الأسئلة ،،،

القسم الأول : أسئلة المقال :

أجب عن الأسئلة التالية موضحا خطوات الحل في كل منها :

السؤال الأول :

(a) أوجد :

14

(6 درجات)

$$\lim_{x \rightarrow 0} \frac{\tan 2x + 3x \cos 4x}{5x}$$

الحل :

$$\frac{\tan 2x + 3x \cos 4x}{5x} = \frac{\tan 2x}{5x} + \frac{3x \cos 4x}{5x} \quad [2]$$

$$= \frac{\tan 2x}{5x} + \frac{3}{5} \cos 4x, \quad x \neq 0 \quad [0.5]$$

$$\lim_{x \rightarrow 0} \left(\frac{\tan 2x}{5x} \right) = \frac{2}{5} \quad [1]$$

$$\lim_{x \rightarrow 0} \left(\frac{3x \cos 4x}{5x} \right) = \frac{3}{5} \lim_{x \rightarrow 0} \cos 4x = \frac{3}{5} (1) = \frac{3}{5} \quad [1]$$

$$\lim_{x \rightarrow 0} \left(\frac{\tan 2x + 3x \cos 4x}{5x} \right) = \lim_{x \rightarrow 0} \left(\frac{\tan 2x}{5x} + \frac{3}{5} \cos 4x \right) \quad [0.5]$$

$$= \lim_{x \rightarrow 0} \left(\frac{\tan 2x}{5x} \right) + \frac{3}{5} \lim_{x \rightarrow 0} (\cos 4x) \quad [0.5]$$

$$= \frac{2}{5} + \frac{3}{5} = 1 \quad [0.5]$$

تدعى الحلول الصحيحة الأخرى في جميع الأسئلة المقالية (



تابع السؤال الأول :

(8 درجات)

(b) أوجد :

$$\lim_{x \rightarrow -\infty} \frac{\sqrt{3x^2 - 5x + 1}}{3x - 5}$$

الحل :

$$f(x) = \frac{\sqrt{3x^2 - 5x + 1}}{3x - 5} = \frac{\sqrt{x^2(3 - \frac{5}{x} + \frac{1}{x^2})}}{x(3 - \frac{5}{x})} \quad [1]$$

$$= \frac{|x| \sqrt{3 - \frac{5}{x} + \frac{1}{x^2}}}{x(3 - \frac{5}{x})} \quad , \quad |x| = -x \text{ يكون } x < 0 \text{ عندما} \quad [0.5]$$

$$= \frac{-x \sqrt{3 - \frac{5}{x} + \frac{1}{x^2}}}{x(3 - \frac{5}{x})} = -\frac{\sqrt{3 - \frac{5}{x} + \frac{1}{x^2}}}{3 - \frac{5}{x}} \quad , x \neq 0 \quad [1]$$

$$\lim_{x \rightarrow -\infty} \left(3 - \frac{5}{x} + \frac{1}{x^2} \right) = \lim_{x \rightarrow -\infty} 3 - \lim_{x \rightarrow -\infty} \frac{5}{x} + \lim_{x \rightarrow -\infty} \frac{1}{x^2} = 3 - 0 + 0 = 3 \quad , 3 > 0 \quad [1.5]$$

$$\lim_{x \rightarrow -\infty} \sqrt{3 - \frac{5}{x} + \frac{1}{x^2}} = \sqrt{\lim_{x \rightarrow -\infty} \left(3 - \frac{5}{x} + \frac{1}{x^2} \right)} = \sqrt{3} \quad [1]$$

$$\lim_{x \rightarrow -\infty} \left(3 - \frac{5}{x} \right) = \lim_{x \rightarrow -\infty} 3 - \lim_{x \rightarrow -\infty} \frac{5}{x} = 3 - 0 = 3 \quad , \quad 3 \neq 0 \quad [1.5]$$

$$\lim_{x \rightarrow -\infty} \frac{\sqrt{3x^2 - 5x + 1}}{3x - 5} = \lim_{x \rightarrow -\infty} \frac{-\sqrt{3 - \frac{5}{x} + \frac{1}{x^2}}}{3 - \frac{5}{x}}$$

$$= \frac{-\lim_{x \rightarrow -\infty} \sqrt{3 - \frac{5}{x} + \frac{1}{x^2}}}{\lim_{x \rightarrow -\infty} \left(3 - \frac{5}{x} \right)} = \frac{-\sqrt{3}}{3} = \frac{-1}{\sqrt{3}} \quad [1.5]$$



السؤال الثاني

(a) إدرس إتصال الدالة f على $[1, 3]$ حيث :

(7 درجات)

$$f(x) = \begin{cases} -2 & : x = 1 \\ x^2 - 3 & : 1 < x < 3 \\ 5 & : x = 3 \end{cases}$$

الحل:

$$f(x) = x^2 - 3 \quad : x \in (1,3)$$

$$\forall c \in (1,3), \quad f(c) = c^2 - 3 \quad [0.5]$$

$$\lim_{x \rightarrow c} f(x) = \lim_{x \rightarrow c} (x^2 - 3) = c^2 - 3 \quad [0.5]$$

$$\Rightarrow \lim_{x \rightarrow c} f(x) = f(c) \quad \forall x \in (1,3) \quad [0.5]$$

$$(1) \dots \dots \dots (1,3) \text{ على } f \text{ متصله على } \therefore [0.5]$$

ندرس إتصال الداله f عند $x = 1$ من اليمين

$$f(1) = -2 \quad [0.5]$$

$$\lim_{x \rightarrow 1^+} f(x) = \lim_{x \rightarrow 1^+} (x^2 - 3) \quad [0.5]$$

$$= 1 - 3 = -2 = f(1) \quad [0.5]$$

$$(2) \dots \dots \dots \text{ الداله } f \text{ متصله عند } x = 1 \text{ من اليمين } [0.5]$$

ندرس إتصال الداله f عند $x = 3$ من اليسار

$$f(3) = 5 \quad [0.5]$$

$$\lim_{x \rightarrow 3^-} f(x) = \lim_{x \rightarrow 3^-} (x^2 - 3) \quad [0.5]$$

$$= 9 - 3 = 6 \neq f(3) \quad [0.5]$$

$$(3) \dots \dots \dots \text{ الداله } f \text{ غير متصله عند } x = 3 \text{ من اليسار } [0.5]$$

[1] من (1)، (2)، (3) f ليست متصله على $[1, 3]$ و لكنها متصله على $[1, 3)$



تابع السؤال الثاني :

$$y = x \sin x \quad : \text{ إذا كانت } (b)$$

$$y'' + y - 2 \cos x = 0 \quad : \text{ فأثبت أن}$$

(7 درجات)

الحل :

$$y = x \sin x$$

$$y' = \sin x \cdot (x)' + x \cdot (\sin x)' = \sin x + x \cos x \quad [3]$$

$$y'' = \cos x + \cos x \cdot (x)' + x \cdot (\cos x)' \quad [1.5]$$

$$= \cos x + \cos x + x \cdot (-\sin x) = 2\cos x - x \sin x \quad [1]$$

$$y'' + y - 2 \cos x = 2\cos x - x \sin x + x \sin x - 2 \cos x \quad [1]$$

$$= 0 \quad [0.5]$$



14

السؤال الثالث :

$$f(x) = x^3 - 3x + 2 : f \text{ بين أن الدالة } (a)$$

تحقق شروط نظرية القيمة المتوسطة على الفترة $[0, 4]$
ثم أوجد قيمة c التي تنبئ بها النظرية

(5 درجات)

الحل:

f دالة كثيرة حدود متصلة على \mathbb{R} وبالتالي فهي متصلة على الفترة $[0, 4]$ [0.5]

وقابلة للاشتقاق على $(0, 4)$ [0.5]

∴ شروط نظرية القيمة المتوسطة محققة على الفترة $[0, 4]$ ∴ يوجد على الأقل $c \in (0, 4)$ بحيث: [0.5]

$$f'(c) = \frac{f(b) - f(a)}{b - a} \quad [0.5]$$

$$= \frac{f(4) - f(0)}{4 - 0}$$



[0.5]

[0.5]

$$f'(x) = 3x^2 - 3, \quad f'(c) = 3c^2 - 3 \quad [0.5]$$

$$\therefore 3c^2 - 3 = \frac{54 - 2}{4} \quad [0.5]$$

$$3c^2 - 3 = 13 \Rightarrow 3c^2 = 16 \Rightarrow c^2 = \frac{16}{3} \quad [0.5]$$

$$\Rightarrow c = \frac{\pm 4}{\sqrt{3}}$$

$$c = \frac{-4}{\sqrt{3}} \notin (0, 4)$$

$$\therefore c = \frac{4}{\sqrt{3}} \in (0, 4) \quad [0.5]$$



تابع السؤال الثالث :

$$f(x) = 2x^2 - x^4 + 5 \quad : \quad f \text{ (b) ادرس تغير الدالة}$$

وارسم بيانها

(9 درجات)

الحل:

f دالة كثيرة حدود مجالها $\mathbb{R} = (-\infty, \infty)$

توجد النهايات عند الحدود المفتوحة

$$\lim_{x \rightarrow -\infty} f(x) = \lim_{x \rightarrow -\infty} (-x^4) = -\infty, \quad \lim_{x \rightarrow \infty} f(x) = \lim_{x \rightarrow \infty} (-x^4) = -\infty \quad [0.5]$$


توجد النقاط الحرجة للدالة f

f دالة كثيرة حدود فهي متصلة على \mathbb{R} وقابلة للاشتقاق على \mathbb{R}

$$f'(x) = 4x - 4x^3$$

$$f'(x) = 0 \Rightarrow 4x - 4x^3 = 0$$

$$4x = 0 \Rightarrow x = 0$$



$$-x)(1+x) = 0$$

$$x = 1 \Rightarrow f(2) = 2(1)^2 - (1)^4 + 5 = 6$$

$(1,6)$ نقطة حرجة [0.5]

$$x = -1 \Rightarrow f(-1) = 2(-1)^2 - (-1)^4 + 5 = 6$$

$(-1,6)$ نقطة حرجة [0.5]

نكون الجدول لدراسة إشارة f' : [2]

	$-\infty$	-1	0	1	∞
الفترات	$(-\infty, -1)$	$(-1, 0)$	$(0, 1)$	$(1, \infty)$	
إشارة f'	+++	---	+++	---	
سلوك الدالة	$\nearrow \nearrow$	$\searrow \searrow$	$\nearrow \nearrow$	$\searrow \searrow$	

من الجدول :

f متزايدة على كلا من الفترتين $(-\infty, -1)$, $(0, 1)$, f متناقصة على كلا من الفترتين $(-1, 0)$, $(1, \infty)$



نستطيع أن نلاحظ من الجدول أنه توجد قيمة صغرى محلية عند $x = 0$ وقيمتها $f(0) = 5$

وتوجد قيمة عظمى محلية عند $x = -1$ وقيمتها $f(-1) = 6$

وتوجد قيمة عظمى محلية عند $x = 1$ وقيمتها $f(1) = 6$
نكون الجدول لدراسة إشارة f'' :

$$f''(x) = 4 - 12x^2 \quad [0.5]$$

$$f''(x) = 0 \quad \text{نضع}$$

$$4 - 12x^2 = 0 \Rightarrow 12x^2 = 4 \Rightarrow x^2 = \frac{4}{12} \Rightarrow x^2 = \frac{1}{3} \Rightarrow x = \pm \frac{1}{\sqrt{3}}$$

$$x = \frac{1}{\sqrt{3}} \Rightarrow f\left(\frac{1}{\sqrt{3}}\right) = 2\left(\frac{1}{\sqrt{3}}\right)^2 - \left(\frac{1}{\sqrt{3}}\right)^4 + 5 = 5\frac{5}{9} \quad [0.5]$$

$$x = -\frac{1}{\sqrt{3}} \Rightarrow f\left(-\frac{1}{\sqrt{3}}\right) = 2\left(-\frac{1}{\sqrt{3}}\right)^2 - \left(-\frac{1}{\sqrt{3}}\right)^4 + 5 = 5\frac{5}{9} \quad [0.5]$$

	$-\infty$	$-\frac{1}{\sqrt{3}}$	$\frac{1}{\sqrt{3}}$	∞
الفترات	$(-\infty, -\frac{1}{\sqrt{3}})$	$(-\frac{1}{\sqrt{3}}, \frac{1}{\sqrt{3}})$	$(\frac{1}{\sqrt{3}}, \infty)$	
إشارة f''	$- + + +$	$- + +$	$+ + + - - -$	
بيان الدالة f				

[1.5]

معلق

من الجدول نجد أن :
بيان الدالة f مقعر للأعلى

بيان الدالة f مقعر للأسفل على الفترة $(-\frac{1}{\sqrt{3}}, \frac{1}{\sqrt{3}})$

✓ النقطة $(-\frac{1}{\sqrt{3}}, 5\frac{5}{9})$ نقطة انعطاف

— النقطة $(\frac{1}{\sqrt{3}}, 5\frac{5}{9})$ نقطة انعطاف



السؤال الرابع

14

(a) أوجد معادلة المماس لمنحنى الدالة f : $f(x) = \frac{3x-4}{x+2}$ عند $x = 0$ (8 درجات)

الحل:

$$f(0) = \frac{0-4}{0+2} = \frac{-4}{2} = -2 \quad [0.5]$$

$$f'(x) = \frac{(x+2) \cdot (3x-4)' - (x+2)' \cdot (3x-4)}{(x+2)^2}$$

$$= \frac{(x+2) \cdot (3) - (1) \cdot (3x-4)}{(x+2)^2} \quad [3]$$

$$= \frac{10}{(x+2)^2} \quad [1]$$

ميل المماس :

$$m = f'(a) = f'(0) = \frac{10}{(0+2)^2} = \frac{10}{4} = \frac{5}{2} \quad [1.5]$$

فتكون معادلة المماس هي

$$y - f(a) = f'(a) (x - a) \quad [1]$$

$$y - (-2) = \frac{5}{2} (x - 0) \quad [0.5]$$

$$2y + 4 = 5x \quad [0.5]$$

$$2y - 5x + 4 = 0$$



تابع السؤال الرابع :

(b) يعتقد مدير شركة أن متوسط رواتب المستخدمين لديه 290 دينار ، فإذا أخذت عينة عشوائية من 10 مستخدمين و تبين أن متوسطها الحسابي $\bar{x} = 283$ دينار وانحرافها المعياري $S = 32$ دينار . فهل يمكن الإعتماد على هذه العينة لتأكيد ما افترضه باستخدام مستوى ثقة 95 % (علما بأن المجتمع يتبع التوزيع الطبيعي) (6 درجات)

الحل :

$$S = 32 , n = 10 , \bar{x} = 283$$

① صياغة الفروض الإحصائية


$$H_0 : \mu = 290 \quad \text{مقابل} \quad H_1 : \mu \neq 290 \quad [0.5]$$

② نوجد المقياس الإحصائي

$$\because \sigma \text{ غير معلوم ، } n \leq 30 \quad [0.5]$$

$$\therefore t = \frac{\bar{x} - \mu}{\frac{S}{\sqrt{n}}} = \frac{283 - 290}{\frac{32}{\sqrt{10}}} \approx -0.6917 \quad [1.5]$$

$$\because n = 10 \quad [0.5]$$



$$\therefore \alpha = 0.05 \Rightarrow \frac{\alpha}{2} = 0.025 \quad [0.5]$$

من جدول توزيع t نجد :

$$t_{\frac{\alpha}{2}} = t_{0.025} = 2.262 \quad [0.5]$$

$$(-t_{\frac{\alpha}{2}}, t_{\frac{\alpha}{2}}) = (-2.262, 2.262) \quad [1] \quad \text{منطقة القبول} \quad ④$$

⑤ اتخاذ القرار الإحصائي :

$$\because -0.6917 \in (-2.262, 2.262) \quad [0.5]$$

$$\therefore \text{القرار بقبول فرض العدم } \mu = 290 \quad [0.5]$$



أولاً : في البنود (2 - 1) ظلل في جدول الإجابة (a) إذا كانت العبارة صحيحة و (b) إذا كانت العبارة خاطئة

(1) إذا كانت الدالة f متصلة على $[-3, 1]$ ، g دالة متصلة على $[-1, 3]$ فإن $f + g$ هي دالة متصلة عند $x = 0$

(2) إذا كانت الدالة $f : f(x) = \sqrt{x+3}$ فإن $f'(1) = \frac{1}{4}$

ثانياً : في البنود (10 - 3) لكل بند أربع إختيارات واحد منها فقط صحيح اختر الإجابة الصحيحة ثم ظلل في جدول الإجابة الرمز الدال على الإجابة الصحيحة :

(3) $\lim_{x \rightarrow 3^-} \frac{5}{(x-3)} =$

(a) ∞

(c) 5



(a) 0

(4) إذا كانت :

$$\lim_{x \rightarrow \infty} \frac{ax^2 + bx + 3}{2x + 5} = 3$$

فإن قيم الثابتين a, b هما :

(a) $a = 0, b = 6$

(b) $a = 0, b = -6$

(c) $a = 0, b = 2$

(d) $a = 0, b = -2$

(5) الدالة المتصلة عند $x = 2$ فيما يلي هي

(a) $f(x) = \sqrt{x-2}$

(b) $g(x) = |x-2|$

(c) $h(x) = \frac{1}{x-2}$

(d) $k(x) = \frac{x-2}{x^2-4}$

(6) إذا كانت الدالة $f : f(x) = 3x + \tan x$ ، فإن $f'(0)$ تساوي

(a) 0

(b) 1

(c) 3

(d) 4



<p>(7) الدالة $f : f(x) = x^2 - 1$ لها</p> <p>(a) قيمة صغرى مطلقة</p> <p>(c) نقطتان حرجتان فقط</p> <p>(a) ليس أيًا مما سبق</p>	<p>معلق</p>	<p>(a)</p>
<p>(8) إذا كانت الدالة $f' : f'(x) = -3x$ فإن الدالة f</p> <p>(a) متزايدة على الفترة $(0, \infty)$</p> <p>(b) متزايدة على مجال تعريفها</p> <p>(c) متزايدة على الفترة $(-\infty, 0)$ ، متناقصة على الفترة $(0, \infty)$</p> <p>(d) متناقصة على الفترة $(-\infty, 0)$</p>	<p>معلق</p>	<p>(c)</p>
<p>(9) للدالة $f : f(x) = \sqrt[3]{x-1}$ مماس رأسي معادلته :</p> <p>(a) $x = 0$</p> <p>(c) $y = 0$</p>	<p>(b) $x = 1$</p> <p>(d) $y = 1$</p>	<p>(b)</p>
<p>(10) في دراسة لمجتمع إحصائي تبين أن متوسطه الحسابي $\mu = 125$ أخذت عينة من هذا المجتمع حجمها $n = 36$ فتبين أن متوسطها الحسابي $\bar{x} = 130$ إذا كان المقياس الإحصائي $= 3.125$ تحت مستوى ثقة 95% يساوي</p> <p>(a) -9.6</p> <p>(c) 9.6</p>	<p>معلق</p>	<p>(c)</p>

إنتهت الأسئلة ...

$$z = \frac{130 - 125}{\frac{3.125}{\sqrt{36}}} = \frac{5}{0.5208} = 9.6$$



جدول الإجابة

(1)	<input checked="" type="checkbox"/>	(b)	(c)	(d)
(2)	<input checked="" type="checkbox"/>	(b)	(c)	(d)

الدرجة : = 1 ×

(3)	(a)	<input checked="" type="checkbox"/>	(c)	(d)
(4)	<input checked="" type="checkbox"/>	(b)	(c)	(d)
(5)	(a)	<input checked="" type="checkbox"/>	(c)	(d)
(6)	(a)	(b)	(c)	<input checked="" type="checkbox"/>
(7)	<input checked="" type="checkbox"/>	(b)	(c)	(d)
(8)	(a)	(b)	<input checked="" type="checkbox"/>	(d)
(9)	(a)	<input checked="" type="checkbox"/>	(c)	(d)
(10)	(a)	(b)	<input checked="" type="checkbox"/>	(d)

الدرجة : = 1.5 ×

14

الدرجة :



دولة الكويت

وزارة التربية

امتحان نهاية الفترة الدراسية الثانية للصف الثاني عشر علمي 2015 / 2016 م
المجال الدراسي : الرياضيات الزمن : ساعتان و 45 دقيقة الأسئلة في 12 صفحة

القسم الأول : أسئلة المقال :

أجب عن الأسئلة التالية موضحا خطوات الحل في كل منها :

السؤال الأول :

(a) أوجد :

10

(6 درجات)

$$\lim_{x \rightarrow \infty} \frac{\sqrt{x^2 - 3x}}{x - 3}$$

تابع السؤال الأول :

(4 درجات)

(b) أوجد ميل المماس $(\frac{dy}{dx})$ للمنحنى الذي معادلته :

$$2y = x^2 - \cos y \quad \text{عند النقطة } A(1,0)$$

10

(4 درجات)

السؤال الثاني
(a) أوجد :

$$\lim_{x \rightarrow 0} \frac{x \sin x}{\cos x - 1}$$


تابع السؤال الثاني :

(b) ادرس تغير الدالة f : $f(x) = 2x^3 - 6x + 1$

(6 درجات)

ثم ارسم بيانها

ورقة الرسم البياني



10

السؤال الثالث :

(a) لتكن الدالة $f : f(x) = x^2 - 3x$ ، الدالة $g : g(x) = \sqrt{x}$

(4 درجات)

ابحث إتصال الدالة (gof) عند $x = -1$

تابع السؤال الثالث :

(b) إذا كانت الدالة f متصلة على $[1, 4]$: $f(x) = x + \frac{4}{x}$

(6 درجات)

أوجد القيم القصوى المطلقة للدالة في الفترة $[1, 4]$

السؤال الرابع

10

$$f(x) = \begin{cases} x^2 + 1 & : x < 1 \\ 2\sqrt{x} & : x \geq 1 \end{cases} \quad (a) \text{ لتكن الدالة } f :$$

(6 درجات)

دالة متصلة على مجالها ، أوجد $f'(x)$ إن أمكن

تابع السؤال الرابع :

(b) أخذت عينه عشوائية من مجتمع طبيعي حجمها $n=81$ ومتوسطها الحسابي هو $\bar{x} = 50$ وانحرافها المعياري $S=9$ باستخدام مستوى ثقة 95%

(1) أوجد هامش الخطأ

(2) أوجد فترة الثقة للمتوسط الحسابي للمجتمع الإحصائي μ

(4 درجات)

(3) فسر فترة الثقة

معلق

القسم الثاني (الأسئلة الموضوعية) :

أولاً : في البنود (1-3) ظلل في جدول الإجابة (a) إذا كانت العبارة صحيحة و (b) إذا كانت العبارة خاطئة

(1) $\lim_{x \rightarrow -\infty} \frac{x}{|2x-3|} = \frac{1}{2}$

(2) إذا كانت f دالة متصلة على $[-2, 3]$ فإن $\lim_{x \rightarrow -2^+} f(x) = f(-2)$

(3) إذا كانت الدالة $f : \mathbb{R} \rightarrow \mathbb{R}$ هي $f(x) = \begin{cases} x^2 + 2x & : x \geq 1 \\ 4x - 1 & : x < 1 \end{cases}$ فإن مجال f' هو \mathbb{R}

ثانياً : في البنود (4-10) لكل بند أربع إختيارات واحد منها فقط صحيح اختر الإجابة الصحيحة ثم ظلل في جدول الإجابة الرمز الدال على الإجابة الصحيحة :

(4) $\lim_{x \rightarrow 4} \frac{\sqrt{x}-2}{x-4}$ هي :

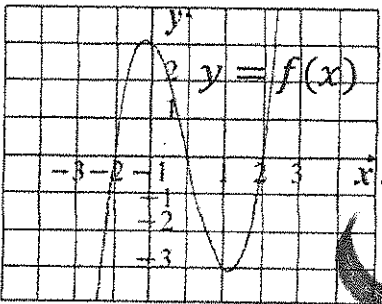
- (a) 0
(b) $-\frac{1}{4}$
(c) $\frac{1}{4}$
(d) غير موجوده

(5) إذا كانت الدالة $f : \mathbb{R} \rightarrow \mathbb{R}$ هي $f(x) = \begin{cases} \frac{\sqrt{x+4}-2}{x} & : x \neq 0 \\ a & : x = 0 \end{cases}$ متصلة عند $x = 0$ فإن a تساوي

- (a) 4
(b) $-\frac{1}{4}$
(c) -4
(d) $\frac{1}{4}$

(6) إن الدالة $f : \mathbb{R} \rightarrow \mathbb{R}$ هي $f(x) = x + \sqrt{x^2} + 2$ ليست قابلة للإشتقاق عند $x = 0$ لوجود

- (a) مماس عمودي
(b) انفصال
(c) ناب
(d) ركن

<p>(7) إذا كانت : $y = \frac{4}{3\pi} \sin 3t - \frac{4}{5\pi} \cos 5t$ فإن $\frac{dy}{dt}$ تساوي</p> <p>(a) $\frac{4}{\pi} \cos 3t + \frac{4}{\pi} \sin 5t$ (b) $\frac{4}{\pi} \sin 3t - \frac{4}{\pi} \cos 5t$</p> <p>(c) $\frac{4}{\pi} \cos 3t - \frac{4}{\pi} \sin 5t$ (d) $\frac{4}{\pi} \cos 3t - \frac{4}{\pi} \sin 3t$</p>	
<p>(8) عدد النقاط الحرجة للدالة : $y = 3x^3 - 9x - 4$ على الفترة (0, 2) يساوي</p> <p>(a) 0 (b) 1</p> <p>(c) 2 (d) 3</p>	
<p>(9) إذا كان بيان الدالة f ممثلاً بالشكل المقابل : فإن $f''(x) < 0$ في الفترة</p>  <p>(a) $(-\infty, 0)$ (b) $(0, \infty)$</p> <p>(c) $(-1, 1)$ (d) $(-\infty, 1)$</p>	
<p>(10) إذا كان القرار رفض فرض العدم و كانت فترة الثقة هي : $(-1.96, 1.96)$ فإن قيمة الإختبار z يمكن أن تكون :</p> <p>(a) 1.5 (b) 1.7</p> <p>(c) -1.5 (d) -2.5</p>	

انتهت الأسئلة ،،،

القسم الأول : أسئلة المقال :
أجب عن الأسئلة التالية موضحا خطوات الحل في كل منها :

السؤال الأول :

(a) أوجد :

$$\lim_{x \rightarrow \infty} \frac{\sqrt{x^2 - 3x}}{x - 3}$$

(6 درجات)



الحل :

$$1 \quad \frac{\sqrt{x^2 - 3x}}{x - 3} = \frac{\sqrt{x^2(1 - \frac{3}{x})}}{x(1 - \frac{3}{x})} = \frac{|x| \sqrt{1 - \frac{3}{x}}}{x(1 - \frac{3}{x})} \quad \text{عندما } x > 0 \text{ يكون } |x| = x$$

$$1 \quad \frac{x \sqrt{1 - \frac{3}{x}}}{x(1 - \frac{3}{x})} = \frac{\sqrt{1 - \frac{3}{x}}}{(1 - \frac{3}{x})}$$

$$1 \quad \lim_{x \rightarrow \infty} \left(1 - \frac{3}{x}\right) = \lim_{x \rightarrow \infty} 1 - \lim_{x \rightarrow \infty} \frac{3}{x} = 1 - 0 = 1, 1 \neq 0$$

$$1 \quad \lim_{x \rightarrow \infty} \left(1 - \frac{3}{x}\right) = 1, 1 > 0$$

$$0.5 \quad \lim_{x \rightarrow \infty} \sqrt{1 - \frac{3}{x}} = \sqrt{\lim_{x \rightarrow \infty} \left(1 - \frac{3}{x}\right)} = \sqrt{1} = 1$$

$$1.5 \quad \lim_{x \rightarrow \infty} \frac{\sqrt{x^2 - 3x}}{x - 3} = \lim_{x \rightarrow \infty} \frac{\sqrt{1 - \frac{3}{x}}}{(1 - \frac{3}{x})} = \frac{\lim_{x \rightarrow \infty} \sqrt{1 - \frac{3}{x}}}{\lim_{x \rightarrow \infty} (1 - \frac{3}{x})} = \frac{1}{1} = 1$$

تراجعى الحلول الصحيحة الأخرى في جميع الأسئلة المقالية

تابع السؤال الأول :

(b) أوجد ميل المماس $(\frac{dy}{dx})$ للمنحنى الذي معادلته :
 $2y = x^2 - \cos y$ عند النقطة $A(1, 0)$

الحل :

(4 درجات)

2	$2y = x^2 - \cos y$
0.5	$2y' = 2x - y'(-\sin y)$
0.5	$2y' = 2x + y' \sin y$
1	$2y' - y' \sin y = 2x$
	$y'(2 - \sin y) = 2x$
	$y' = \frac{2x}{2 - \sin y}$



ميل المماس للمنحنى عند النقطة $A(1, 0)$ هو :

$$m = y' \Big|_{x=1, y=0} = \frac{2}{2 - \sin 0} = 1$$

أو

$$2y' = 2(1) + y' \sin(0) \quad (1)$$

$$2y' = 2 + 0 \quad (2)$$

$$y' = 1 \quad (3)$$

10

السؤال الثاني
(a) أوجد :

$$\lim_{x \rightarrow 0} \frac{x \sin x}{\cos x - 1}$$

الحل :

(4 درجات)

$$0.5 \quad \lim_{x \rightarrow 0} \left(\frac{x \sin x}{\cos x - 1} \right) = \lim_{x \rightarrow 0} \left(\left(\frac{x \sin x}{\cos x - 1} \right) \left(\frac{\cos x + 1}{\cos x + 1} \right) \right)$$

$$0.5 \quad = \lim_{x \rightarrow 0} \left(\frac{x \sin x (\cos x + 1)}{\cos^2 x - 1} \right)$$

$$0.5 \quad = \lim_{x \rightarrow 0} \left(\frac{x \sin x (\cos x + 1)}{-\sin^2 x} \right)$$

$$0.5 \quad = \lim_{x \rightarrow 0} \left(\left(\frac{-x}{\sin x} \right) (\cos x + 1) \right)$$

$$0.5 \quad = -\lim_{x \rightarrow 0} \left(\frac{x}{\sin x} \right) \cdot \lim_{x \rightarrow 0} (\cos x + 1)$$

$$0.5 + 0.5 \quad = -1 \cdot (\lim_{x \rightarrow 0} (\cos x) + \lim_{x \rightarrow 0} (1))$$

$$0.5 \quad = -1(1 + 1)$$



تابع السؤال الثاني :

$$f(x) = 2x^3 - 6x + 1 : f \text{ (b) إدرس تغير الدالة}$$

ثم إرسم بياتها

الحل :

(6 درجات)

f دالة كثيرة حدود مجالها \mathbb{R}
توجد النهايات عند الحدود المفتوحة

$$0.5 \quad \lim_{x \rightarrow -\infty} f(x) = \lim_{x \rightarrow -\infty} (2x^3) = -\infty$$

$$\lim_{x \rightarrow \infty} f(x) = \lim_{x \rightarrow \infty} (2x^3) = \infty$$

توجد النقاط الحرجة للدالة f

$$0.5 \quad f'(x) = 6x^2 - 6$$

$$0.5 \quad f'(x) = 0$$

$$0.5 \quad 6x^2 - 6 = 0 \Rightarrow 6(x^2 - 1) = 0 \Rightarrow x^2 = 1 \Rightarrow x = 1, x = -1$$

$$x = 1 \Rightarrow f(1) = -3$$

$$x = -1 \Rightarrow f(-1) = 5$$



∴ نقطة حرجة $(1, -3)$

∴ نقطة حرجة $(-1, 5)$

نكون الجدول لدراسة إشارة f' :

	$-\infty$	-1	1	∞
0.5 الفترات	$(-\infty, -1)$		$(-1, 1)$	$(1, \infty)$
0.5 إشارة f'	+++		---	+++
0.5 سلوك الدالة f	↗↗		↘↘	↗↗

منحنى الدالة f متناقص على الفترة $(-1, 1)$

و متزايد على كلا من الفترة $(1, \infty)$ و الفترة $(-\infty, -1)$

نقطة عظمى محلية $(-1, 5)$

نقطة صغرى محلية $(1, -3)$

نكون الجدول لدراسة إشارة f'' :

$$f''(x) = 12x$$

$$f''(x) = 0 \text{ نضع}$$

$$12x = 0$$

$$x = 0$$

$$f(0) = 1$$



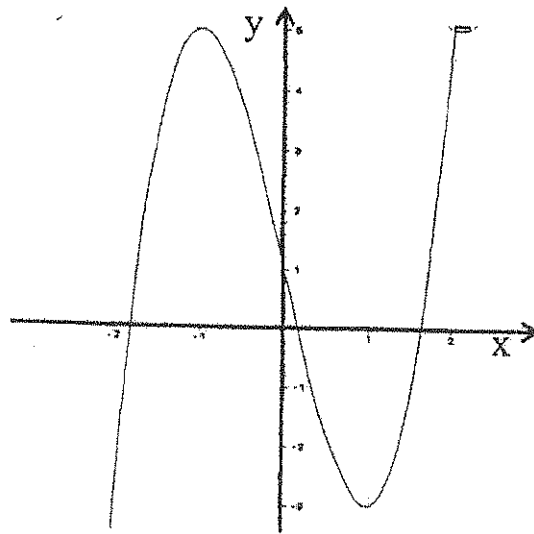
الفترة	$(-\infty, 0)$	$(0, \infty)$
إشارة f''	- - -	+ + +
التقعر	مقعر لأسفل	مقعر لأعلى

من الجدول نجد أن :

بيان الدالة f مقعر للأعلى على الفترة $(0, \infty)$ ، بيان الدالة f مقعر للأسفل على الفترة $(-\infty, 0)$

النقطة $(0,1)$ نقطة انعطاف

x	-2	-1	0	1	2
$f(x)$	-3	5	1	-3	5
	نقطة إضافيه	نقطة عظمى محليه	نقطة إنعطاف	نقطة صغرى محليه	نقطة إضافيه



10

السؤال الثالث :

$g(x) = \sqrt{x}$: الدالة g ، $f(x) = x^2 - 3x$: الدالة f (a)

ابحث إتصال الدالة $(g \circ f)$ عند $x = -1$

(4 درجات)

الحل :

- 0.5
- 0.5
- 0.5
- 1
- 0.5 ←
- 0.5 ←
- 0.5

①

الدالة f كثيرة حدود متصلة على \mathbb{R} ،

الدالة f متصلة عند $x = -1$ (1)

$$f(-1) = 1 - 3(-1) = 4$$

∴ الدالة g دالة جذر تربيعي متصلة على $[0, \infty)$

∴ دالة متصلة عند $x = 4$ g : أرجا ✓

اي أن g متصلة عند $f(-1)$ (2)

من (1) ، (2) نجد أن الدالة $g \circ f$ متصلة عند $x = -1$



حل آخر

①/2 $(g \circ f)(x) = g [x^2 - 3x] = \sqrt{x^2 - 3x}$

مجال تعريفه هو $\{x : x^2 - 3x \geq 0, x \in \mathbb{R}\}$

①/2 $x[x - 3] \geq 0$

①/2 $\mathbb{R} - (0, 3)$ هو مجاله

①/2 $(g \circ f)(x) = \sqrt{h(x)}$ تصح

① $h(x) = x^2 - 3x$ متصلة عند $x = -1$ لنزول متصل

①/2 على كل من $(-\infty, 0]$ و $[3, \infty)$

①/2 $h(-1) > 0 \iff h(-1) = 4$

①/2 ∴ $(g \circ f)(x)$ متصلة عند $x = -1$

تابع السؤال الثالث :

(b) إذا كانت الدالة f متصلة على $[1, 4]$: $f(x) = x + \frac{4}{x}$

أوجد القيم القصوى المطلقة للدالة في الفترة $[1, 4]$

(6 درجات)

الحل :

∴ الدالة متصلة على $[1, 4]$

∴ الدالة لها قيم قصوى مطلقة في هذه الفترة

نوجد قيم الدالة عند النقاط الطرفية $x = 1, x = 4$.

0.5 $f(4) = 4 + 1 = 5$

0.5 $f(1) = 1 + 4 = 5$

$$f(x) = x + \frac{4}{x}$$

$$f'(x) = 1 - \frac{4}{x^2}$$

1 $f'(x) = 0$

1.5 $1 - \frac{4}{x^2} = 0 \Rightarrow \frac{4}{x^2} = 1 \Rightarrow x^2 = 4 \Rightarrow x = 2, x = -2$

0.5 $x = -2 \notin (1, 4)$

0.5 $x = 2 \in (1, 4)$

0.5 $f(2) = 4$



∴ النقطة (2, 4) نقطة حرجة.

x	1	4	2
f(x)	5	5	4

من الجدول :

أكبر قيمة للدالة f في الفترة $[1, 4]$ هي 5

∴ 5 قيمة عظمى مطلقة.

أصغر قيمة للدالة f في الفترة $[1, 4]$ هي 4

∴ 4 قيمة صغرى مطلقة.

0.5

0.5

10

السؤال الرابع

(a) لتكن الدالة f :

$$f(x) = \begin{cases} x^2 + 1 & : x < 1 \\ 2\sqrt{x} & : x \geq 1 \end{cases}$$

دالة متصلة على مجالها ، أوجد $f'(x)$ إن أمكن

(6 درجات)

الحل :

$$D_f = (-\infty, 1) \cup [1, \infty) = \mathbb{R}$$

$$f'(x) = \begin{cases} 2x & : x < 1 \\ \text{نبحث} & : x = 1 \\ \frac{1}{\sqrt{x}} & : x > 1 \end{cases}$$

$$f(1) = 2\sqrt{1} = 2$$

$$f'_-(1) = \lim_{x \rightarrow 1^-} \frac{f(x) - f(1)}{x - 1}$$

$$= \lim_{x \rightarrow 1^-} \frac{x^2 + 1 - 2}{x - 1} = \lim_{x \rightarrow 1^-} \frac{x^2 - 1}{x - 1} = \lim_{x \rightarrow 1^-} \frac{(x-1)(x+1)}{x-1} = \lim_{x \rightarrow 1^-} (x + 1)$$

$$f'_-(1) = 2 \dots \dots \dots (1)$$

$$f'_+(1) = \lim_{x \rightarrow 1^+} \frac{f(x) - f(1)}{x - 1}$$

$$= \lim_{x \rightarrow 1^+} \frac{2\sqrt{x} - 2}{x - 1} = \lim_{x \rightarrow 1^+} \frac{2(\sqrt{x} - 1)}{(\sqrt{x} - 1)(\sqrt{x} + 1)} = \lim_{x \rightarrow 1^+} \frac{2}{\sqrt{x} + 1}$$

$$\lim_{x \rightarrow 1^+} \sqrt{x} = 1$$

$$\lim_{x \rightarrow 1^+} (\sqrt{x} + 1) = \lim_{x \rightarrow 1^+} \sqrt{x} + \lim_{x \rightarrow 1^+} (1) = 1 + 1 = 2, 2 \neq 0$$

$$\lim_{x \rightarrow 1^+} \frac{2}{\sqrt{x} + 1} = \frac{\lim_{x \rightarrow 1^+} (2)}{\lim_{x \rightarrow 1^+} (\sqrt{x} + 1)} = \frac{2}{2} = 1$$

$$f'_+(1) = 1 \dots \dots \dots (2)$$

من (1) و (2) نجد : $f'_+(1) \neq f'_-(1)$ وبالتالي $f'(1)$ غير موجودة

$$f'(x) = \begin{cases} 2x & : x < 1 \\ \text{غير موجودة} & : x = 1 \\ \frac{1}{\sqrt{x}} & : x > 1 \end{cases}$$

$$f'(x) = \begin{cases} 2x & : x < 1 \\ \frac{1}{\sqrt{x}} & : x > 1 \end{cases} \quad \text{ومنه : } \left(\frac{1}{2}\right)$$

القسم الثاني (الأسئلة الموضوعية) :

جدول الإجابة



(1)	(a)	(b)	(c)	(d)
(2)	(a)	(b)	(c)	(d)
(3)	(a)	(b)	(c)	(d)
(4)	(a)	(b)	(c)	(d)
(5)	(a)	(b)	(c)	(d)
(6)	(a)	(b)	(c)	(d)
(7)	(a)	(b)	(c)	(d)
(8)	(a)	(b)	(c)	(d)
(9)	(a)	(b)	(c)	(d)
(10)	(a)	(b)	(c)	(d)

10

الدرجة :