



وزارة التربية

إدارة التعليم الديني

التوجيه الفني العام للاجتماعيات

امتحان الفترة الدراسية الأولى

لمقرر تاريخ الكويت

للفصل العاشر (المعاهد الدينية)

العام الدراسي: ٢٠١٩/٢٠٢٠م

الزمن: ساعتان وربع

عدد الأوراق: (٦)

اجب عن أربع أسئلة فقط على أن يكون على أن يكون السؤال الأول منها (إجباريا)

السؤال الاول: موضوعي (اجباري) ويتكون من (أ - ب - ج - د - هـ)

" ست درجات "

ص ٢٩

ص ٤٠

ص ٥٩

ص ٥٢

ص ٧٢

ص ٦٠

" أربع درجات "

أ- صوب ما تحته خط في العبارات التالية:

١- آخر الجزر التابعة لدولة الكويت من جهة الشمال تسمى وربة.

٢- أحد أكثر الطرق أهمية للتجارة الدولية في العالم القديم طريق الحرير

٣- أهم الجزر الكويتية من حيث التاريخ بما تحتويه من آثار معمارية قديمة تسمى فيلكا

٤- الأشجار التي استخدمها الكويتيون قديما كمصدات للرياح تسمى الأثل.

٥- القبيلة القوية التي امتد نفوذها من قطر جنوبا حتى البصرة شمالا تسمى بني خالد.

٦- المنطقة التي وقعت فيها معركة ذات السلاسل بين المسلمين والفرس عام ١٢ هجرية تسمى كاظمة.

ب- اكتب المفاهيم أو المصطلحات الدالة على العبارات التالية:

م	المفهوم	التعريف
١	الهيئات	منابت المحار المحتوي على اللؤلؤ.
٢	العدول - العدل	ما يوضع على ظهر الدابة وتوضع فيه حاجات الراكب.
٣	الكوت (القرين)	اسم شائع في شبه جزيرة العرب للدلالة على المرتفع أو التل الصغير
٤	السرايات	رياح تهب على دولة الكويت في أواخر الربيع وأوائل الصيف مصحوبة بعواصف رعدية يسقط بسببها المطر الشديد

" أربع درجات "

ج- أكمل العبارات التالية بما يناسبها فيما درست:

ص ٧٤

ص ٢٤

ص ٧٧

ص ٨٦

١- العام الذي جرت فيه أول معركة بحرية بين الكويت وبني كعب ١٧٨٣م

٢- ينحدر سطح الكويت تدريجيا من الغرب الى الشرق باتجاه سواحل الخليج العربي.

٣- حاكم الكويت الذي ألغى الرسوم التجارية احتراماً لرغبة أبناء شعبة اسمه الشيخ صباح الثاني بن جابر

٤ - الدولة الخليجية التي ظهرت فيها قوة اليعاربة تسمى عمان.

تابع / نموذج الإجابة لامتحان مقرر تاريخ الكويت للصف العاشر الفترة الدراسية الأولى المعهد الديني للعام الدراسي ٢٠١٩/٢٠٢٠م

" أربع درجات "

د - ضع خطاً تحت الخيار الصحيح من بين الخيارات التي تلي كل عبارة:

ص ٧٤

١- تم بناء سور الكويت الأول عام:

د- ١٩٩٧م

ج- ١٨٩٧م

ب- ١٧٩٧م

أ- ١٧٨٧م

ص ٥٥

٢- العامل الذي يقوم بتجديد وصناعة المساند والفرش مستخدماً القطن:

د- النجار

ج - الصفار

ب- الحداد

أ - النداف

ص ٨٩

٣- الدولة الأوربية التي نقلت مركز البريد والتجارة الى الكويت عام ١٧٧٥م اسمها:

د-روسيا

ج-فرنسا

ب -بريطانيا

أ- البرتغال

ص ٢٨

٤- أكبر الجزر الكويتية والتي تمثل ٥% من المساحة الإجمالية لدولة الكويت:

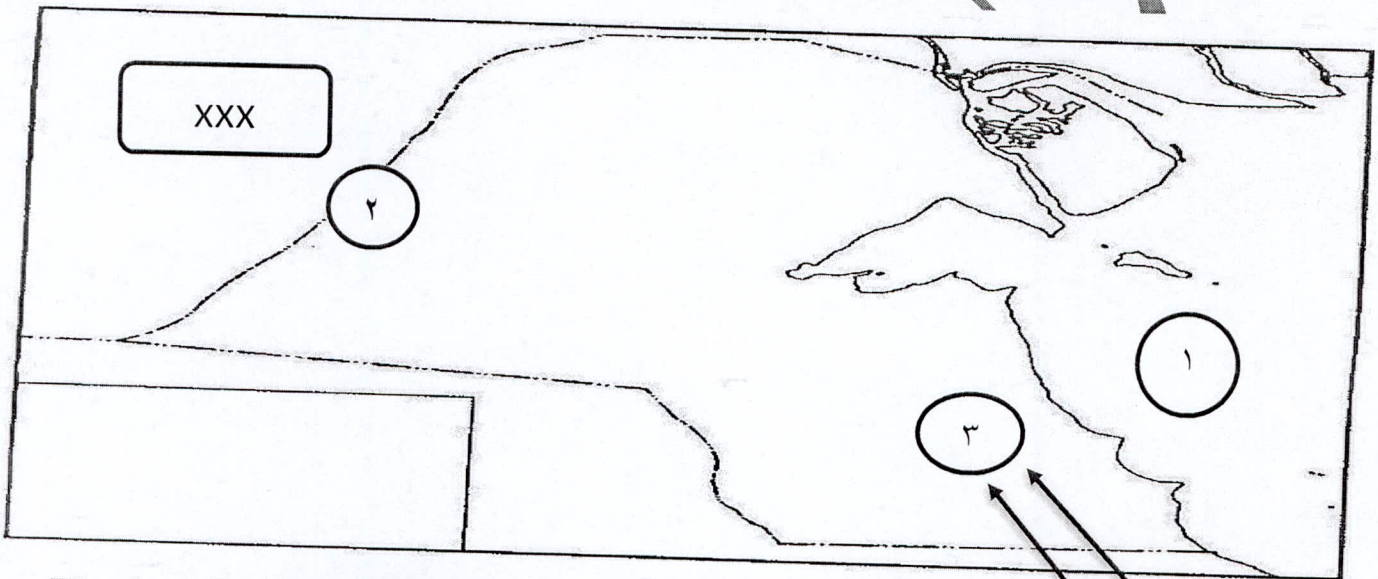
د-بوبيان

ج-أم المرادم

ب- كبر

أ-فيكا

(هـ) لاحظ خريطة دولة الكويت الصماء ثم اجب عما يليها من أسئلة:



ص ٢٨

" أربع درجات "

١- الرقم (١) على الخريطة يمثل مسطح مائي يسمى . الخليج العربي.

ص ٢٥

٢- الرقم (٢) على الخريطة يمثل الحد الطبيعي الفاصل بين الكويت والعراق ويسمى وادي الباطن.

ص ٣٤

٣- الرقم (٣) على الخريطة يمثل رياح تسمى الرياح الجنوبية الشرقية.

٤- حدد على الخريطة الدولة التي تحد الكويت من الشمال والشمال الغربي. باستخدام الرمز XXX.

الكنترول

السؤال الثاني: (اختياري) ويتكون من (أ - ب - ج) .

أ- دلل على صحة العبارات التالية:

(٤ درجات) ص ٤٣

- ١- لعب الموقع الجغرافي لدولة الكويت قديما الدور المهم في تطور صناعة السفن
- فهبوب الرياح الموسمية ساعد على دفع السفن نحو شواطئ الهند وشرق آسيا
- توفر الايدي العاملة لصناعة السفن
- براعة الأساتذة والقلاليف

(٣ درجات) ص ٣٩

- ٢- تميز النشاط الاقتصادي للمجتمع الكويتي القديم بالتنوع قبل اكتشاف النفط.
- فقد جمع بين النشاط البري والبحري فالبعض عمل بالعوص على اللؤلؤ والصيد وصناعة السفن والتجارة البحرية.
- والبعض عمل بالرعي والصيد البري

(٤ درجات) ص ٧٦ و ٧٧

ب- قارن بين كل من:

الوجه المقارنة	الشيخ جابر الأول بن عبد الله الصباح	الشيخ عبد الله بن صباح الثاني
الصفات	هادئ الطبع محب لقومه اشتهر بجابر العيش لكرمه كان يطبخ للفقراء فكان حلما كريما لكثرة ما يتصدق به على الفقراء والمساكين	-حسن السيرة ودمائة الأخلاق وكان محبوبا لدى الجميع
أهم الاحداث	-بناء السور الثاني - ساعد العثمانيين في استعادة البصرة - رفض عرض لإقامة محطة للفحم لشركة الهند الشرقية الإنجليزية في الكويت ١٨٤	- مساعدة العثمانيين حملة مدحت باشا في إقليم الإحساء ١٨٧١ م بجيش بري واسطول بحري من ثمانين سفينة

ج- علل لما يلي:

(درجتان) ص ٦٩

١- شكلت قطر محطة الاستقرار الأولى بالنسبة للعتوب.

- بسبب القحط الذي أصاب مناطقهم الأصلية.
- الصراعات القبلية.

(درجة واحدة) ص ٧٤

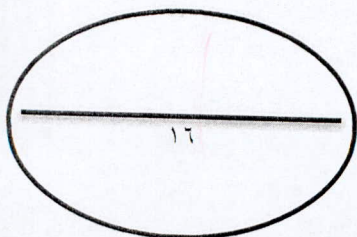
٢- بناء أسوار الكويت.

ج- لحماية المدينة من الأخطار الخارجية.

(درجتان) ص ٤٥

٣- اتخاذ دولة الكويت سفينة اليوم لتكون شعارا للدولة والعملة الوطنية.

- لكي تعبر عن عمق ارتباط الكويت وشعبها بتراثها البحري.



السؤال الثالث (اختياري) ويتكون من (أ - ب - ج - د).

ص ٥٢

أ- اقرأ الفقرة التالية ثم أجب عما يليها من أسئلة:

" الكويت بلد صحراوي يعاني من شح المياه وارتفاع درجة الحرارة أغلب أيام السنة إلى جانب عدم خصوبة التربة، لكن على الرغم من تلك الصعوبات فقد تكيف الكويتيون قديما مع البيئة المحيطة بهم وتغلبوا عليها".

درجة

١- ضع عنوانا مناسباً لموضوع الفقرة.

- (أي عنوان يراه مناسباً).

درجتان

٢- دال على صحة ما تحته خط.

- احترف الكويتيون مهنة الزراعة بقصد الربح واكتساب الرزق ، وقاموا بزراعة النباتات التي تتلاءم مع البيئة.

- استغلوا مياه الأمطار القليلة، واستخدموا مياه الآبار السطحية المتوفرة وقاموا بزراعة بعض الخضروات مثل الطماطم والبطاطس

درجة

٣- أهم المناطق الزراعية في دولة الكويت قديماً.

- الدمنة" السالمية"، الكحيل، المنقف، الفنتاس، أبو حليفة، الشعبية، الجهراء.

ب- علل لما يلي:

درجتان) ص ٨٩

١-نقل مركز البريد والتجارة من البصرة للكويت في العام ١٧٧٥م؟

- بسبب الصراع بين الدولة الفارسية والدولة العثمانية والذي نتج عنه احتلال الفرس للبصرة

درجتان) ص ٨٦

٢-الانهيار التدريجي للاستعمار البرتغالي في منطقة الخليج العربي؟

ج-بسبب المنافسة التجارية بينه وبين الهولنديون والإنجليز. -جهود اليعاربة في عمان - احتلال اسبانيا البرتغال

درجتان) ص ٤٦

ج - فرق بين كل ممايلي:

الأستاذ ص ٤٣	القلاف ص ٤٣
هو الذي يقوم بتصميم السفينة.	هو الذي يقوم بإعداد المواد اللازمة لصناعة السفينة ثم عملية بناء السفينة

د اكتب فيما يلي:

١-الأسس التي حددها فرمان العثماني لتحديد العلاقة بين الكويت والدولة العثمانية. يكتفى بنقطتين (٣ درجات) ص ٩٠

- شيخ الكويت مسقل في شؤنه الداخلية

-منح شيخ الكويت لقب قائم مقام

-لا يلتزم أهالي الكويت بدفع رسوم أو ضرائب للباب العالي. -إلزام السفن الكويتية برفع العلم العثماني.

(٣ درجات) ص ٨١

٢-العوامل التي ساعدت على نمو وازدهار الكويت تحت حكم آل صباح.

-موقع الكويت الاستراتيجي على الخليج العربي وشبه الجزيرة العربية.

- طبيعة نظام الحكم القائم على العدل والشورى والأمن. - وجود علاقات متوازنة مع القوى المجاورة.

- التسهيلات التي كانت تمنح لتجار البادية (تجارة المسابله)

السؤال الرابع: اختياري ويتكون من (أ - ب - ج) .

أ- علل لما يلي:

- ١- حرص بريطانيا على إبقاء اتفاقية الحماية للكويت عام ١٨٩٩م سرية . ص ١٠٢ (درجتان) ص ١٠٢ .
- بسبب عدم رغبتها في إثارة الدولة العثمانية أو خلق توتر جديد بينها وبين القوى الأوروبية.
- ٢- انهيار الاستعمار الهولندي في الخليج العربي .
- بسبب التنافس الإنجليزي - الهولندي الذي قضى على آمالهم في النهاية وأخرجهم من المنطقة .
- ٣- اختيار الشيخ صباح الأول حاكماً لدولة الكويت .
- لسماته الشخصية من شجاعة وحكمة . - كان لوالدة الزعامة على قومه منذ أن كانوا في نجد .
- كان مقيماً طوال العام بالكويت . - عمله بالصحراء خلافاً للذين كانوا يعملون في البحر .

ب- اكتب فيما يلي:

- ١- المناطق التي تنحصر فيها المياه الصالحة للاستهلاك الأدمي في الكويت .
(٣ درجات) ص ٣٢

- الروضتين - أم العيش .
- الوفرة - العبدلي .

(٣ درجات) ص ٤٨

- ٢- تأثير حرفة الغوص على أهل الكويت قديماً .

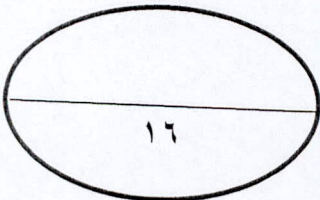
- تقوية العلاقات بين السكان وتأصيل قيم الصدق
- الاحترام المتبادل وتكوين الأسرة الواحدة
- التعاون والتعاقد
- الالتزام والطاعة والصبر

(٤ درجات)

ج- قارن بين كل من :

أوجه المقارنة	الرياح الجنوبية الشرقية " الكوس " ص ٣٤	رياح السموم ص ٣٤
مميزاتها المناخية	رياح رطبة دافئة تهب من الجنوب الشرقي وتتأثر بالمنخفض السوداني	جافة جدا تهب في الظهيرة وتنخفض معها الرطوبة النسبية ودرجة حرارتها عالية
أثرها في فصل الصيف	ارتفاع درجة الحرارة وزيادة نسبة الرطوبة	ارتفاع درجة الحرارة جدا وأحيانا تثير الأتربة والرمال

الكنترول



السؤال الخامس: اختياري ويتكون من (أ - ب - ج) .

أ- عرف ما يلي: - (٣ درجات) ص ٤٧

- ١- النهام: الشخص الذي ينشد المواويل تشجيعا لطاقم السفينة في رحلتهم.
 - ٢- السيب: الشخص الذي يقوم بسحب الغيص للسطح عند شد الأخير الحبل ومساعدة الغيص في فتح المحار.
 - ٣- الطواش: هو تاجر اللؤلؤ.
- ب- نفذ المطلوب منك بين القوسين:

(٣ درجات) (ادلة) ص ٥٨

١- منطقة الصبية تمثل قيمة أثرية كبيرة.

- تحتضن مئات المواقع الأثرية والتي برهنت على وجود حضارة العبيد القديمة بها، فقد عثر على قرى سكنية في بحرة وطبيح شمال الصبية، وجرار فخارية، ورحى حجرية لطحن الغلال، وعشرات المدافن الركامية، وقوارب فخارية. وأدوات الغزل وحيكاكة القماش، ومساكن بيضاوية الشكل
- ٢- جزيرتا وربة وبوبيان من أهم الجزر الكويتية التي كانت تمثل مطمعا ومطلبا دائما للعراق (٢ درجتان) (الأسباب) ص ٢٨

-لأنهما كانتا مطمعا دائما ومطلبا دائما للعراق، فيعتبرهما الجزيرتين الأهم اللتين ستمنحانه منفذا بحريا مناسباً له على الخليج العربي.

(٣ درجات) (النتائج على بريطانيا) ص ٨٨

٣- انهيار الاستعمار الهولندي

- استولى البريطانيون على ممتلكات هولندا في الهند وسيلان والمواقع التجارية الهامة في الهند والخليج العربي، ومنحهم شاه فارس بعض الامتيازات، وزاد اهتمام بريطانيا بالخليج العربي لحماية إمبراطوريتهم في الهند.
- ج - ١ - فند العبارة التالية :

- ١- لم يتخذ حكام الكويت قديما أي قرارات تساعد على النمو التجاري والاقتصادي (٣ درجات) ص ٨٠
- العبارة خاطئة لأنهم حرصوا على اتخاذ خطوات ذات ابعاد اقتصادية ساعدة على النمو التجاري والاقتصادي منها:

١- قلة الضرائب على البضائع الواردة

٢- تشجيع بناء سفن الغوص وتأمين طرق التجارة عبر أراضيها ٣- قاموا بدور الوسيط التجاري مع دول الجوار.

٤- اجتذاب الشركات والوكالات التجارية الأوربية للكويت... **الكنترول**

د - اكتب فيما يلي:

(درجتان) ص ٩٦

١- جهود الشيخ مبارك الصباح في مجال التعليم.

ج- أنشئت المدرسة المباركية ١٩١١م وكانت أول المدارس النظامية والأهلية.