



مذكرة الصف الثاني عشر علمي


مادة
الاحياء

أسئلة امتحانات
وإجاباتها النموذجية

الفترة الأولى

العام الدراسي
2022-2021

المادة : الأحياء
الصف : الثاني عشر
الزمن : ساعتان



دولة الكويت
وزارة التربية
التوجيه الفني العام للعلوم

امتحان نهاية الفترة الدراسية الأولى للعام الدراسي ٢٠١٩ - ٢٠٢٠ م

ملاحظة هامة : عدد صفحات الامتحان (٩) صفحات مختلفة

المجموعة الأولى : الأسئلة الموضوعية (السؤالان الأول و الثاني)

السؤال الأول : (أ) اختر الإجابة الصحيحة علمياً لكل عبارة من العبارات التالية و ذلك بوضع

علامة (✓) أمام الإجابة الصحيحة : (٦ × ١ = ٦ درجات)

٦

١- خلايا في الجهاز العصبي المركزي مسؤولة عن تكوين غلاف الميلين حول محاور الخلايا العصبية:

- خلايا الغراء العصبية الصغيرة
 خلايا الغراء العصبي قليلة التفرعات
 الخلايا النجمية
 خلايا شوان

٢- هرمون تفرزه الغدة جارات الدرقية يزيد من مستويات الكالسيوم في الدم :

- الباراثيرويد
 الالكسيتوسين
 البرولاكتين
 الفازوبريسين

٣- أحد مكونات خط الدفاع الأول في الجهاز المناعي الفطري :

- الخلايا البلعمية
 الجلد
 الخلايا للمفاوية
 الجسم المضاد

تابع السؤال الأول : (أ)

٤- تتميز الخلايا للمقاومة البائية بوجود :

- مستقبلات أنتيجينات على سطح الخلية
 بروتينات CD₈ على سطح الخلية
 أجسام مضادة على سطح الخلية
 بروتينات CD₄ على سطح الخلية

٥- التركيب الكروموسومي لخلايا أمهات المني هو :

- 44+xx
 44+xy
 46+xy
 46+xx

٦- تنمو البلاستيولا بعد الانغراس الجنيني لتصبح تركيب يسمى :

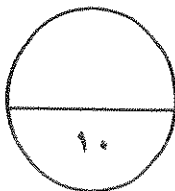
- المشيمة
 التوتية
 الزيجوت
 الجاسترولا

السؤال الأول: (ب) ضع علامة (✓) أمام العبارة الصحيحة وعلامة (×) أمام العبارة غير

الصحيحة لكل عبارة من العبارات التالية :- (٤ × ٤ = ٤ درجات)

٤

م	العبارة	الإجابة
١	يعتبر الأمفيتامين من المهبطات التي تبطئ نشاط الجهاز العصبي المركزي.	×
٢	تستخدم الهيدرا ثلاث هرمونات لتحفيز النمو و التكاثر الجنسي .	
٣	يفرز المبيضان عند أنثى الانسان هرموني الإستروجين و البروجستيرون المسؤولين عن التكاثر و ظهور الخصائص الجنسية.	
٤	ينخفض تركيز الخلايا التائية المساعدة T4 في الدم كلما ازداد تركيز فيروس عوز المناعة البشرية في الدم.	

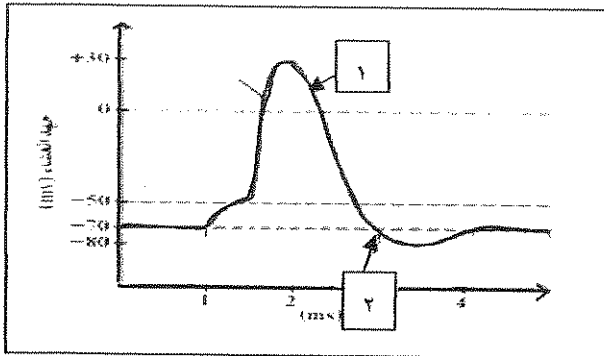


درجة السؤال الأول

تابع السؤال الثاني : (ب)

ثانياً : الشكل يمثل مراحل جهد العمل في عشاء الخلية العصبية .

* اكتب البيانات التي تشير إليها الأرقام التالية :

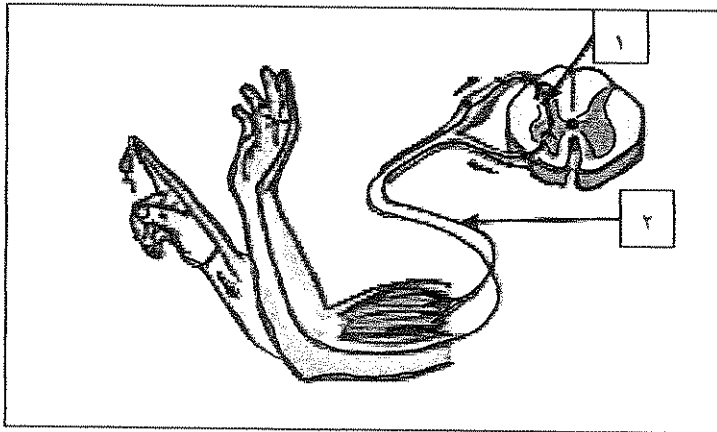


١- مرحلة :

٢- مرحلة :

ثالثاً : الشكل يمثل القوس الانعكاسي.

* اكتب البيانات التي تشير إليها الأرقام التالية:

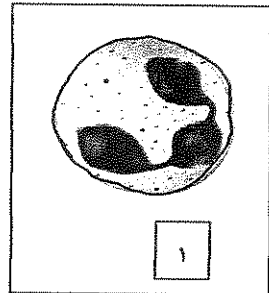
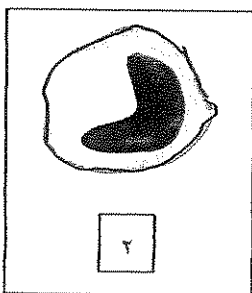


١- نوع الخلية العصبية:

٢- نوع الخلية العصبية:

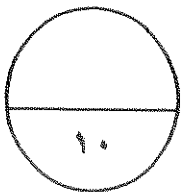
رابعاً : الشكل يمثل أنواع من خلايا الدم البيضاء.

* اكتب نوع خلية الدم البيضاء التي تشير إليها الأرقام التالية :



١-

٢-



درجة السؤال الثاني

المجموعة الثانية : الأسئلة المقالية

(أجب عن جميع الأسئلة من السؤال الثالث إلى السؤال السادس)

٤

السؤال الثالث: (أ) علل لما يلي تعليلاً علمياً سليماً : (٤ × ١ = ٤ درجات)

١- وجود شقوق وتلافيف على سطح القشرة المخية.

.....
.....

٢- نقص اليود في غذاء الأطفال قد يسبب مرض القماءة.

.....
.....

٣- تظهر في بعض الأحيان أعراض الحمى على الشخص المصاب بعدوى.

.....
.....

٤- توجد الخصيتان في كيس الصفن خارج تجويف الجسم.

.....
.....

٤

السؤال الثالث: (ب) ما التصود علمياً بكل مما يلي:- (٤ × ١ = ٤ درجات)

١- الليف العصبي؟

.....
.....

٢- السحايا؟

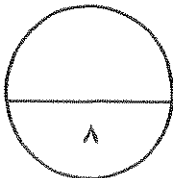
.....
.....

٣- خلايا سرتولي؟

.....
.....

٤- عملية الاخصاب؟

.....



درجة السؤال الثالث

السؤال الرابع: (أ) اقرأ كل عبارة من العبارات العلمية التالية جيدا ثم أجب

عن المطلوب:-- (٣ × ٢ = ٦ درجات)

١- (يقسم الجهاز العصبي الذاتي الى الجهاز السمبثاوي و الجهاز نظير السمبثاوي اللذين يختلفان في طريقة انتشار العقد و في الوظيفة).

* ما تأثير الجهاز نظير السمبثاوي على الأعضاء التالية ؟

- القلب :..... - القناة الهضمية :.....

٢- (يفرز البنكرياس هرمونان يحافظان على ثبات مستوى الجلوكوز في الدم).

* الهرمون الذي يفرز عند ارتفاع مستوى السكر في الدم هو :.....

* الهرمون الذي يفرز عند انخفاض مستوى السكر في الدم هو :.....

٣- (المناعة المكتسبة هي مقاومة الجسم للكائنات المرضية التي سبق له الإصابة بها).

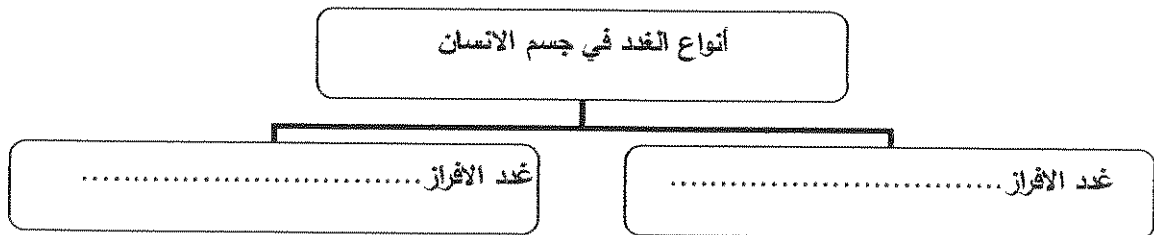
* بماذا تتميز الاستجابة المناعية الثانوية؟

* ما دور خلايا الذاكرة في الاستجابة المناعية الثانوية؟

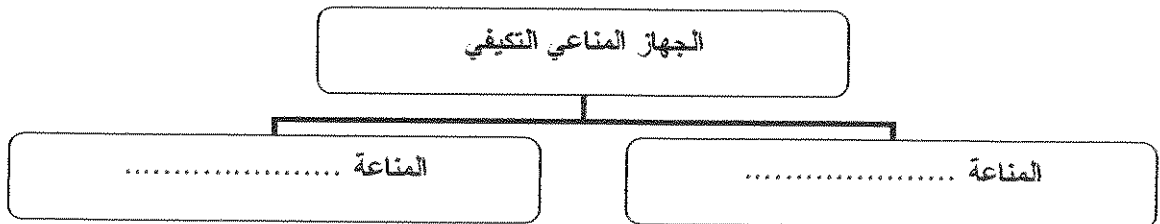
السؤال الرابع: (ب) أكمل المخططات التالية بما يناسبها من المفاهيم العلمية ما يلي :

(٢ × ١ = ٢ درجات)

١- المخطط يمثل أنواع الغدد في جسم الانسان:



٢- المخطط يمثل مكونات أحد أقسام الجهاز المناعي :



درجة السؤال الرابع

٢

السؤال الخامس : (أ) قارن بإكمال الجدول التالي حسب المطلوب علمياً:

(٢ × ١ = ٢ درجات)

وجه المقارنة	الهيدرا	العلق الطبي
تركيب الجهاز العصبي
وجه المقارنة	مرض التصلب المتعدد	مرض شلل الأطفال
تأثير المرض على الجهاز العصبي

=====

٦

السؤال الخامس : (ب) أجب عن الأسئلة التالية : (٣ × ٢ = ٦ درجات)

١ - اذكر أمثلة على المنبهات الميكانيكية التي تسبب استجابة للجهاز العصبي.

أ-.....

ب-.....

٢ - اذكر أطوار دورة الحيض.

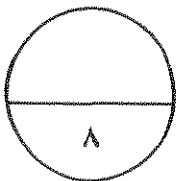
أ-.....

ب-.....

٣ - اذكر أسباب العقم لدى الرجال. X

أ-.....

ب-.....



درجة السؤال الخامس

٢

السؤال السادس: (أ) ما أهمية كل مما يلي :- (٢ = ١ × ٢ درجات)

١- مادة الهيستامين في الجهاز المناعي؟

.....
.....

٢- الخلايا التائية الكابحة (المثبطة)؟

.....
.....

السؤال السادس: (ب) ادرس الأشكال التالية جيداً ثم أجب عن المطلوب :- (٦ درجات)

٦

أولاً : الشكل يمثل المشبك الكيميائي في الخلايا العصبية :

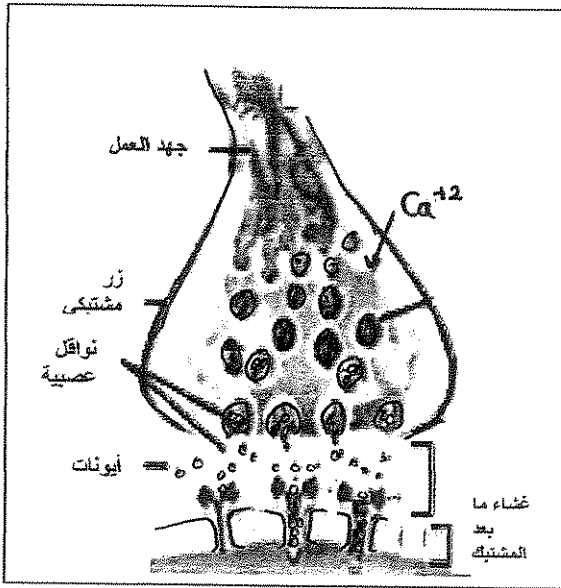
أ- ما تأثير فتح قنوات الكالسيوم و دخول ايونات الكالسيوم إلى داخل الازرار المشبكية ؟

.....
.....

ب- في حالة المشبك المنبه ، ما هي الايونات التي تعبر

القناة الايونية الى الخلية بعد المشبك ؟

.....



ثانياً : الشكل يمثل آلية عمل الهرمونات .

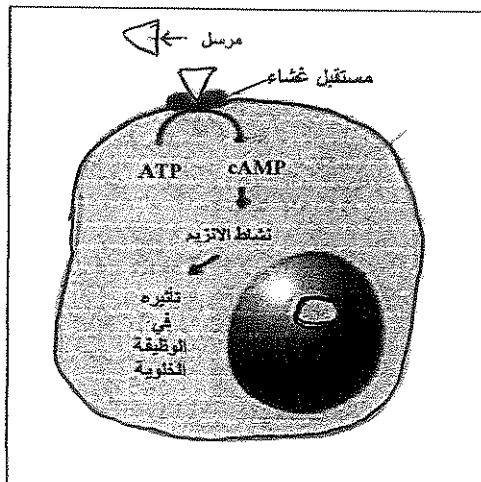
أ- ما نوع الهرمونات التي تعمل بالآلية الموضحة بالرسم ؟

.....

ب- ماذا يحدث عند ارتباط الهرمونات بالمستقبل على سطح الخلية ؟

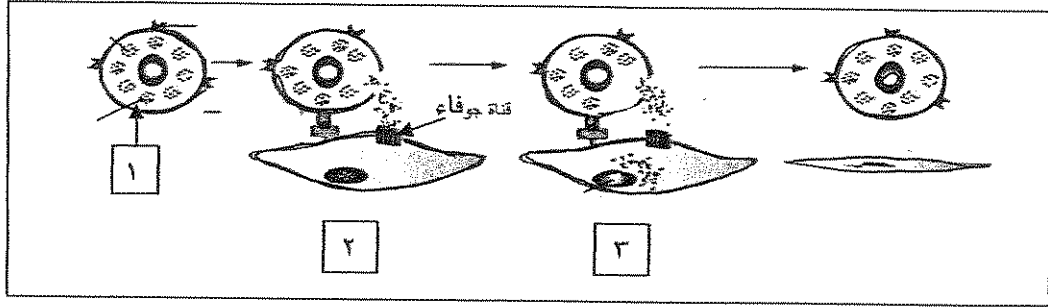
.....

.....



تابع السؤال السادس : (ب)

ثالثاً : الشكل يمثل آلية عمل المناعة الخلوية . و المطلوب :



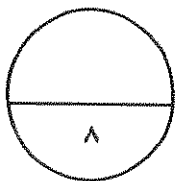
يتم افراز سموم من الخلية رقم (١) لقتل الخلية المستهدفة تسمى قاتل الخلية .

أ - ما اسم قاتل الخلايا المفرز في الخطوة رقم (٢) ؟

.....

ب- ما هو تأثير قاتل الخلايا المفرز في الخطوة رقم (٣) ؟

.....



درجة السؤال السادس

*** انتهت الأسئلة ***

المادة : الأحياء
الصف : الثاني عشر
الزمن : ساعتان



دولة الكويت
وزارة التربية
التوجيه الفني العام للعلوم

امتحان نهاية الفترة الدراسية الأولى للعام الدراسي ٢٠١٩ - ٢٠٢٠ م

ملاحظة هامة : عدد صفحات الامتحان (٩) صفحات مختلفة

المجموعة الأولى : الأسئلة الموضوعية (السؤالان الأول و الثاني)

السؤال الأول : (أ) اختر الإجابة الصحيحة علمياً لكل عبارة من العبارات التالية و ذلك بوضع

علامة (✓) أمام الإجابة الصحيحة (٦ × ٦ = ٦ درجات)

٦

١- خلايا في الجهاز العصبي المركزي مسؤولة عن تكوين غلاف الميلين حول محاور الخلايا العصبية:

ص ٢٠

- خلايا الغراء العصبية الصغيرة
 الخلايا النجمية
 خلايا قليلة التفرعات
 خلايا لان

- ٢- هرمون تفرزه الغدة جارات الدرقية يزيد من مستويات الكالسيوم في الدم :ص
 الباراثيرويد
 البرولاكتين
 الاوكسيتوسين
 الفازوبريسين

- ٣- أحد مكونات خط الدفاع الأول في الجهاز المناعي الفطري:ص ١٠٤
 الخلايا البلعمية
 الخلايا للمقاومة
 الجلد
 الجسم المضاد



تابع السؤال الأول : (أ)

٤- تتميز الخلايا اللمفاوية البائية بوجود :ص ١٠٩

- مستقبلات انتيجينات على سطح الخلية
 بروتينات CD₈ على سطح الخلية
 أجسام مضادة على سطح الخلية
 بروتينات CD₄ على سطح الخلية

٥- التركيب الكروموسومي لخلايا أمهات المني هو :ص ٨٢

- 44+xx
 44+xy
 46+xy
 46+xy



٦- تنمو البلاستوتولا بعد الانقراض الجنيني لتصبح تركيب يسمى :ص ٩٤

- المشيمة
 التوتية
 الجاسترولا
 الزيجوت

السؤال الأول: (ب) ضع علامة (✓) أمام العبارة الصحيحة وعلامة (x) أمام العبارة غير

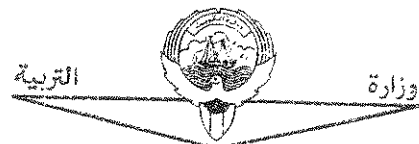
الصحيحة لكل عبارة من العبارات التالية :- (٤ درجات)

٤

م	العبارة	الإجابة
١	يعتبر الأمفيتامين من المهبطات التي تبطئ نشاط الجهاز العصبي المركزي. ص ٥٥	(x)
٢	تستخدم الهيدرا ثلاث هرمونات لتحفيز النمو والتكاثر الجنسي. ص ٦٠	(x)
٣	يفرز المبيضان عند أنثى الانسان هرموني الإستروجين و البروجستيرون المسؤولين عن التكاثر وظهور الخصائص الجنسية. ص ٨٥	(✓)
٤	ينخفض تركيز الخلايا التائية المساعدة T4 في الدم كلما ازداد تركيز فيروس عوز المناعة البشرية في الدم. ص ١٢٣	(✓)



درجة السؤال الأول



التوجيه العلمي العام للعلوم

(امتحان نهاية الفترة الدراسية الأولى للصف الثاني عشر العلمي في مادة الأحياء للعام الدراسي ٢٠١٩ - ٢٠٢٠ م)

السؤال الثاني: (أ) اكتب الاسم أو المصطلح العلمي الذي تدل عليه كل عبارة من العبارات

التالية :- (٦ × ١ = ٦ درجات)

٦

م	العبارة	الإجابة
١	موجه من التغير الكيميائي و الكهربائي تنتقل على طول غشاء الخلية العصبية . ص ٢٨	<u>الميال العصبي</u>
٢	عضو أنبوبي الشكل موجود داخل العمود الفقري و مغلف بالسحايا . ص ٣٩	<u>الحبل الشوكي</u>
٣	الرسائل الكيميائية التي تنتجها الغدة الصماء لتنظيم وضبط أنشطة الجسم . ص ٦٠	<u>الهرمونات</u>
٤	مركبات تقتل البكتيريا من دون أن تضر خلايا اجسام البشر أو الحيوانات و ذلك بإيقاف العمليات الحيوية في البكتيريا . ص ١٠٣	<u>المضادات الحيوية</u>
٥	الجزء السطحي للأنتيجين الذي يتم التعرف عليه من قبل الجسم المضاد ليرتبط به . ص ١١١	<u>الحاتمة</u>
٦	انغراس بويضة مخصبة في قناة فالوب بدلاً من الرحم . ص ٩٨	<u>الحمل خارج الرحم</u>

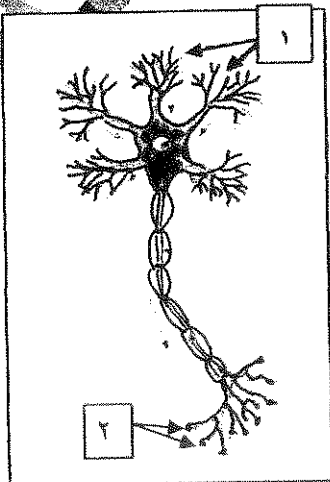
السؤال الثاني: (ب) ادرس الأشكال التالية جيداً ثم أجب عن المطلوب :-

٤

(٨ × ٠,٥ = ٤ درجات)

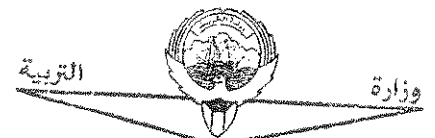
أولاً : الشكل يمثل الخلية العصبية . ص ١٧

* اكتب البيانات التي تشير إليها الأرقام التالية :



١ - زوائد شجرية

٢ - نهايات محورية

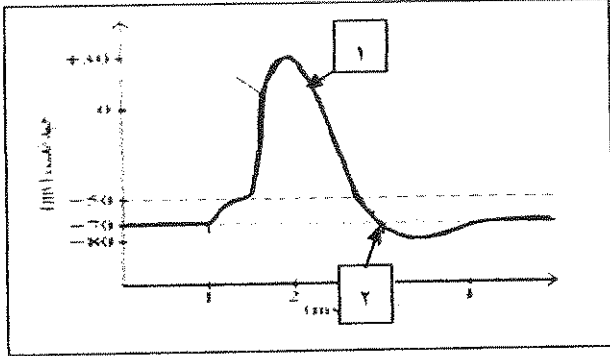


التوجيه الفني العام للعلوم

تابع السؤال الثاني : (ب)

ثانياً : الشكل يمثل مراحل جهد العمل في عُشاء الخلية العصبية .ص ٢٩

* اكتب البيانات التي تشير إليها الأرقام التالية :

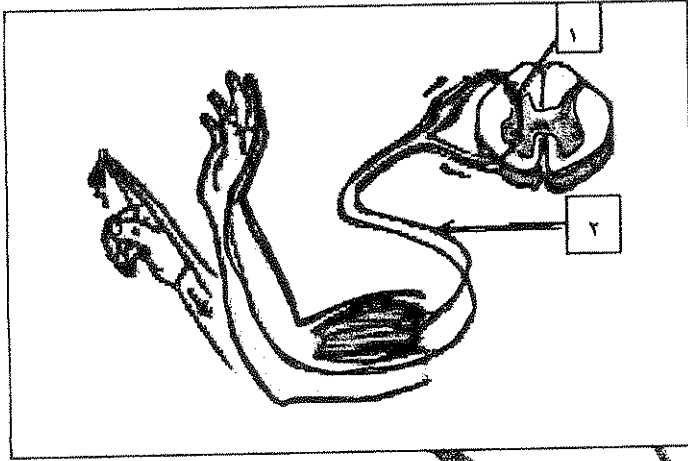


١- مرحلة : عودة الاستقطاب

٢- مرحلة : فرط الاستقطاب

ثالثاً : الشكل يمثل القوس الانعكاسي .ص ٤٦

* اكتب البيانات التي تشير إليها الأرقام التالية:

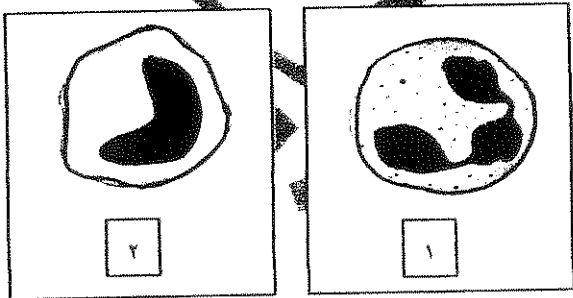


١- نوع الخلية العصبية: الرابطة

٢- نوع الخلية العصبية: الحركية

رابعاً : الشكل يمثل أنواع من خلايا الدم البيضاء.ص ١٠٧

* اكتب نوع خلية الدم البيضاء التي تشير إليها الأرقام التالية .

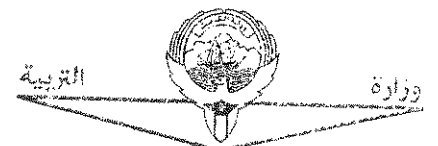



١- خلية متعادلة

٢- خلية وحيدة النواة



درجة السؤال الثاني



التوجيه الفني العام للعلوم

المجموعة الثانية : الأسئلة المقالية

(أجب عن جميع الأسئلة من السؤال الثالث إلى السؤال السادس)

٤

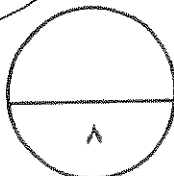

السؤال الثالث: (أ) علل لما يلي تعليلاً علمياً سليماً :- (٤ × ١ = ٤ درجات)

- ١- وجود شقوق و تلافيف على سطح القشرة المخية. ص ٤١
تساهم في زيادة مساحات المراكز العصبية في المخ.
- ٢- نقص اليود في غذاء الأطفال قد يسبب مرض القماءة. ص ٧٦
لان نقص اليود في غذاء الأطفال يسبب العجز عن افراز هرمون الثيروكسين الضروري للنمو الطبيعي.
- ٣- تظهر في بعض الأحيان أعراض الحمى على الشخص المصاب بعدوى. ص ١٠٦
نتيجة قيام الخلايا البلعوية الكبيرة باطلاق مواد كيميائية تسمى البيروجينات التي تحث الدماغ على رفع درجة حرارة الجسم .
- ٤- توجد الخصيتان في كيس الصفن خارج تجويف الجسم. ص ٧٩
لان درجة الحرارة خارج الجسم تكون اقل او له دور مهم في إتمام نمو الحيوانات المنوية.

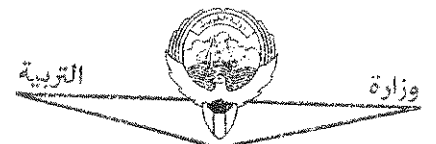
٤

السؤال الثالث : (ب) ما المقصود علمياً بكل مما يلي :- (٤ × ١ = ٤ درجات)

- ١- الليف العصبي ؟ ص ٢١
الاستطالة الطويلة للخلية العصبية و ما يحيط بها من أغلفة .
- ٢- السحايا ؟ ص ٣٨
ثلاثة أغشية تحيط بالجهاز العصبي (الدماغ و الحبل الشوكي) أو الام الجافية - الام العنكبوتية و الام الحنون
- ٣- خلايا سرتولي ؟ ص ٨٣
خلايا متخصصة في الخصية تؤدي وظائف مهمة كالحماية و التغذية و نقل الرسائل الكيميائية .
- ٤- عملية الاخصاب ؟ ص ٩٣
اتحاد (اندماج) نواة الحيوان المنوي بنواة البويضة .



درجة السؤال الثالث



التوجيه الفني العام للعلوم

السؤال الرابع: (أ) اقرأ كل عبارة من العبارات العلمية التالية جيدا ثم أجب

عن المطلوب: - (٣ × ٢ = ٦ درجات)

١- (يقسم الجهاز العصبي الذاتي الى الجهاز السمبثاوي و الجهاز نظير السمبثاوي اللذين يختلفان في طريقة انتشار العقد و في الوظيفة). ص ٨؛

* ما تأثير الجهاز نظير السمبثاوي على الأعضاء التالية ؟

- القلب: تتباطأ نبضات القلب - القناة الهضمية : تنشيط القناة الهضمية

٢- (يفرز البنكرياس هرمونان يحافظان على ثبات مستوى الجلوكوز في الدم). ص ٧١

* الهرمون الذي يفرز عند ارتفاع مستوى السكر في الدم هو: الانسولين

* الهرمون الذي يفرز عند انخفاض مستوى السكر في الدم هو: الجلوكاجون

٣- (المناعة المكتسبة هي مقاومة الجسم للكائنات الممرضة التي سبق له الإصابة بها).

* بماذا تتميز الاستجابة المناعية الثانوية؟ ص ١١٧

- اسرع من الاستجابة الأولية / أو اقوى من الاستجابة الأولية

* ما دور خلايا الذاكرة في الاستجابة المناعية الثانوية؟ ص ١١٨

تخزن معلومات عن الانتيجينات التي حاربها الجهاز المناعي / أو تنقسم سريعا فتكثر الاجسام المضادة و الخلايا التائية النشطة في يوم او اثنين.

السؤال الرابع: (ب) أكمل المخططات التالية بما يناسبها من المفاهيم العلمية ما يلي :

(٢ × ١ = ٢ درجات)

١- المخطط يمثل أنواع الغدد في جسم الانسان : ص ٦٣

أنواع الغدد في جسم الانسان

غدد الإفراز الخارجى (القنوية)

غدد الإفراز الداخلى (الصماء)

٢- المخطط يمثل مكونات أحد أقسام الجهاز المناعي : ص ١٠٤

الجهاز المناعي التكيفي

المناعة الخلوية

المناعة الإفرازية

درجة السؤال الرابع

٨

السؤال الخامس : (أ) قارن بإكمال الجدول التالي حسب المطلوب علمياً:

(١ × ٢ = ٢ درجات)

٢

وجه المقارنة	الهيدرا	العلق الطبي
تركيب الجهاز العصبي ص ١٥	شبكة عصبية بسيطة ١/٢	مخ و عقد عصبية على طول حبل عصبي بطني يمتد على طول الجسم ١/٢
وجه المقارنة	مرض التصلب المتعدد	مرض شلل الاطفال
تأثير المرض على الجهاز العصبي (ص ٥٣)	تلف الاغلفة الميلينية في الخلايا العصبية أو بطء انتقال السيالات العصبية أو وقف انتقال السيالات العصبية ١/٢	فيروس بصبب المادة الرمادية للحبل الشوكي أو يدمر الخلايا العصبية الحركية ١/٢

السؤال الخامس : (ب) أجب عن الأسئلة التالية (٢ × ٣ = ٦ درجات)

٦

١- اذكر امثلة على المنبهات الميكانيكية التي تسبب استجابة للجهاز العصبي . ص ٣١

أ- التغيير في الضغط

ب- التغيير في وضعية الجسم

٢- اذكر اطوار دورة الحيض . (يكتفى بنقطتين) ص ٨٨

أ- الطور الحويصلي .

ب- طور الاباضة

ج- طور الجسم الاصفر .

د- الحيض

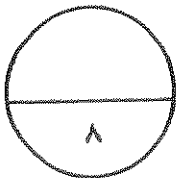
٣- اذكر أسباب العقم لدى الرجال . (يكتفى بنقطتين) ص ٩٨

أ- انتاج عدد قليل من الحيوانات المنوية

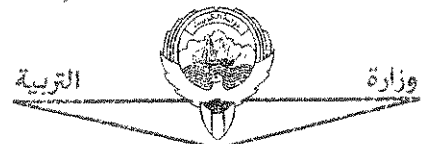
ب- إصابة البروستاتا بالسرطان .

ج- تضخم غدة البروستاتا .

د- انتاج حيوانات منوية ناقصة النمو او بها عيوب و تعجز عن الحركة



درجة السؤال الخامس



التوجيه الفني العام للمدارس

السؤال السادس: (أ) ما أهمية كل مما يلي :- (١ × ٢ = ٢ درجات)

٢

١- مادة الهيستامين في الجهاز المناعي؟ ص ١٠٥

تعطي الإشارة ببدء الاستجابة بالالتهاب أو تعمل على تمدد الشعيرات الدموية الموجودة في المنطقة المتضررة أو زيادة انسياب الدم الى الموضع و كمية البلازما التي تتنفذ و ترشح من الشعيرات الدموية الى المسائل بين الخلايا

٢- الخلايا التائية الكابحة (المثبطة)؟ ص ١١٠

تنشط نشاط الخلايا التائية الأخرى عندما لا تكون الحاجة اليها ملحة في الجسم

السؤال السابع: (ب) ادرس الأشكال التالية جيداً ثم أجب عن المطلوب :- (٦ درجات)

٦

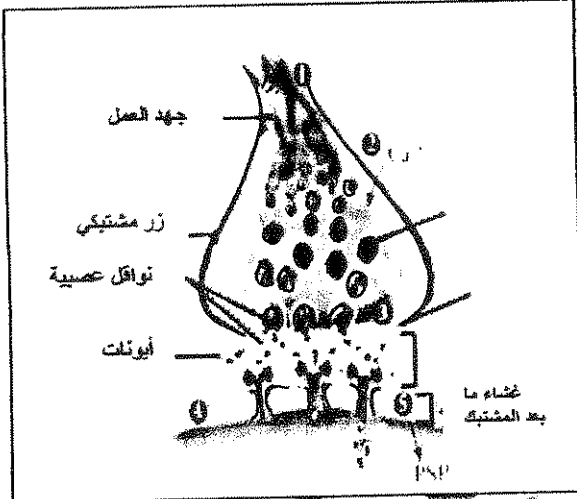
أولاً : الشكل يمثل المشبك الكيميائي في الخلايا العصبية : ص ٣٣-٣٤

أ- ما تأثير فتح قنوات الكالسيوم و دخول ايونات الكالسيوم الى داخل الازرار المشبكية ؟ يحفز التحام الحويصلات المشبكية بالغشاء ما قبل المشبك .

ب- في حالة المشبك العنبري ، ما هي الايونات التي تعبر

القناة الايونية الى الخلية بعد المشبك ؟

ايونات الصوديوم Na^+



ثانياً : الشكل يمثل آلية عمل الهرمونات . ص ٦٤

أ- ما نوع الهرمونات التي تعمل بالآلية الموضحة بالرسم ؟

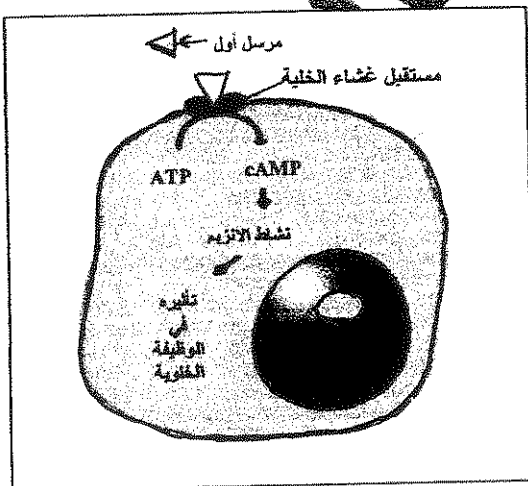
الهرمونات المحبة للماء

ب- ماذا يحدث عند ارتباط الهرمونات بالمستقبل على سطح الخلية

يحفز هذا الارتباط انزيم الادنيل سيكليز الذي يحول الادونوزين

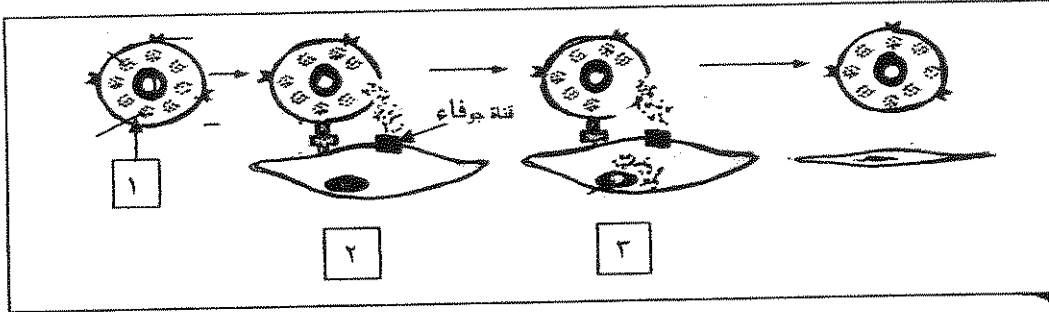
ثلاثي الفوسفات الى ادينوزين احادي الفوسفات الحلقي الذي يعتبر

المرسل الثاني و يغير عمل الخلية او ينظمه.



تابع السؤال السادس : (ب)

ثالثاً : الشكل يمثل آلية عمل المناعة الخلوية . و المطلوب :ص ١١٤



يتم افراز سائل من الخلية رقم (١) لقتل الخلية المستهدفة تسمى قاتل الخلية .

أ - ما اسم قاتل الخلايا المفرز في الخطوة رقم (١) ؟

البرفورين

ب- ما هو تأثير قاتل الخلايا المفرز في الخطوة رقم (٣) ؟

يحدث تفاعل انزيمي يؤدي الى تحلل DNA الخلية التالي موتها

درجة السؤال السادس
٨



*** انتهت الأسئلة ***



(الأسئلة في ٩ صفحات)

الزمن : ساعتان



وزارة التربية

دولة الكويت

وزارة التربية

التوجيه الفني العام للعلوم

امتحان نهاية الفترة الدراسية الأولى

للسنة الثانية عشر - علمي

في مادة الأحياء للعام الدراسي ٢٠١٨-٢٠١٩ م

المجموعة الأولى : الأسئلة الموضوعية

أجب عن جميع أسئلة هذه المجموعة (السؤال الأول و الثاني)

السؤال الأول : (أ) اختر الإجابة الصحيحة علمياً لكل عبارة من العبارات التالية وذلك بوضع علامة (✓)

أمام الإجابة الصحيحة : ٥ = ١ × ٥ درجات

٥

١- غشاء ليفي يضم شبكة من الشعيرات الدموية التي تلتصق بالدماغ :

الأم الجافية .

السمحاق .

الأم الحنون .

الأم العنكبوتية .

٢- تعتبر مادة الميسكالين من العقاقير :

المثبطة .

المهلوسة .

المخدرة .

المهبطة .

٣- هرمون تفرزه القشرة الكظرية يعمل على تنظيم عملية الأيض وتنشيط الجسم :

الكورتيزول .

الإبينفرين .

الألدوستيرون .

النورإبينفرين .

٤ - طور الإباضة هو أحد أطوار دورة الحيض ويتميز بأحد الخصائص :

- أطول أطوار الدورة .
 يقل إفراز هرموني LH و FSH بشكل فجائي .
 قبل الإباضة تنخفض درجة حرارة الجسم إلى حوالي 36.2°C .
 يقل إنتاج هرمون الأستروجين .

٥- تتميز الأجسام المضادة بأنها :

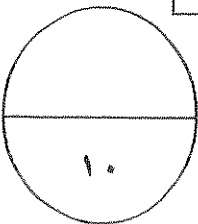
- تتكون من سلسلتين ببتيديتين ثقيلتين وسلسلة ببتيدية خفيفة .
 جميعها تكون حرة ومنتشرة في الدم .
 السلسلتان الببتيديتان الخفيفتان متصلتان ببعضهما البعض عن طريق المفصل المرن .
 اختلاف المنطقة المتغيرة من جسم مضاد لآخر يسمح بأن يتعرف على أنتيجين محدد ويرتبط به .

السؤال الأول : (ب) ضع علامة (√) أمام العبارة الصحيحة و علامة (X) أمام العبارة غير الصحيحة

لكل عبارة من العبارات التالية : ٥ × ١ = ٥ درجات

٥

م	العبارة	الإجابة
١	تتواجد خلايا شوان في الجهاز العصبي الطرفي	()
٢	يحدث جهد الراحة وهو يساوي 50 mv - نتيجة الاختلاف في تركيز الأيونات على جانبي غشاء الخلية	()
٣	الهرمون المحفز للنمو في الهيدرا يعمل أيضا على تثبيط التكاثر اللاجنسي فيه	()
٤	أنترلوكين-2 (IL-2) الذي تفرزه خلايا T_H تلعب دورا كبيرا في المناعة الإقرارية	()
٥	تختزن خلايا الذاكرة المعلومات عن الأنتيجينات التي حاربها الجهاز المناعي مما يؤدي إلى زيادة سرعة الاستجابة المناعية الثانوية	()



درجة السؤال الأول

١٠

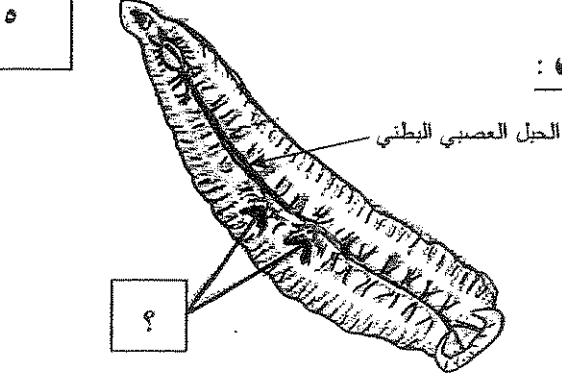
السؤال الثاني : (أ) اكتب الاسم أو المصطلح العلمي الذي تدل عليه كل عبارة من العبارات

التالية : ٥ × ١ = ٥ درجات

٥

م	العبارة	الإجابة
١	مرض يفسد فيه نسيج الدماغ نتيجة تراكم ترسبات بروتينية غير طبيعية فيه ويفقد المصابون به الذاكرة	
٢	هرمون تفرزه الغدد جارات الدرقية يزيد مستوى الكالسيوم في الدم	
٣	عضو يتم من خلاله تبادل المغذيات والأكسجين والفضلات بين الأم والجنين النامي	
٤	بروتينات تفرزها الخلايا المصابة وتعمل على وقاية الخلايا السليمة المجاورة	
٥	الجزء السطحي للأنتيجين الذي يتم التعرف عليه من قبل الجسم المضاد ليرتبط به	

السؤال الثاني (ب) ادرس الأشكال التالية ثم أجب عن المطلوب : ١٠ × ١/٢ = ٥ درجات



١- الشكل المقابل يوضح الجهاز العصبي في الدودة ، والمطلوب :

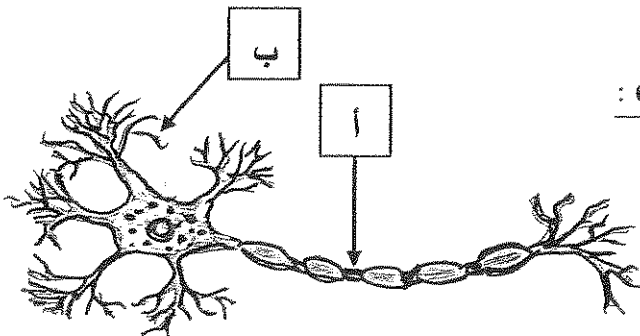
- اسم هذه الدودة

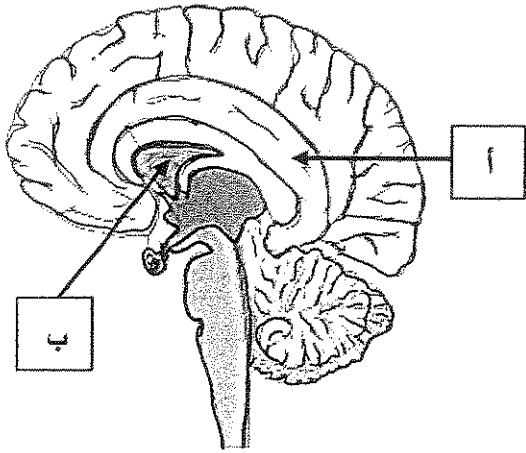
- يشير السهم إلى

٢- الشكل المقابل يوضح تركيب الخلية العصبية ، والمطلوب :

- يشير السهم (أ) إلى

- يشير السهم (ب) إلى



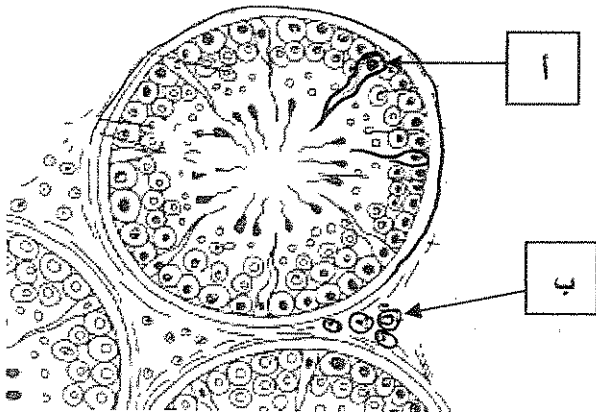


٣- الشكل المقابل يمثل تركيب الدماغ ، والمطلوب :

يشير السهم (أ) إلى

يشير السهم (ب) إلى

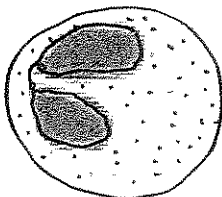
٤- الشكل المقابل يمثل مقطع عرضي لبعض نيبات النبي ، والمطلوب :



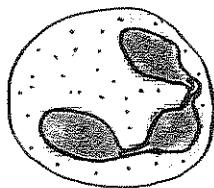
يشير السهم (أ) إلى

يشير السهم (ب) إلى

٥- الشكل المقابل يوضح أنواع خلايا الدم البيضاء :



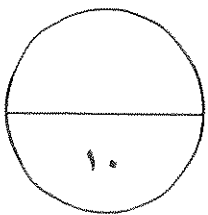
ب



أ

- نوع الخلية في الشكل (أ)

- نوع الخلية في الشكل (ب)



درجة السؤال الثاني

المجموعة الثانية: "الأسئلة المقالية"

أجب عن جميع أسئلة هذه المجموعة (من السؤال الثالث إلى السؤال السادس)

السؤال الثالث: (أ) علل لما يلي تعليلا علميا سليما : ٤ × ١ = ٤ درجات

١- ضرورة وجود مضخة الصوديوم-البوتاسيوم في غشاء الخلية .

٢- يعاني بعض الأطفال من حالة تسمى القماءة .

٣- تظل الخصيتان خارج تجويف الجسم في كيس الصفن .

٤- عند تعرض الانسان لفيروس عوز المناعة البشرية ووصوله لمرحلة الإيدز، تصبح المناعة التخصصية أقل فاعلية في مواجهة الأمراض .

السؤال الثالث: (ب) ما المقصود علميا بكل مما يلي : ٤ × ١ = ٤ درجات

١- عتبة الجهد ؟

٢- القوس الانعكاسي ؟

٣- مرض البول السكري ؟

٤- المضادات الحيوية ؟

درجة السؤال الثالث

٨

السؤال الرابع : (أ) قارن بإكمال الجدول التالي حسب المطلوب علميا : $٨ \times \frac{1}{2} = ٤$ درجات

٤	وجه المقارنة	الجهاز السمبثاوي	الجهاز نظير السمبثاوي
	تأثيره على الممرات الهوائية		
	وجه المقارنة	هرمون النمو GH	هرمون كالسيتونين
	اسم الغدة التي تفرزه		
	وجه المقارنة	أنزيمات الجسم الطرفي في الحيوان المنوي	الذيل في الحيوان المنوي
	الوظيفة		
	وجه المقارنة	الصنف الأول لأنتجين خلايا الدم البيضاء	الصنف الثاني لأنتجين خلايا الدم البيضاء
	مكان ظهوره في البشر		

السؤال الرابع : (ب) اذكر المطلوب لكل مما يلي : $٨ \times \frac{1}{2} = ٤$ درجات

٤

١- حدد اتجاه انتقال السوائل العصبية في فرع المحور الطرفي وفرع المحور المركزي للخلايا العصبية وحيدة القطب .

فرع المحور الطرفي :

فرع المحور المركزي :

٢- كيف يحافظ الهرمون المضاد لإدرار البول ADH على اتزان المحتوى المائي داخل الجسم؟

.....
.....

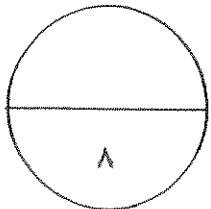
٣- ~~حكم~~ كيفية تشخيص بعض الالتهابات المتقولة جنسيا .

السيلان :
الزهري :

٤- اشرح كيف تختل وظيفة الجهاز المناعي ؟ اذكر مثلا لأحد أمراض المناعة الذاتية.

تختل وظيفة الجهاز المناعي :

مثال لأحد أمراض المناعة الذاتية :



درجة السؤال الرابع

السؤال الخامس : (أ) ما أهمية كل ما يلي : ٤ × ١ = ٤ درجات

١- خلايا الغراء العصبي قليلة التفرعات ؟

٢- المخيخ ؟


٣- السائل الأمنيوتي للجنين ؟

٤- الخلايا الناتية الكابحة أو المثبطة ؟

٤

السؤال الخامس (ب) أكمل المخططات التالية بما يناسبها علمياً : ٨ × 1/2 = ٤ درجات

١- نوعين من أنواع الفصوص التي تقسم شقوق المخ



٢- تحت المهاد


غدة نخامية

تأثير هرمون FSH

تأثير هرمون LH

الخصيتان


الخصيتان



٣- الجهاز المناعي الفطري

خط الدفاع الأول

يتكون من



٨

درجة السؤال الخامس

٤

السؤال السادس (أ) أجب عن الأسئلة التالية : ٨ × ١/٢ = ٤ درجات

١- يتأثر الجهاز العصبي لأنواع مختلفة من المنبهات ، والمطلوب :

- ما هو المنبه ؟

- اذكر مثلا للمنبهات الكيميائية

٢- يوجد نوعان من الغدد في جسم الانسان هما غدد الإفراز الداخلي وغدد الإفراز الخارجي ، والمطلوب :

- لماذا تعتبر غدد الإفراز الخارجي غدد قنوية ؟

- اذكر مثلا واحدا لغدد الإفراز الخارجي :

٣- تمر البويضة أثناء تكوينها في عدة مراحل ، والمطلوب :

- اذكر الطور الذي تُجمد فيه الخلية البيضية الأولية

- اذكر الطور الذي تُجمد فيه الخلية البيضية الثانوية

٤- عدد خصائص الجهاز المناعي التكيفي (المتخصص) : (اذكر نقطتين فقط)

.....

.....

٤

السؤال السادس (ب) أدرس الأشكال التالية جيدا ثم أجب عن المطلوب : ٤ درجات

١- يوضح الشكل المقابل مراحل انتقال السيال العصبي عبر المشبك الكيميائي ، والمطلوب:

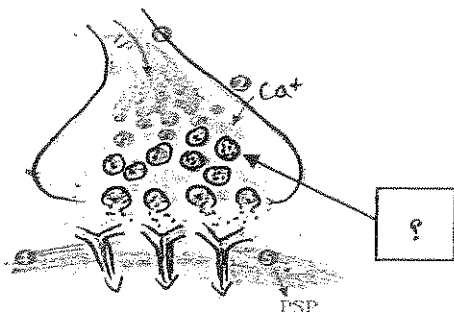
- ما أهمية التركيب المشار إليه بالسهم ؟

.....

- اذكر سببا واحدا يؤدي إلى انغلاق القنوات الأيونية :

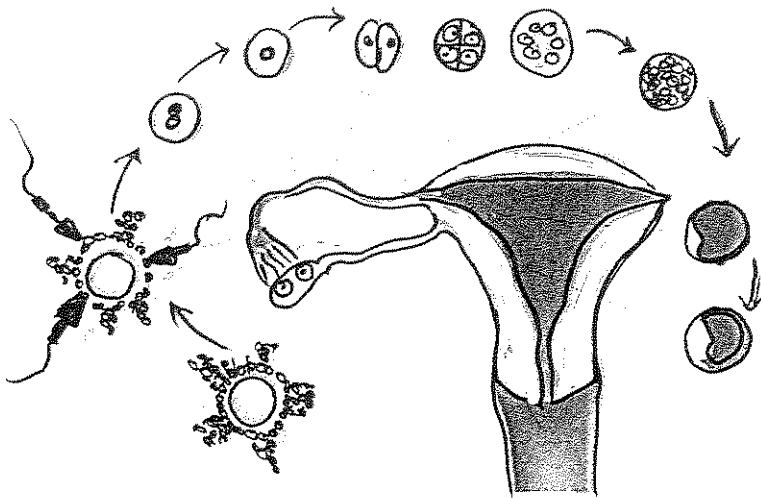
.....

.....



٢- يوضح الشكل المقابل المراحل من الإخصاب إلى الانغراس داخل رحم الأنثى ، والمطلوب :

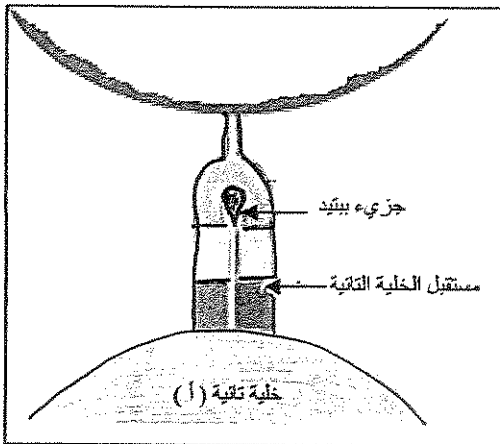
- أين يتم إخصاب البويضة الناضجة داخل الرحم ؟



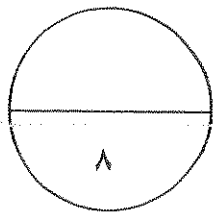
- متى تحدث عملية الانغراس ؟

٣- يوضح الشكل المقابل آلية التعرف المزوج لمستقبل الخلايا التائية ، والمطلوب :

- اذكر اسم الخلية المستضيفة في هذه العملية :



- ما دور الخلية المستضيفة في هذه العملية ؟



درجة السؤال السادس

انتهت الأسئلة

(الأسئلة في ٩ صفحات)
الزمن : ساعتان



وزارة التربية

دولة الكويت
وزارة التربية
التوجيه الفني العام للعلوم

امتحان نهاية الفترة الدراسية الأولى

للف الثاني عشر - علمي

في مادة الأحياء للعام الدراسي ٢٠١٨-٢٠١٩ م

المجموعة الأولى : الأسئلة الموضوعية

أجب عن جميع أسئلة هذه المجموعة (السؤال الأول و الثاني)

السؤال الأول : (أ) اختر الإجابة الصحيحة علمياً لكل عبارة من العبارات التالية وذلك بوضع علامة (✓)

أمام الإجابة الصحيحة: ٥ × ١ = ٥ درجات

٥

١- غشاء ليفي يضم شبكة من الشعيرات الدموية التي تلتصق بالدماغ : ص ٣٨

الأم الجافية .

السمحاق .

الأم الحنون .

الأم العنكبوتية .

٢- تعتبر مادة الميسكالين من العقاقير : ص ٥٥

المثبطة .

المهلوسة .

المخدرة .

المهبطة .

٣- هرمون تفرزه القشرة الكظرية يعمل على تنظيم عملية الأيض وتنشيط الجسم : ص ٧٠ ص ٧١ ص ٧٣

الكورتيزول .

الإبينفرين .

الألدوستيرون .

النورإبينفرين .



٤ - طور الإباضة هو أحد أطوار دورة الحيض ويتميز بأحد الخصائص : ص ٨٩
 أطول أطوار الدورة .

يقل إفراز هرموني LH و FSH بشكل فجائي .

قبل الإباضة تنخفض درجة حرارة الجسم إلى حوالي 36.2°C .

يقل إنتاج هرمون الأستروجين .

٥ - تتميز الأجسام المضادة بأنها : ص ١١١

تتكون من سلسلتين ببتيديتين ثقيلتين وسلسلة ببتيدية خفيفة .

جميعها تكون حرة ومنتشرة في الدم .

السلسلتان الببتيديتان الخفيفتان متصلتان ببعضهما البعض عن طريق المفصل المرن .

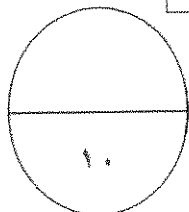
اختلاف المنطقة المتغيرة من جسم مضاد لآخر يسمح بأن يتعرف على أنتيجين محدد ويرتبط به .

السؤال الأول: (ب) ضع علامة (\checkmark) أمام العبارة الصحيحة و علامة (\times) أمام العبارة غير الصحيحة


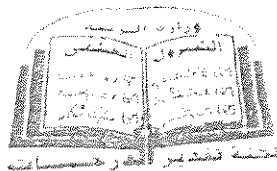
لكل عبارة من العبارات التالية : $5 \times 1 = 5$ درجات

٥

م	العبارة	الإجابة
١	تتواجد خلايا شوان في الجهاز العصبي الطرفي ص ٢١	(\checkmark)
٢	يحدث جهد الراحة وهو يساوي 50 mV - نتيجة الاختلاف في تركيز الأيونات على جانبي غشاء الخلية ص ٢٦	(\times)
٣	الهرمون المحفز للنمو في الهيدرا يعمل أيضا على تثبيط التكاثر اللاجنسي فيه ص ٦٠	(\times)
٤	أنترلوكين-2 (IL-2) الذي تفرزه خلايا T_H تلعب دورا كبيرا في المناعة الإفرزية ص ١١٣	(\times)
٥	تخزن خلايا الذاكرة المعلومات عن الأنتيجينات التي حاربها الجهاز المناعي مما يؤدي إلى زيادة سرعة الاستجابة المناعية الثانوية ص ١١٨	(\checkmark)



درجة السؤال الأول



وزارة التربية والتعليم

السؤال الثاني : (أ) اكتب الاسم أو المصطلح العلمي الذي تدل عليه كل عبارة من العبارات

التالية : ٥ × ١ = ٥ درجات

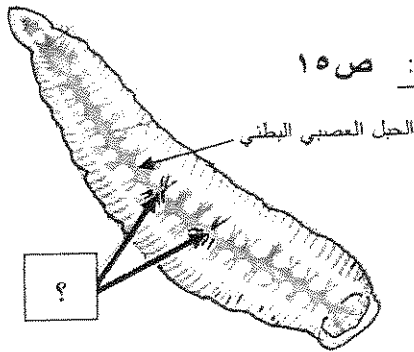
٥

م	العبارة	الإجابة
١	مرض يفسد فيه نسيج الدماغ نتيجة تراكم ترسبات بروتينية غير طبيعية فيه ويفقد المصابون به الذاكرة ص ٥٢	الزهايمر
٢	هرمون تفرزه الغدد جارات الدرقية يزيد مستوى الكالسيوم في الدم ص ٦٩ ص ٧٣	باراثيرويد أو PTH
٣	عضو يتم من خلاله تبادل المغذيات والأكسجين والفضلات بين الأم والجنين النامي ص ٩٤	المشيمة
٤	بروتينات تفرزها الخلايا المصابة وتعمل على وقاية الخلايا السليمة المجاورة ص ١٠٦	الإنترفيرونات
٥	الجزء السطحي للأنتيجين الذي يتم التعرف عليه من قبل الجسم المضاد ليرتبط به ص ١١١	الحاتمة

السؤال الثاني (ب) ادرس الأشكال التالية ثم أجب عن المطلوب : ١٠ × ١/٢ = ٥ درجات

٥

١- الشكل المقابل يوضح الجهاز العصبي في الدودة ، والمطلوب : ص ١٥



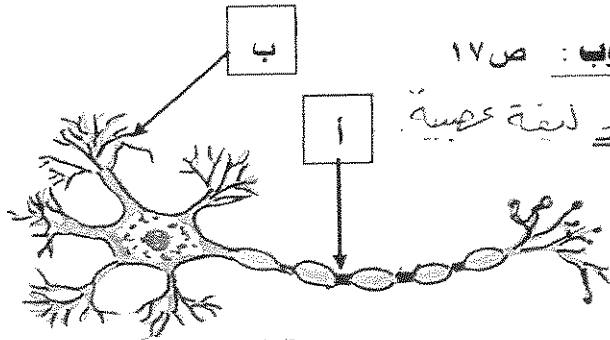
العلق الطبي

- اسم هذه الدودة

عقد عصبية

يشير السهم إلى

٢- الشكل المقابل يوضح تركيب الخلية العصبية ، والمطلوب : ص ١٧




يشير السهم (أ) إلى

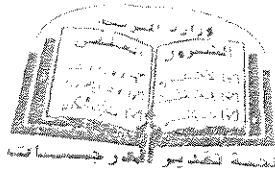
عقدة رانفيير أو المحور أو ليفة عصبية

يشير السهم (ب) إلى

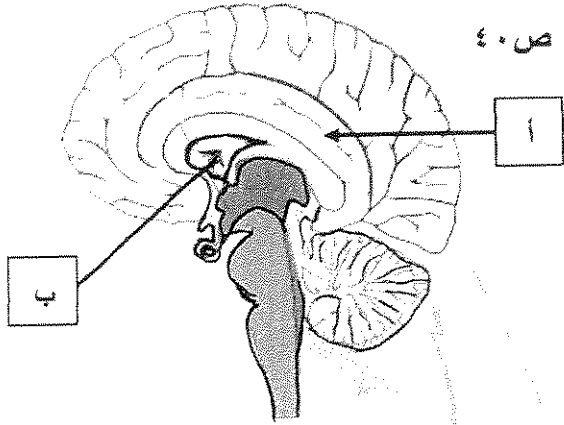
زوائد شجرية



التربية والتعليم

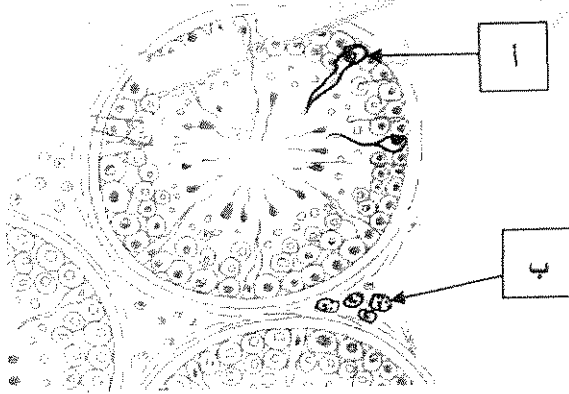


٢- الشكل المقابل يوضح تركيب الدماغ ، والمطلوب : ص ٤٠



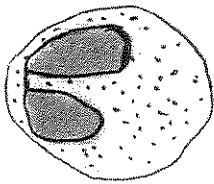
يشير السهم (أ) إلى الجسم الجاسئ في المخ
يشير السهم (ب) إلى المادة البيضاء تحت المخ

٤- الشكل المقابل يمثل مقطع عرضي لبعض نيبات المني ، والمطلوب : ص ٨٢

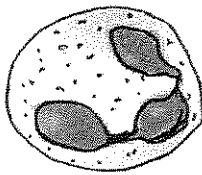


يشير السهم (أ) إلى خلايا سرتولي
يشير السهم (ب) إلى خلايا خلالية أو خلايا ليدج

٥- الشكل المقابل يوضح أنواع خلايا الدم البيضاء : ص ١٠٧

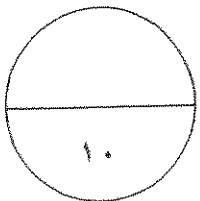


ب

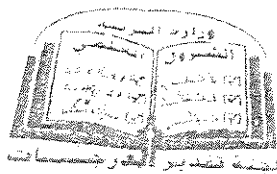


أ

- نوع الخلية في الشكل (أ) المتعادلة
- نوع الخلية في الشكل (ب) الحمضية



درجة السؤال الثاني



وزارة التربية والتعليم
التربية والتعليم

المجموعة الثانية: "الأسئلة المقالية"

أجب عن جميع أسئلة هذه المجموعة (من السؤال الثالث إلى السؤال السادس)

٤

السؤال الثالث : (أ) علل لما يلي تعليلا علميا سليما : ٤ × ١ = ٤ درجات

١- ضرورة وجود مضخة الصوديوم-البوتاسيوم في غشاء الخلية . ص ٢٧

لأنها تقوم بنقل نشط لثلاثة أيونات صوديوم $3Na^+$ من داخل الخلية إلى البيئة الخارجية مقابل نقل

أيوني بوتاسيوم $2K^+$ من البيئة الخارجية للخلية إلى داخل الخلية مما يستلزم هذا النقل النشط

استهلاك طاقة ATP . أي الخاطئة استصطاح الخلية أو كقول السائل العلمي أو استمرارية
٢- يعاني بعض الأطفال من حالة تسمى القماءة . ص ٧٦ خطأ الخلية

بسبب وجود حالة نقص في اليود في غذائهم مما يسبب العجز عن إنتاج هرمون الثيروكسين الضروري للنمو الطبيعي.

٣- تظل الخصيتان خارج تجويف الجسم في كيس الصفن . ص ٧٩

لأن اتمام نمو الحيوانات المنوية يحتاج إلى درجة حرارة منخفضة عن حرارة الجسم بدرجتين أو ثلاث.

٤- عند تعرض الانسان لفيروس عوز المناعة البشرية ووصوله لمرحلة الإيدز، تصبح المناعة التخصصية أقل فاعلية في مواجهة الأمراض . ص ١٢٣

بسبب انخفاض عدد الخلايا التائية المساعدة T4 في الدم أو كلما زاد تركيز فيروس عوز المناعة البشرية في الدم انخفض تركيز الخلايا التائية T4 المساعدة في الدم .

السؤال الثالث : (ب) ما المقصود علميا بكل مما يلي : ٤ × ١ = ٤ درجات

٤

١- عتبة الجهد ؟ ص ٢٨

هو الحد الأدنى من إزالة استقطاب جهد الغشاء لتوليد جهد العمل -50mv

٢- القوس الانعكاسي ؟ ص ٤٦

هو مسار الخلايا العصبية التي تنقل السيالات العصبية منذ بداية التعرض لمنبه ما حتى حدوث استجابة آلية لإرادية أو فعل انعكاسي .

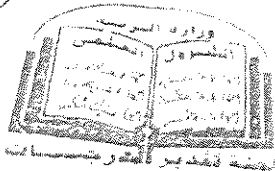
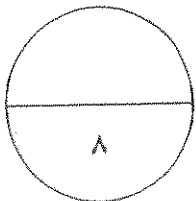
٣- مرض البول السكري ؟ ص ٧٦

خلل يعجز بسببه الجسم عن ضبط مستويات السكر في الدم .

٤- المضادات الحيوية ؟ ص ١٠٣

مركبات تقتل البكتيريا من دون أن تضر خلايا أجسام البشر أو الحيوانات وذلك

بإيقاف العمليات الخلوية في البكتيريا .



وزارة التربية والتعليم

التربية والتعليم

السؤال الرابع : (أ) قارن بإكمال الجدول التالي حسب المطلوب علمياً : $8 \times \frac{1}{2} = 4$ درجات

وجه المقارنة	الجهاز السمبثاوي	الجهاز نظير السمبثاوي
تأثيره على الممرات الهوائية ص ٤٩	يوسع الممرات الهوائية	يقصص الممرات الهوائية
وجه المقارنة	هرمون النمو GH	هرمون كالسيتونين
اسم الغدة التي تفرزه ص ٧٢-٧٣	الفص الأمامي للغدة النخامية الغدة النخامية	الغدة الدرقية
وجه المقارنة	أنزيمات الجسيم الطرفي في الحيوان المنوي	الذيل في الحيوان المنوي
الوظيفة ص ٨٣-٨٤	تساعد في عملية اختراق جدار البويضة	مسؤول عن حركة الحيوان المنوي المستقلة
وجه المقارنة	الصف الأول لأنتجين خلايا الدم البيضاء	الصف الثاني لأنتجين خلايا الدم البيضاء
مكان ظهوره في البشر ص ١١٢	يظهر على جميع خلايا الجسم التي لديها نواة	يظهر على بعض خلايا الجهاز المناعي وخاصة الخلايا البلعمية

السؤال الرابع : (ب) اذكر المطلوب لكل مما يلي : $8 \times \frac{1}{2} = 4$ درجات

١- حدد اتجاه انتقال السوائل العصبية في فرع المحور الطرفي وفرع المحور المركزي للخلايا العصبية وحيدة القطب ص ١٨-١٩

فرع المحور الطرفي : ينقل السوائل العصبية من الزوائد الشجرية إلى جسم الخلية . $\frac{1}{2}$

فرع المحور المركزي : ينقل السوائل العصبية بعيداً عن جسم الخلية . $\frac{1}{2}$

٢- كيف يحافظ الهرمون المضاد لإدرار البول ADH على اتزان المحتوى المائي داخل الجسم؟ ص ٦٨

يزيد من نفاذية الأنابيب الكولية للماء فيرشح من داخل الأنابيب إلى السائل بين الخلوي ،

يؤدي ذلك إلى ارتفاع تركيز البول داخل الأنابيب وانخفاض كميته فيقل بإرتفاع إدرار البول . (درجة)

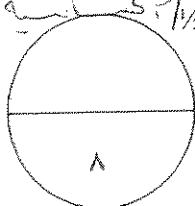
٣ × حدد كيفية تشخيص بعض الالتهابات المنقولة جنسياً ص ٩٩

السيلان : مسحة للعضو التناسلي المصاب بالالتهاب أو المهبل . $\frac{1}{2}$ الزهري : أخذ عينة من الدم . $\frac{1}{2}$

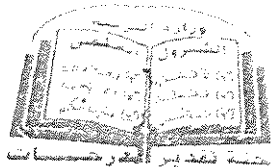
٤- اشرح كيف تختل وظيفة الجهاز المناعي ؟ اذكر مثالا لأحد أمراض المناعة الذاتية ص ١٢١

تختل وظيفة الجهاز المناعي حين يهاجم الجهاز المناعي أنسجة الجسم معتقداً بأنها من الكائنات الممرضة $\frac{1}{2}$

مثال لأحد أمراض المناعة الذاتية : مرض التصب المتعدد أو مرض البول السكري من النمط الأول $\frac{1}{2}$ كيميائية الزبير



درجة السؤال الرابع



وزارة التربية

الجمهورية العربية السورية

٤

السؤال الخامس : (أ) ما أهمية كل ما يلي : $٤ \times ١ = ٤$ درجات

١- خلايا الغراء العصبي قليلة التفرعات ؟ ص ٢٠

مسؤولة عن تكوين غلاف الميلين حول محاور الخلايا العصبية في الجهاز العصبي المركزي .

٢- المخيخ ؟ ص ٤١

يحتوي على المراكز العصبية التي تضبط تناسق حركات العضلات وتوازن الجسم خلال الحركة أو تنسيق حركة العضلات الإرادية والارادية لتبقي الجسم في حالة من التوازن .

٣- السائل الأمنيوني للجنين ؟ ص ٩٤

يؤدي دور وسادة واقية حول الجنين النامي

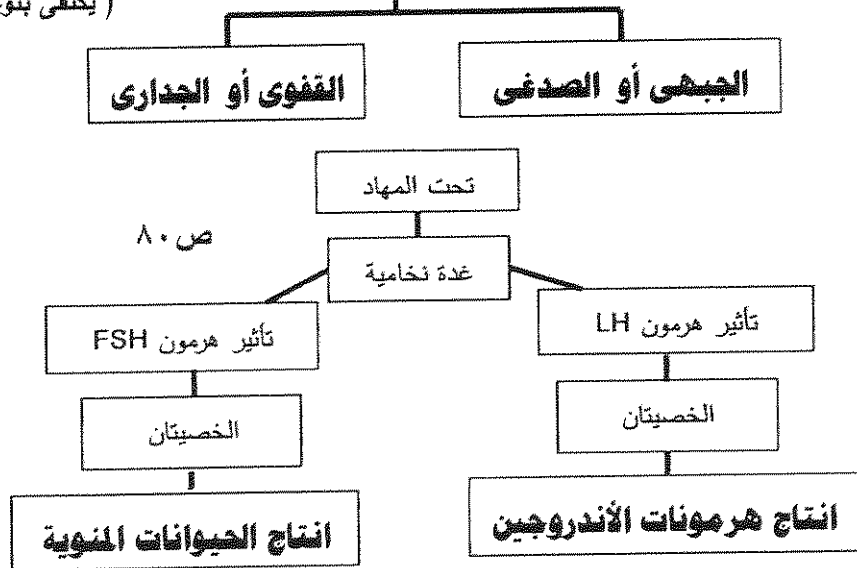
٤- الخلايا التائية الكابحة أو المثبطة ؟ ص ١١٠

تثبط نشاط الخلايا التائية الأخرى عندما لا تكون الحاجة إليها ملحة في الجسم

السؤال الخامس (ب) أكمل المخططات التالية بما يناسبها علمياً : $٨ \times ١/٢ = ٤$ درجات

٤

١- نوعين من أنواع الفصوص التي تقسم شقوق المخ (يكتفى بنوعين من الفصوص) ص ٤١-٤٢

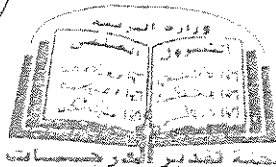


٢- الحمض المعدي أو الدموع (يكتفى بنكر ؛ أنواع فقط) ص ١٠٤

٨

درجة السؤال الخامس

وزارة التربية والتعليم
التربية والتعليم



٤

السؤال السادس (أ) أجب عن الأسئلة التالية : $8 \times \frac{1}{2} = 4$ درجات

- ١- يتأثر الجهاز العصبي لأنواع مختلفة من المنبهات ، والمطلوب : ص ٣٠-٣١
- ما هو المنبه ؟ هو تبدل في الوسط الخارجي أو الوسط الداخلي بسرعة تكفي لاستثارة المستقبلات الحسية والخلايا العصبية وبالتالي توليد استجابة ملائمة له .
- اذكر مثالاً للمنبهات الكيميائية الأيونات والجزيئات الكيميائية الخاصة بمستقبلات الشم أو الجزيئات الكيميائية الخاصة بمستقبلات التذوق .

- ٢- يوجد نوعان من الغدد في جسم الانسان هما عدد الإفراز الداخلي وعدد الإفراز الخارجي ، والمطلوب : ص ٦٣
- لماذا تعتبر عدد الإفراز الخارجي غدد قنوية ؟ لأنها تنقل عصارتها أو إفرازاتها عبر تراكيب تشبه الأنابيب تسمى القنوات مباشرة إلى موقع محدد إما خارج الجسم أو تنقلها لأعضاء داخلية .
- اذكر مثالاً واحداً لغدد الإفراز الخارجي الغدد العرقية أو اللعابية أو الدهنية .


- ٣- تمر البويضة أثناء تكوينها في عدة مراحل ، والمطلوب : ص ٨٦-٨٧
- اذكر الطور الذي تُجمد فيه الخلية البيضية الأولية الطور التمهيدي الأول
- اذكر الطور الذي تُجمد فيه الخلية البيضية الثانوية الطور الاستوائي الثاني

- ٤- عدد خصائص الجهاز المناعي التكيفي (المتخصص) (اذكر نقطتين فقط) ص ١١٣
- الاستجابة المناعية نوعية أو تخصصية . ((كل دفاع للجهاز المناعي يستهدف كأننا ممرضاً خاصاً))
- الاستجابة المناعية تصبح أكثر فعالية ضد الكائن المرض في حال التعرض له للمرة الثانية .
- الاستجابة المناعية تعمل من خلال جسم الكائن بأكمله .

٤

السؤال السادس (ب) أدرس الأشكال التالية جيداً ثم أجب عن المطلوب : ٤ درجات

- ١- يوضح الشكل المقابل مراحل انتقال السيال العصبي عبر المشبك الكيميائي ، والمطلوب : ص ٣٣-٣٤
- ما أهمية التركيب المشار إليه بالسهم ؟ تحتوي مواد كيميائية تسمى نواقل عصبية مسؤولة عن نقل الرسائل العصبية عبر المشبكات الكيميائية . (درجة)
- اذكر سبباً واحداً يؤدي إلى انغلاق القنوات الأيونية (درجة)
بعد أن يفتت أنريم خاص النواقل العصبية الموجودة على المستقبلات البروتينية .



التربية والتعليم

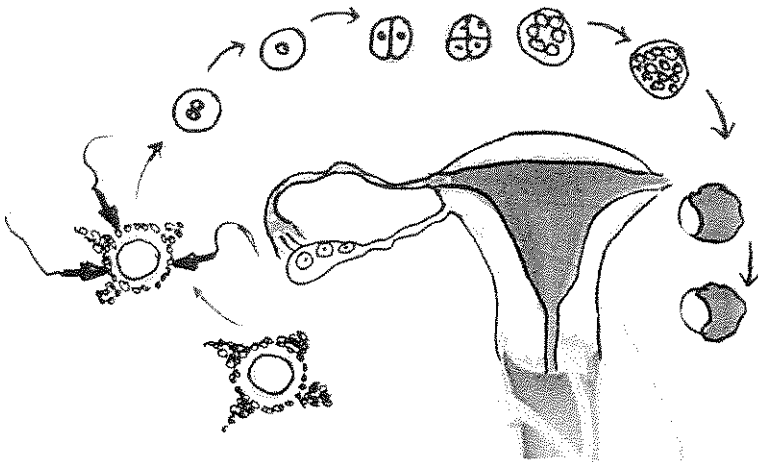
٢- يوضح الشكل المقابل المراحل من الإخصاب إلى الانغراس داخل رحم الأنثى ، والمطلوب : ص ٩٣-٩٤

أين يتم إخصاب البويضة الناضجة داخل الرحم ؟

في قناة فالوب ½

متى تحدث عملية الانغراس ؟

عندما تلتصق البلاستيولا بجدار الرحم ½



٣- يوضح الشكل المقابل آلية التعرف المزدوج لمستقبل الخلايا التائية ، والمطلوب : ص ١١٢

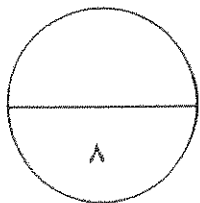
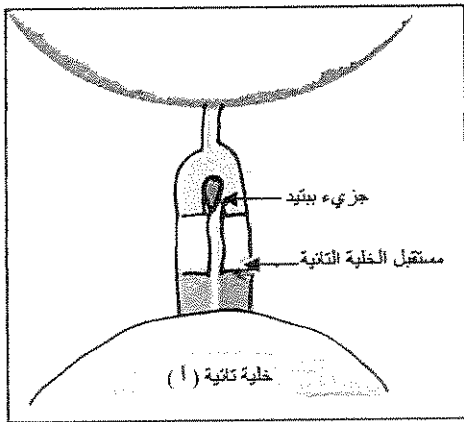
أذكر اسم الخلية المستضيفة في هذه العملية

الخلية البلعمية ½

ما دور الخلية المستضيفة في هذه العملية ؟

تعمل على هضم أنتيجينات إلى ببتيدات ثم يرتبط كل ببتيد

بجزء العرض وهو أنتجين خلايا الدم البيضاء البشرية . ½



درجة السؤال السادس



انتهت الأسئلة



الجمهورية الجزائرية الديمقراطية الشعبية

المادة : الأحياء
الصف : الثاني عشر
الزمن : ساعتان



دولة الكويت
وزارة التربية
التوجيه الفني العام للعلوم

امتحان نهاية الفترة الدراسية الأولى للعام الدراسي ٢٠١٧ - ٢٠١٨ م

ملاحظة هامة : عدد صفحات الامتحان (٩) صفحات مختلفة

المجموعة الأولى : الأسئلة الموضوعية (السؤال الأول و الثاني)

السؤال الأول : (أ) اختر الإجابة الصحيحة علمياً لكل عبارة من العبارات التالية و ذلك بوضع

٦

(٦ = ١ × ٦ درجات)

علامة (✓) أمام الإجابة الصحيحة :-

١- أحد العقاقير التالية من الممكن أن تجعل متعاطيها قد يتخيل مناظر و أصواتاً و يتفاعل بصورة غير متوقعة مع الأشياء في البيئة المحيطة:

الميسكالين

الكافيين

الباربيتورات

الامفيتامين

٢- يضبط الجهاز الهرموني عمليات النمو والإسلاخ في مفاصليات الأرجل من خلال إفراز:

هرمونين

هرمون واحد

عشرين هرمون

ثلاث هرمونات

٣- هرمون تفرزه هشرة الغدة الكظرية يساعد في تنظيم معدلات أيض الكربوهيدرات، الدهون و البروتينات و ينشط الجسم في حالات الإجهاد المزمن :

اللوتيني

الكورتيزول

البرولاكتين

الفازوبريسين

٤- نوع من الالتهابات الجنسية يشخص بأخذ عينة دم و من أعراضه قروح على الأعضاء التناسلية و الشرج و الفم و الجلد :

الإيدز

الزهري

تضخم البروستاتا

داء البطانة الرحمية

٥- الإييز من أسرع الأمراض الوبائية انتشاراً في العالم و يؤثر بشكل مباشر على مقبرة الجهاز:

الدوري

التناسلي

الهضمي

المناعي

٦- من أعراض الحمى التي تظهر على المصاب بمرض معدي ارتفاع درجة حرارة الجسم مما يؤدي إلى :

تنشيط الخلايا البدينة

تحفيز السيبتوكينات

تحفيز البيروجينات

إعاقة نمو و تكاثر الكائن الممرض

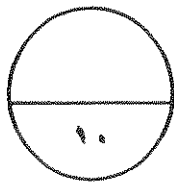
السؤال الأول: (ب) ضع علامة (✓) أمام العبارة الصحيحة وعلامة (x) أمام العبارة غير

(٤ × ١ = ٤ درجات)

الصحيحة لكل عبارة من العبارات التالية :-

٤

م	العبارة	الإجابة
١	يتكون مخ الهيدرا من عقدتين عصبيتين و عقد عصبية أخرى موزعة على طول الحبل العصبي البطني.	
٢	يقوم الجهاز العصبي المركزي بربط الجهاز العصبي الطرفي بأعضاء الجسم كلها.	
٣	يعالج الأطباء القماءة بتناول جرعات يومية محددة و بدقة من الثيروكسين.	
٤	قاتل الخلية مصطلح يطلق على سموم تفرزها الخلايا القاتلة للقضاء على الخلايا المستهدفة في الجسم .	



درجة السؤال الأول

السؤال الثاني: (أ) أكتب الاسم أو المصطلح العلمي الذي تدل عليه كل عبارة من العبارات

التالية :-

(٦ × ١ = ٦ درجات)

م	العبارة	الإجابة
١	أي شدة أعلى من عتبة التنبيه تكون قادرة على توليد جهد عمل	
٢	من أغشية السحايا التي تتميز بقوامها الإسفنجي و الذي يتكون من ألياف الكولاجين و بعض الألياف الأخرى .	
٣	هرمون تفرزه خلايا الغدة الدرقية يساعد على خفض مستوى الكالسيوم في الدم .	
٤	نزع الجنين عمداً من الرحم بسبب مشكلة صحية.	
٥	مركبات تقتل البكتيريا من دون أن تضر خلايا الجسم من خلال إيقاف العمليات الخلوية في البكتيريا.	
٦	المادة التي تُظهر الاستجابة المناعية أو تنشطها و معظمها مركبات موجودة على سطوح الكائنات الممرضة.	

السؤال الثاني : (ب) أدرس الأشكال التالية جيداً ثم أجب عن المطلوب :-

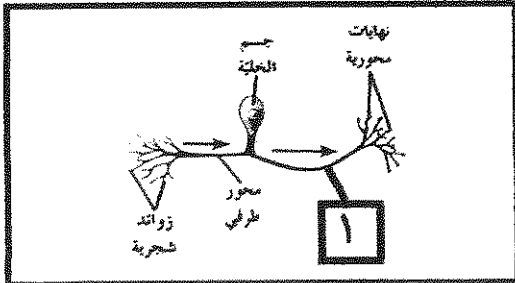
(٨ × ٠,٥ = ٤ درجات)

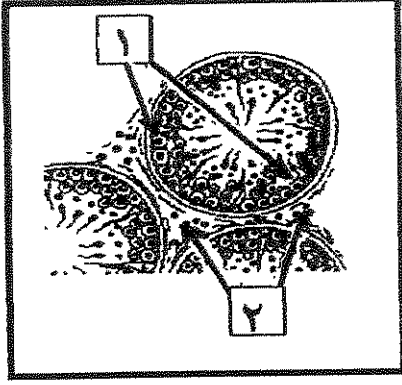
أولاً : الرسم المقابل يمثل أحد أنواع الخلايا العصبية

* ما اسم هذا النوع

* أكتب اسم الجزء الذي يشير له رقم (١)

.....





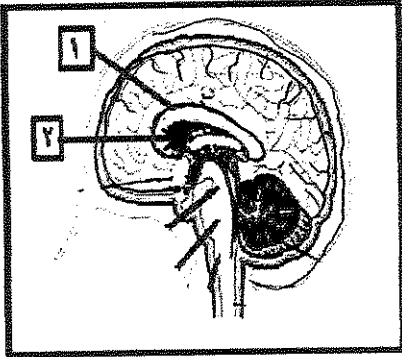
ثانياً : الشكل أمامك يوضح مقطع عرضي لبعض نيبات المني
أكتب اسم الأجزاء التي تشير إليها الأرقام التالية :

١-

٢-

ثالثاً : الشكل يمثل مقطع في الدماغ ،

* أكتب اسم الأجزاء التي تشير إليها الأرقام التالية :

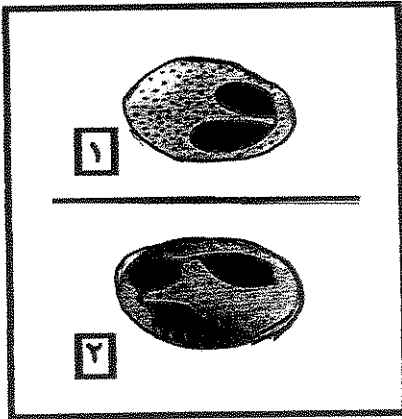


١-

٢-

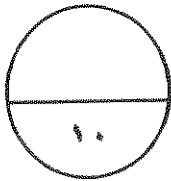
رابعاً : الشكل أمامك يوضح نوعان من خلايا الدم البيضاء .

أكتب اسم كل نوع من الخلايا :



١-

٢-



درجة السؤال الثاني

المجموعة الثانية : الأسئلة المقالية

(أربعة أسئلة من السؤال الثالث إلى السادس)

٤

السؤال الثالث: (أ) علل لما يلي تحليلاً علمياً سليماً :- (١ × ٤ = ٤ درجات)

١- تعتبر أجهزة الإحساس و الضبط عند الجراد أكثر تطور من نيدان العلق الطبي.

٢- يستخدم الجهاز العصبي الذاتي خليتين عصبيتين بدلاً من خلية عصبية واحدة.

٣- - للجسيم الطرفي أهمية وظيفية للحيوان المنوي .

٤- بعض الاجسام الممرضة يرتبط بها أكثر من نوع واحد من الأجسام المضادة خلال الاستجابة المناعية التخصصية.

٤

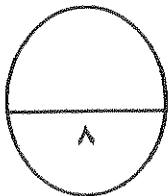
السؤال الثالث : (ب) ما المقصود علمياً بكل مما يلي :- (١ × ٤ = ٤ درجات)

١- السيل العصبي:

٢- الحبل الشوكي:

٣- غدد الإفراز الخارجي:

٤- الانتروفيرونات:



درجة السؤال الثالث

السؤال الرابع : (أ) قارن بإكمال الجدول التالي حسب المطلوب علمياً:

٤

(٨ × ٠,٥ = ٤ درجات)

(١)	المادة البيضاء في الحبل الشوكي	المادة الرمادية في الحبل الشوكي
	التركيب	
(٢)	الجذر الأمامي في الحبل الشوكي	الجذر الخلفي في الحبل الشوكي
	نوع الرسائل العصبية	
(٣)	مرض البول السكري النمط الثاني	مرض البول السكري النمط الأول
	سبب الإصابة	
(٤)	الجرانزيم	البرفورين
	دوره في القضاء على	الخلية المستهدفة

٤

السؤال الرابع : (ب) أذكر المطلوب لكل مما يلي : (٨ × ٠,٥ = ٤ درجات)

١- عدد أسباب استمرارية جهد الراحة من دون شرح ، أنكر اثنان من الأسباب فقط.

أ.....
ب.....

٢- للهرمونات دور مهم في تنظيم العديد من العمليات في القشريات ، أنكر اثنان من هذه العمليات :

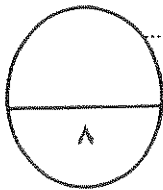
أ.....
ب.....

٣- تؤدي خلايا سرتولي وظائف مهمة خلال عملية تكوين الحيوانات المنوية ، أذكر اثنان من الوظائف:

أ.....
ب.....

٤- عدد أهم العناصر التي تشكل خط الدفاع الأول في الجهاز المناعي الفطري ، أذكر أربع العناصر.

أ.....
ب.....
ج.....
د.....



درجة السؤال الرابع

٤

السؤال الخامس: (أ) ما أهمية كل مما يلي :- (٤ × ٤ درجات)

١- خلايا شوان.

٢- هبوط الخصيتين في كيس الصفن خارج تجويف البطن .

٣- الهرمون المنظم لعملية التكاثر في أرنب البحر.

٤- ما أهمية (الهيستامين) في خط الدفاع الثاني خلال الالتهاب و ليس الحساسية .

٤

السؤال الخامس : (ب) أجب عن الأسئلة التالية : (٨ × ٠,٥ = ٤ درجات)

١- اشرح القوس الانعكاسي للخلايا العصبية عن يد لامست لهب شمعة .

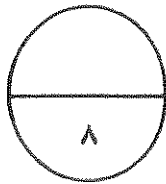
٢- عند ارتفاع مستوى سكر الدم يقوم البنكرياس بإفراز هرمون الأنسولين لخفض مستوى السكر
هرمون الانسولين يعمل على خفض السكر بالدم بطريقتين هما :

٣- عدد أهم الأعراض التي تظهر على مصاب بالقصور الدرقي ، أذكر اثنان من هذا الاعراض .

٤- مادة الانترلوكين من العناصر الفاعلة خلال الاستجابة المناعية التخصصية .
وضح كيف توظف الخلايا المناعية TH نوعان من هذه المادة خلال الاستجابة المناعية التخصصية.

الانترلوكين ٢ <=====

الانترلوكين ٤ <=====



درجة السؤال الخامس

(امتحان نهاية الفترة الدراسية الأولى للصف الثاني عشر العلمي في مادة الأحياء للعام الدراسي ٢٠١٧ - ٢٠١٨ م)

السؤال السادس: (أ) اقرأ كل عبارة من العبارات العلمية التالية جيداً ثم أجب عن المطلوب:-

٤

درجات (٨ × ٠,٥ = ٤ درجات)

١- (عند ظهور حيوان مفترس أمام الإنسان فمن الطبيعي أن تحدث له بعض الأعراض

مثل أن يخفق قلبه بقوة و يزيد معدل التنفس و يصفر وجهه و إلى آخره .

ما هو الجهاز المسبب لهذه الأعراض :

ما هو الجهاز الذي يحاول تخفيف هذه الأعراض :

٢- أذكر التطورات التي تحدث للزايجوت إلى أن يحدث الإنفراس الجنيني

أ.....

ب.....

٣- تنتشر معظم الأمراض المعدية عن طريق الاتصال غير المباشر .

أذكر اثنان من الكائنات الحية تعتبر نواقل للأمراض المعدية مع ذكر اسم المرض.

ناقل المرض:..... <===== < اسم المرض :

ناقل المرض:..... <===== < اسم المرض :

٤ - قد يحدث خلل في وظيفة الجهاز المناعي ، فيبدأ بمهاجمة أنسجة الجسم وبذلك يسبب أحد امراض

المناعة الذاتية . (حدد الأمراض الناتجة في كل حالة من الحالات التالية) :

- قيام الجهاز المناعي بتدمير الغلاف المايليني للخلايا العصبية في الجهاز العصبي المركزي.

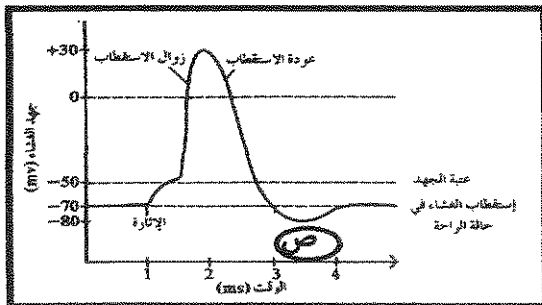
.....
- مهاجمة الجهاز المناعي لخلايا الإفراز الخارجي في البنكرياس.

السؤال السادس: (ب) أدرس الأشكال التالية جيداً ثم أجب عن المطلوب :- (٨ × ٠,٥ = ٤ درجات)

٤

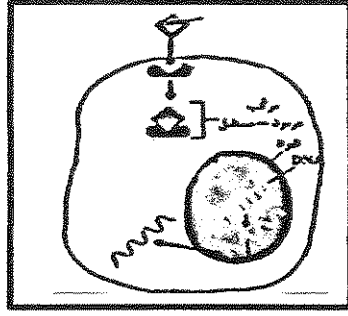
أولاً : الرسم أمامك يمثل مراحل جهد العمل لغشاء الخلية .

• ماذا تمثل المرحلة (ص) :



• ما سبب حدوثها :

ثانياً: الشكل يوضح إحدى آليات عمل الهرمونات .

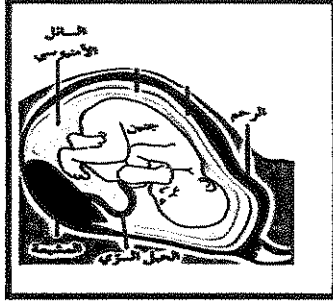


• يعتبر الهرمون الموضح بالشكل

من الهرمونات.....

• كيف يؤثر مركب (هرمون مستقبل) في عمل الخلية

ثالثاً: ينمو الجنين داخل الرحم محاطاً بأغشية داعمة.



• ما اسم الغشاء الذي يكون مع خلايا بطانة الرحم المشيمة ::

• ما دور السائل الأمنيوني :

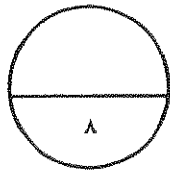
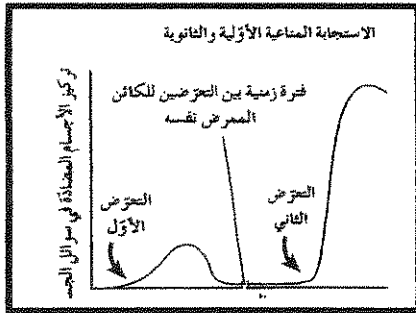
رابعاً: لاحظ في الشكل المقابل الإختلاف في ردة فعل الجهاز المناعي عند

تعرض الشخص للمرض المعدي نفسه خلال فترات زمنية مختلفة

يعود السبب في ذلك الى نوعين من الخلايا المناعية هي :

١:

٢:



درجة السؤال السادس

*** انتهت الأسئلة ***

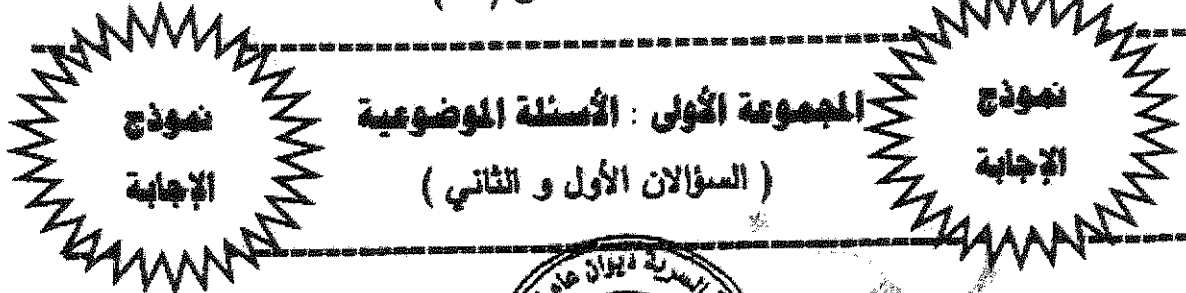
المادة : الأحياء
الصف : الثاني عشر
الزمن : ساعتان



دولة الكويت
وزارة التربية
التوجيه الفني العام للعلوم

امتحان نهاية الفترة الدراسية الأولى للعام الدراسي ٢٠١٧ - ٢٠١٨ م

ملاحظة هامة : عدد صفحات الامتحان (٩) صفحات مختلفة



السؤال الأول : (أ) اختر الإجابة الصحيحة من العبارات التالية وذلك بوضع

علامة (✓) أمام الإجابة الصحيحة : (١ × ٦ = ٦ درجات)

٦



١× - أحد العقاقير التالية من الممكن أن تجعل منظاراً و/أصواتاً و يتفاعل بصورة غير متوقعة مع الأشياء في البيئة المحيطة:

الميسكالين ص ٥٥
الباربيتورات

الكافيين
الامفيتامين

٢- يضبط الجهاز الهرموني عمليات النمو والإصلاح في مفاصليات الأرجل من خلال إفراز:

هرمونين ص ٦٠
عشرين هرمون

هرمون واحد
ثلاث هرمونات

٣- هرمون تفرزه خثرة الغدة الكظرية يساعد في تنظيم معدلات أيض الكربوهيدرات، الدهون و البروتينات و ينشط الجسم في حالات الإجهاد المزمن :

اللوتيني ص ٧٠
البرولاكتين

الكورتيزول
الفازوبريسين

امتحان نهاية الفترة الدراسية الأولى للصف الثاني عشر العلمي في مادة الأحياء للعام الدراسي ٢٠١٧ - ٢٠١٨ م

٤- نوع من الانتهاكات الجنسية يشخص بأخذ عينة دم من أعراضه قروح على الأعضاء التناسلية

- و الشرج و الفم و العج
- تضخم البروستاتا
- داء البطانة الرحمية
- الإيدز ص ٩٩
- الزهري

٥- الإيدز من أسرع الأمراض الوبائية انتشاراً في العالم و يؤثر بشكل مباشر على مقدرة الجهاز:

- الهضمي
- المناعي
- الدوري ص ١٢٢
- التناسلي

٦- من أعراض الحمى التي تظهر على المصاب بمرض معدي ارتفاع درجة حرارة الجسم من

ما يؤدي إلى :

- تخفيض البيروجينات
- إعاقة نمو و تكاثر الكائنات المتعددة الخلية
- تحفيز الخلايا البدينة ص ١٠٦
- تحفيز السيستوكينات



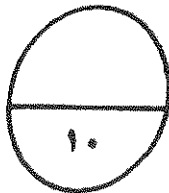
السؤال الأول: (ب) ضع علامة () أمام العبارة الصحيحة و علامة (x) أمام العبارة غير

(٤ - ١ x ٤ درجات)

الصحيحة لكل عبارة من العبارات التالية :-

٤

م	العبارة	الإجابة
١	يتكون مخ الهيدرا من عقتين عصبيتين و عقد عصبية أخرى موزعة على طول الحبل العصبي البطني ص ١٥	x
٢	يقوم الجهاز العصبي المركزي بربط الجهاز العصبي الطرفي بأعضاء الجسم كلها. ص ٤٤	x
٣	يعالج الأطباء القمأة بتناول جرعات يومية محددة وبنقطة من الثيروكسين. ص ٧٦	✓
٤	قتل الخلية مصطلح يطلق على موم تفرزها الخلايا القاتلة للقضاء على الخلايا المستهدفة في الجسم ص ١١٤	✓



درجة السؤال الأول

امتحان نهاية الفترة الدراسية الأولى لصف الثاني من الطم في مادة الصيدلانيات للعام الدراسي ٢٠١٦ - ٢٠١٧ م

السؤال الثاني: (أ) اكتب الاسم أو المصطلح الطم الذي يدل عليه كل عبارة من العبارات

التالية :-

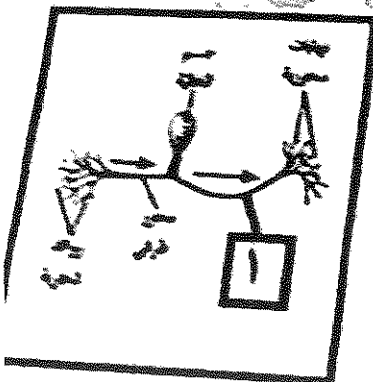
(١ × ٦ = ٦ درجات)

م	العبارة	الإجابة
١	أي شدة أعلى من عتبة تحسبه تكون فكرة على توليد جهد عمل .	(النسبة المعامل) ص ٢٩
٢	من أغشية المسحبات التي تتميز بقوامها الإمتجبي و التي يتكون من ألياف ككولاجين و بعض الألياف الأخرى .	(الأم العنكبوتية) ص ٢٨
٣	هرمون تفرزه خلايا الغدة الدرقية يساعد على خفض مستوى الكالسيوم في الدم	(كالسيتونين) ص ٢٨
٤	نوع الجنين عمداً من لرحم بسبب مشكلة صحية .	(الأجهاض العلاجي) ص ٩٥
٥	مركبات تقفل البكتيريا من دون أن تضر خلايا المص من خلال إيقاف العمليات الخلوية في البكتيريا	(المضادات الحيوية) ص ١٠٢
٦	المادة التي تظهر الاستجابة المناعية أو تنشيطها هي مستضاد مركبات موجودة على سطح الكائنات الممرضة	(الأنتيجينات لو الأنتيجين) ص ١١٢

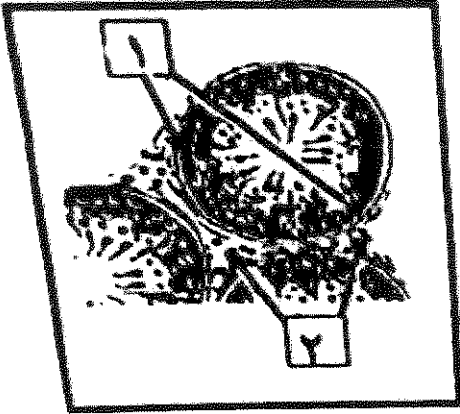
السؤال الثاني: (ب) ادرس الشكل التالية جيداً ثم أجب عن المطلوب :-

(٤ × ٥ = ٢٠ درجات)

- أولاً : الرسم المقابل يمثل أحد أنواع الخلايا العصبية . ص ١٩
- ما اسم هذا النوع : خلية عصبية وحيدة القطب .
- اكتب اسم الجزء الذي يشير له رقم (١) : محور مركزي



٣



ثانياً : الشكل أمامك يوضح مقطع عرضي لبعض نيهبات العنق

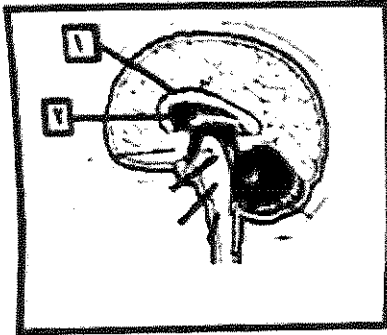
اكتب اسم الأجزاء التي تشير إليها الأرقام التالية .

١- /مهات العنق ص ٨٢

٢- / خلايا لمذج / خلايا بيضة / خلايا حلالية

ثالثاً : الشكل يمثل مقطع في الدماغ .

اكتب اسم الأجزاء التي تشير إليها الأرقام التالية :



١- الجسم الحاسي ص ٤٠

٢- .. المهاد

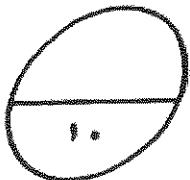
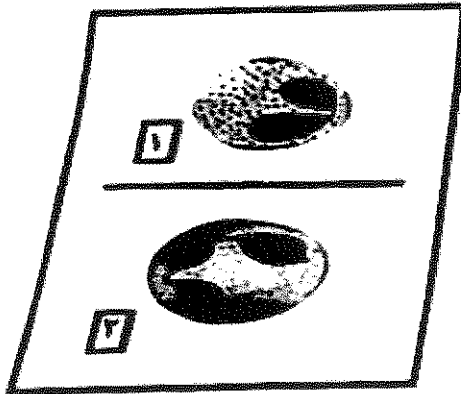


رابعاً : الشكل أمامك يوضح نوعان من خلايا الدم البيضاء .

اكتب اسم كل نوع من الخلايا : ص ١٠٧

١- حمضية .

٢- متعادلة



درجة السؤال الثاني

المجموعة الثانية : الأسئلة المقالية
(أربعة أسئلة من السؤال الثالث إلى السادس)

٤

السؤال الثالث: (أ) علل ما يلي تعليلاً علمياً سليماً :- (١×٤ = ٤ درجات)

- ١- تعتبر أجهزة الإحساس و الضبط عند الجراد أكثر تطور من ديدان العلق الطبي. ص ١٥
لأن الجراد يمتلك مخ مكون من عدة عقد عصبية و أيضاً تمتلك عيون متطورة و قرون استشعار أما ديدان العلق الطبي فتمتلك مخ يتكون من عقدتين عصبيتين فقط و حبل عصبي بطني لربط المخ بأجزاء الجسم.
- ٢- يستخلص الجهاز العصبي للذئبي خليتين عصبيتين بدلاً من خلية عصبية واحدة.
ليربط الجهاز العصبي المركزي بالأعضاء الطرفية. ص ٤٤
- ٣- للجسيم الطرفي أهمية وظيفية للحيوان المنوي .

لإمتلائه بمادة سائلة تحتوي على بعض الإنزيمات التي تساعد في عملية اختراق جدار البويضة . ص ٨٢



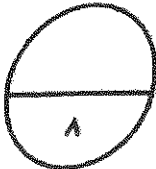
- ٤- بعض الأجسام الممرضة يرتبط بها أكثر من نوع واحد من الأجسام المضادة.
الامتداد المناعي التخصصية.

لأنها تمتلك أكثر من نوع من الحائضات (موقع لارتباط الجسم المضاد) على سطح الأنتيجين . ص ١١١

٤

السؤال الثالث: (ب) ما المقصود علمياً بكل مما يلي:- (١×٤ = ٤ درجات)

- ١- السبيل العصبي: عبارة عن موجة من التغير الكيميائي و الكهربائي تنتقل على طول غشاء الخلية العصبية. ص ٢٨
- ٢- الحبل الشوكي : عضو أنبوي الشكل موجود داخل العمود الفقري الذي يحميه ص ٣٩
- ٣- عقد الإفراز الخارجي : هي عقد قنوية تنقل عصارتها أو إفرازاتها عبر قنوات مباشرة إلى موقع محدد . ص ٦٢
- ٤- الاترأهرونات: هي عبارة عن بروتينات تفرزها الخلايا العصبية تعمل على وقاية الخلايا السليمة المجاورة ص ١٠٦



درجة السؤال الثالث

٤

السؤال الرابع : (أ) قارن بإكمال الجدول التالي حسب المطلوب علمياً

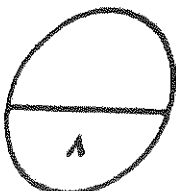
(٠,٥ × ٨ = ٤ درجات)

(١)	المادة البيضاء في العنبر الشوكي	المادة الرمادية في العنبر الشوكي
التركيب	رواند شجرية (استطالات سينوبلامية) أو محاور الخلايا العصبية مغلف بخلاف ميليني ص ٢٩	أجسام خلايا عصبية - خلايا الغراء العصبية - روائد شجرية أو محاور غير مغلفة بخلاف ميليني
(٢)	الجنر الأمامي في العنبر الشوكي	الجنر الخلفي في العنبر الشوكي
نوع الرسائل العصبية	رسائل عصبية حركية	رسائل عصبية حسية ص ٤٦
(٣)	مرض البول السكري النمط الثاني	مرض البول السكري النمط الأول
سبب الإصابة	عدم استجابة الجسم كما ينصح البنكرياس الأنسولين	عدم إفراز خلايا بيتا لهرمون الأنسولين ص ٦٦
(٤)	الهراتزيم	الهراتزيم
دوره في القضاء على الخلية المستهدفة	تفاعل اليريمي بوليمر DNA أو تحليل DNA	يشكل قناة جوفاء على سطح الخلية أو (عمل ثقب) ص ١١٥

٤

السؤال الرابع : (ب) أذكر المطلوب لكل مما يلي : (٠,٥ × ٨ = ٤ درجات)

- عدد أسباب استمرارية جهد الراحة من ثون شرح : (يكتفى بنقطتين)
 - * الفروقات في تركيز الأيونات على جانبي الغشاء ص ٢٦-٢٧
 - * اختلاف نفاذية الغشاء للأيونات المختلفة.
 - * وجود مضخة الصوديوم والبوتاسيوم في غشاء الخلية.
- للهرمونات دور مهم في تنظيم الطيد من الصليات في القشريات ، أذكر اثنان من هذه الصليات : (يكتفى بنقطتين)
 - * ...النمو / التمويه / التكاثر / النوازن الداخلي / الأيض ص ٦٠
- تؤدي خلايا مرتولي وظلف مهمة خلال عملية تكوين الحيوانات المنوية ، أذكر اثنان من الوظائف : (يكتفى بنقطتين) ص ٨٢
 - * الحماية / التغذية / نقل الرسائل الكيميائية (نقل الهرمونات)
- عدد أهم العناصر التي تشكل خط الدفاع الأول في الجهاز المناعي الفطري ، أذكر أربع عناصر. الجلد / المخاط / العرق / الحمض المعدي / الدموع ص ١٠٥-١٠٤



درجة السؤال الرابع

امتحان نهاية الفترة الدراسية الأولى للصف الثاني عشر العلمي في مادة الأحياء للعام الدراسي ٢٠١٧ - ٢٠١٨ م

سؤال السادس: (أ) اقرأ كل عبارة من العبارات العلمية التالية جيداً ثم أجب عن المطلوب :-

٤

(٤ × ٥ = ٢٠ درجات)

١- (عند ظهور حيوان مفترس أمام الإنسان فمن الطبيعي أن تحدث له بعض الأعراض مثل أن يخفق قلبه بقوة و يزيد معدل التنفس و يصفر وجهه و إلى آخره .)

ما هو الجهاز المسبب لهذه الأعراض : **الجهاز السمبثاوي** ص ٤٤
ما هو الجهاز الذي يحاول تخفيف هذه الأعراض : **الجهاز نظير السمبثاوي**

٢- فكر التطورات التي تحدث للزيجوت إلى أن يحدث الإندرس الجنيني

بنقسام الزايجوت عدة مرات مع تحركه باتجاه الرحم
يصبح الزايجوت كتلة من الخلايا تسمى **التوتية** -

ثم تتحول إلى كرة مجوفة بلاستيولا تفترس في جدار الرحم ص ٩٢

٣- تنتشر معظم الأمراض المعدية عن طريق الاتصال غير المباشر .

أفكر اثنتان من الكائنات الحية تغير نواقل للأمراض المعدية مع نكر

- **البراغيث** < الطاعون

- **البعوض** < الملاريا

- **الكلاب أو السناجب** < داء الكلب

٤- قد يحدث خلل في وظيفة الجهاز المناعي ، فبدأ بمهاجمة تسجة الجسم وبذلك يحدث لمرض المناعة الذاتية .

حدد الأمراض الناتجة في كل حالة من الحالات التالية : ص ١٢١

- قيام الجهاز المناعي بتدمير الفلاف المائليني للخلايا العصبية في الجهاز العصبي المركزي .

أو.. **مرض التصلب المتعدد MS*** ...

- مهاجمة الجهاز المناعي لخلايا الإفراز الخارجي في البنكرياس .

* **مرض البول السكري من النمط الاول**

السؤال السادس: (ب) أدرس الأشكال التالية جيداً ثم أجب عن المطلوب :- (٤ × ٥ = ٢٠ درجات)

٤

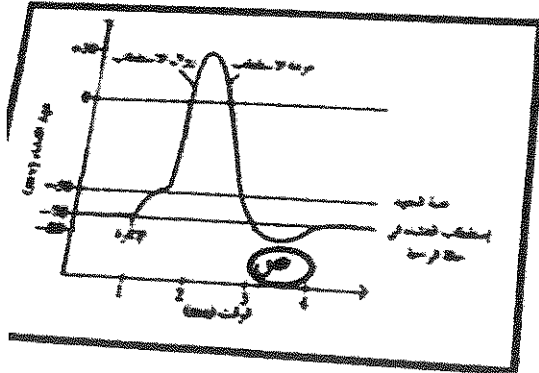
لأولاً : الرسم أمامك يمثل مراحل جهد العمل لنشأة الخلية .

• ماذا تمثل المرحلة (ص) : ص ٢٩

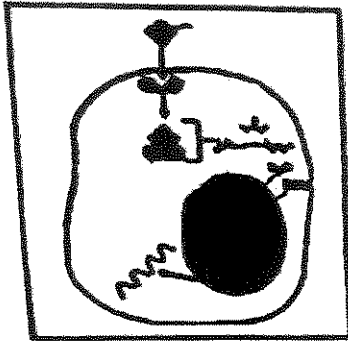
مرحلة فرط الاستقطاب

• ما سبب حدوثها :

تأخر انغلاق قنوات البوتاسيوم أو k



ثانياً: الشكل يوضح إحدى آليات عمل الهرمونات ، ص ٢٤



* يعتبر الهرمون الموضح بالشكل

من الهرمونات المحبة للدهون ..

* كيف يؤثر مركب (هرمون مستقل) في عمل الخلية

يدخل هذا المركب إلى نواة الخلية ، فيحدث
تعبير في التعبير الجيني داخلها ، وبدأ إنتاج
بروتينات جديدة



ثالثاً: ينمو الجنين داخل الرحم محملاً بأغشية داعمة ص ٩٤

ما اسم الغشاء الذي يكون مع خلايا بطانة الرحم المشيمة :

..... الكوريون

ما دور السائل الأمنيوسي :

وسادة واقية حول الجنين تحميه من الجفاف



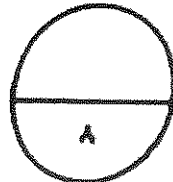
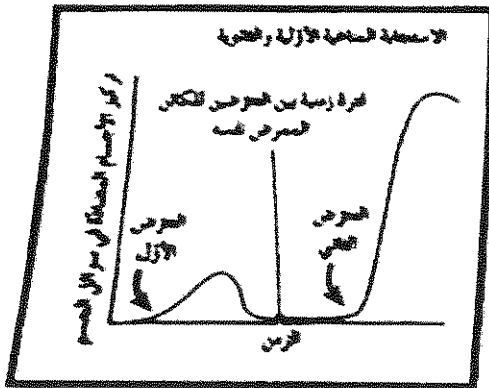
رابعاً: لاحظ في الشكل المقلد الإختلاف في ردة فعل الجهاز المناعي عند تعرض للمرض المعدي

نفسه خلال فترات زمنية مختلفة . ص ١١٨

يعود المسبب في ذلك إلى نوعين من الخلايا المناعية هي :

١ : .. الخلايا التائية الذاكرة ..

٢ : .. الخلايا البائية الذاكرة



درجة السؤال الملائم

*** انتهت الأسئلة ***

المادة : الأحياء
الصف : الثاني عشر
الزمن : ساعتان



دولة الكويت
وزارة التربية
التوجيه الفني العام للعلوم

امتحان نهاية الفترة الدراسية الأولى للعام الدراسي ٢٠١٦ - ٢٠١٧ م

ملاحظة هامة : عدد صفحات الإمتحان (٩) صفحات مختلفة

المجموعة الأولى : الأسئلة الموضوعية (السؤالان الأول و الثاني)

السؤال الأول : (أ) اختر الإجابة الصحيحة علمياً لكل عبارة من العبارات التالية و ذلك بوضع

٦

(٦ × ١ = ٦ درجات)

علامة (✓) أمام الإجابة الصحيحة :-

١- خلية عصبية تتميز بامتداد استطالتين من قطبين متضادين لجسم الخلية ، تشكل إحداها الزوائد الشجرية والأخرى المحور :

خلية ثنائية القطب

خلية وحيدة القطب

خلية رابطة

خلية حركية

٢- التغير في الضغط أو وضعية الجسم تعتبر من المنبهات :

الكيميائية

الميكانيكية

الحرارية

الإشعاعية

٣- إحدى آليات عمل الهرمون المحب للدهون ، أنه :

يحول ATP إلى cAMP

يرتبط بإنزيم الأدينيل سيكليز

يرتبط بمستقبل على غشاء الخلية

يُحدث تغييراً في التعبير الجيني

٤- تنقسم أمهات المنى لتكوين الحيوانات المنوية داخل :

- البربخ الوعاء الناقل
 قنابات صادرة من الخصية نبيبات المنى

٥- العرق والمخاط من مكونات الجهاز المناعي ، وهي ضمن :

- خط الدفاع الأول خط الدفاع الثاني
 المناعة الإفرازية المناعة الخلوية

٦- الخلية التائية التي تثبط نشاط الخلايا التائية الأخرى هي :

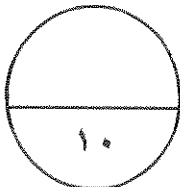
- القاتلة السامة
 الكابحة المساعدة

السؤال الأول: (ب) ضع علامة (✓) أمام العبارة الصحيحة وعلامة (×) أمام العبارة غير

الصحيحة لكل عبارة من العبارات التالية :- (٤ × ٤ = ٤ درجات)

٤

م	العبارة	الإجابة
١	عدد الأعصاب الدماغية في الجهاز الطرفي تبلغ (٣١) زوج
٢	أرنب البحر من الرخويات التي تفرز هرمون يثبط التغذية والحركة ليحث على وضع البيض
٣	النمط الأول من مرض البول السكري يعود إلى عدم استجابة الجسم كما ينبغي لهرمون الأنسولين
٤	من وظائف الخلايا القاعدية إفراز الهستامينات التي تسبب الإلتهاب والحساسية



درجة السؤال الأول

(امتحان نهاية الفترة الدراسية الأولى للصف الثاني عشر العلمي في مادة الأحياء للعام الدراسي ٢٠١٦ - ٢٠١٧ م)

السؤال الثاني: (أ) اكتب الاسم أو المصطلح العلمي الذي تدل عليه كل عبارة من العبارات

٦

(٦ = ١ × ٦ درجات)

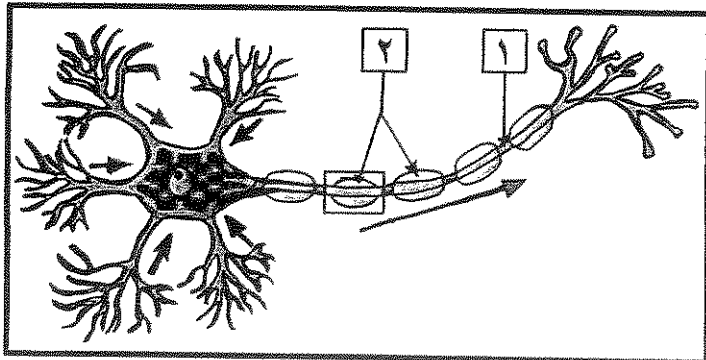
التالية :-

م	العبارة	الإجابة
١	تركيب في الدماغ يصل ما بين الحبل الشوكي بباقي أجزاء الدماغ وينسق ضغط الدم والتنفس
٢	العقاقير التي تزيد من نشاط الجهاز العصبي المركزي وتسرع انتقال السيالات العصبية ، ومن أمثلتها الكافيين والكوكايين والأمفيتامين
٣	عملية إيقاف تكون الجنين قبل أوانها ويتم فيه نزع الجنين عمداً من الرحم بسبب مشكلة صحية
٤	حالة تطلق على عدم القدرة على الإنجاب بسبب إقتران حيوانات منوية عاجزة عن الحركة داخل قناة فالوب
٥	مادة سامة مفرزة وتعتبر أحد أنواع قاتل الخلايا وتحدث تفاعل إنزيمي يؤدي إلى تحلل DNA الخلية وبالتالي موتها
٦	حالة تطلق على الإصابة بالحساسية الشديدة وينتج عنها تمدد الأوعية الدموية بدرجة كبيرة مما يسبب هبوط حاد في ضغط الدم وصعوبة في التنفس

السؤال الثاني: (ب) ادرس الأشكال التالية جيداً ثم أجب عن المطلوب :-

٤

(٤ = ٠,٥ × ٨ درجات)

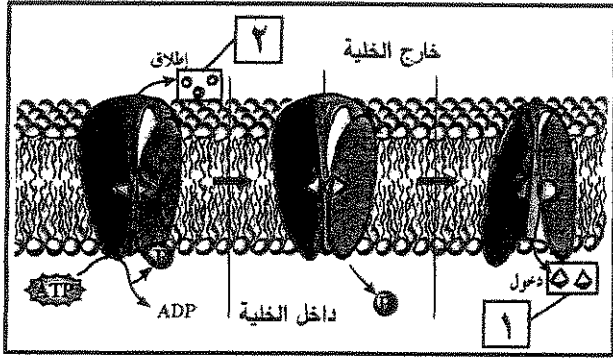


أولاً : الشكل يمثل تركيب الخلية العصبية ،

اكتب البيانات التي تشير إليها الأرقام التالية :

١ -

٢ -

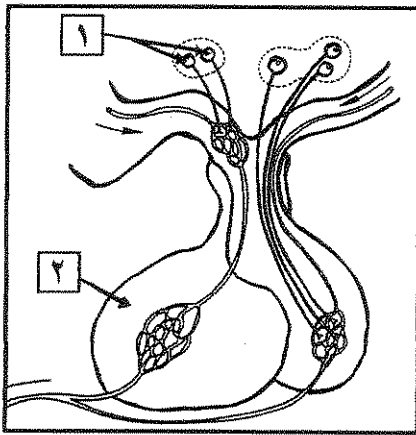


ثانياً : الشكل يمثل انتقال الأيونات خلال المضخة في غشاء الخلية العصبية ،

* اكتب إسم الأيونات التي تشير إليها الأرقام التالية :

١- أيونات :

٢- أيونات :



ثالثاً : الشكل يمثل العلاقة ما بين تحت المهاد والغدة النخامية ،

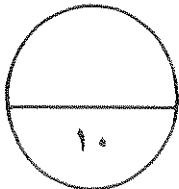
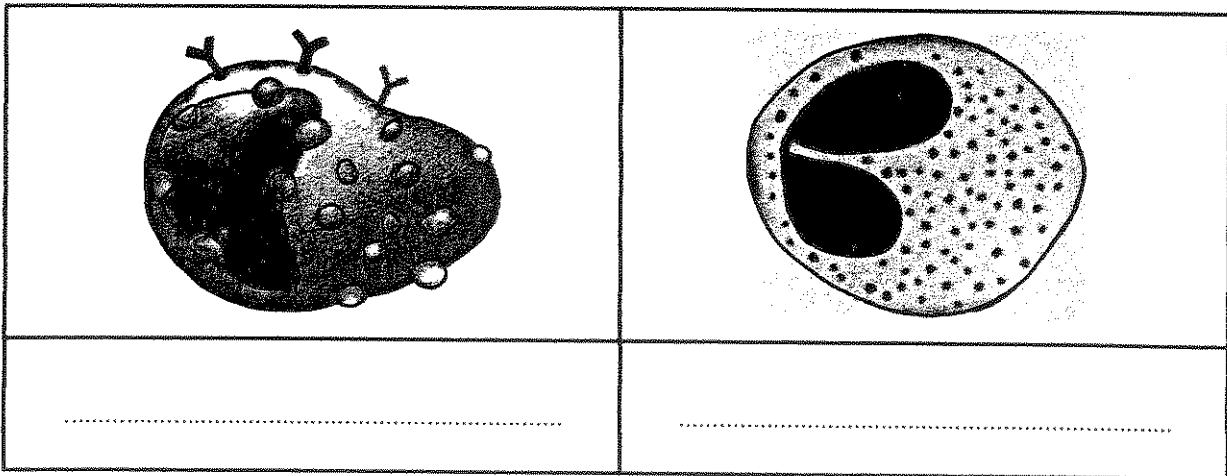
* اكتب البيانات التي تشير إليها الأرقام التالية :

١-

٢-

رابعاً : الأشكال التالية لأنواع مختلفة من خلايا الدم البيضاء ،

* اكتب الإسم الذي يدل على نوع الخلية أسفل الشكل :



درجة السؤال الثاني

المجموعة الثانية : الأسئلة المقالية

(أربعة أسئلة من السؤال الثالث إلى السادس)

٤

السؤال الثالث: (أ) علل لما يلي تعليلاً علمياً سليماً :- (٤ × ١ = ٤ درجات)

١- يوجد بين الشقوق التي تقسم المخ وضمن الفصوص طيات بارزة تدعى التلافيف .

٢- هرمون الجلوكاجون يرفع مستوى سكر الدم بالتعاون مع الكبد .

٣- تسمى الطبقات المكونة للجاسترولا بالطبقات الجرثومية .

٤- المستقبل التائي له موقع ارتباط واحد فقط للأنتيجين .

٤

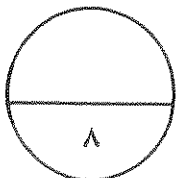
السؤال الثالث : (ب) ما المقصود علمياً بكل مما يلي :- (٤ × ١ = ٤ درجات)

١- التنبيه الفعال :

٢- القوس الانعكاسي :

٣- المشيمة :

٤- الاستجابة بالإلتهاج :



درجة السؤال الثالث

السؤال الرابع : (أ) قارن بإكمال الجدول التالي حسب المطلوب علمياً:

٤

(٨ × ٠,٥ = ٤ درجات)

ديان العلق الطبي	الهيدرا	(١)
		التركيبة العصبية
الجهاز نظير السمبثاوي	الجهاز السمبثاوي	(٢)
		أثره على بؤبؤ العين
النخاع الكظري	القشرة الكظرية	(٣)
		الهرمونات التي يفرزها
التعرض للكائن الممرض لثاني مرة	التعرض للكائن الممرض لأول مرة	(٤)
		نوع الإستجابة المناعية

السؤال الرابع : (ب) اذكر المطلوب لكل مما يلي : (٨ × ٠,٥ = ٤ درجات)

٤

١- التركيب العصبية التي تحتويها المادة البيضاء للحبل الشوكي :

..... *

٢- الأعراض التي تظهر على المصاب بحالة القماءة :

..... *

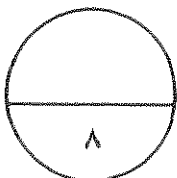
٣- مثالين على الإلتهابات البكتيرية (الجرثومية) المنقولة جنسياً :

..... *

٤- اسم المرض الذي ينتشر عن طريق :

الماء الملوث :

بكتيريا السلمونيلا :



درجة السؤال الرابع

(امتحان نهاية الفترة الدراسية الأولى للصف الثاني عشر العلمي في مادة الأحياء للعام الدراسي ٢٠١٦ - ٢٠١٧ م)

السؤال الخامس: (أ) ما أهمية كل مما يلي :- (٤ × ١ = ٤ درجات)

٤

١- النواقل العصبية (في الحويصلات المشتبكية) ؟

٢- الجهاز العصبي الذاتي ؟

٣- كل من الهرمونات التالية في التأثير على مستوى الكالسيوم في الدم :

* الباراثيرويد :

* الكالسيونين :

٤- البروجينات (في الاستجابة بالالتهاب) ؟

٤

السؤال الخامس: (ب) أجب عن الأسئلة التالية : (٨ × ٠,٥ = ٤ درجات)

١- ماذا يُطلق على كل من الطبقتين المكونتين للأم الجافية ؟

* الطبقة الأولى (العليا أو الخارجية) :

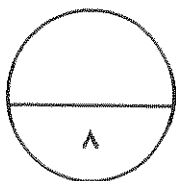
* الطبقة الثانية :

٢- ما هي الأعراض التي تظهر على الشخص المُصاب بالسكتة الدماغية ؟

٣- ما هي الهرمونات العصبية التي يفرزها الفص الخلفي من الغدة النخامية في مجرى الدم ؟

*

٤- ما هي حالات وطرق نقل الأيونز بصورة مباشرة ؟



درجة السؤال الخامس

السؤال السادس: (أ) اقرأ كل عبارة من العبارات العلمية التالية جيدا ثم أجب عن المطلوب :-

٤

(٨ × ٥ = ٤ درجات)

١- (تتميز خلايا الغراء العصبي بقدرتها على إمداد الخلايا العصبية بالأكسجين والعناصر الغذائية والتخلص من الخلايا التالفة والميتة بالابتلاع) ،

* ماذا يُطلق على خلايا الغراء العصبي التي تؤدي الوظائف التالية :

- إمداد الأكسجين والعناصر الغذائية للخلايا العصبية :

- ابتلاع الخلايا العصبية التالفة والميتة :

٢- (الهيدرا والحشرات من الحيوانات اللافقارية التي تنتظم فيها عملية النمو بالهرمونات) ،

* ما عدد الهرمونات المنظمة لتحفيز النمو في كل من :

- الهيدرا :

- الحشرات :

٣- (خلال عملية تكون الحيوانات المنوية توفر خلايا متخصصة الحماية والتغذية ونقل الهرمونات) ،

* اذكر مثال على هذه الخلايا المتخصصة :

* اذكر الأجزاء الرئيسية لتركيب الحيوان المنوي :

* *

٤- (أثناء الاستجابة بالالتهاب وفي إطار خط الدفاع الثاني تُفرز الخلايا المُصابة مواد بروتينية) ،

* ماذا يُطلق على هذه البروتينات :

* ما وظيفتها :

السؤال السادس : (ب) ادرس الأشكال التالية جيداً ثم أجب عن المطلوب :- (٨ × ٠,٥ = ٤ درجات)

٤

أولاً : الشكل يمثل عملية تكوين البويضات ،

* ماذا يُطلق على العملية المشار إليها بالرقم (١) :

.....

* ما هي الهرمونات التي يفرزها التركيب

المشار إليه بالرقم (٢) :

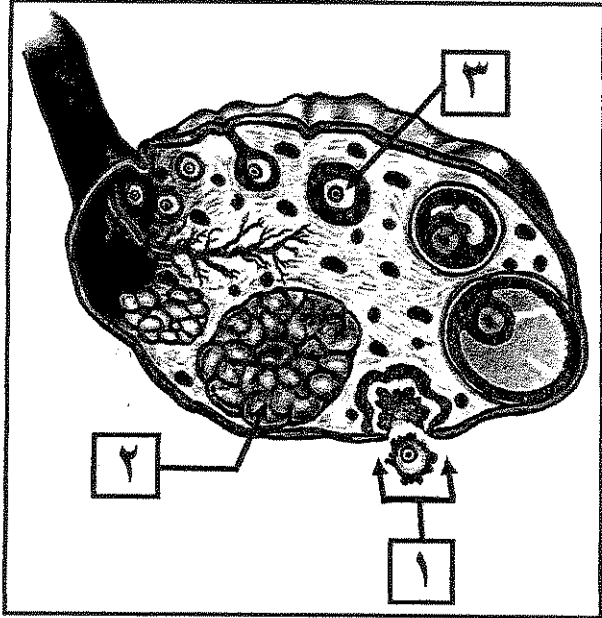
.....

.....

* ما هو طور الإنقسام الذي تجمد فيه

الخلية المشار إليها بالرقم (٣) :

.....



ثانياً : الشكل يمثل جانب من الاستجابة المناعية الإفرازية :

* ما نوع السيتوكينات التي تفرزها الخلية (Th)

لتنشيط الخلايا المشار إليها بالرقم (١) ؟

.....

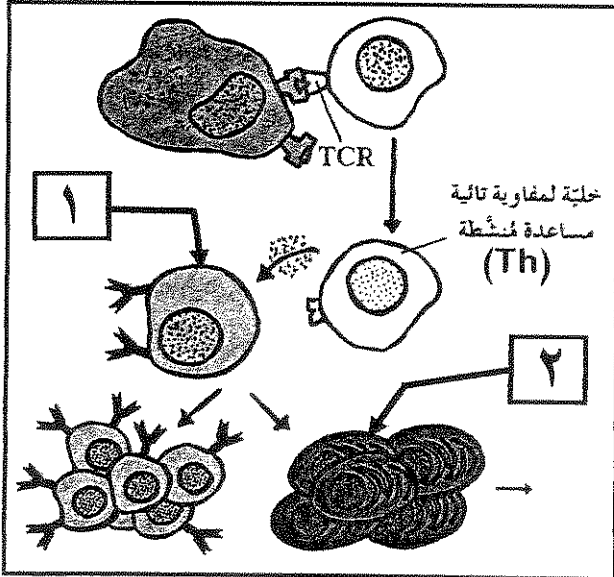
* ما هي الخلايا الناتجة من تنشيط الخلية رقم (١) ؟

.....

.....

* ماذا تُنتج الخلية المشار إليها بالرقم (٢) ؟

.....



٨

درجة السؤال السادس

*** انتهت الأسئلة ***

المادة : الأحياء
الصف : الثاني عشر
الزمن : ساعتان



دولة الكويت
وزارة التربية
التوجيه الفني العام للعلوم

امتحان نهاية الفترة الدراسية الأولى للعام الدراسي ٢٠١٦ - ٢٠١٧ م

ملاحظة هامة : عدد صفحات الإمتحان (٩) صفحات مختلفة

نموذج
الإجابة

الجموعة الأولى : الأسئلة الموضوعية
(السؤال الأول و الثاني)

نموذج
الإجابة

السؤال الأول : (١) اختر الإجابة الصحيحة علمياً لكل عبارة من العبارات التالية و ذلك بوضع

٦

(٦ = ١ × ٦ درجات)

علامة (✓) أمام الإجابة الصحيحة :-

١- خلية عصبية تتميز بامتداد استطالتيين من قطبين متضادين لجسم الخلية ، تشكل إحداها الزوائد الشجرية والأخرى المحور : ص ١٨

خلية ثنائية القطب

خلية وحيدة القطب

خلية رابطة

خلية حركية

٢- التغير في الضغط أو وضعية الجسم تعتبر من المنبهات : ص ٢١

الكيمائية

الميكانيكية

الحرارية

الإشعاعية

٣- إحدى آليات عمل الهرمون المحب للدهون ، أنه : ص ٦٤

يحول ATP إلى AMP

يرتبط بإنزيم الأدينيل سيكليز

يرتبط بمستقبل على غشاء الخلية

يحدث تغييراً في التعبير الجيني



٤- تنقسم أمهات المنى لتكوين الحيوانات المنوية داخل : ص ٨٢

- البربخ الوعاء الناقل
 قُنَيَات صادرة من الخصية نُبيبات المنى

٥- العرق والمخاط من مكونات الجهاز المناعي ، وهي ضمن : ص ١٠٤

- خط الدفاع الأول خط الدفاع الثاني
 المناعة الإفرازية المناعة الخلوية

٦- الخلية القاتلة التي تثبط نشاط الخلايا التائية الأخرى هي : ص ١١٠

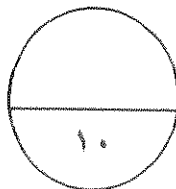
- القاتلة السامة
 الكابحة المساعدة

السؤال الأول: (ب) ضع علامة (✓) أمام العبارة الصحيحة وعلامة (x) أمام العبارة غير

الصحيحة لكل عبارة من العبارات التالية - (٤ درجات = ١ × ٤)

٤

م	العبارة	الإجابة
١	عدد الأعصاب الدماغية في الجهاز الطرفي تبلغ (٣١) زوج . <u>ص ٤٤</u>	x
٢	أرنب البحر من الرخويات التي تفرز هرمون يثبط التغذية والحركة ليحث على وضع البيض . <u>ص ٦٠</u>	✓
٣	النمط الأول من مرض البول السكري يعود إلى عدم استجابة الجسم كما ينبغي لهرمون الأنسولين . <u>ص ٧٦</u>	x
٤	من وظائف الخلايا القاعدية إفراز الهستامينات التي تسبب الإلتهاب والحساسية . <u>ص ١٠٧</u>	✓



درجة السؤال الأول



السؤال الثاني: (أ) اكتب الاسم أو المصطلح العلمي الذي تدل عليه كل عبارة من العبارات

٦

(٦ = ١ × ٦ درجات)

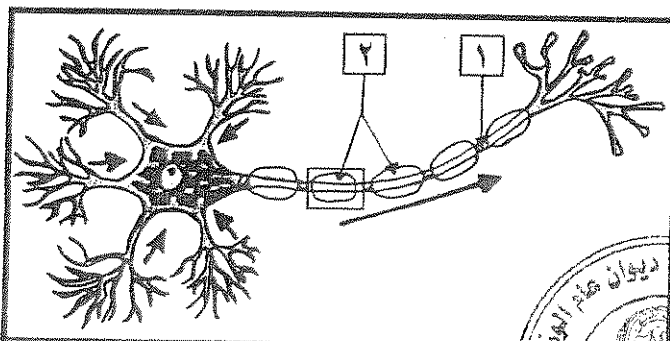
التالية :-

م	العبارة	الإجابة
١	تركيب في الدماغ يصل ما بين الحبل الشوكي بباقي أجزاء الدماغ وينسق ضغط الدم والتنفس . ص ٤٠	جذع الدماغ أو ساق الدماغ أو النخاع المستطيل
٢	العقاقير التي تزيد من نشاط الجهاز العصبي المركزي وتسرع انتقال النبضات العصبية ، ومن أمثلتها الكافيين والكوكايين والأمفيتامين . ص ٥٥	المنشطات أو المنبهات
٣	عملية إيقاف تكون الجنين قبل أوانها ويتم فيه نزع الجنين عمداً من الرحم بسبب مشكلة صحية . ص ٩٥	الإجهاض أو الإجهاض العلاجي
٤	حالة تطلق على عدم القدرة على الإنجاب بسبب إنتاج حيوانات منوية عاجزة عن الحركة داخل قناة فالوب . ص ٩٨	العقم
٥	مادة سامة مُفرزة وتعتبر أحد أنواع قاتل الخلايا وتحدث تفاعل إنزيمي يؤدي إلى تحلل DNA الخلية وبالتالي موتها . ص ١١٥	الجرانزيم
٦	حالة تطلق على الإصابة بالحساسية الشديدة وينتج عنها تمدد الأوعية الدموية بدرجة كبيرة مما يسبب هبوط حاد في ضغط الدم وصعوبة في التنفس . ص ١٢١	صدمة استهدافية أو حساسية

السؤال الثاني: (ب) ادرس الأشكال التالية جيداً ثم أجب عن المطلوب :-

٤

(٤ = ٠,٥ × ٨ درجات)



أولاً : الشكل يمثل تركيب الخلية العصبية ،

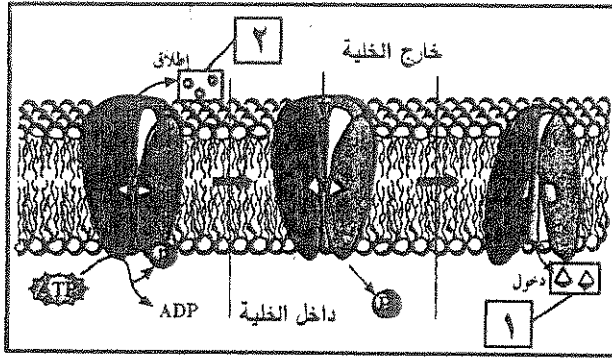
اكتب البيانات التي تشير إليها الأرقام التالية :

ص ١٧ شكل (٥)

١- عقدة رانفيير أو محور أو ليف عصبي

٢- خلايا شوان أو غلاف ميليني





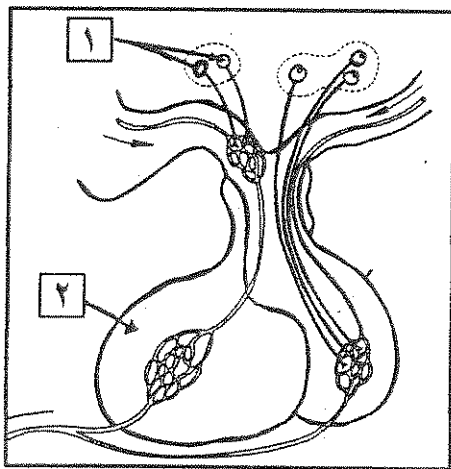
ثانياً : الشكل يمثل انتقال الأيونات خلال المضخة

في غشاء الخلية العصبية : ص ٢٧ شكل (١٥)

* اكتب اسم الأيونات التي تشير إليها الأرقام التالية :

١- أيونات : البوتاسيوم أو K^+

٢- أيونات : الصوديوم أو Na^+



ثالثاً : الشكل يمثل العلاقة ما بين تحت المهاد

والغدة النخامية : ص ٦٦ شكل (٤٩)

* اكتب البيانات التي تشير إليها الأرقام التالية :

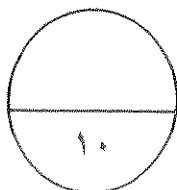
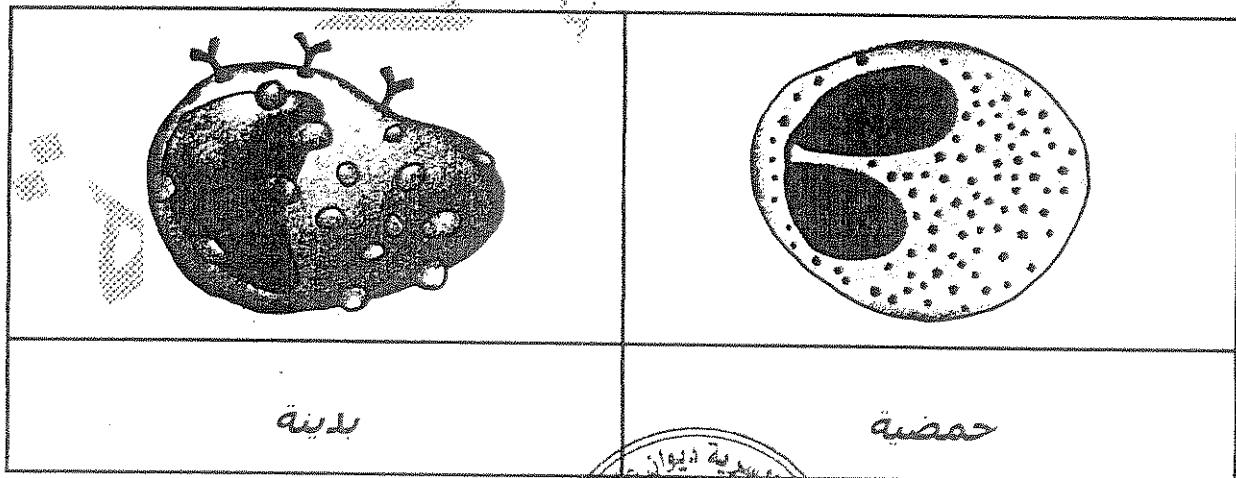
١- خلايا عصبية إفرازية

أو أجسام خلايا عصبية إفرازية

٢- الفص الأمامي للغدة النخامية

رابعاً : الأشكال التالية لأنواع مختلفة من خلايا الدم البيضاء ، ص ١٠٧ شكل (٨٠)

* اكتب الإسم الذي يدل على نوع الخلية أسفل الشكل :



درجة السؤال الثاني



المجموعة الثانية : الأسئلة المقالية

(أربعة أسئلة من السؤال الثالث إلى السادس)

٤

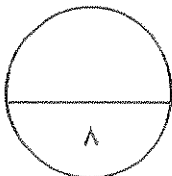
السؤال الثالث: (أ) علل لما يلي تعليلاً علمياً سليماً :- (٤ × ١ = ٤ درجات)

- ١- يوجد بين الشقوق التي تقسم المخ وضمن الفصوص طيات بارزة تدعى التلافيف . ص ٤٢
* لزيادة مساحات المراكز العصبية في المخ .
- ٢- هرمون الجلوكاجون يرفع مستوى سكر الدم بالتعاون مع الكبد . ص ٧١
* لأنه يحفز خلايا الكبد على تكسير الجليكوجين وتحويله إلى جلوكوز وطرحه في الدم .
- ٣- تسمى الطبقات الكونية للجاسترولا بالطبقات الجرثومية . ص ٩٤
* لأنها تنمو وتطور إلى أنسجة الجسم وأعضائه كافة .
- ٤- المستقبل الثاني له موقع ارتباط واحد فقط للأنتيجين . ص ١١١
* لأنه يتكون من سلسلتين فقط من عديد الببتيد تشكلان معاً موقع ارتباط واحد للأنتيجين . أو لوجود منطقة متغيرة واحدة

٤

السؤال الثالث: (ب) ما المقصود علمياً بكل مما يلي :- (٤ × ١ = ٤ درجات)

- ١- التنبيه الفعال : ص ٢٩
* هي شدة أعلى من عتبة التنبيه ، وتكون قادرة على توليد جهد عمل .
- ٢- القوس الانعكاسي : ص ٤٦
* هو مسار الخلايا العصبية التي تنقل السيالات العصبية منذ بداية التعرض لمنبه ما حتى حدوث استجابة آلية لا إرادية ، أو فعل انعكاسي .
- ٣- المشيمة : ص ٩٤
* عضو يتم من خلاله تبادل المغذيات والأكسجين والفضلات بين الأم والجنين النامي .
- ٤- الاستجابة بالإنتهاب : ص ١٠٥
* تفاعل دفاعي غير تخصصي (غير نوعي) يأتي رداً على تلف الأنسجة الناتج من النقاط عدوى



درجة السؤال الثالث



٤

السؤال الرابع : (أ) قارن بإكمال الجدول التالي حسب المطلوب علمياً :

(٨ × ٠,٥ = ٤ درجات)

ديدان العلق الطبي	الهديرا	(١) ص ١٥
مح أو (عقدتين عصيتين) أو - حبل عصبي بطني	شبكة عصبية أو - مستقبلات حسية	التركييب العصبية
الجهاز نظير السمبثاوي	الجهاز السمبثاوي	(٢) ص ٤٨ و ٤٩
يقصص بؤبؤ العين	يوسع بؤبؤ العين	أثره على بؤبؤ العين
النخاع الكظري	القشرة الكظرية	(٣) ص ٧٠ و ٧٢
- الإبينفرين أو الأدرينالين أو النورإبينفرين أو النورأدرينالين	كورتيكوستيرويدات أو (الألدوستيرون أو الكورتيزول)	الهرمونات التي يفرزها
التعرض للكائن الممرض لثاني مرة	التعرض للكائن الممرض لأول مرة	(٤) ص ١١٧ و ١١٨
ثانوية أو سريعة	أولية أو بطيئة	نوع الإستجابة المناعية

٤

السؤال الرابع : (ب) اذكر المطلوب لكل مما يلي : (٨ × ٠,٥ = ٤ درجات)

- ١- التراكيب العصبية التي تحتويها المادة البيضاء للحبل الشوكي : ص ٢٩
* زوائد شجرية (استطالات سيتوبلازمية)
* محاور الخلايا العصبية مغلف بغلاف ميليني أو محاور ميلينية
- ٢- الأعراض التي تظهر على المصاب بحالة القماءة : ص ٧٦ و ٦٩ (يكتب نقطتين)
* التقزم * التخلف العقلي * عدم نمو الجهاز العصبي والهيكلي بشكل طبيعي
- ٣- مثالين على الإلتهابات البكتيرية (الجرثومية) المنقولة جنسياً : ص ٩٩
* السيلان * الزهري
- ٤- اسم المرض الذي ينتشر عن طريق : ص ١٠٣
* الماء الملوث : الزحار أو الدوسنتاريا الأميبية
* بكتيريا السلمونيلا : التسمم الغذائي



درجة السؤال الرابع

٤

السؤال الخامس: (أ) ما أهمية كل مما يلي :- ($٤ \times ٤ = ١٦$ درجات)

- ١- النواقل العصبية (في الحويصلات المشبكية) ؟ ص ٢٢
* مسئولة عن نقل الرسائل العصبية عبر المشبكات الكيميائية .
- ٢- الجهاز العصبي الذاتي ؟ ص ٤٧
* المحافظة على اتزان الجسم الداخلي أو يضط عدة استجابات لا إرادية في الجسم
- ٣- كل من الهرمونات التالية في التأثير على مستوى الكالسيوم في الدم : ص ٦٨ و ٦٩
* الباراثيرونيد : **يزيد مستوى الكالسيوم**
* الكالسيتونين : **يخفض مستوى الكالسيوم**
- ٤- البروجينات (في الاستجابة بالالتهاب) ؟ ص ١٠٦
* تحت الدماغ على رفع درجة حرارة الجسم لتنشيط الخلايا اللمعية ولجعل عملية نمو الكائنات الممرضة أكثر صعوبة .

٤

السؤال الخامس: (ب) أجب عن الأسئلة التالية : ($٨ \times ٠,٥ = ٤$ درجات)

- ١- ماذا يُطلق على كل من الطبقتين المكونتين للأم الجافية ؟ ص ٢٨
* الطبقة الأولى (العليا أو الخارجية) : **السمحاقية أو تبطن سطح الجمجمة الداخلي والفقرات**
* الطبقة الثانية : **السحائية أو تغلف الدماغ والنخاع الشوكي**
- ٢- ما هي الأعراض التي تظهر على الشخص المصاب بالسكتة الدماغية ؟ ص ٥٢ (كتفى نقطتين)
* الشلل * **عدم وضوح الكلام** * **التميل** * **عساوة الرؤية**
- ٣- ما هي الهرمونات العصبية التي يفرزها الفص الخلفي من الغدة النخامية في مجرى الدم ؟ ص ٦٨ و ٧٢
* **الهرمون المضاد لإدرار البول أو ADH أو الفاروبريسين**
* **الأوكسيتوسين**
- ٤- ما هي حالات وطرق نقل الأيدز بصورة مباشرة ؟ ص ١٢٢ (كتفى نقطتين)
* **الاتصال الجنسي**
* **من أم حامل إلى الجنين وخلال الرضاعة**
* **استخدام الحقن نفسها من شخص إلى آخر**
* **الدم**

٨

درجة السؤال الخامس



السؤال السادس : (ب) ادرس الأشكال التالية جيداً ثم أجب عن المطلوب :- (٨ × ٠,٥ = ٤ درجات)

٤

أولاً : الشكل يمثل عملية تكوين البويضات ، ص ٨٧ شكل (٦٦) و ص ٩٠

* ماذا يُطلق على العملية المشار إليها بالرقم (١) :

الإباضة أو التبويض

* ما هي الهرمونات التي يفرزها التركيب

المشار إليه بالرقم (٢) :

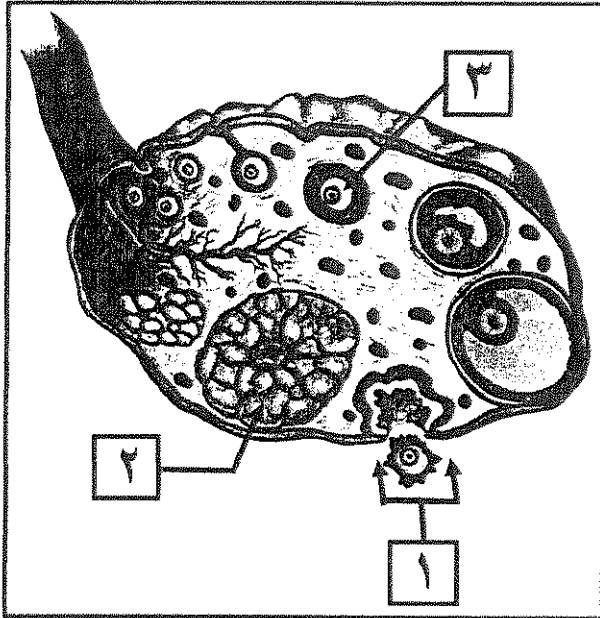
- الأستروجين

- البروجسترون

* ما هو طور الإنقسام الذي تجمد فيه

الخلية المشار إليها بالرقم (٣)

الاستوائي الثاني



ثانياً : الشكل يمثل جانب من الاستجابة المناعية الإفرازية ، ص ١١٦ شكل (٨٩)

* ما نوع السيتوكينات التي تفرزها الخلية (Th)

لتنشيط الخلايا المشار إليها بالرقم (١) ؟

انترلوكين-4 أو IL-4

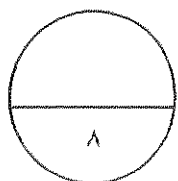
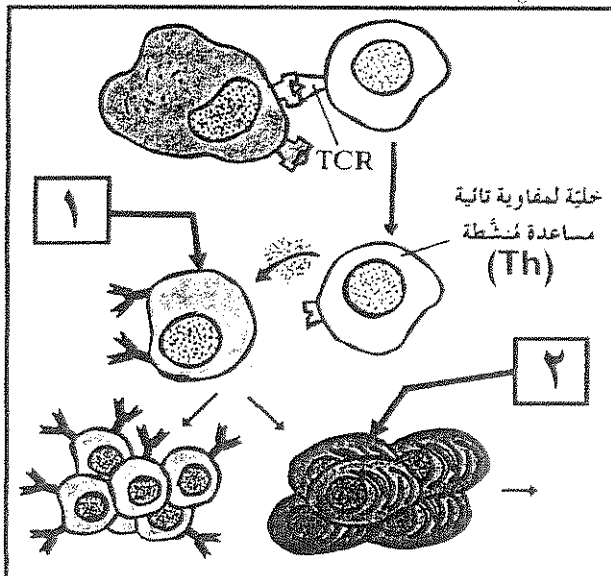
* ما هي الخلايا الناتجة عن تنشيط الخلية رقم (١) ؟

- خلايا بلازمية

- خلايا بائية ذاكرة

* ماذا تُنتج الخلية المشار إليها بالرقم (٢) ؟

أجسام مضادة



درجة السؤال السادس



*** انتهت الأسئلة ***