



اختبارات القدرات الأكاديمية

الإصدار

A

اسم الطالب:

الرقم المدني:

إرشادات وتعليمات:

1. يشتمل كتيب الاختبارات على ثلاثة اختبارات هي:

الاختبار	عدد الأسئلة	الزمن
اللغة الإنجليزية	85	1 ساعة
الرياضيات	20 (لا يسمح باستخدام الآلة الحاسبة)	1 ساعة
الكيمياء	25	1 ساعة

2. دون جميع إجاباتك على ورقة الإجابة وفي المكان المخصص للاختبار وظلل الدائرة المناسبة بالقلم الرصاص كما هو مبين أدناه:



3. تأكد من صحة بياناتك المدونة على ورقة الإجابة ولا تغيرها دون الرجوع للمشرف على القاعة.

4. دون الاسم والرقم المدني على كتيب الأسئلة.

5. سجل إصدار الاختبار المبين أعلاه على ورقة إجاباتك.

6. اتبع إرشادات المشرف على القاعة.

7. التزم بالهدوء والنظام أثناء الاختبار ولا تبدي أي محاولة للغش.

8. تقيد بالوقت المخصص والمعلن لكل اختبار.

اختبار الكيمياء

الكتلة الذرية الجرامية (جرام / مول):

16.0 = (O) أكسجين

32.1 = (S) كبريت

9.01 = (Be) كروم

العدد الذري:

1 = (H) هيدروجين

7 = (N) نيتروجين

8 = (O) أكسجين

11 = (Na) صوديوم

17 = (Cl) كلور

21 = (Sc) إسكانديوم

27 = (Co) كوبالت

29 = (Cu) نحاس

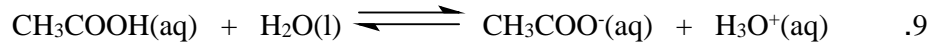
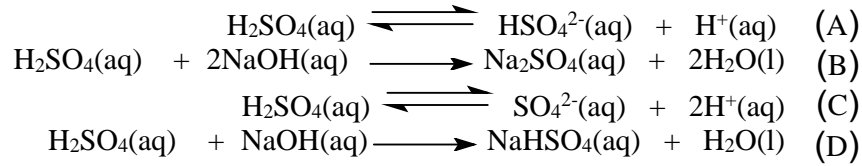
48 = (Cd) كادميوم

ثوابت فيزيائية:

ثابت تأين الماء (K_w) عند درجة $25\text{ }^\circ\text{C}$ = 10^{-14}

1. يتكوّن المركب $(Ca_2Mg_5(Si_4O_{11})_2(OH)_2)$ من العناصر التالية:
- (A) كادميوم، مغنيسيوم، كبريت، هيدروجين
وأكسجين
- (B) كالسيوم، مغنيسيوم، سيليكون،
هيدروجين وأكسجين
- (C) نحاس، مغنيسيوم، سيليكون، هيدروجين
وأكسجين
- (D) كوبات، منغنيز، كبريت، هيدروجين
وأكسجين
2. أي العناصر التالية، يوجد كصلب عند درجة حرارة الغرفة؟
- كبريت (S)، الزئبق (Hg)، أرجون (Ar)، بلاتينيوم (Pt)، البروم (Br).
- (A) كبريت (S) و أرجون (Ar)
- (B) الزئبق (Hg) و بلاتينيوم (Pt)
- (C) زئبق (Hg) و البروم (Br)
- (D) كبريت (S) و بلاتينيوم (Pt)
3. أي العمليات التالية تؤدي إلى تغيير كيميائي؟
- (A) خلط الرمل مع الحصى
- (B) غلي الماء
- (C) خلط محاليل مائية لنترات الفضة
وكلوريد الصوديوم
- (D) قطع الزجاج
4. ما عدد الأيونات المتكونة عند إذابة المركب $(K_2H(PO_4))$ في الماء؟
- (A) 4
- (B) 8
- (C) 3
- (D) 2
5. أي المركبات التالية يعتبر مركب عضوي؟
- (A) Na_2CO_3
- (B) $K_2Cr_2O_7$
- (C) CH_3OH
- (D) CO
6. أثناء التحلل الإلكتروليتي، تنتقل الشحنة الكهربائية خلال المحلول بواسطة:
- (A) الأيونات
- (B) البروتونات
- (C) الذرات المتعادلة
- (D) النيوترونات
7. ما الإسم الكيميائي الصحيح للمركب $(Fe_2(SO_4)_3)$ ؟
- (A) كبريتت الحديد(III)
- (B) ثيوكبريتات الحديد(III)
- (C) كبريتات الحديد(III) الهيدروجينية
- (D) كبريتات الحديد(III)

8. أي المعادلات الكيميائية التالية تمثل تفاعل تعادل تام لحمض الكبريتيك (H₂SO₄)؟




في نظام الإتزان أعلاه، أي التوالي يعتبر قاعدة مرافقة؟



10. أي الذرات التالية في حالتها المستقرة لها سبعة إلكترونات في تحت مستوى الطاقة d الأخير؟



11. أي التوالي يمثل زوج من المركبات الجزيئية؟



12. عند تكوّن الرابطة التساهمية التناسقية في أيون الهيدرونيوم (H₃O⁺)، فإن ذرة الأكسجين (O) :



13. أي المركبات التالية، يحتوي على رابطة أيونية؟



14. في أي من المواد التالية، يكون عدد تأكسد المنغنيز (Mn) يساوي +7؟




15. أي من القيم التالية لأيون $[H^+]$ أو $[OH^-]$ يمثل محلول قاعدي؟

- (A) $[OH^-] = 1.0 \times 10^{-9}$ مول / لتر
(B) $[H^+] = 1.0 \times 10^{-3}$ مول / لتر
(C) $[H^+] = [OH^-] = 1.0 \times 10^{-7}$ مول / لتر
(D) $[H^+] = 1.0 \times 10^{-10}$ مول / لتر

16. المركب $(CH_3CH_2OCH_2CH_2CH_3)$ يحتوي على _____

- (A) مجموعة كربوكسيل
(B) مجموعة ألدهيد
(C) مجموعة إيثر
(D) مجموعة إستر

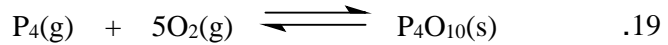


بعد وزن المعادلة الكيميائية أعلاه، تكون قيمة المعامل (n) قبل $O_2(g)$ تساوي:

- (A) 8
(B) 6
(C) 4
(D) 5

18. أبسط طريقة كيميائية يمكن أن تستخدم للتمييز بين محلول مائي من نترات الباريوم $(Ba(NO_3)_2)$ ومحلول مائي من كلوريد الصوديوم $(NaCl)$ ، هي: إضافة محلول مائي من _____

- (A) نترات الليثيوم $(LiNO_3)$
(B) حمض الكبريتيك (H_2SO_4)
(C) كلوريد الباريوم $(BaCl_2)$
(D) حمض النيتريك (HNO_3)



ما صيغة ثابت الاتزان لنظام الاتزان أعلاه؟

- (A) $K = P_{P_4} \cdot P_{O_2}^5$
(B) $K = P_{P_4} / P_{O_2}^5$
(C) $K = P_{P_4O_{10}} / P_{P_4} \cdot P_{O_2}^5$
(D) $K = 1 / P_{P_4} \cdot P_{O_2}^5$

20. ما الإذابة المولية لمحلول مشبع من كبريتيت الكالسيوم $(CaSO_3)$ ، إذا كانت قيمة ثابت حاصل الإذابة (K_{sp}) لكبريتيت الكالسيوم تساوي (3.00×10^{-7}) ؟

- (A) 5.48×10^{-4} مول / لتر
(B) 3.00×10^{-7} مول / لتر
(C) 4.58×10^{-7} مول / لتر
(D) 3.16×10^{-3} مول / لتر

21. ما الحجم الذي يشغله (175.0 جرام) من الرصاص، إذا كانت كثافة الرصاص تساوي 11.35 جرام / سم³؟

- (A) 19.86 سم³ (C) 30.80 سم³
(B) 175.0 سم³ (D) 15.42 سم³

22. في أي من المركبات التالية تكون النسبة المئوية الكتلية للكبريت (S) أقل من 20.0%؟

- (A) Na₂S₂O₃ · 5H₂O (248.2 جرام / مول) (C) K₂SO₄ (174.3 جرام / مول)
(B) Ce(HSO₄)₄ (528.4 جرام / مول) (D) (NH₄)₂S₂O₈ (228.2 جرام / مول)

23. ما حجم محلول تم تحضيره بإذابة 0.375 جرام من نترات الكوبالت (Co(NO₃)₂) في الماء، وذلك للحصول على محلول تركيزه 0.050 مول / لتر؟
[الكتلة الجزيئية الجرامية لنترات الكوبالت (Co(NO₃)₂) = 182.9 جرام / مول]

- (A) 41.0 سم³ (C) 24.4 سم³
(B) 50.0 سم³ (D) 75.0 سم³

24. ما عدد جرامات الأكسجين (O) الموجودة في (125.5 جرام) من الرصاص الأبيض (Pb₃(CO₃)₂·(OH)₂)؟
[الكتلة الجزيئية الجرامية للرصاص الأبيض (Pb₃(CO₃)₂·(OH)₂) = 775.6 جرام / مول]

- (A) 7.930 جرام (C) 15.87 جرام
(B) 20.71 جرام (D) 10.57 جرام

25. ما عدد مولات البريليوم (Be) الموجودة في (24.75 جرام) من المركب (Be₃Al₂(SiO₃)₆)؟
[الكتلة الجزيئية الجرامية للمركب (Be₃Al₂(SiO₃)₆) = 537.6 جرام / مول]

- (A) 0.04604 مول (C) 0.1381 مول
(B) 0.09208 مول (D) 0.2762 مول

Answers - English Exam		إجابات اختبار اللغة الانجليزية	
Q's#	Answers	Q's#	Answers
1 -	A B C D	19 -	A B C D
2 -	A B C D	20 -	A B C D
3 -	A B C D	21 -	A B C D
4 -	A B C D	22 -	A B C D
5 -	A B C D	23 -	A B C D
6 -	A B C D	24 -	A B C D
7 -	A B C D	25 -	A B C D
8 -	A B C D	26 -	A B C D
9 -	A B C D	27 -	A B C D
10 -	A B C D	28 -	A B C D
11 -	A B C D	29 -	A B C D
12 -	A B C D	30 -	A B C D
13 -	A B C D	31 -	A B C D
14 -	A B C D	32 -	A B C D
15 -	A B C D	33 -	A B C D
16 -	A B C D	34 -	A B C D
17 -	A B C D	35 -	A B C D
18 -	A B C D	36 -	A B C D
		37 -	A B C D
		38 -	A B C D
		39 -	A B C D
		40 -	A B C D
		41 -	A B C D
		42 -	A B C D
		43 -	A B C D
		44 -	A B C D
		45 -	A B C D
		46 -	A B C D
		47 -	A B C D
		48 -	A B C D
		49 -	A B C D
		50 -	A B C D
		51 -	A B C D
		52 -	A B C D
		53 -	A B C D
		54 -	A B C D
		55 -	A B C D
		56 -	A B C D
		57 -	A B C D
		58 -	A B C D
		59 -	A B C D
		60 -	A B C D
		61 -	A B C D
		62 -	A B C D
		63 -	A B C D
		64 -	A B C D
		65 -	A B C D
		66 -	A B C D
		67 -	A B C D
		68 -	A B C D
		69 -	A B C D
		70 -	A B C D
		71 -	A B C D
		72 -	A B C D
		73 -	A B C D
		74 -	A B C D
		75 -	A B C D
		76 -	A B C D
		77 -	A B C D
		78 -	A B C D
		79 -	A B C D
		80 -	A B C D
		81 -	A B C D
		82 -	A B C D
		83 -	A B C D
		84 -	A B C D
		85 -	A B C D

Answers - Mathematics Exam		إجابات اختبار الرياضيات	
Q's#	Answers	Q's#	Answers
1 -	A B C D	6 -	A B C D
2 -	A B C D	7 -	A B C D
3 -	A B C D	8 -	A B C D
4 -	A B C D	9 -	A B C D
5 -	A B C D	10 -	A B C D
		11 -	A B C D
		12 -	A B C D
		13 -	A B C D
		14 -	A B C D
		15 -	A B C D
		16 -	A B C D
		17 -	A B C D
		18 -	A B C D
		19 -	A B C D
		20 -	A B C D

Answers - Chemistry Exam		إجابات اختبار الكيمياء	
Q's#	Answers	Q's#	Answers
1 -	A B C D	6 -	A B C D
2 -	A B C D	7 -	A B C D
3 -	A B C D	8 -	A B C D
4 -	A B C D	9 -	A B C D
5 -	A B C D	10 -	A B C D
		11 -	A B C D
		12 -	A B C D
		13 -	A B C D
		14 -	A B C D
		15 -	A B C D
		16 -	A B C D
		17 -	A B C D
		18 -	A B C D
		19 -	A B C D
		20 -	A B C D
		21 -	A B C D
		22 -	A B C D
		23 -	A B C D
		24 -	A B C D
		25 -	A B C D

Answers - Arabic Exam		إجابات اختبار اللغة العربية	
Q's#	Answers	Q's#	Answers
1 -	A B C D	11 -	A B C D
2 -	A B C D	12 -	A B C D
3 -	A B C D	13 -	A B C D
4 -	A B C D	14 -	A B C D
5 -	A B C D	15 -	A B C D
6 -	A B C D	16 -	A B C D
7 -	A B C D	17 -	A B C D
8 -	A B C D	18 -	A B C D
9 -	A B C D	19 -	A B C D
10 -	A B C D	20 -	A B C D
		21 -	A B C D
		22 -	A B C D
		23 -	A B C D
		24 -	A B C D
		25 -	A B C D
		26 -	A B C D
		27 -	A B C D
		28 -	A B C D
		29 -	A B C D
		30 -	A B C D
		31 -	A B C D
		32 -	A B C D
		33 -	A B C D
		34 -	A B C D
		35 -	A B C D
		36 -	A B C D
		37 -	A B C D
		38 -	A B C D
		39 -	A B C D
		40 -	A B C D
		41 -	A B C D
		42 -	A B C D
		43 -	A B C D
		44 -	A B C D
		45 -	A B C D
		46 -	A B C D
		47 -	A B C D
		48 -	A B C D
		49 -	A B C D
		50 -	A B C D
		51 -	A B C D
		52 -	A B C D
		53 -	A B C D
		54 -	A B C D
		55 -	A B C D
		56 -	A B C D
		57 -	A B C D
		58 -	A B C D
		59 -	A B C D
		60 -	A B C D