




أسئلة الإشارات المرورية في امتحان المرور النظري في الكويت

فيما يلي بعض أسئلة الإشارات المرورية في امتحان المرور النظري

السؤال	الإشارة	الإجابة
ما الذي تعنيه هذه الإشارة؟		يحظر السير بالدراجات الهوائية
ما الذي تدل عليه هذه الإشارة؟		يحظر مرور المركبات التي يزيد وزنها عن 10 أطنان
ما الذي تعنيه هذه الإشارة؟		حدود الارتفاع
إلى ماذا تشير هذه العلامة المرورية؟		يمنع الانعطاف إلى اليسار
ما الذي تدل عليه هذه الإشارة؟		الحد الأقصى للسرعة بالكيلومتر في الساعة

<p>ما الذي تدل عليه هذه الإشارة؟</p>		<p>ممنوع المرور</p>
<p>ما الذي تعنيه هذه الإشارة؟</p>		<p>يمنع استخدام بوق السيارة</p>
<p>ما الذي تعنيه هذه الإشارة؟</p>		<p>المرور من أحد الجانبين</p>
<p>ما الذي تعنيه هذه الإشارة؟</p>		<p>يحظر سير المشاة</p>
<p>إلى ماذا تشير هذه العلامة المرورية؟</p>		<p>إشارة الدوار</p>
<p>ما الذي تعنيه هذه الإشارة؟</p>		<p>يحظر الالتفاف</p>
<p>ما الذي تعنيه هذه الإشارة؟</p>		<p>نهاية الطريق السريع</p>
<p>ما الذي تدل عليه هذه الإشارة؟</p>		<p>بداية الطريق السريع</p>

<p>ما الذي تعنيه هذه الإشارة؟</p>		<p>يوجد انعطاف إلى الأمام</p>
<p>ما الذي تعنيه هذه الإشارة؟</p>		<p>التحذير من الحيوانات</p>
<p>إلى ماذا تشير هذه العلامة المرورية؟</p>		<p>التحذير من وجود الأطفال</p>
<p>ما الذي تعنيه هذه الإشارة؟</p>		<p>التحذير من إمكانية وجود بعض المخاطر على الطريق</p>
<p>ما الذي تدل عليه هذه الإشارة؟</p>		<p>يتغير الطريق مع السير إلى الأمام</p>
<p>إلى ماذا تشير هذه العلامة المرورية؟</p>		<p>يوجد مفترقات طرق متتالية</p>

ما الذي تعنيه هذه الإشارة؟		يوجد منعطف إلى اليسار
ما الذي تعنيه هذه الإشارة؟		يوجد منعطف إلى اليمين
ما الذي تعنيه هذه الإشارة؟		ينتهي الطريق المزدوج في الأمام
إلى ماذا تشير هذه العلامة المرورية؟		التحذير من إمكانية سقوط الصخور
ما الذي تعنيه هذه الإشارة؟		وجود تقاطع طرق
ما الذي تعنيه هذه الإشارة؟		الجهة اليسرى مغلقة
إلى ماذا تشير هذه العلامة المرورية؟		توجد طائرات تحلق على ارتفاع منخفض

<p>ما الذي تدل عليه هذه الإشارة؟</p>		<p>طريق غير نافذ</p>
<p>ما الذي تعنيه هذه الإشارة؟</p>		<p>توجد أعمال على الطريق</p>
<p>ما الذي تعنيه هذه الإشارة؟</p>		<p>هناك إشارات مرورية في الأمام</p>
<p>ما الذي تعنيه هذه الإشارة؟</p>		<p>يوجد نفق في الأمام</p>
<p>ما الذي تدل عليه هذه الإشارة؟</p>		<p>يوجد طريق غير مستو في الأمام</p>
<p>إلى ماذا تشير هذه العلامة المرورية؟</p>		<p>وجود مستشفى</p>

<p>ما الذي تعنيه هذه الإشارة؟</p>		<p>افسح الطريق</p>
<p>ما الذي تدل عليه هذه الإشارة؟</p>		<p>ممنوع الاصطاف</p>
<p>إلى ماذا تشير هذه العلامة المرورية؟</p>		<p>موقف للمعاقين</p>

أسئلة آداب وقواعد المرور في امتحان المرور النظري في الكويت

يمكن التعرف على بعض أسئلة القواعد والآداب المرورية من خلال ما يلي:

السؤال	الإجابة
هل تكون الأولوية للقادم من الطريق الرئيسي في حالة وجود طريق فرعي؟	نعم.
ما هي وظيفة الزجاج الأمامي؟	حماية السائق من الحوادث.
هل يجب ترك مسافة بين سيارة وأخرى أثناء القيادة؟	نعم.
إذا كانت بطارية سيارتك ضعيفة، وترغب بتشغيلها من بطارية أخرى بواسطة كيبيل مشترك؛ فما العمل؟	تضع الإصبع الموجب + على الإصبع الموجب + والإصبع - السالب - على الإصبع السالب.
على ماذا حزام الأمان؟	تقليل نسبة الإصابات.
هل يجب على قاندي المركبات وغيرهم من مستعملي الطريق إفساحه لمرور مركبات الطوارئ؟	نعم.
هل يجب على سائق أن يقلل من سرعة مركبته في المناطق السكنية؟	نعم.
ما هي وظيفة الراديو؟	تبريد المحرك.
هل يجوز قيادة المركبة عكس اتجاه السير؟	لا.
هل يجوز بدون عذر مقبول قيادة مركبة آلية ليلاً دون إضاءة الأنوار اللازمة؟	لا.
هل يجب على السائق أن لا يتجاوز الحد الأقصى للسرعة المقررة؟	نعم.
هل يجوز أن تتعدى حمولة المركبات الوزن المسموح به؟	لا.
هل أولوية المرور في التقاطع تكون للقادم من جهة اليمين في عدم وجود إشارة ضوئية؟	نعم.

أسئلة مخالقات المرور في امتحان المرور النظري في الكويت

يمكن الاطلاع على بعض أسئلة مخالقات المرور من خلال ما يلي:

السؤال	الإجابة
ما هي غرامة الإهمال بالقيادة وتعريض السائق أو الركاب أو الغير للخطر؟	تبلغ قيمة الصلح 30 ديناراً كويتيًّا، ولا تزيد الغرامة عن 100 دينار كويتي.
هل توجد غرامة على قيادة مركبة آلية غير مرخص بها؟	توجد غرامة لا تزيد قيمتها على 100 دينار كويتي لهذه المخالفة، وتبلغ قيمة الصلح عليها 30 ديناراً كويتيًّا.
ما هي غرامة تجاوز الإشارة الضوئية الحمراء؟	تبلغ قيمة الصلح على هذه المخالفة 50 ديناراً كويتيًّا، ولا تزيد الغرامة عن 300 دينار كويتي.
هل يعد تعمد إعاقة حركة المرور في الطرقات العامة مخالفة مرورية؟	نعم، تُعد هذه الإعاقة مخالفة بترتب عليها غرامة لا تزيد عن 75 ديناراً كويتيًّا أو الصلح مقابل 20 ديناراً كويتيًّا.
ما هي غرامة قيادة مركبة آلية يوجد خلل في مكابحها؟	تترتب مخالفة لا تزيد غرامتها على 75 ديناراً أو الصلح على 20 ديناراً كويتيًّا عند ارتكاب هذه المخالفة.
هل تجوز قيادة مركبة آلية مع تغيير مكان اللوحات؟	لا يجوز ذلك، ويعرض المرتكب نفسه إلى الحبس مدة 15 يوماً، وكذلك الغرامة التي تبلغ قيمتها 15 ديناراً للصلح، ولا تزيد عن 25 ديناراً.

