



وزارة التربية

الدراسات الاجتماعية الكويت والوطن العربي

للمصف السابع



تم التحميل من:

شبكة
ياكويت

<http://www.ykuwait.net>
TELEGRAM: @ykuwait_net_home

تعريف الوطن العربي

إعداد

د. أحمد الراجحي

المرحلة المتوسطة

الطبعة الثانية



بِسْمِ اللَّهِ الرَّحْمَنِ الرَّحِيمِ

هذا الملف عبارة عن حل لكتاب الاجتماعيات الصف السابع الفصل الأول، ويحتوي على أنشطة وتدريبات تفيد الطالب، وهو اجتهاد شخصي يحتمل الخطأ، يهدف إلى نشر المعرفة لهذا الكتاب.

يمنع استغلال هذا العمل للأغراض التجارية.

الدرس الأول : البيئة الطبيعية في الوطن العربي

أ - تعريف الوطن العربي

لاحظ مفتاح الخريطة
ماذا يمثل اللون الأصفر؟

ابحث وتعلم :



شكل (١) موقع الوطن العربي على خريطة العالم

نشاط (١) لاحظ الخريطة شكل (١) ثم شارك زملاءك في الإجابة عن الأسئلة التي تليها :

علام يدل اللون الأصفر في الخريطة .

.....
الوطن العربي

ما اسم القارات التي يمتد فيها وطننا العربي؟

.....
آسيا أفريقيا

ما موقع الوطن العربي بالنسبة إلى قارات العالم؟

.....
وسط العالم





نشاط (٢) لاحظ الجدول التالي :

الدولة	اللغة الرسمية	الدين
الكويت	اللغة العربية	الإسلام
المملكة المغربية	اللغة العربية	الإسلام
المملكة الأردنية	اللغة العربية	الإسلام

ماذا تستنتج من الجدول السابق؟

أن هناك مجموعة من الروابط المشتركة بين الدول العربية

نشاط (٣) من خلال نشاط (١) ونشاط (٢) أوجد تعريفاً للوطن العربي حسب رأيك .

إذن نستنتج أن الوطن العربي:

هو مجموعة الدول العربية التي يجمعها عدد من السمات المشتركة (الدين واللغة) ويمتد

ضمن قارتين من أكبر قارات العالم مساحة .

تعرف على دول الوطن العربي من خلال
الخريطة التالية



شكل (٢) خريطة الوطن العربي السياسية



جمهورية جزر القمر الاتحادية الإسلامية :

تقع جمهورية جزر
القمر خارج نطاق موقع
الوطن العربي حيث

تتكون من اتحاد أربع
جزر مستقلة تقع شمال
غرب جزيرة مدغشقر في
المحيط الهندي، عاصمتها
موروني وانضمت إلى
الجامعة العربية في عام

١٩٩٣ .

نشاط (١)

المحيط الهندي، عاصمتها
موروني وانضمت إلى
الجامعة العربيّة في عام
١٩٩٣.

صنف الدول العربية الآسيوية والدول العربية الأفريقية في الجدول التالي :

الدول العربية الأفريقية		الدول العربية الآسيوية	
الجزائر	أكبر دولة عربية	السعودية	أكبر دولة عربية
جزر القمر	أصغر دولة عربية	البحرين	أصغر دولة عربية

تمثل مساحة الوطن العربي نحو ١٠٪ من جملة مساحة العالم والتي تبلغ ١٣,٥٠٠ مليون كم^٢ تقريباً بعد انفصال جنوب السودان عن جمهورية السودان .





نشاط (٢)

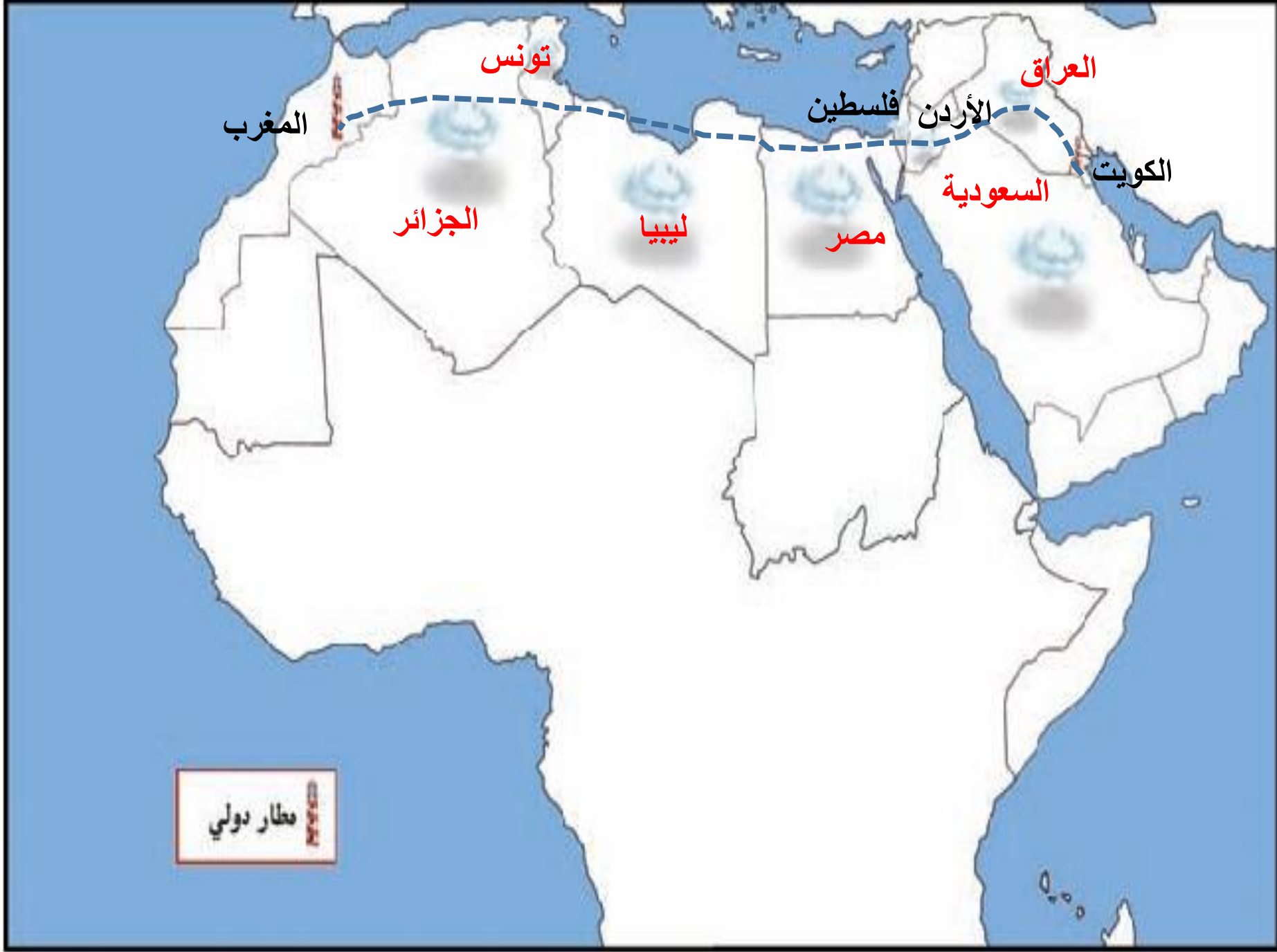
استعن بالشكل رقم (٢) ثم أجب عما يلي :
ما اسم البحر الذي يفصل الجناح الآسيوي عن الجناح الأفريقي؟

..... **البحر الأحمر**

ما الدولة التي انضمت حديثاً لجامعة الدول العربية؟

..... **جزر القمر**





مطار دولي



نشاط (٤)

بالاستعانة بالأطلس المدرسي و شبكة الإنترنت تعرف على أسماء الدول العربية وعواصمها .



						اسم الدولة العربية
البحرين	الإمارات	عمان	السعودية	قطر	الكويت	عاصمتها
المنامة	ابوظبي	مسقط	الرياض	الدوحة	الكويت	
						اسم الدولة العربية
الأردن	سوريا	فلسطين	لبنان	العراق	اليمن	عاصمتها
عمان	دمشق	القدس	بيروت	بغداد	صنعاء	
						اسم الدولة العربية
موريتانيا	المغرب	الجزائر	تونس	ليبيا	مصر	عاصمتها
نواكشوط	الرباط	الجزائر	تونس	طرابلس	القاهرة	
						اسم الدولة العربية
جزر القمر	الصومال	جيبوتي	السودان			عاصمتها
موروني	مقديشو	جيبوتي	الخرطوم			

نشاط (١)

أكمل المخطط السهمي التالي بعد الاستعانة بالفقرة السابقة :



الوحدة الأولى

الوطن العربي مقومات
وملامح جغرافية



موقع الوطن العربي

إعداد
الأستاذة راجحي

لاحظ الخرائط الموجودة في الكتاب من ص ٢٨
إلى ص ٣٦ وأجب عما يلي مستعينا بالكتاب:

• عرف كلا من :

الموقع الاستراتيجي – المسطحات المائية – القناة – المضيق – الموقع
الفلكي – الموقع النسبي

• ما هي أهمية موقع الوطن العربي؟

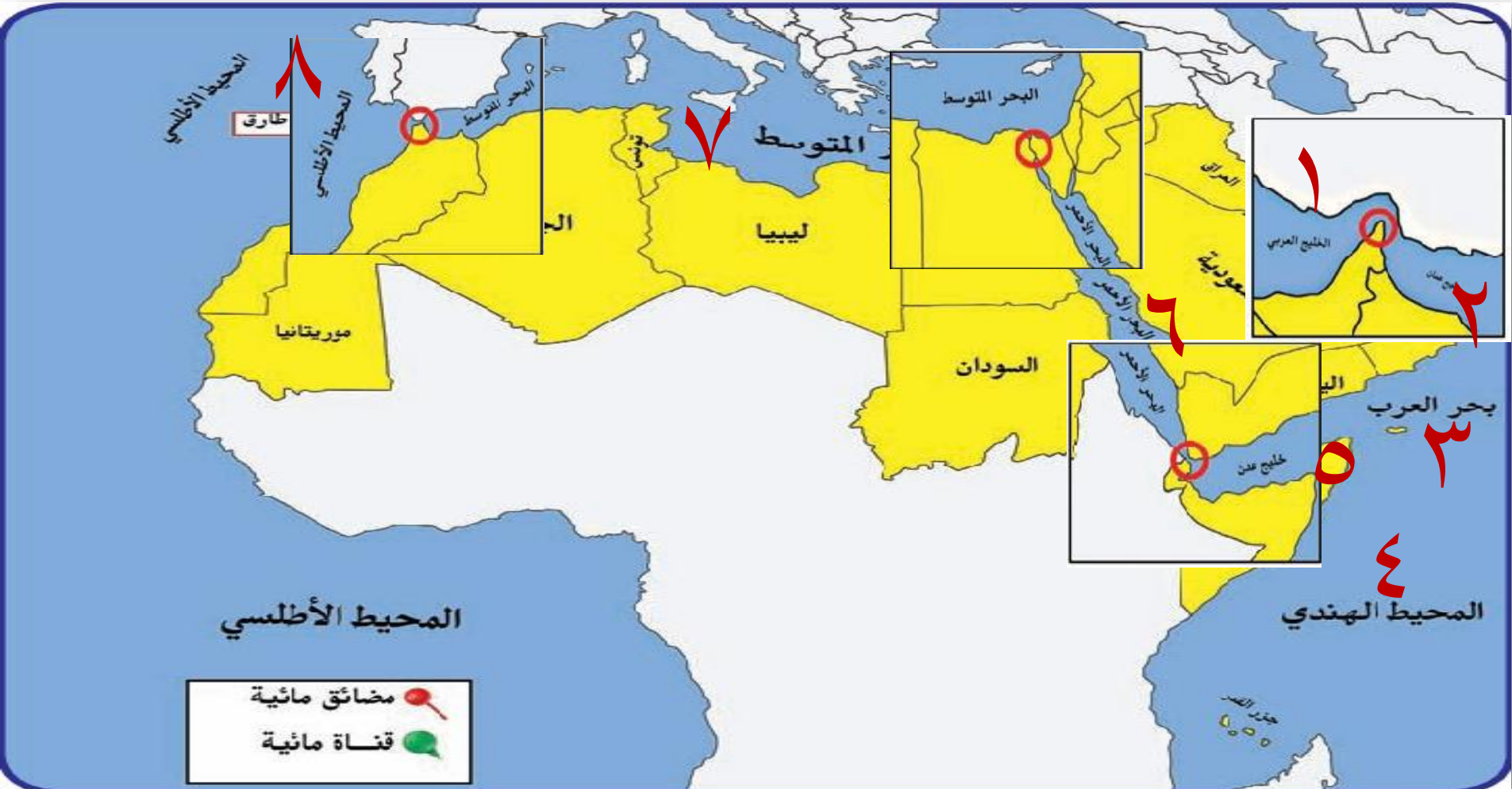
• ما هي أهم المسطحات المائية التي يتحكم بها الوطن العربي؟

• ما الدولة العربي التي يمر بها خط الاستواء؟

• ما هي القارة التي تحد الوطن العربي من الشمال؟

• ما هي الأهمية الاقتصادية للوطن العربي؟

لاحظ الخريطة التالية وحدد أهم المسطحات والمضائق المائية:





الدرس الثاني : موقع الوطن العربي

أ - موقع الوطن العربي وحدوده

لماذا يتمتع الوطن العربي بموقع إستراتيجي مهم
تتجدد أهميته على مر العصور؟



الموقع الإستراتيجي :

أي موقع ذي
مكانة مهمة بين دول
العالم .



شكل (٤) خريطة توضح الموقع الإستراتيجي للوطن العربي

المضيق :

ممر مائي ضيق يصل
بين بحرين أو محيطين أو أي
مساحتين كبيرتين نسبياً من
الماء .

القناة :

مجرى مائي صناعي ضيق
يشق لأغراض الري أو
النقل .

المسطحات المائية :

جميع اشكال المياه على سطح
الأرض مثل البحار والخلجان
والمحيطات ، البحيرات ،
والأنهار . . . إلخ .



نشاط (١)

استعن في الشكل رقم (٤) ثم أجب عما يلي :-

ما الصفات الأساسية التي يتمتع بها موقع الوطن العربي؟
يقع وسط العالم
يطل على مسطحات مائية مهمة
يتحكم بمضائق مائية مهمة في التجارة العالمية



في أي قارة يمتد القسم الأكبر من الوطن العربي؟
أفريقيا

نشاط (٢)

ساعد خالداً في التعرف على أسماء المضائق ، والممرات المائية وكذلك أسماء المسطحات المائية التي تتصل بهما .



مضيق
جبل طارق
 وهذا المضيق
 يصل بين البحر
المتوسط
 والمحيط
الأطلسي



قناة
السويس
 وهذه القناة
 تصل بين البحر
الأحمر
 والبحر
الأبيض



مضيق
باب المندب
 وهذا المضيق
 يصل بين خليج
عدن
 والبحر
الأحمر



مضيق
هرمز
 وهذا المضيق
 يصل بين الخليج
العربي
 وخليج
عمان

المتوسط



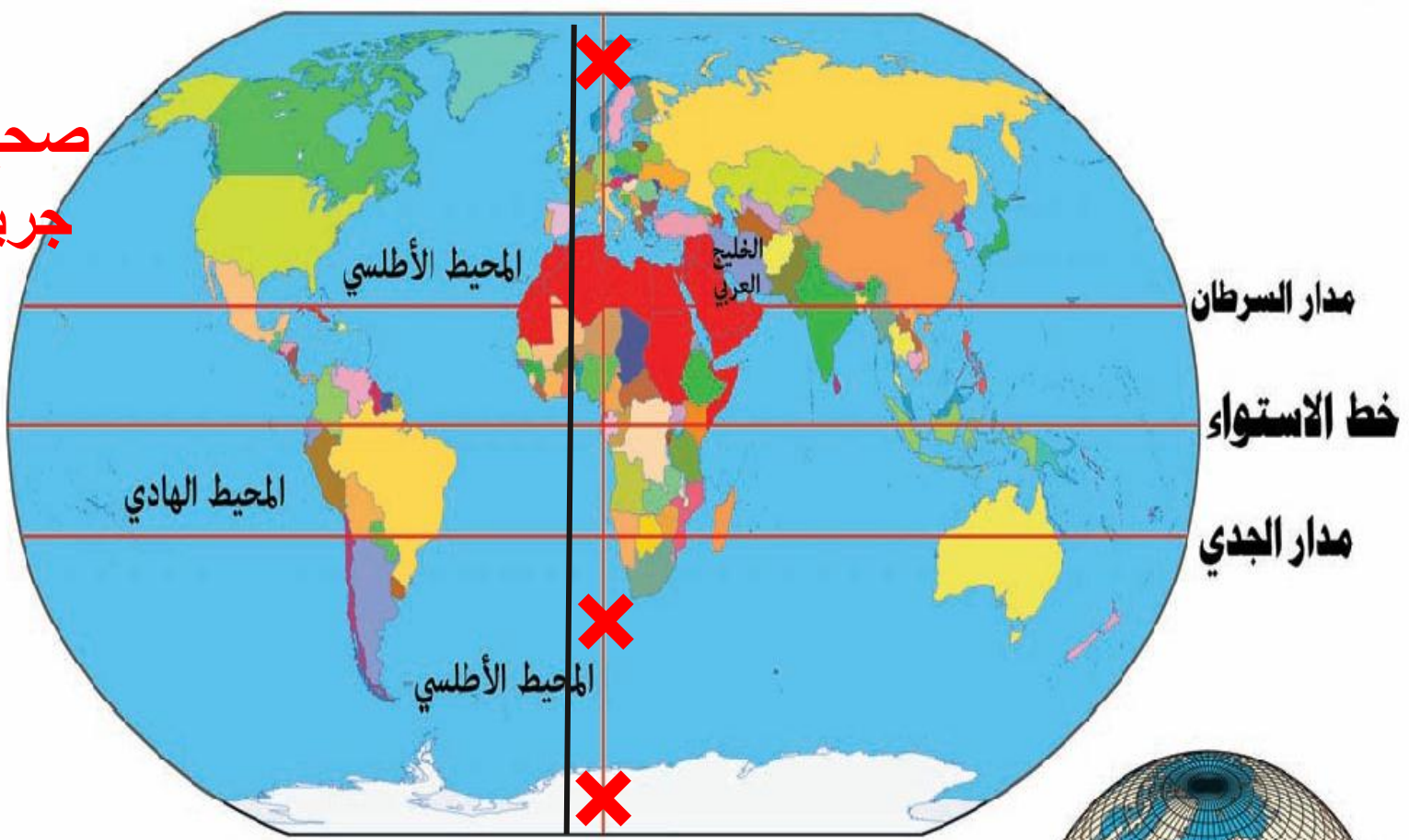


نشاط (٣)

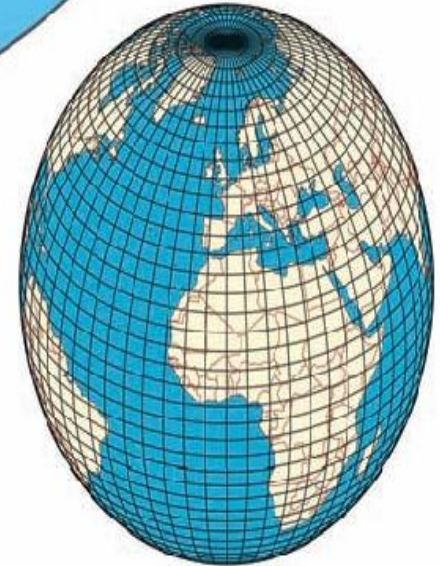
صنف المسطحات المائية للوطن العربي من خلال خريطة شكل (٤) حسب
الجدول التالي :

بحار	خلجان	محيطات
١ - بحر العرب	١ - الخليج العربي	١ - المحيط الهندي
٢ - البحر الأحمر	٢ - خليج عمان	٢ - المحيط الأطلسي
٣ - البحر الأبيض المتوسط	٣ - خليج عدن

صح خط
جرينتش



خط جرينتش



شكل (٥) خريطة توضح خطوط الطول ودوائر العرض



نشاط (١)

قارن بين خطوط الطول ، و دوائر العرض حسب الجدول التالي :

دوائر العرض	خطوط الطول	أوجه المقارنة
خطوط وهمية ترسم على الكرة الأرضية تقسمها لقسمين شمال وجنوب	خطوط وهمية ترسم على الكرة الأرضية تقسمها لقسمين شرق وغرب	التعريف
١٨٠	٣٦٠	العدد
خط الاستواء	جرينيتش	الخط الرئيسي
معرفة المناخ	معرفة التوقيت	مميزاته



نشاط (٢)

من خلال شكل رقم (٥) أفكر ثم أجيب .

ما الدول العربية التي يمر بها خط الاستواء؟

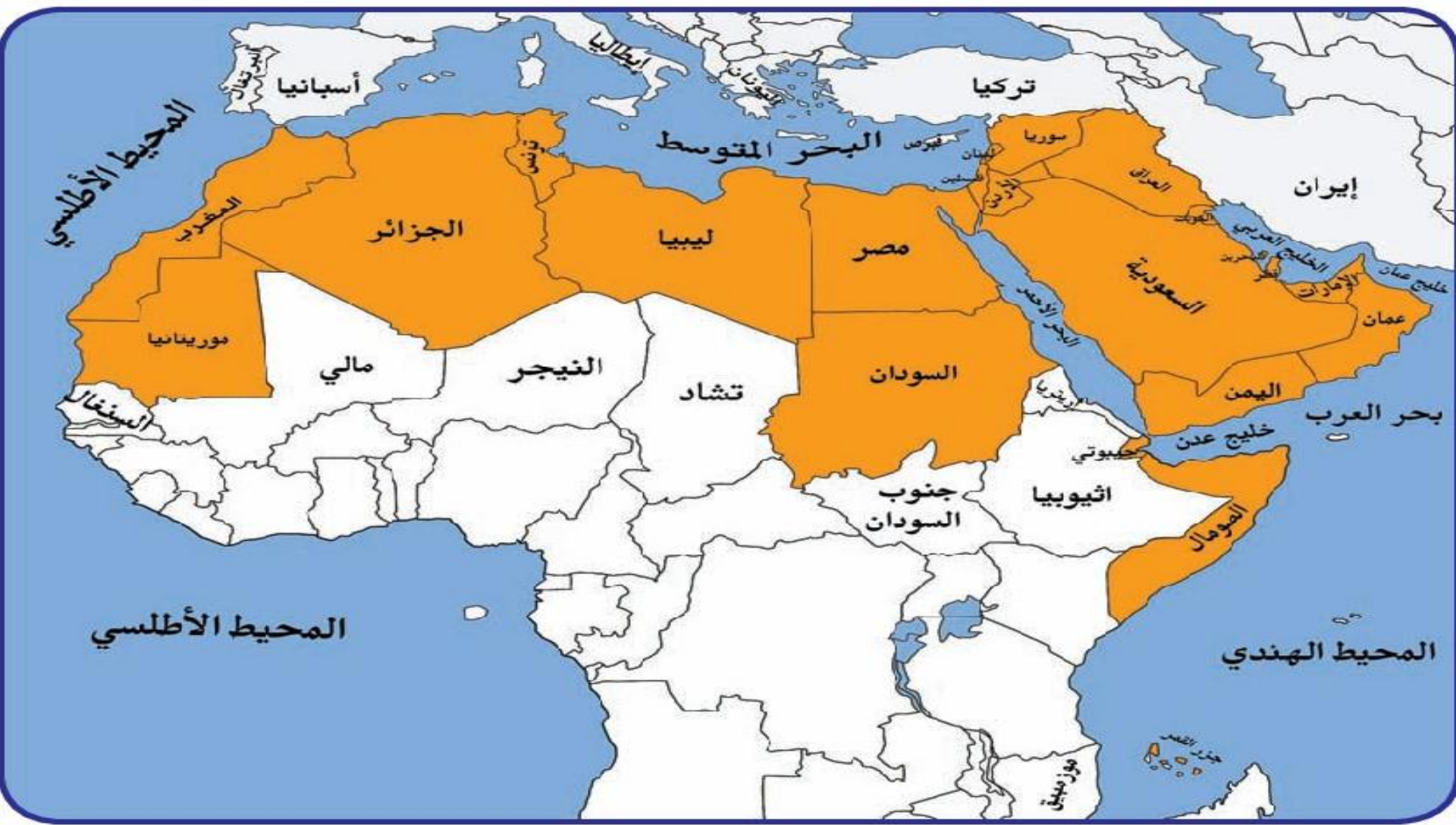
.....
الصومال
.....

ما الدولة العربية التي يمر بها خط جريتش؟

.....
الجزائر
.....



* يمكن الاستعانة بكتاب الدراسات الاجتماعية للصف السادس .



الموقع النسبي للوطن العربي
إعزاز
أ. أحمد الراحمي

اقراء الكتاب من ص ٣٣ إلى ص ٣٦ وأجب عن الأسئلة التالية:

- ما هو الموقع النسبي؟
- ما هي القارة المجاورة للوطن العربي من جهة الشمال؟
- ما هي المسطحات المائية التي تحد الوطن العربي من جهة الشرق والجنوب؟
- ما هي الأهمية الجغرافية للوطن العربي؟
- ما هي الأهمية الاقتصادية للوطن العربي؟
- هل للوطن العربي أهمية حضارية؟ ما هي؟

ج - الموقع النسبي للوطن العربي

الموقع النسبي: هو موقع الدولة بالنسبة لليابسة والماء.

ابحث وتعلم :



شكل (٦) الخريطة السياسية للوطن العربي

نشاط (١)

لاحظ الشكل رقم (٦) ثم أجب عما يليه .

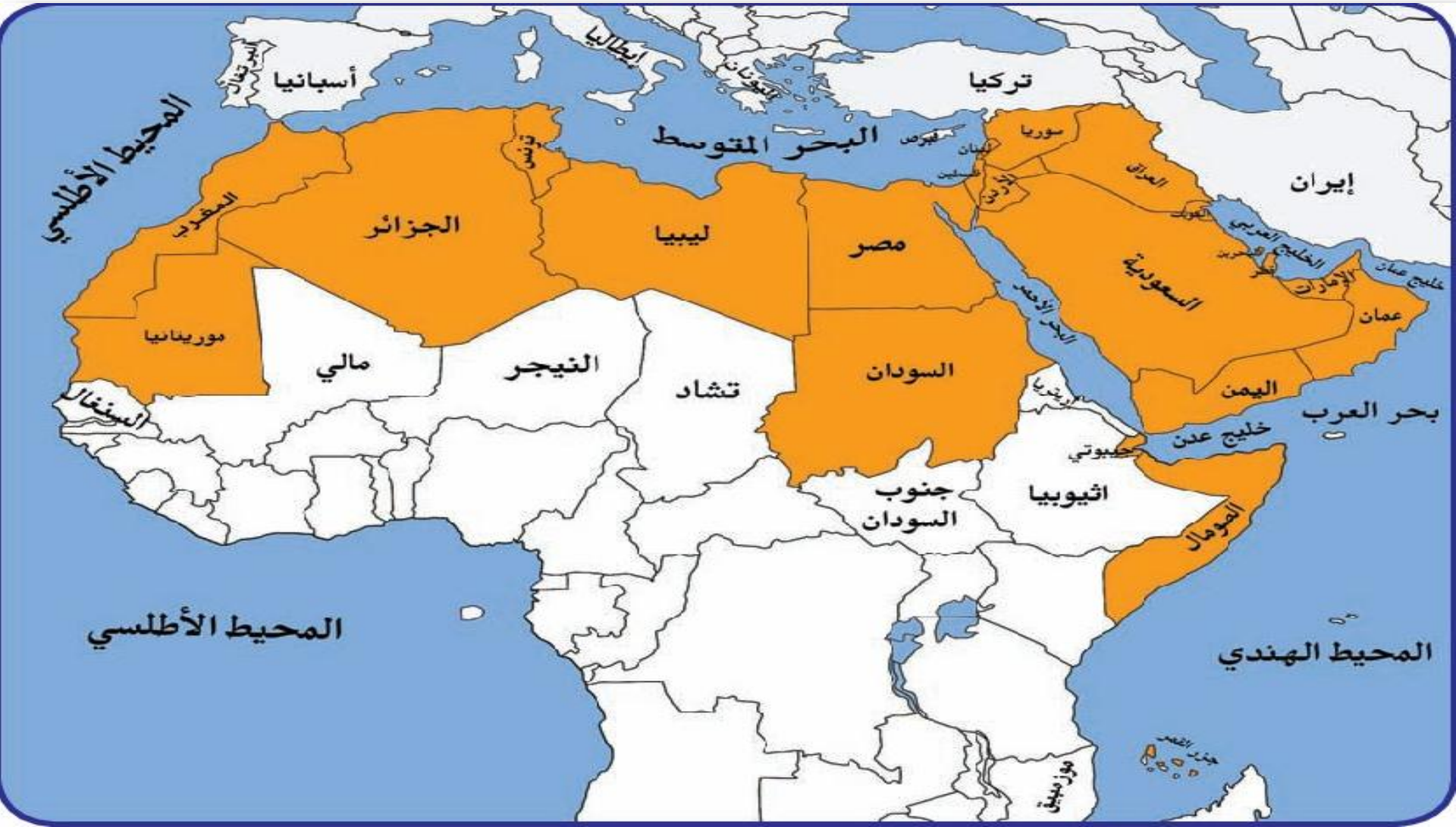
ما القارة المجاورة للوطن العربي من جهة الشمال؟

.....

ما المسطح المائي الذي يحد الوطن العربي من جهة الغرب؟

.....

لاحظ الخريطة التالية واستخرج منها حدود الوطن العربي البحرية والبرية:



نشاط (١)

لاحظ الشكل رقم (٦) ثم أجب عما يليه .

ما القارة المجاورة للوطن العربي من جهة الشمال؟

اوربا




ما المسطح المائي الذي يحد الوطن العربي من جهة الغرب؟

المحيط الاطلسي



نشاط (٢)

بمساعدة معلمك استعن ببرنامج google earth () لتحديد ما يلي :

- موقع الوطن العربي بالنسبة لقارة آسيا وأفريقيا .. **جنوب غرب آسيا**
- **شمال أفريقيا**
- موقع بلادك الكويت على الخريطة .
- اكتب أسماء المسطحات المائية التي تحدها الوطن العربي من الشرق والجنوب الشرقي على الخريطة .
- ظلل الحدود الجنوبية البرية للوطن العربي على الخريطة باللون الأصفر .



اقرأ وتعلم : إن للوطن العربي حدوداً بحرية وبرية ، يحده من الشمال البحر المتوسط وتركيا ، ومن الشرق إيران والخليج العربي ، ومن الغرب المحيط الأطلسي .





د - أهمية موقع الوطن العربي

ما هي

١ - الأهمية الجغرافية للوطن العربي :

تعرف على الأهمية الجغرافية للوطن العربي من خلال الحوار التالي بين خالد ووالده .

هل تعلم يا خالد أن الوطن العربي يتمتع بموقع إستراتيجي مهم ، أكسبه مكانة مهمة بين دول العالم في أوقات السلم والحرب .
 حيث إنه يشغل مكاناً وسطاً بين قارات العالم الثلاث ، ويطل على مسطحات مائية واسعة ذات أهمية كبيرة للملاحة والتجارة العالمية .



وماذا ترتب على هذه الأهمية يا والدي ؟ ؟



ترتب على هذه الأهمية يا خالد تنافس الدول الاستعمارية للاستيلاء عليه منذ القرن ١٨ الميلادي وتقسيمه لعدة دول ، ~~وقد قاومت هذه الدول الاستعمار للحصول على استقلالها .~~



ما هي

٢ - الأهمية الاقتصادية للوطن العربي :

١ يتمتع الوطن العربي بأهمية اقتصادية كبيرة منذ القدم كمنطقة عبور لحركة الملاحة والتجارة العالمية ،

٢ وهو الجسر الذي يربط قارات العالم الثلاث (أفريقيا - آسيا - أوروبا) بمواردها الهائلة والضخمة ، وسكان

٣ الوطن العربي الذين يشكلون ٥٪ تقريباً من سكان العالم .

٤ كما أدى ظهور النفط بكميات كبيرة بمنطقة الخليج العربي وشبه الجزيرة العربية وبعض مناطق شمال

أفريقيا إلى تزايد هذه الأهمية .



ما هي

٣ - الأهمية الحضارية والثقافية للوطن العربي :

١ قامت على أراضي الوطن العربي حضارات عديدة ، وهبطت على أرضه الديانات السماوية التي انتشرت في أنحاء العالم .

٢

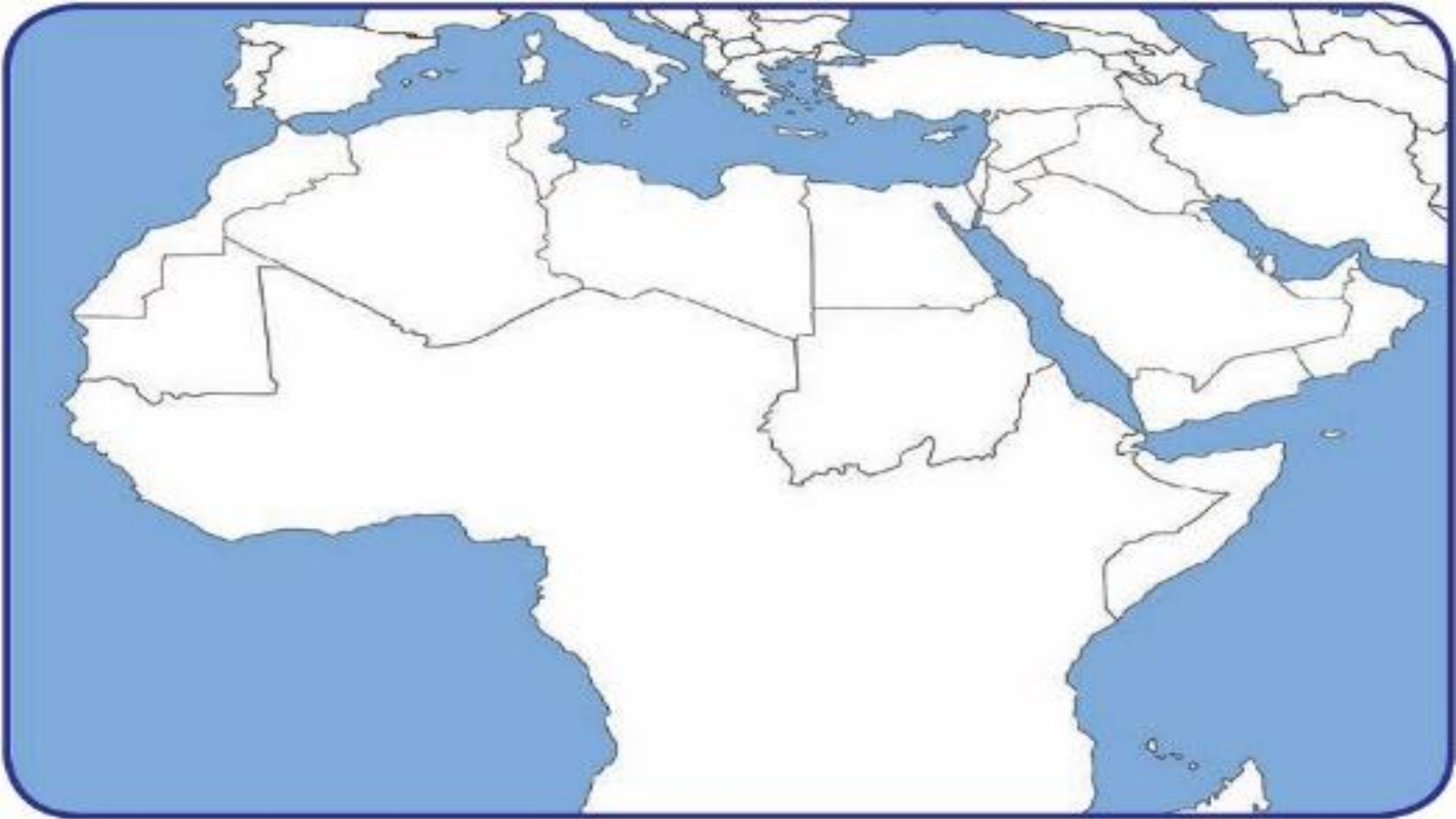
نشاط (١) بالاستعانة بالإنترنت  ابحث عن الديانات السماوية الثلاث وسجلها .

الإسلام

المسيحية

اليهودية

اكتب المسطحات المائية للوطن العربي
والحدود البرية على الخريطة التالية:



جبال

مظاهر السطح

هضاب

وادي

سهل

إعداد
د. أحمد الراحمي

لاحظ الصور التالية واطهر الفرق
بينها:



اقرأ الكتاب ص ٣٧ – ٤٣ ثم أجب عما يلي:

- ما الفرق بين:
الجبال – الهضاب – السهول – الوديان
- ما أهم الجبال في الجناح الأفريقي؟
- أين تقع جبال أطلس؟
- ما هي أهم الهضاب في الجبال في الوطن العربي؟
- ما الفرق بين السهول الفيضية والساحلية؟



ملامح السطح في الوطن العربي

سبق أن درست خريطة دولة الكويت الطبيعية وتعرفت على مظاهر السطح وأصبحت قادراً الآن على أن تقرأ شكل (٧) وأن تميز بين الظاهرات الطبيعية .



شكل (٧) مظاهر السطح

نشاط (١) شارك زملاءك في التمييز بين ملامح السطح في شكل (٧) حسب الجدول التالي :

الوديان	السهول	الهضاب	الجبال	أوجه المقارنة
				التعريف
				الرسم

الوديان	السهول	الهضاب	الجبال	أوجه المقارنة
<p>أرض منخفضة بين الجبال أو السهول</p>	<p>مساحة كبيرة من الأرض تتميز باستوائها وقلّة ارتفاعها</p>	<p>أرض مرتفعة سطحها مستوي ومساحتها كبيرة</p>	<p>كل ما ارتفع عن سطح الأرض وتزيد قمته عن ١٠٠٠م</p>	<p>التعريف</p>
				<p>الرسم</p>



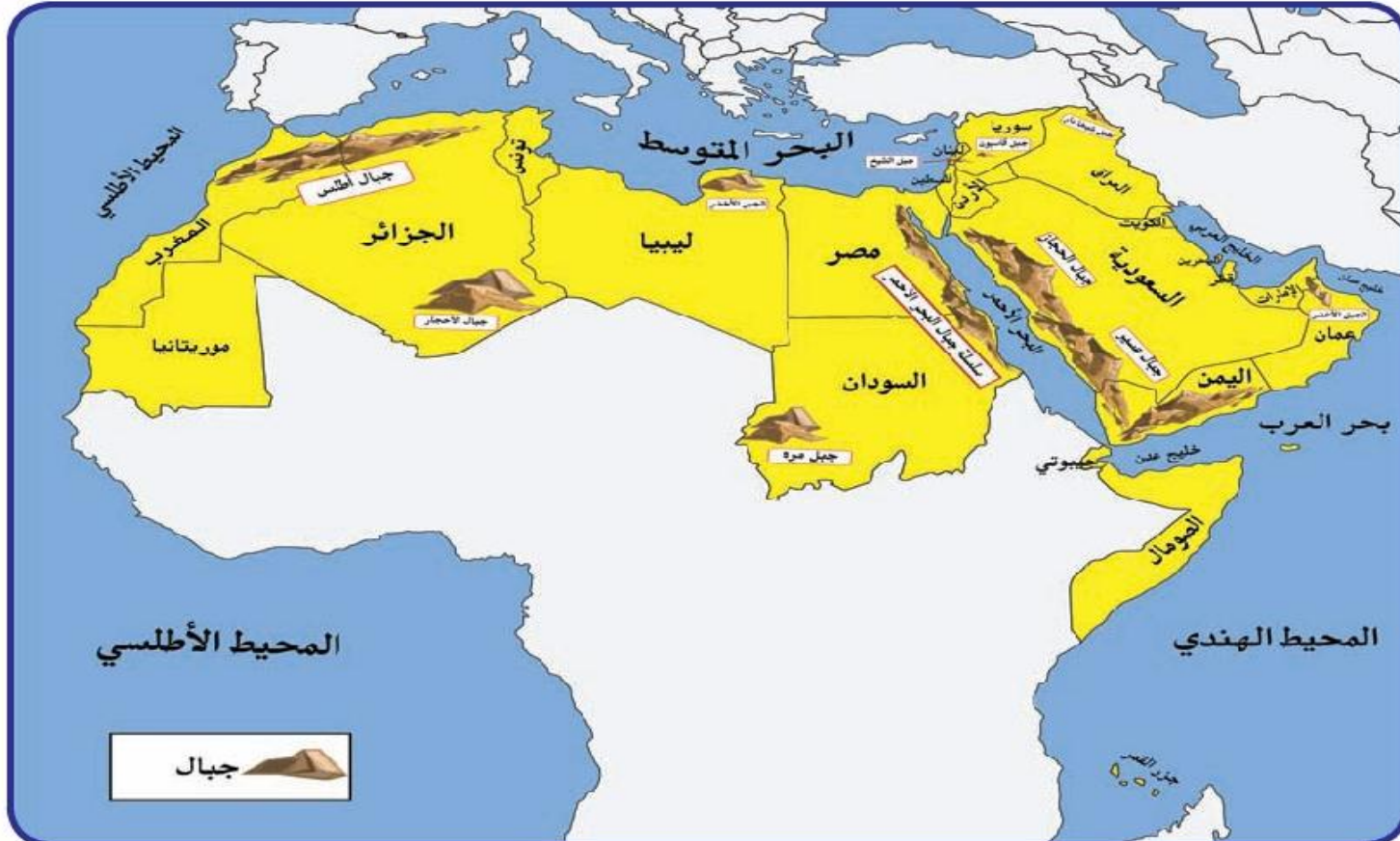
أ - الجبال في الوطن العربي

هو كل ما ارتفع من الأرض وله قمة لا يقل ارتفاعها عن ١٠٠٠ متر ، أما إذا قل الارتفاع عن ذلك فيسمى تلاً وجمعها تلال .

الجبل



اقرأ وتعلم





نشاط (١) تعرف على الجبال التي تقع في الوطن العربي في الجناح الآسيوي والأفريقي .

الجناح الأفريقي	
اسم الدولة التي يقع فيها الجبل	اسم الجبل
السودان	جبل مرة
الجزائر	اطلس
الجزائر	الاحجار

الجناح الآسيوي	
اسم الدولة التي يقع فيها الجبل	اسم الجبل
السعودية	الحجاز
عمان	الجبل الأخضر
سوريا	قاسيون



نشاط (٢) باستخدام google earth () ابحث عن صور ومعلومات عن بعض الجبال في الوطن العربي .

اسم الجبل	الدولة	صورة الجبل	معلومات عن الجبل
مثال ١ - جبل مرة	السودان		يبلغ ارتفاع الجبل ٣٠٤٢ متراً، ويقع في دولة السودان في الجناح الأفريقي .
٢ - جبال أطلس	الجزائر		يبلغ ارتفاعه ٢٥٠٠ م
٣ - جبال عسير	السعودية		تقع جنوب غرب السعودية وحدود اليمن
٤ - جبل قاسيون	سوريا		يبلغ ارتفاعه ١١٥٠ م





ب - الهضاب في الوطن العربي



اقرأ وتعلم

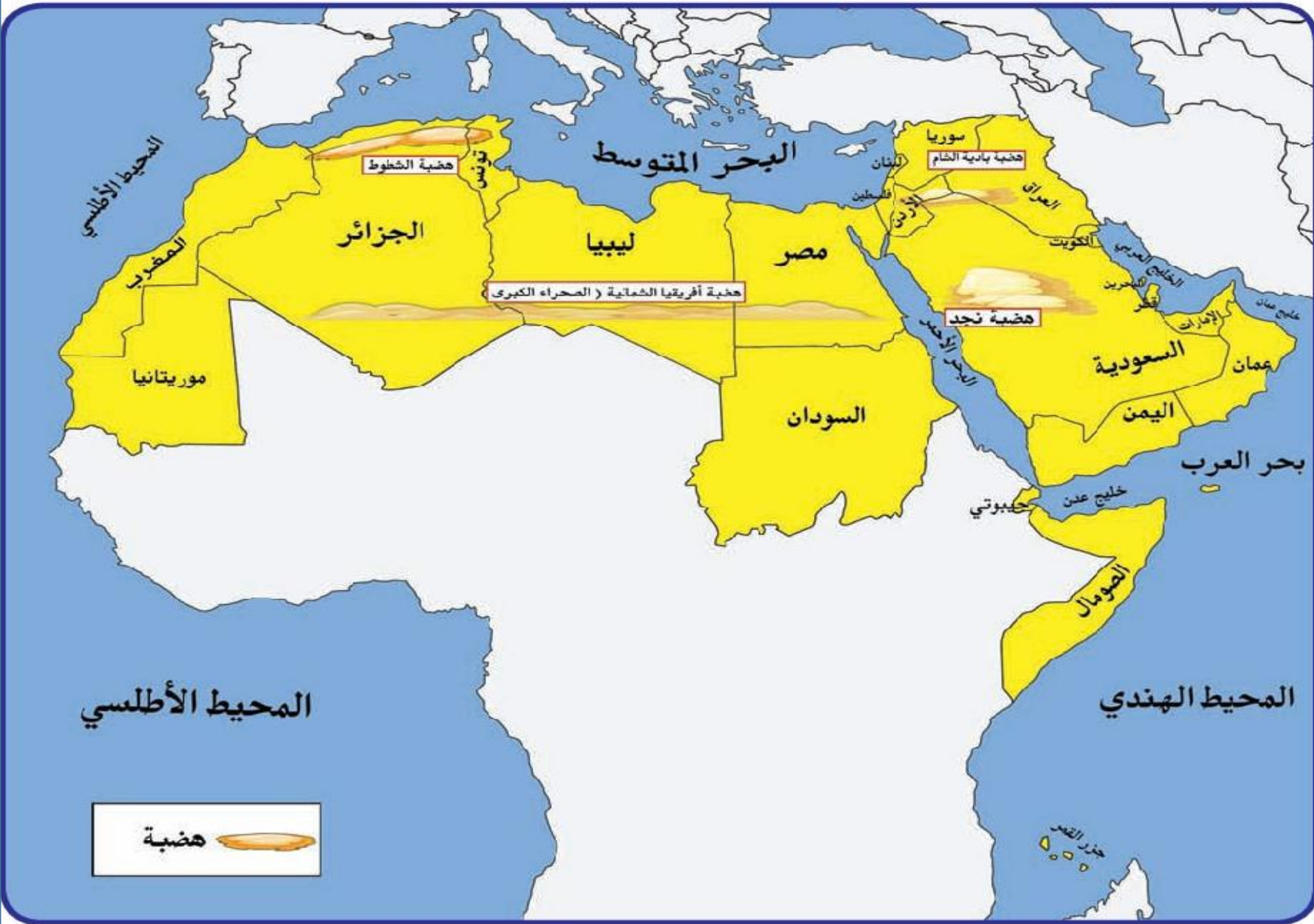
تعد الهضاب أكثر الأشكال التضاريسية انتشاراً في الوطن العربي ؛ إذ تشغل مساحات واسعة تمتد من أقصى الشرق إلى أقصى الغرب ، فهي تغطي بذلك معظم أرجاء الوطن العربي .

وتنقسم هضاب الوطن العربي كالآتي :

هضبة أفريقيا الشمالية (الصحراء الكبرى)

هضبة شبه الجزيرة العربية وبلاد الشام .

الهضبة : أرض مرتفعة ، سطحها مستو ، وتمتد على مساحة كبيرة .



شكل (٩) خريطة توضح الهضاب في الوطن العربي

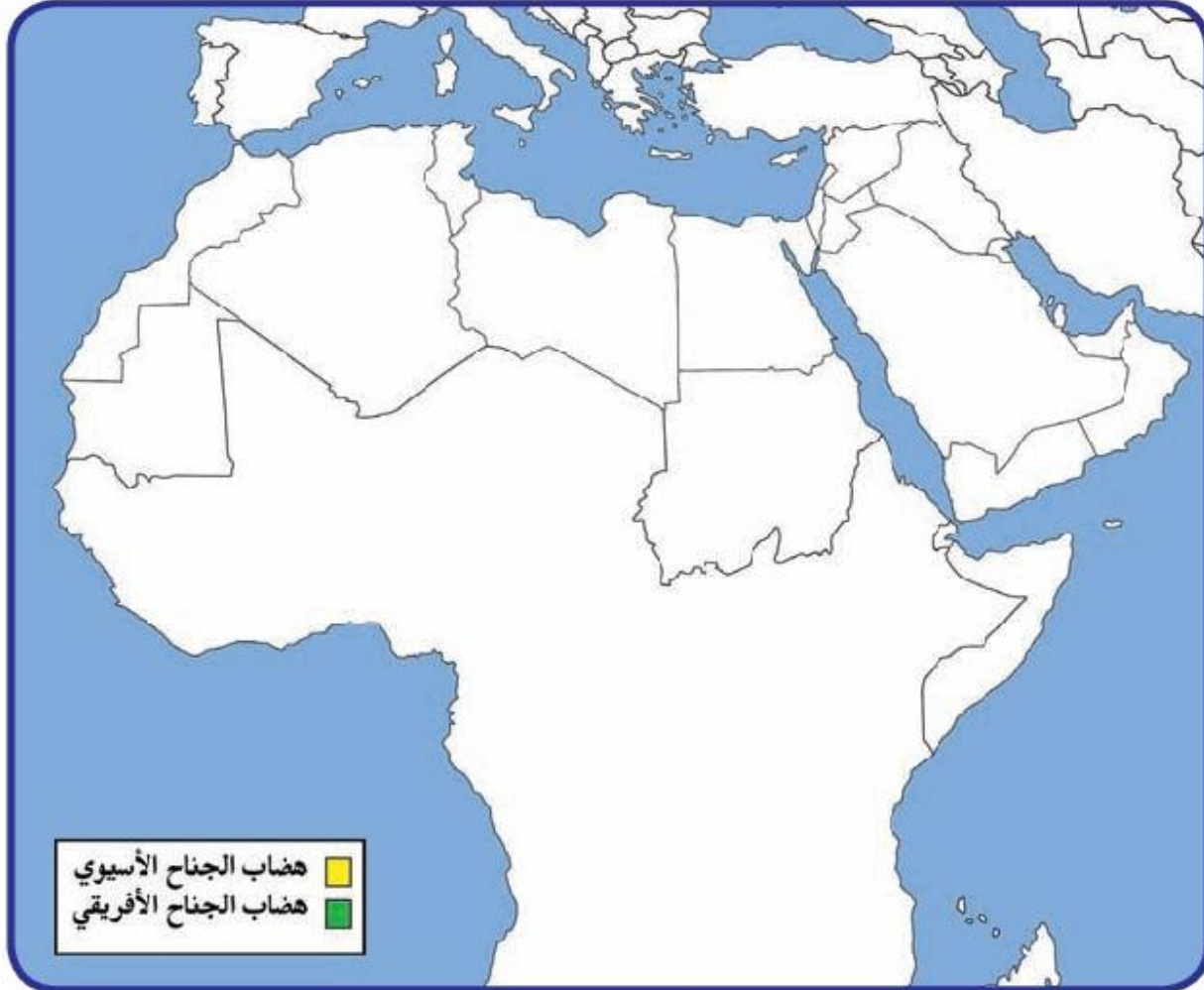


تعرف على أهم الهضاب التي تقع في الوطن العربي في الجناح الآسيوي والأفريقي .

أهم الهضاب في الوطن العربي في الجناح الآسيوي		أهم الهضاب في الوطن العربي في الجناح الأفريقي	
اسم الهضبة	الدول التي تقع فيها الهضبة	اسم الهضبة	الدول التي تقع فيها الهضبة
١- نجد	السعودية	١- الصحراء الكبرى	مصر، ليبيا، الجزائر
٢- بادية الشام	سوريا الاردن	٢- الشطوط	تونس، الجزائر



ارسم الهضاب على خريطة الوطن العربي الصماء ، ثم لَوّن هضاب الجناح الآسيوي باللون الأصفر ، وهضاب الجناح الأفريقي باللون الأخضر .





ج - السهول في الوطن العربي



اقرأ وتعلم

تتنوع السهول ، وتوزع على مختلف أنحاء الوطن العربي ، ويمكن أن
نميز بين نوعين رئيسيين من السهول هما :

- السهول الفيضية (النهرية) : وهي الأراضي المنخفضة التي تكونت من التربة التي حملتها مياه الأنهار .
- السهول الساحلية : هي الأراضي المنبسطة التي تجاور سواحل البحار والمحيطات .

السهول : مساحة

كبيرة من سطح الأرض تتميز باستوائها ، وقلة ارتفاعها ومفردها : سهل .



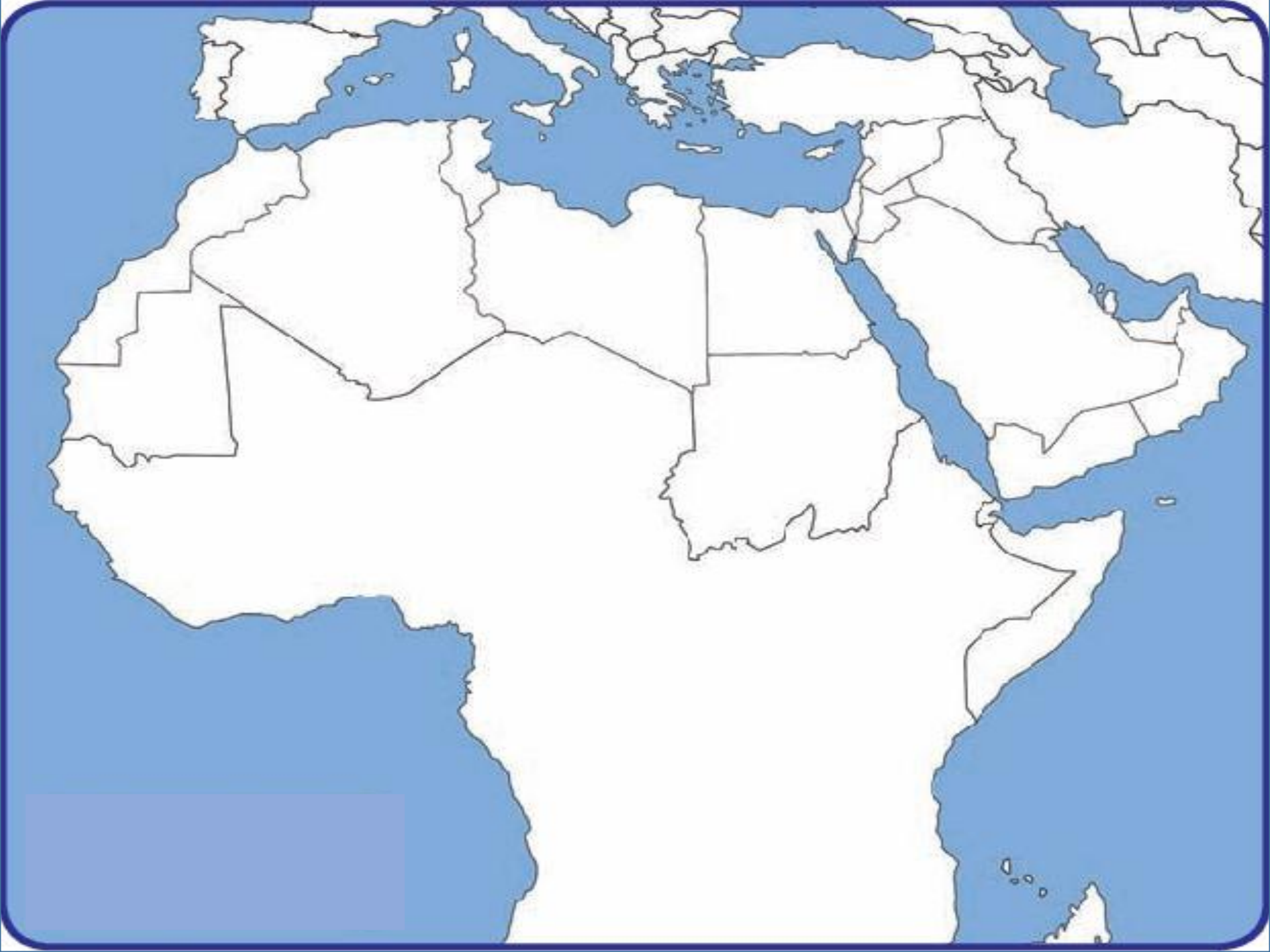
نشاط (١)



تعرف على اسم ونوع السهول التي تقع في الوطن العربي في الجناح الآسيوي والأفريقي .

أهم السهول في الوطن العربي في الجناح الأفريقي			أهم السهول في الوطن العربي في الجناح الآسيوي		
اسم السهل	نوعه	الدول التي يقع فيها السهل	اسم السهل	نوعه	الدول التي يقع فيها السهل
النيل	نهري	مصر السودان	الخليج العربي	بحري	الكويت السعودية قطر
سهول المغرب العربي	بحري	تونس الجزائر المغرب	الامارات البحرين	نهري	سوريا والعراق
			دجلة والفرات		

على الخريطة التالية حدد أهم
المظاهر التضاريسية




٤٩%

١٠ km/h
عالية

الضغط الجوي ١٠٠٩

المناخ في الوطن العربي

إعداد
د. أحمد الراحمي



اقراء الكتاب من ص ٤٤ إلى ص ٥٠ ثم أجب عن التساؤلات التالية

- ما الفرق بين الطقس والمناخ؟
- ما هو الضغط الجوي؟
- ما هي عناصر المناخ؟
- ما هي العوامل التي تؤثر في المناخ؟
- ما هي أهم الرياح التي تهب على الوطن العربي؟
- بماذا يتميز مناخ الوطن العربي في فصلي الصيف والشتاء؟



الدرس الرابع

المناخ في الوطن العربي

أ - ما المقصود بالمناخ؟ وما الفرق بين الطقس والمناخ؟

إذا قلنا إنَّ الجو اليوم حار نهاراً ومعتدل ليلاً ، وإنَّ اتجاه الرياح جنوبية غربية أو شمالية شرقية ، فإننا نتحدث عن الطقس خلال هذا اليوم .
أما إذا تكلمنا عن حالة الجو خلال فصل الصيف أو الشتاء فإننا نتحدث عن المناخ فنقول :
إنَّ المناخ في دولة الكويت حار جاف صيفاً ومعتدل بارد شتاءً .

المناخ : هو حالة الجو خلال فترة زمنية طويلة من حيث درجة الحرارة والرطوبة والأمطار .
الطقس : هو حالة الجو في مكان لمدة قصيرة تتراوح بين يوم أو عدة أيام من حيث درجة الحرارة والرطوبة والأمطار والرياح والضغط الجوي .



الدرس الرابع

المناخ في الوطن العربي

أ - ما المقصود بالمناخ؟ وما الفرق بين الطقس والمناخ؟

إذا قلنا إنَّ الجو اليوم حار نهاراً ومعتدل ليلاً ، وإنَّ اتجاه الرياح جنوبية غربية أو شمالية شرقية ، فإننا نتحدث عن الطقس خلال هذا اليوم .

أما إذا
إنَّ المناخ

الضغط الجوي : وزن الهواء فوق أي مكان .

هو : المناخ


هو : الطقس

والرطوبة والامطار والرياح والضغط الجوي .

الكويت

اثنين الأحد

٤٢°C

٢٠% 

٢٠ km/h شمالية 

١٠١٠ الضغط الجوي 




						
الأحد	الاثنين	الثلاثاء	الأربعاء	الخميس	الجمعة	السبت
٢٢°C	٢٢°C	٢٤°C	٢٤°C	٢٤°C	٢٤°C	٢٤°C

لبنان

اثنين الأحد

١٨°C

٤٩% 

١٠ km/h شمالية غ 

١٠٠٩ الضغط الجوي 



						
الأحد	الاثنين	الثلاثاء	الأربعاء	الخميس	الجمعة	السبت
١٨°C	١٨°C	١٧°C	١٤°C	١٢°C	١٢°C	١٢°C



نشاط (١) من خلال ملاحظة الشكل (١١) تعرف على حالة الطقس في هاتين الدولتين العربيتين خلال الـ ٢٤ ساعة القادمة بعد كتابة اسم الدولتين تحت العلمين .



الكويت



لبنان

الكويت: الطقس حار والرياح شمالية خفيفة السرعة والرطوبة منخفضة.

لبنان: الطقس معتدل والرياح شمالية غربية خفيفة السرعة والرطوبة متوسطة.




نشاط (٢) من خلال ملاحظة الصور التالية :-

تعرف على عناصر المناخ في المخطط السهمي :



الرياح



الرطوبة



الأمطار



درجة الحرارة



نشاط (٣)

استعن بمكتبة المدرسة في كتابة تقرير عن الضغط الجوي كأحد عناصر المناخ .



الضغط الجوي هو وزن عمود الهواء على قطعة من الأرض ...

ووحدة قياسه هي البار



ب - العوامل التي تؤثر في مُناخ الوطن العربي



اقرأ وتعلم

١ - الموقع بالنسبة لدوائر العرض :

يؤثر القرب أو البعد عن خط الاستواء في مُناخ الإقليم* فالأماكن القريبة من خط الاستواء تتميز بارتفاع في درجة حرارتها على مدار أيام السنة (علل) .
لأن أشعة الشمس تسقط عامودية عليها

٢ - القرب أو البعد عن المسطحات المائية :

يؤثر القرب أو البعد عن المسطحات المائية في المُناخ ، فالمدن الساحلية أكثر اعتدالاً في المُناخ صيفاً ، وأدفاً نسبياً شتاء ؛ لأن البحر يلطف من درجة حرارتها .

٣ - التضاريس :

تؤثر التضاريس في المُناخ بصورة مباشرة من ناحية درجة الحرارة وتوزيع كمية الأمطار ، فعلى سبيل المثال : ترتفع درجة الحرارة في بعض المدن مثل : الرياض والقاهرة ، بينما تنخفض درجة الحرارة في الفصل نفسه في المناطق المرتفعة مثل جبال سوريا ولبنان والطائف في السعودية .

٤ - الرياح :

تؤثر الرياح في مُناخ الدول العربية من ناحية ارتفاع وانخفاض درجة الحرارة وكمية الأمطار ونسبة الرطوبة .
 فعلى سبيل المثال إذا كان هبوب الرياح من منطقة باردة فسوف تنخفض درجة الحرارة ، وإذا كان هبوب الرياح من منطقة حارة فسوف ترتفع درجة الحرارة .

* الإقليم

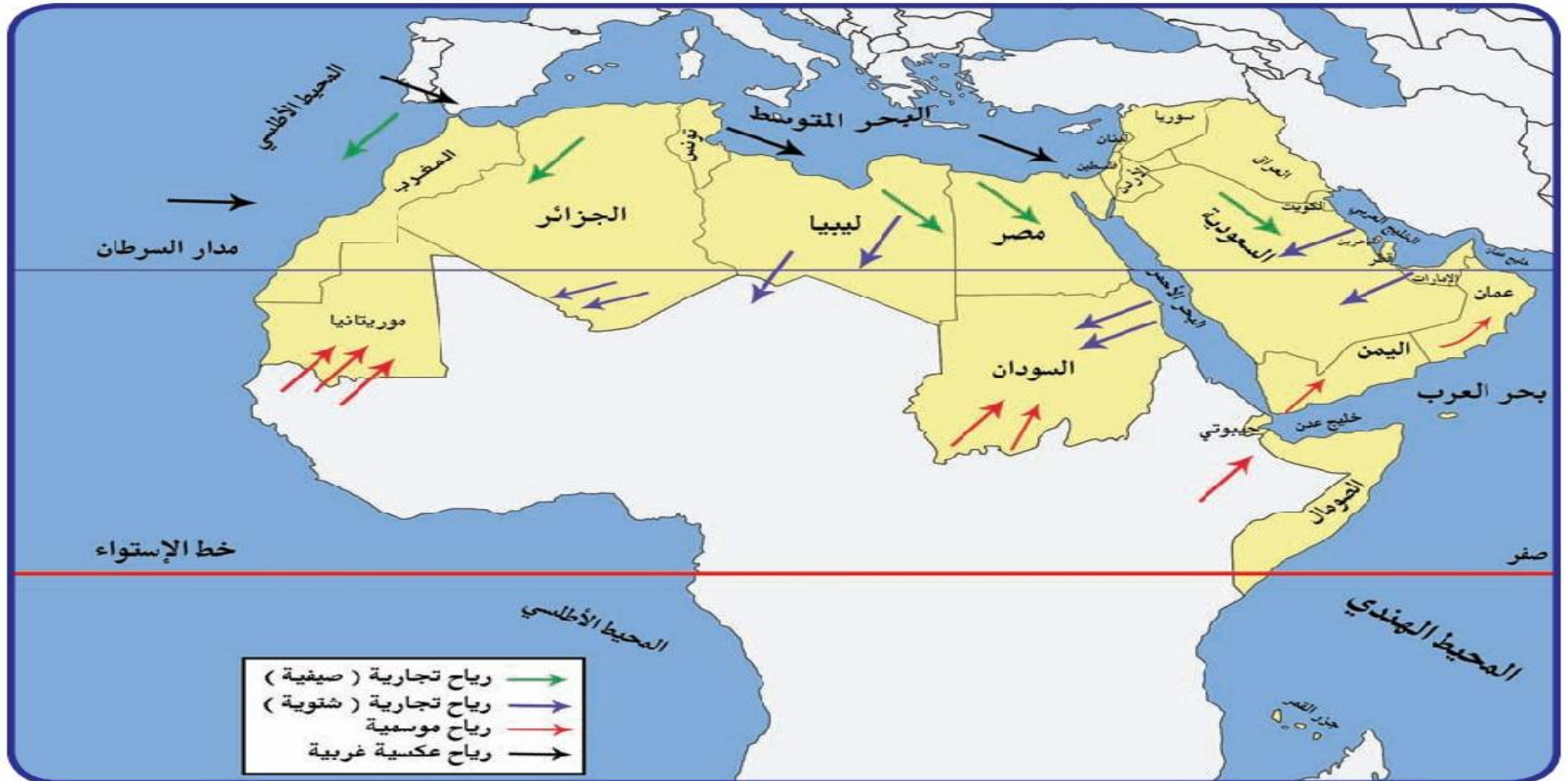
يعني أنه منطقة أو مكان ، مثال : عندما تقول : إقليم صناعي يعني منطقة صناعية ، أو هو إقليم صحراوي أي منطقة صحراوية .



اقرأ واستنتج

إذا مرت الرياح على بحار محملة ببخار الماء فقد تسبب سقوط الأمطار أو ارتفاع نسبة الرطوبة ، وإذا كانت تهب من منطقة جافة فإنها لا تسقط مطراً (علّل) .

بسبب توفر الرطوبة اللازمة لسقوط الأمطار



شكل (١٢) خريطة توضح الرياح الصيفية و الشتوية في الوطن العربي

نشاط (١)

شارك زملاءك في التعرف إلى أسماء الرياح المحلية التي تهب على دول

الوطن العربي مستعيناً بالخريطة شكل (١٣) ثم أكمل الجدول التالي :

اسم الرياح المحلية	الدولة
الطوز	الكويت السعودية
الشرقية	العراق
الخماسين	مصر
الهبوب	السودان
القبلي	ليبيا
السيروكو والسيلانو	الجزائر



ج - مُناخ الوطن العربي في فصل الصيف والشتاء

اقرأ وتعلم

في فصل الصيف :

تكون الشمس عمودية على المنطقة الواقعة بين خط الاستواء ومدار السرطان (انظر شكل ١٤) ، وترتفع الحرارة أكثر في وسط الوطن العربي (صحراء) ، وتكون معتدلة على سواحل البحر المتوسط وشمال الوطن العربي .

في فصل الشتاء :

تكون الشمس عمودية على المنطقة الواقعة بين خط الاستواء ومدار الجدي (انظر شكل ١٤) ، وترتفع الحرارة في جنوب الوطن العربي ، وتقل كلما اتجهنا شمالا .

لاحظ سقوط أشعة الشمس على الكرة الأرضية

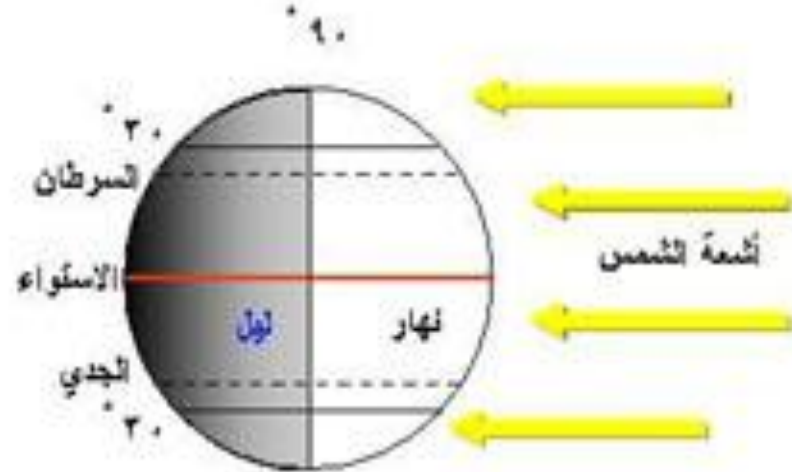
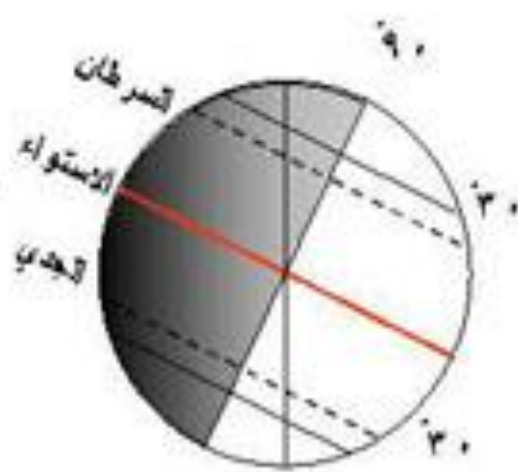
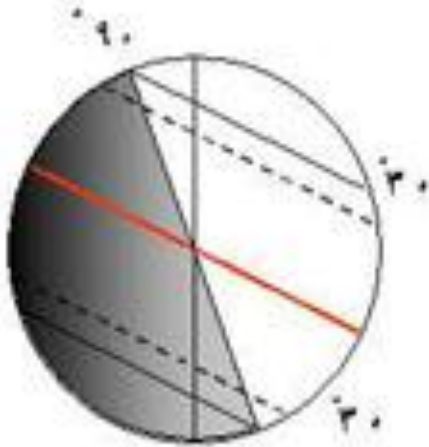
الشكل الرقم ٦

تقسيم الفصول الأربعة

دائرة الإضاءة

دائرة الإضاءة

دائرة الإضاءة



ج الانقلاب الشتوي الشمالي : يقصر النهار في نصف الكرة الشمالي ويطول في النصف الجنوبي

ب الانقلاب الصيفي الشمالي : يطول النهار في نصف الكرة الشمالي ويقصر في النصف الجنوبي مع ملاحظة النهار الدائم وراء الدائرة القطبية الشمالية

أ الاعتدالان (الربيع والخريف) يتساوى طول الليل والنهار على سطح الأرض

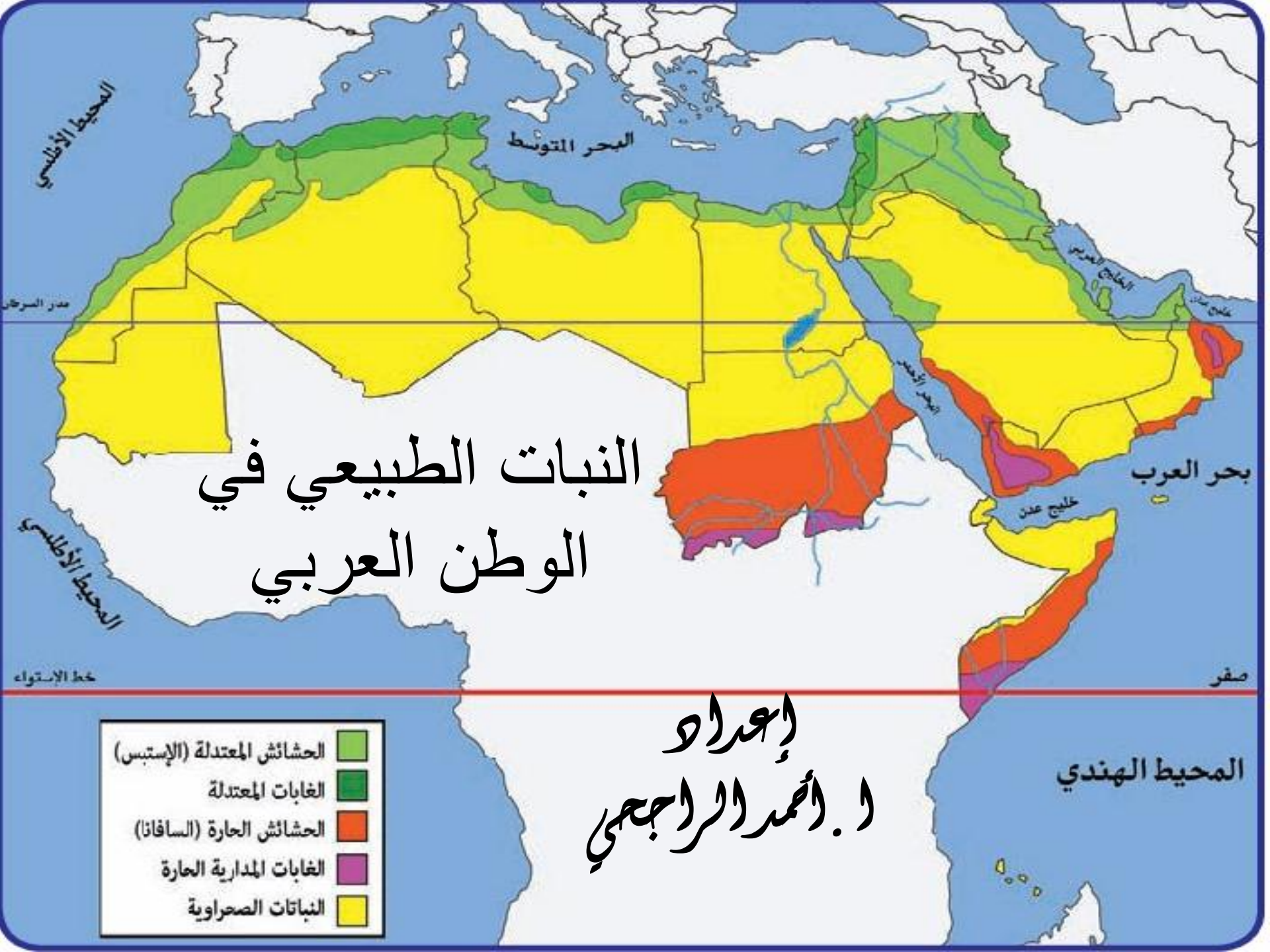


نشاط (١)

اكتب تقريراً عن مُناخ الوطن العربي .



في فصل الشتاء	في فصل الصيف
الحرارة مرتفعة في الجنوب	حار جداً في الوسط ومعتدل
وتقل باتجاه الشمال	على السواحل الشمالية للبحر
	الأبيض المتوسط



النبات الطبيعي في الوطن العربي

إعداد
د. أحمد السراجي



النبات الطبيعي في الوطن العربي

أ - العوامل الرئيسية المؤثرة في تنوع النبات الطبيعي في الوطن العربي



اقرأ وتعلم

هو النبات الذي ينمو تلقائياً عقب سقوط المطر دون تدخل من الإنسان .

النبات الطبيعي



العوامل الرئيسية المؤثرة في تنوع النبات الطبيعي في الوطن العربي :

١- نوع التربة : التربة هي التي تمد النبات بالغذاء وهي متنوعة .

٢- المناخ : يؤثر في تنوع النبات نتيجة لاختلاف درجات الحرارة واختلاف كمية الأمطار ومواسمها .



ب - الحياة النباتية في الوطن العربي

النباتات الصحراوية

النباتات الصحراوية

تقاوم الجفاف من خلال عدة وسائل جذورها طويلة (لماذا؟)
- القدرة على تخزين المياه (علل) .
- تحمي نفسها بلحاء سميك وأوراق إبرية .



الحشائش

الحشائش المعتدلة (الأسطيس) :

وهي حشائش قصيرة نوعاً ما ، تنمو في الشتاء خلال موسم سقوط الأمطار وتعرف في بلاد المغرب باسم الحلفا .

تستخدم في صناعة الورق والحبال والحصر .

وتربى عليها الأغنام والإبل والخيول والحمير .



الحشائش الحارة (السافانا)

وهي حشائش طويلة ، يختلف نوعها حسب كمية الأمطار .

وتنقسم السافانا إلى :

- طويلة
- متوسطة
- قصيرة

تربى عليها الماشية .



الغابات

الغابات المدارية الحارة

تمتاز بسخامة أشجارها وجذوعها وتشابك أغصانها وأوراقها العريضة وارتفاعها الكبير .

من أهم أشجارها

السياس والماهوجني والتاك والأبنوس والسدر والأثل والسنط .

تستخدم أخشابها

في البناء وصناعة الأثاث .



الغابات المعتدلة

تتسم هذه الغابات بعدم كثافتها وبعضها يكون دائم الخضرة وبعضها الآخر تتساقط أوراقه في فصل الشتاء .

من أهم أشجارها

الارز والعرعر والصنوبر الحلبي والبلوط والسنديان كما تنمو أشجار الزيتون والتفاح والحمضيات والفواكه الأخرى البرية .

يستخدم لحاء

البلوط والسنديان في صناعة الفلين .



املاً الجدول التالي كما هو مطلوب

أماكن انتشاره	استخداماته	أهم أشجاره	صفاته	اسم النبات
جنوب السودان والصومال	البناء وصناعة الأثاث	الساج والماهونجي والأبنوس والأثل والسدر	ضخامة الأشجار و الجذوع وتشابك الأغصان	الغابات المدارية الحارة
الأجزاء الشمالي للوطن العربي وحوض البحر المتوسط	لحاء البلوط والسنديان في صناعة الفلين	الأرز العرعر الصنوبر الحلبي الزيتون والحمضيات ...	قلة الكثافة وبعضها دائمة الخضرة	الغابات المعتدلة
جنوب السودان والصومال جنوب شرق وجنوب غرب شبه الجزيرة العربية	تربى عليها الماشية		طويلة ويختلف حجمها بحسب كمية المطر	الحشائش الحارة) (السافانا)
حوض الخليج العربي والعراق والشام وشمال الوطن العربي	صناعة الورق والحبال والحصر وتربى عليها الماشية		قصيرة تنمو في موسم سقوط المطر	الحشائش المعتدلة (الاستبس)
الأجزاء الوسطى من الوطن العربي	تربى عليها الماشية		تقاوم الجفاف لها قدرة على تخزين المياه	النباتات الصحراوية



نشاط (١)

لاحظ خريطة شكل (١٥) ثم أكمل الجدول التالي :



التوزيع الجغرافي (أين تنتشر؟)	نوع
جنوب السودان والصومال	الغابات المدارية (الحارة)
الأجزاء الشمالي للوطن العربي وحوض البحر المتوسط	الغابات المعتدلة
جنوب السودان والصومال جنوب شرق وجنوب غرب شبه الجزيرة العربية	الحشائش الحارة (السافانا)
حوض الخليج العربي والعراق والشام وشمال الوطن العربي	الحشائش المعتدلة (الاستبس)
الأجزاء الوسطى من الوطن العربي	نباتات صحراوية

نشاط (٢)

بعد النظر إلى المخطط السهمي السابق ص ٥٢ وقراءته ، فرق بين الغابات المدارية الحارة و الغابات المعتدلة .



الغابات المعتدلة	الغابات المدارية الحارة	وجه المقارنة
الأرز الصنوبر الحلبي الزيتون والحمضيات	الساج والماهونجي والأبنوس والأثل والسدر	أهم أشجارها
قلة الكثافة وبعضها دائمة الخضرة	ضخامة الأشجار و الجذوع وتشابك الأغصان	مميزات أشجارها
لحاء البلوط والسنديان في صناعة الفلين	البناء وصناعة الأثاث	استخداماتها



نشاط (٣)

من خلال ملاحظة الشكل (١٦) و(١٧) استنتج أهم الخصائص النباتية للنباتات الصحراوية .



شكل (١٧) نبات الصبار



شكل (١٦) نبات النخيل

يتحمل الحرارة الشديدة

يتحمل العطش

نشاط (٤)

ألصق صوراً لبعض النباتات الصحراوية الموجودة في بلادك ، و حدد نوعها (معمرة أو حولية) .

--	--	--	--



أهم الحيوانات السائدة في المنطقة الصحراوية : الإبل- الماعز- الضب- الأرنب البرية ، وأنواع من الطيور كالصقور والبوم والحبارى ، وأنواع من الحشرات كالجراد والعقارب والخنافس ، كما تكثر الزواحف كالأفاعي والحيوانات القارضة كالفتران والجربوع .



اقرأ وتعلم



الضب



الحبارى



العقرب



الجربوع

شكل (١٨) يمثل الحياة الحيوانية في الصحراء

نشاط (١)

ألصق صوراً تمثل الحياة الحيوانية الصحراوية في الوطن العربي بالمكان المناسب :

قوارض	زواحف	حشرات	طيور

An underwater scene with a blue background. A globe of the Earth is visible, surrounded by many bubbles of various sizes. The globe is positioned in the upper left quadrant, and the bubbles are scattered around it, creating a sense of movement and depth. The overall tone is serene and aquatic.

الثروة المائية في الوطن العربي

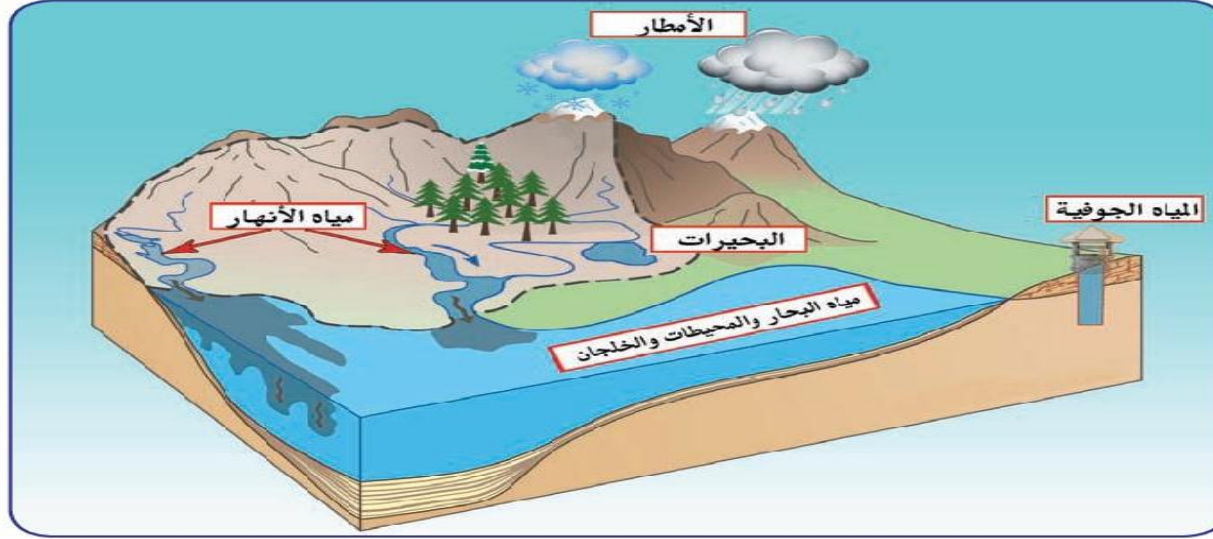
إعداد
أحمد الراسمي

اقراء الأسئلة فكر وابحث ثم أجب

- ماهي مصادر المياه في الوطن العربي؟
- ما هي أهم الأنهار في الوطن العربي؟ وأين توجد؟
- بماذا تتصف الأمطار في الوطن العربي؟
- أين تنتشر المياه الجوفية؟
- ما هو المصدر الرئيسي للمياه في دولة الكويت؟ ومتى بدأ العمل بها؟
- ما هي أكثر الدول العربية إنتاجاً للمياه المحلاة؟ ولماذا؟

للإجابة على الأسئلة السابقة استعن بالكتاب
المدرسي ص ٥٧ إلى ص ٦٢

الثروة المائية في الوطن العربي

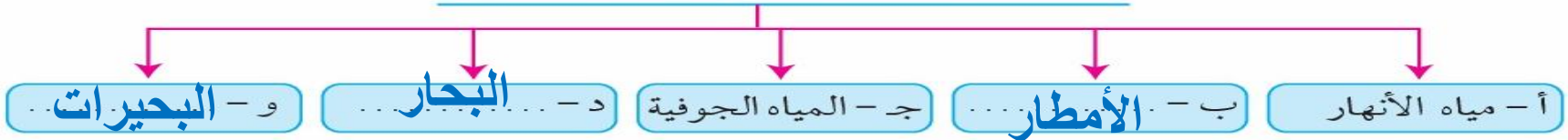


شكل (١٩) يوضح أهم مصادر المياه في الوطن العربي

نشاط (١)

أكمل المخطط السهمي مستعيناً بشكل (١٩)

١ - مصادر المياه في الوطن العربي



أ - مياه الأنهار :

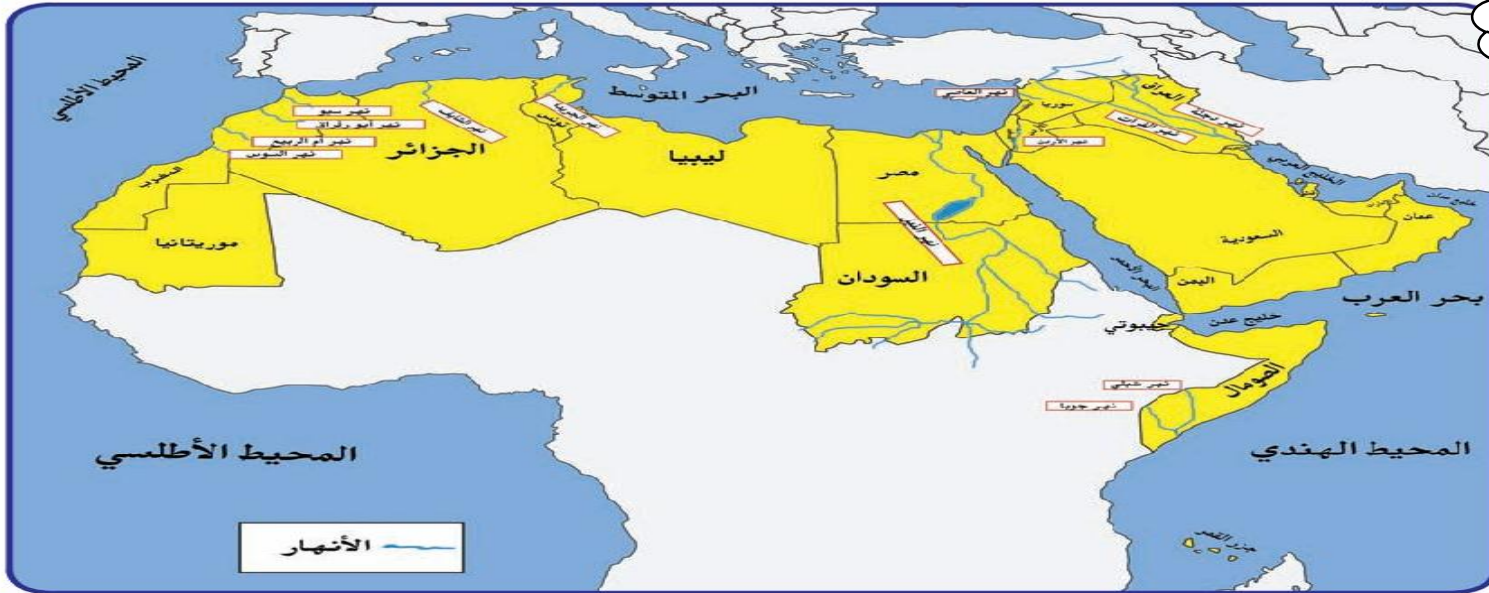
الأنهار من أهم مصادر المياه في الوطن وتمتاز بأنها مياه عذبة .



اقرأ وتعلم

تعريف
النهر

النهر: مجرى مائي عذب ينحدر على الدوام ليتتهي إلى بحر أو إلى نهر آخر أو ينتهي تدريجياً في الصحراء .



شكل (٢٠) خريطة توضح أهم الأنهار في الوطن العربي

نشاط (١) لاحظ الخريطة شكل (٢٠) ثم أجب .

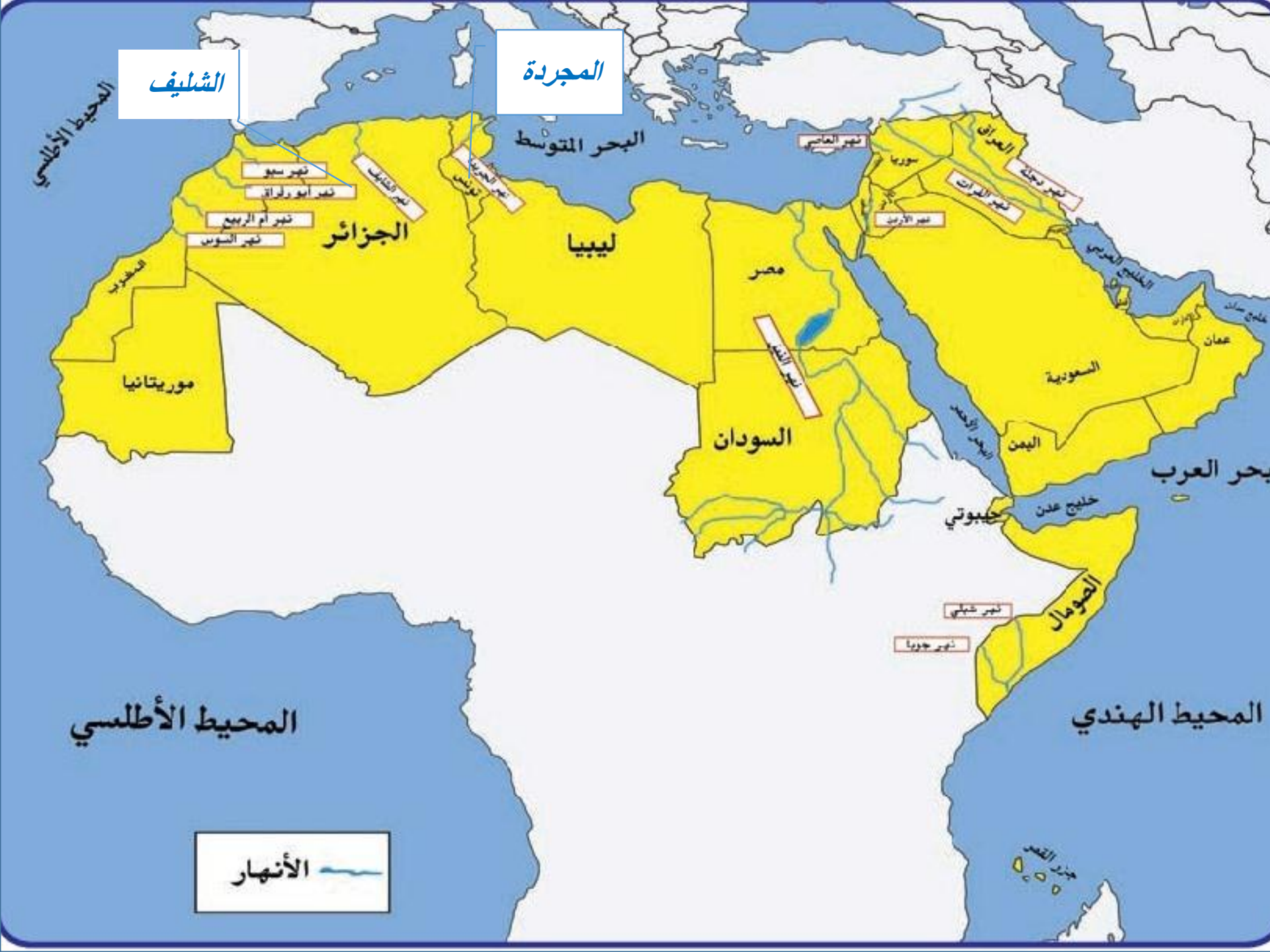
- أين يصب نهر دجلة والفرات؟

الخليج العربي

- ما الدول العربية التي يمر بها نهر النيل؟

مصر والسودان





الشليف

المجردة

نهر سبو
نهر ابوربات
نهر أم الربيع
نهر النوس

الجزائر

ليبيا

مصر

السودان

نهر العاصي

سوريا

العراق

نهر دجلة
نهر الفرات

نهر الأردن

الخليج العربي

بحر العرب

السعودية

اليمن

حبيوتي

خليج عدن

الصومال

نهر شبيلي

نهر جوبا

المحيط الأطلسي

المحيط الهندي

الأنهار



نشاط (٢)



تعرف على أسماء أهم الأنهار في الوطن العربي ، مستعيناً بالخريطة شكل (٢٠) ثم أكمل الجدول التالي :

أهم أنهار الوطن العربي في الجناح الآسيوي	
اسم النهر	الدول العربية التي يمر بها
دجلة	سوريا والعراق
والفرات	
الأردن	الأردن
العاصي	لبنان

أهم أنهار الوطن العربي في الجناح الأفريقي	
اسم النهر	الدول العربية التي يمر بها
النيل	مصر والسودان
شبلي	الصومال
جوبا	الصومال
المجردة	تونس
الشليف	الجزائر
سبو / ابورقراق /	المغرب
أم لربيع / السوس	

بماذا تتصف الأنتهار في الوطن العربي

ب- الأمطار :

يتصف المطر في الوطن العربي بالصفات التالية :

- ١- تذبذب كمية الأمطار بين عام وآخر ، كما أنها تسقط في أيام معدودة .
- ٢- الأمطار في الوطن العربي تكاد تقتصر على الأطراف الشمالية والأطراف الجنوبية منها .
- ٣- تتصف الأمطار بأنها قليلة بصفة عامة ، ولا يستثنى من ذلك سوى المناطق التي تقع من ورائها الجبال ، كما هي الحال في سواحل المغرب وساحل لبنان .

أين تكثر المياه الجوفية؟

ج- المياه الجوفية في الوطن العربي (الآبار العميقة) :

المياه الجوفية تظهر بأشكال مختلفة من أهمها :

الآبار الجوفية ، العيون والينابيع ، والأفلاج ، وتنتشر في مناطق مختلفة في الوطن العربي ، وتكثر الآبار الجوفية حيث توجد الواحات التي تنتشر في المناطق الصحراوية .



اقرأ وتعلم

المياه الجوفية : هي المياه التي توجد في جوف الأرض (باطن الأرض) .

الأفلاج : الماء الجاري (وهو مجرى صغير مائي في الأرض) .

نشاط (١)

فكر ثم أجب :

- ما مصادر المياه الجوفية؟

.....
الأمطار

- أين تكثر الآبار الجوفية؟

.....
في المناطق الصحراوية

د - البحيرات :

البحيرة : مسطح مائي تحيط به اليابسة من جميع الاتجاهات .

نشاط (١)

مستعيناً بالمكتبة المدرسية اكتب تقريراً عن أهم البحيرات في الوطن العربي .





هـ - مياه البحار :

- تتم الاستفادة من مياه البحار المالحة بعد تحليتها ، وهذه الطريقة تتبعها الدول التي تقل فيها مصادر المياه العذبة مثل : دول الخليج العربية وبعض الدول العربية مثل ليبيا .
- أصبحت دولة الكويت تعتمد اعتماداً كاملاً على تحلية مياه البحر منذ بداية ١٩٥٣م (محطة الشويخ) ، حيث أنشأت محطات كبيرة لتحلية مياه البحر .
- كما تنتشر في المملكة العربية السعودية محطات لتحلية المياه أهمها منطقة الأحساء ، كذلك قطر كمحطة رأس عبود وأبو فنتاس ، كما انتشرت في الإمارات العربية المتحدة وليبيا .



شكل (٢١) محطة الدوحة لتحلية المياه بالكويت



نشاط (١) أجب عن ما يلي :

عدد أهم محطات تحلية المياه في دولة الكويت .

الدوحة - الزور - الصبية - الشويخ

أي مصدر من مصادر المياه تعتمد عليه دولة الكويت؟ ولماذا؟

البحر. لعدم وجود مصدر آخر

ما المسطحات المائية التي تعتمد عليها دول الخليج العربية في تحلية المياه؟

الخليج العربي البحر الأحمر



نشاط (٢) قام خالد بزيارة محطة لتحلية المياه واطلع هناك على بعض الإحصائيات

لاستخدام بعض الدول العربية للمياه المحلاة .

وكانت له بعض التساؤلات . . . أجب عنها مستعيناً بإطلاعات خارجية بمساعدة

معلمك .

١ - ما أكثر الدول إنتاجاً للمياه المحلاة؟ ولماذا؟

الكويت . لكثرة الاستهلاك وعدم وجود مصدر آخر

٢ - بماذا تفسر اتجاه عدد من الدول العربية إلى البحار

لتأمين حاجتها من المياه العذبة؟

لأنه لا يوجد لديها مصادر مياه أخرى

٥٥%	الكويت
٣٨%	قطر
٣١%	البحرين
٢٧%	الإمارات
٨%	السعودية
٥%	ليبيا

شكل (٢٢)

نسبة استخدام المياه المحلاة

٢ - ترشيد استخدام المياه

كيف نحافظ على ثروة المياه ونخفف من المشكلة:

- ١ - ترشيد استخدام المياه والحد من التبذير في المنازل .
- ٢ - الحد من هدر المياه في عمليات الري ، وذلك باستخدام الوسائل الحديثة كالرش بالتنقيط والمحوري .
- ٣ - تنظيم عملية الاستفادة من المياه الجوفية ومنع تسرب الأملاح الملوثة إليها واستثمارها على الوجه الأمثل .
- ٤ - تطوير استعمال مياه الصرف الصحي المعالجة في الزراعة .
- ٥ - إقامة البحيرات والسدود لتجميع مياه الأمطار والسيول للاستفادة منها في فصل الجفاف .
- ٦ - توقيع اتفاقيات مع الدول المشاركة ودول المنبع لتحقيق مصالح الدول العربية المعنية .



نشاط (١)

عمل تعاوني: شارك زملاءك في تخطيط حملة تحث على ترشيد استخدام المياه .

- اسم الحملة :
- صمم بطاقة نصائح تحث على ترشيد استخدام المياه .



- ارسم شعاراً مناسباً للحملة .



وزارة التربية

الدراسات الاجتماعية الكويت والوطن العربي

للمصف السابع



تم التحميل من:

شبكة
الكويت

<http://www.ykuwait.net>

TELEGRAM: @ykuwait_net_home



المرحلة المتوسطة

الطبعة الثانية

حل تقويم الوحدة الأولى

إعداد
الأستاذ الرابحي

أولاً - أكمل الفراغات التالية :

أفريقيا

السعودية

١ - يمتد الوطن العربي في قارة آسيا وقارة

٢ - أكبر دولة عربية في الجناح الآسيوي هي

٣ - الدائرة العرضية الرئيسية التي تقسم الكرة الأرضية إلى قسمين متساويين شمالي وجنوبي

خط الاستواء

تسمى

مصر

٤ - تشرف على قناة السويس دولة تسمى

المحيط الأطلسي

٥ - المسطح المائي الذي يحد الوطن العربي من الغرب يسمى

الطقس

٦ - وصف حالة الجو في مكان ما لمدة قصيرة تتراوح بين يوم وعدة أيام يسمى

الأمطار

٧ - من عناصر المناخ : درجة الحرارة والرياح والضغط الجوي وعنصر آخر يسمى

الجمال

٨ - سفينة الصحراء تطلق على حيوان يسمى

المغرب - تونس - الجزائر - ليبيا - سوريا

٩ - تنتشر حشائش الأستبس في دولة عربية تسمى

العراق

ثانياً - اكتب المصطلح العلمي المناسب فيما يلي :

الوطن العربي

قناة

١ - مساحة واسعة من الأرض تمتد ضمن قارتين من أكبر قارات العالم مسماة

٢ - مجرى مائي صناعي ضيق يشق لأغراض الري أو النقل .

الموقع الفلكي

٣ - نقطة من الكرة الأرضية يتحدد موقعها بخطوط الطول ودوائر العرض .

()

()

()

()

()

جبل

الضغط الجوي

٤ - كل ما ارتفع عن الأرض له قمة لا يقل ارتفاعها عن ١٠٠٠ متر .

٥ - وزن الهواء فوق أي مكان .

٦ - مسطح مائي تحيط به اليابسة من جميع الاتجاهات .

بحيرة

ثالثاً - أجب عما يلي كما هو بين الأقواس :

١ - أهمية الوطن العربي (اذكر نقطتين) .

مهبط الديانات السماوية الثلاث

يتحكم بمسطحات مائية

(علّل)

٢ - تركز السكان في مناطق السهول الفيضية في الوطن العربي .

بسبب خصوبة التربة واستواء الأرض

(دلل)

٣ - للمسطحات المائية تأثير في المناخ
لأن المدن الساحلية أكثر اعتدالاً في المناخ صيفاً وأدفاً شتاءً

(اذكرها)

٤ - العوامل المؤثرة على توزيع النبات الطبيعي في الوطن العربي

١ - التربة ٢ - المناخ

(استشهد بآية قرآنية)

٥ - أهمية المياه في حياة الإنسان .

وجعلنا من الماء كل شيء حي

رابعاً - قارن بين المفاهيم التالية من حيث التعريف :

المضيق	القناة
ممر مائي ضيق يصل بين بحرين أو محيطين أو أي مساحتين كبيرتين نسبياً من الماء	مجرى مائي صناعي ضيق يشق لأغراض النقل
السهول	الهضاب
مساحة كبيرة من الأرض تتميز باستوائها وقلّة ارتفاعها	أرض مرتفعة سطحها مستوي تمتد على مساحة كبيرة
الأفلاج	المياه الجوفية
الماء الجاري وهو مجرى صغير في الأرض	هي المياه التي توجد في جوف الأرض

خامساً - أجب عما يلي :

- عدد أسماء أربع دول عربية تنتهي بحرف النون :

الأردن

البحرين

السودان

لبنان

- صنف المسطحات المائية في الوطن العربي حسب الجدول التالي :

المحيطات	الخلجان	البحار
المحيط الأطلسي	الخليج العربي	بحر العرب
المحيط الهندي	خليج عمان	البحر الأحمر
	خليج عدن	البحر الأبيض المتوسط

لاحظ العلم الذي أمامك فهو لدولة عربية تقع في الجناح الآسيوي :



- اسم هذه الدولة العربية؟ **لبنان**

- ما اسم النبات المرسوم على علم هذه الدولة؟ **الأرز**

- ما دورك في المحافظة على النبات الطبيعي؟

... **المشاركة في التشجير والاهتمام بالأشجار**

بالاستعانة بالصورة التالية اذكر أهم مصادر المياه الرئيسية المتوافرة في الوطن العربي .

		
..... الأنهار الأمطار البحار والمحيطات

انتقل إلى تقويم الوحدة
الثانية

بالسوفيين

الوحدة الثانية

الوطن العربي
مرحلة الحضارات
والديانات السماوية

إعداد
الأستاذ المساعد
الأستاذ المساعد



شاهد الصور التالية



الأهرامات ففي مصر



أسد بابل
في العراق



تدمر في الأردن



معبد باريل في البحرين



سد مأرب في اليمن



ماذا تسمى الأشكال الموجودة في الصور السابقة؟
آثار حضارات.

هل هي موجودة الآن؟
نعم.

ماذا نقصد بالحضارة؟

اقراء الكتاب من ص ٧١ إلى ص ٧٣ ثم أجب عما يلي بالتعاون مع زملائك :

هل قامت في الوطن العربي حضارات قديمة؟

ما هي الحضارات التي قامت في الوطن العربي؟

في أي أجزاء الوطن العربي قامت هذه الحضارات؟

ما هي عوامل قيام الحضارة؟



الدرس الأول

الأهمية الحضارية للوطن العربي



ماذا نقصد
بالحضارة؟

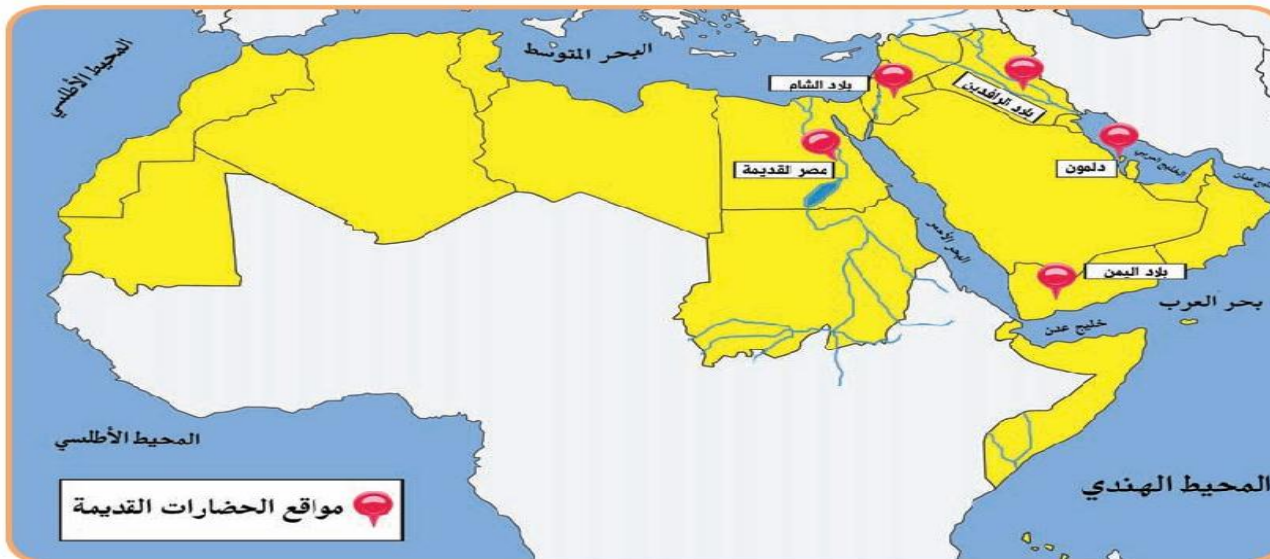
اقرأ وتعلم

الحضارة :

كل ما يطرأ على المجتمع
من تقدم وتطور ورقي في جميع
نواحي الحياة الدينية والسياسية
والاقتصادية والاجتماعية
والفكرية .

توفرت في الوطن العربي كما درست في الفصل الأول من هذا الكتاب مجموعة من المقومات الجغرافية والطبيعية التي كان لها دور كبير في ازدهار العديد من الحضارات الإنسانية التي استقرت في ربوع الوطن العربي الكبير .

هذه الحضارات بلغت درجة كبيرة من الرقي والتقدم حيث برعت في الفنون والآداب والعلوم ، وتقدمت في مجالات الزراعة والصناعة والتجارة ، وتشمل عدة حضارات .

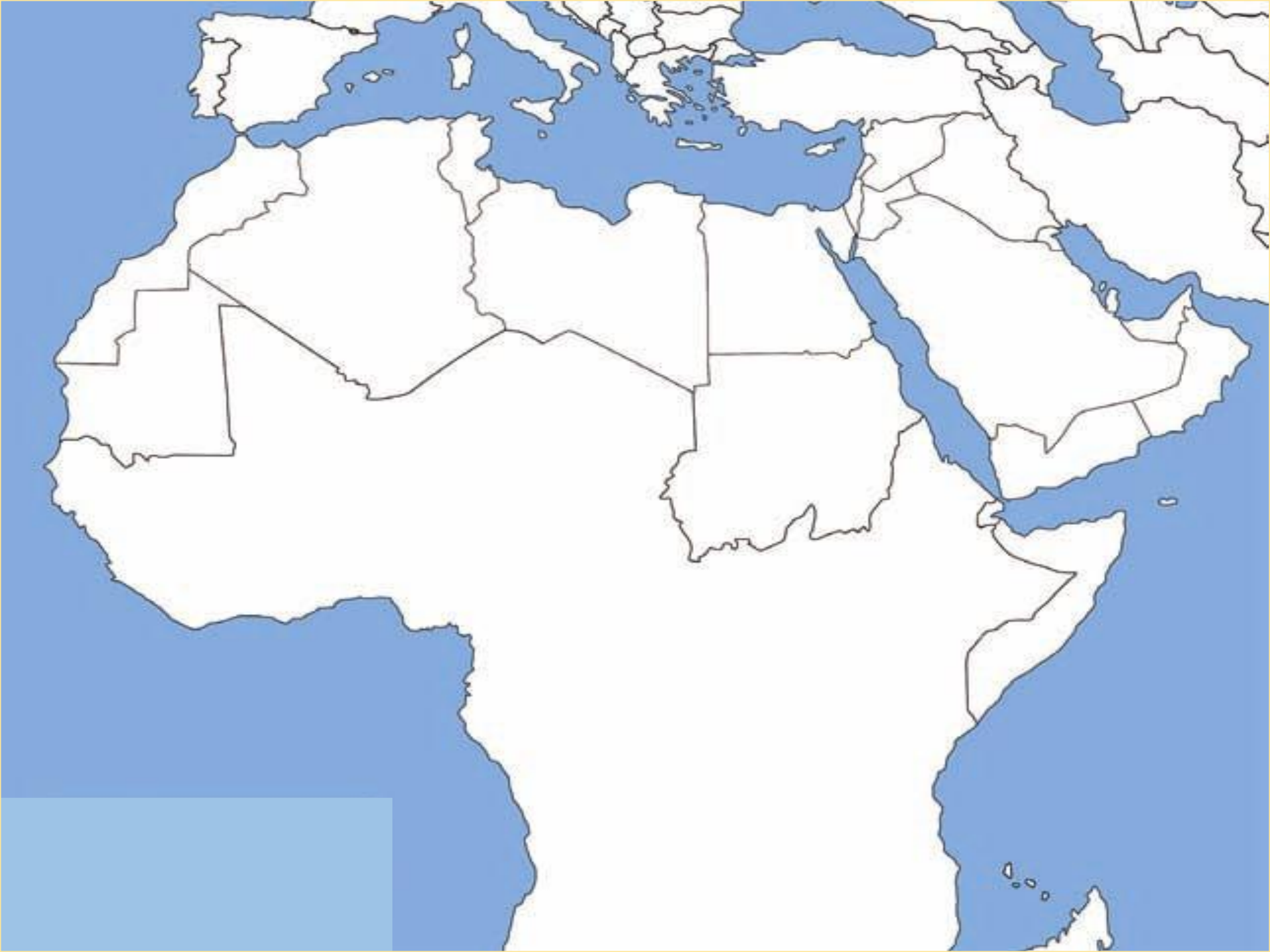


شكل (٢٣) خريطة الحضارات في الوطن العربي

لاحظ الخريطة وتعرف على موقع الحضارات في الوطن العربي ثم حددها على الخريطة التالية:

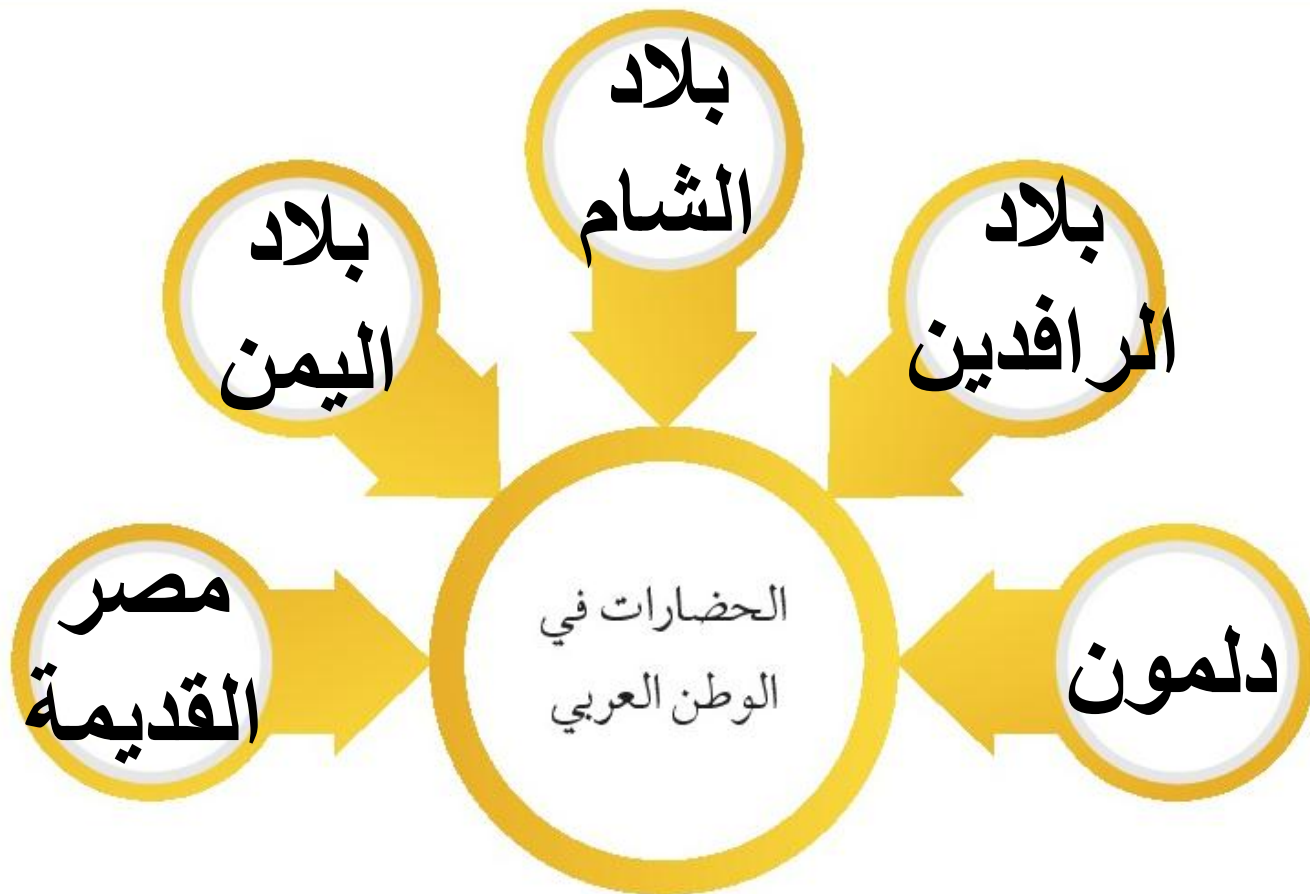


شكل (٢٣) خريطة الحضارات في الوطن العربي





نشاط (١) استعن بالخريطة شكل (٢٣) ، ثم دون أهم الحضارات التي قامت في الوطن العربي على الشكل الذي أمامك .



نشاط (٢)

أمامك مجموعة من الآثار لمجموعة من الحضارات في الوطن العربي ، اكتب اسم الحضارة التابعة لها أسفل كل صورة .



اسم المَعْلَم الحضاري : أسد بابل

الحضارة : ... بلاد الرافدين



اسم المَعْلَم الحضاري : الأهرامات

الحضارة : ... مصر القديمة



اسم المَعْلَم الحضاري : سد مأرب .

الحضارة : **بلاد اليمن** ..



اسم المَعْلَم الحضاري : معبد باربار .

الحضارة : **دلمون** ..



اسم المَعْلَم الحضاري : آثار تدمر

الحضارة : **بلاد الشام** ..

للحضارة مقومات أساسية لا بد من توفرها ، منها :

الموقع الإستراتيجي وتوافر مصادر المياه العذبة و اعتدال المناخ وتوافر الثروات الطبيعية وتوافر العنصر

البشري .

نشاط (٣)



هل هذه العوامل متوفرة
في الوطن العربي؟





المجموعة الأولى:

ما هي عوامل قيام الحضارة؟



المجموعة الثانية:

ما هي الحضارات التي قامت في الوطن العربي؟



المجموعة الثالثة:

في أي أجزاء الوطن العربي قامت هذه الحضارات؟



لاصفي

ارسم الخريطة ص
٧١ موضعا عليها
الحضارات في
الوطن العربي.

نماذج من الحضارات القديمة
في الوطن العربي
الحضارة المصرية القديمة

إعداد
أ. أحمد الراسحي

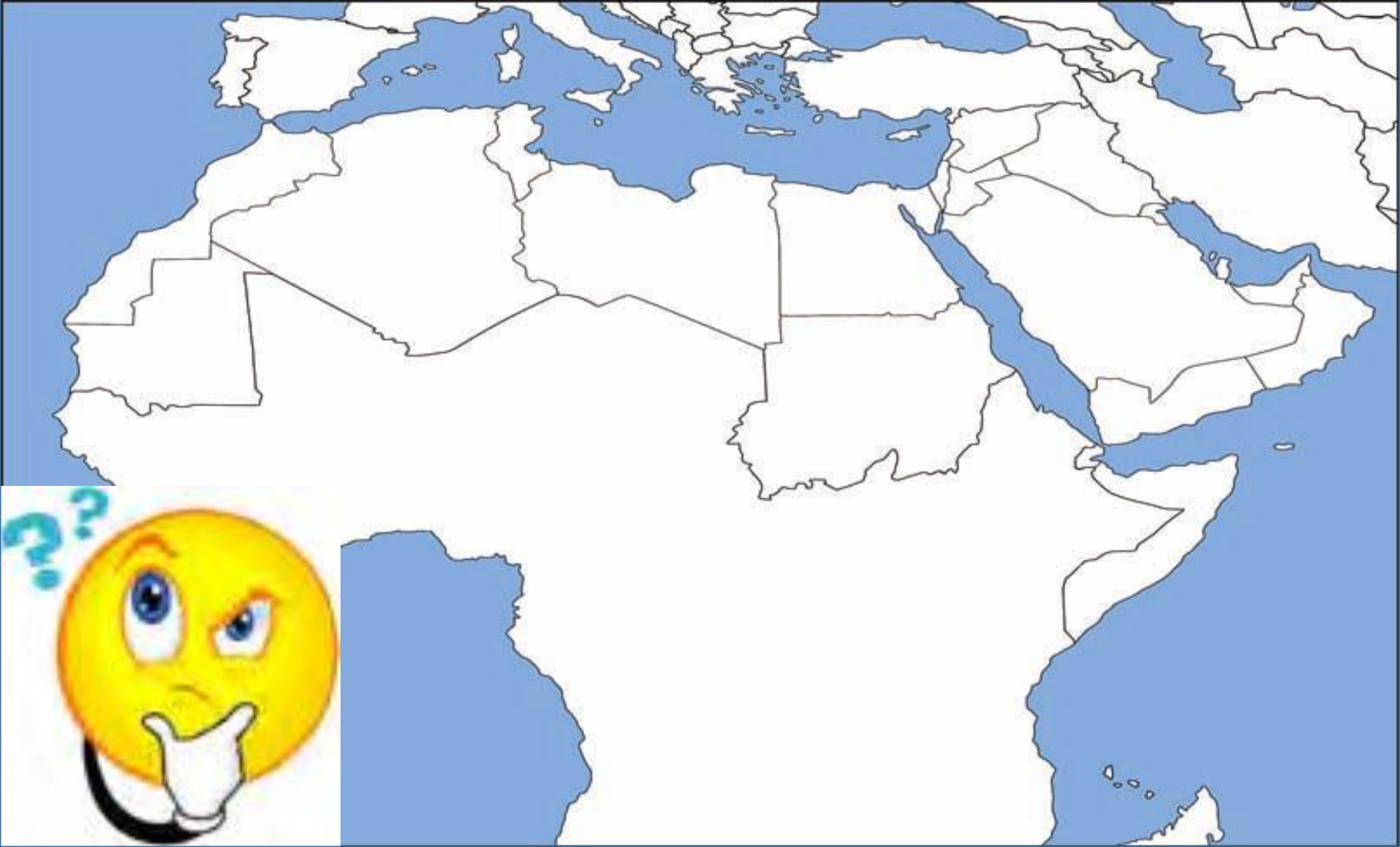
لاحظ الصور التالية وتعرف على هذه الحضارة.







هل يمكنك تحديد موقع هذه الحضارة على الخريطة ؟



اقرأ الكتاب من ص ٧٤ إلى ص ٧٨ ثم أجب عما يلي بالتعاون مع زملائك :

ما هي العوامل التي ساهمت في قيام الحضارة المصرية القديمة؟

ما هي أهم المظاهر الاقتصادية في الحضارة المصرية القديمة؟

لماذا حرص المصريون القدماء على تحنيط جثث موتاهم؟

ما هو اسم الكتابة المصرية القديمة؟





الدرس الثاني ما هي العوامل التي ساهمت في قيام الحضارة المصرية القديمة؟

نماذج من الحضارات القديمة في الوطن العربي

١ - الحضارة المصرية القديمة



تتبع الحوار الذي دار بين خالد وبين المرشد السياحي أثناء زيارته للمتحف المصري ، ثم ساعد خالدًا في إتمام المهمة .

خالدًا : بالجمال هذه القطعة المعروضة ، هل هي قديمة؟ كم لها من العمر؟

المرشد السياحي : نعم يا بني هي قديمة ولها من العمر آلاف السنين ، فالحضارة المصرية من الحضارات القديمة في العالم والأكثر آثاراً ، ولاتزال بعض آثارها قائمة حتى وقتنا الحاضر .

خالدًا : ياللعجب بعد مرور كل هذه السنوات ولاتزال آثار تلك الحضارة باقية إلى الآن؟

المرشد السياحي : لقد كان **للعوامل الطبيعية** دور مهم في قيام الحضارة المصرية القديمة وتطورها

وحمايتها من الغزوات ، لسهولة الدفاع عنها واستقرار سكانها وممارستهم للأنشطة المختلفة .

نشاط (١) اكتب أهم الآثار المصرية الموجودة حتى وقتنا الحاضر على ورقة البردي .



الأهرام

المومياء



معبد أبو سمبل





ما هي العوامل التي ساعدت على قيام الحضارة المصرية القديمة

(تنوع الصخور والمعادن - امتداد الصحراء، نهر النيل - اعتدال المناخ وجفافه)

٤

٣

٢

١

نشاط (٢) صنف الكلمات التالية في مكانها المناسب؟



ربط بين أجزاء البلاد من
الشمال إلى الجنوب وساعد
على الاستقرار .

نهر النيل



المحافظة على الآثار من التلف .

اعتدال المناخ وجفافه



جعل الحضارة المصرية في أمن
وحماية طبيعية .

امتداد الصحراء



ساعدت المصريين على نحت
التمائيل وبناء المعابد .

تنوع الصخور والمعادن





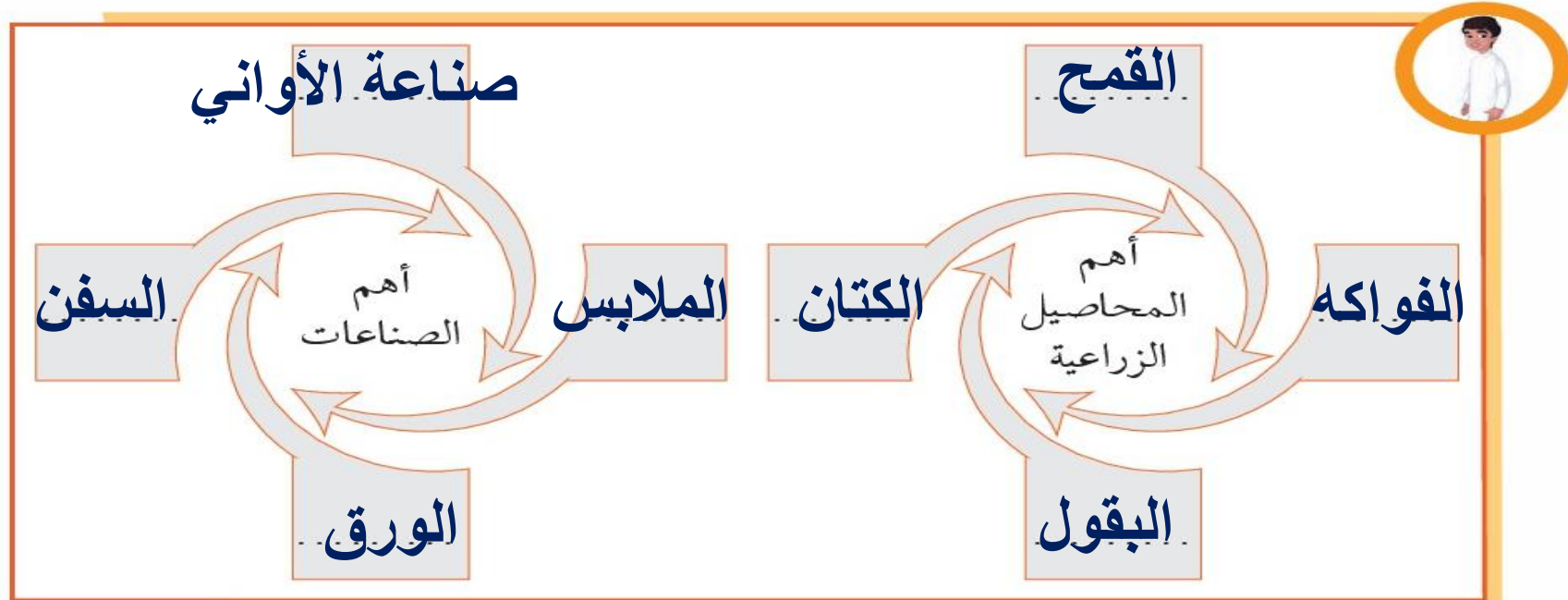
أهم مظاهر الحضارة المصرية القديمة

أ - الحياة الاقتصادية :

نشطت الحياة الاقتصادية في مصر القديمة بجميع نواحيها ، حيث تقدمت الزراعة وتطورت أساليبها وتنوعت المحاصيل كالقمح والفواكه والبقول والكتان وتربية الماشية ، وقد مهر المصريون القدماء في الصناعة أيضاً وخاصة صناعة الأواني الفخارية والمعدنية والملابس الكتانية والسفن والورق .

نشاط (١)

ساعد خالداً في معرفة أهم المحاصيل الزراعية ، وأهم الصناعات الموجودة في الحضارة المصرية القديمة .





شكل (٢٤) مراحل تحنيط

لماذا
حرص
المصريون
القدماء
على
تحنيط
جثث
موتاهم؟

ب- المعتقدات الدينية :

ج اعتقد المصريون القدماء أن الحياة تعود

إلى الجسم بعد الموت ، أي أنهم اعتقدوا في

«البعث والخلود» ولذلك حرصوا على تحنيط

جثث موتاهم ، واهتموا ببناء القبور وإقامة

المعابد الفخمة للآلهة .



نشاط (١)

ما سبب حرص المصريين القدماء على تحنيط جثث موتاهم؟


لأنهم اعتقدوا بأن الحياة تعود بعد الموت
(البعث والخلود)

ج - العلوم والفنون : ما هو اسم الكتابة المصرية القديمة؟

أحرز المصريون القدماء تقدماً كبيراً في مجال العلوم والفنون كالفلك والكيمياء والتحنيط والنحت والبناء والكتابة التي عرفت عندهم بالكتابة الهيروغليفية .



شكل (٢٦) فن النحت



شكل (٢٥) بناء الأهرامات



نشاط (١)

استعن بالشكل (٢٧) ثم اكتب الآتي بالكتابة الهيروغليفية



١ - اسمك :

.....

٢ - اسم دولتك :

.....

خ	ن	ب	أ
ط	م	ز	و
ذ	م	ل	ش
ص	ف	ع	س
ض	ت	غ	ث
ك	ي	ه	د
ر	ق	ظ	ن

شكل (٢٧) الكتابة الهيروغليفية



المجموعة الأولى:

ما هي العوامل التي ساهمت في قيام الحضارة المصرية القديمة؟



المجموعة الثانية:

لماذا حرص المصريون القدماء على تحنيط جثث موتاهم؟



المجموعة الثالثة:

ما هو اسم الكتابة المصرية القديمة؟



لاصفي

لماذا حرص
المصريون القدماء
على تحنيط جثث
موتاهم؟



اقتصر الدرر

بالتوفيق

حضارة بلاد الرافدين

إعداد
د. أحمد الراحمي



شاهد الصور التالية
وتعرف على موقع هذه
الحضارة



شكل (٣٢) حدائق بابل المعلقة



شكل (٣١) عقد بابلي



شكل (٣٠) آنية فخارية تعود للعصر الأكادي

اقرا الكتاب من ص ٧٩ - ٨٤ ثم أجب عما يلي:

أين تقع حضارة بلاد الرافدين الآن؟

ما هي الشعوب التي سيطرت على حضارة بلاد الرافدين؟

ما هي العوامل التي ساعدت على انتشار الزراعة في بلاد الرافدين؟

ما هي العلوم والفنون التي برع سكان بلاد الرافدين فيها؟

ما هي الكتابة التي اخترعها السومريون؟ وكم عدد أحرفها؟

ما هي النتائج التي ترتبت على تطبيق شريعة حمورابي؟

٢ - حضارة بلاد الرافدين

أضف إلى معلوماك :

بلاد الرافدين : وتعني بلاد ما بين النهرين ، ويطلق عليها حالياً اسم العراق .



شكل (٢٨) خريطة توضح الممالك التي قامت في بلاد الرافدين

نشاط (١)

لاحظ الخريطة شكل (٢٨) ثم استخراج اسم النهرين في بلاد الرافدين .

١ - نهر دجلة

٢ - نهر الفرات

بماذا

تمتاز

بلاد

الرافدين؟

تمتاز بلاد الرافدين بموقع ممتاز وبخصوبة تربتها ووفرة مياهها العذبة ، حيث كانت موطناً للعديد من الحضارات القديمة .

وقد سيطر على بلاد الرافدين خلال تاريخها القديم **خمسة شعوب** متتالية ، أقامت دولاً وحكومات وحضارات على فترات متتالية ، وسميت تلك الحضارات بأسماء المناطق والمدن التي قامت فيها . واشتهرت تلك الحضارات بالتقدم والرقي بما قدمته للإنسانية من إنجازات .

ما هي؟



نشاط (٢)

اكتب أسماء الحضارات التي قامت في بلاد الرافدين ، في المخطط السهمي الذي أمامك من خلال الاستعانة بالخريطة شكل (٢٨) .



أهم الحضارات التي قامت في بلاد الرافدين

الآشوريون


البابليون

الكلدانيون

الآكاديون

السومريون

أهم المظاهر الحضارية في بلاد الرافدين



شكل (٢٩) طبيعة بلاد الرافدين

أولاً - الحياة الاقتصادية : **علل. ازدهار الزراعة في بلاد الرافدين.**

١ - الزراعة :

١ عرف سكان بلاد الرافدين الزراعة بسبب
٢ خصوبة تربتها وسعة سهولها ووفرة مياهها ،
٣ فأقاموا السدود على الأنهار وجففوا المستنقعات واستصلحوا الأراضي .

نشاط (١)

- ما العوامل التي ساهمت في ازدهار الزراعة في بلاد الرافدين؟

- ١- خصوبة التربة
- ٢- سعة السهول
- ٣- وفرة المياه

٢ - التجارة :

كان لبلاد الرافدين نشاط تجاري مع بلدان الأقاليم المجاورة ، حيث **استوردوا المعادن والأحجار والأخشاب** ، و**صدروا المنتجات الزراعية والمنسوجات** وخاصة الصوفية منها .

نشاط (١) صنف المنتجات التجارية الواردة والمصدرة من وإلى بلاد الرافدين حسب الجدول التالي :

الواردات	الصادرات
المعادن	المنتجات الزراعية
الأحجار	المنسوجات
الأخشاب	



٣ - الصناعة : ما هي أهم الصناعات في بلاد الرافدين؟

تنوعت الصناعات في بلاد الرافدين ، واشتهروا بصناعة الحلي والأواني الفخارية وغيرها .



شكل (٣١) عقد بابلي



شكل (٣٠) آنية فخارية تعود للعصر الأكادي

ثانياً - العلوم والفنون : ما هي العلوم والفنون التي برع سكان بلاد الرافدين فيها؟

تطورت العلوم لدى سكان بلاد الرافدين ، فقد برعوا في الهندسة والحساب والفلك والطب ، ومن أهم الفنون لديهم : فن النحت والبناء والرسم والأواني الفخارية .



شكل (٣٣) فن النحت



شكل (٣٢) حدائق بابل المعلقة

ثالثاً - الحياة الفكرية :

اختراع السومريون نوعاً من الكتابة عرفت باسم الكتابة المسمارية ، وتعد هذه الكتابة من أقدم أنواع الكتابة في العالم وحروفها تشبه المسمار ، وتكتب على ألواح من الطين الطري بواسطة أقلام تشبه المسمار ، وعدد حروفها ٦٠٠ حرف .

أ	ب	ج	د
و	ز	ح	ط
ش	ل	م	ن
س	ع	ف	ك
ث	غ	ا	ي
د	هـ	و	ز
ن	ظ	ق	ر

شكل (٣٤) أحرف الكتابة المسمارية

نشاط (١)

من خلال الفقرة السابقة ساعد خالداً في الإجابة عن التساؤلات التالية :

١ - ماذا تشبه حروف الكتابة المسمارية؟

المسمار

٢ - ما الأدوات المستخدمة في الكتابة المسمارية؟

ألواح من الطين الرمي وأقلام تشبه المسمار

٣ - كم يبلغ عدد حروفها؟

٦٠٠ حرف

نشاط (٢)

لاحظ الشكل (٣٤) ثم نفذ المطلوب منك .

١ - اكتب اسمك بالخط المسماري .





٢ - ظهرت في بلاد الرافدين شرائع قانونية قديمة عدة من أهمها **شريعة حمورابي**، وهو ملك بابلي حيث احتوت هذه الشريعة على **٢٨٢** مادة قانونية اعتمدت على مبدأ «السن بالسن والعين بالعين» في تطبيقها، مما أدى إلى انتشار الأمن والأمان في البلاد. **علل** بسبب تطبيق شريعة حمورابي



شكل (٣٦) حمورابي

من خلال النص السابق، ما النتيجة التي حققتها شريعة حمورابي في بلاد الرافدين؟

. انتشار الأمن والأمان في البلاد.

.....



شكل (٣٥) مسلة حمورابي

حدد على الخريطة التالية موقع حضارة بلاد الرافدين:



اقتصر الدرر

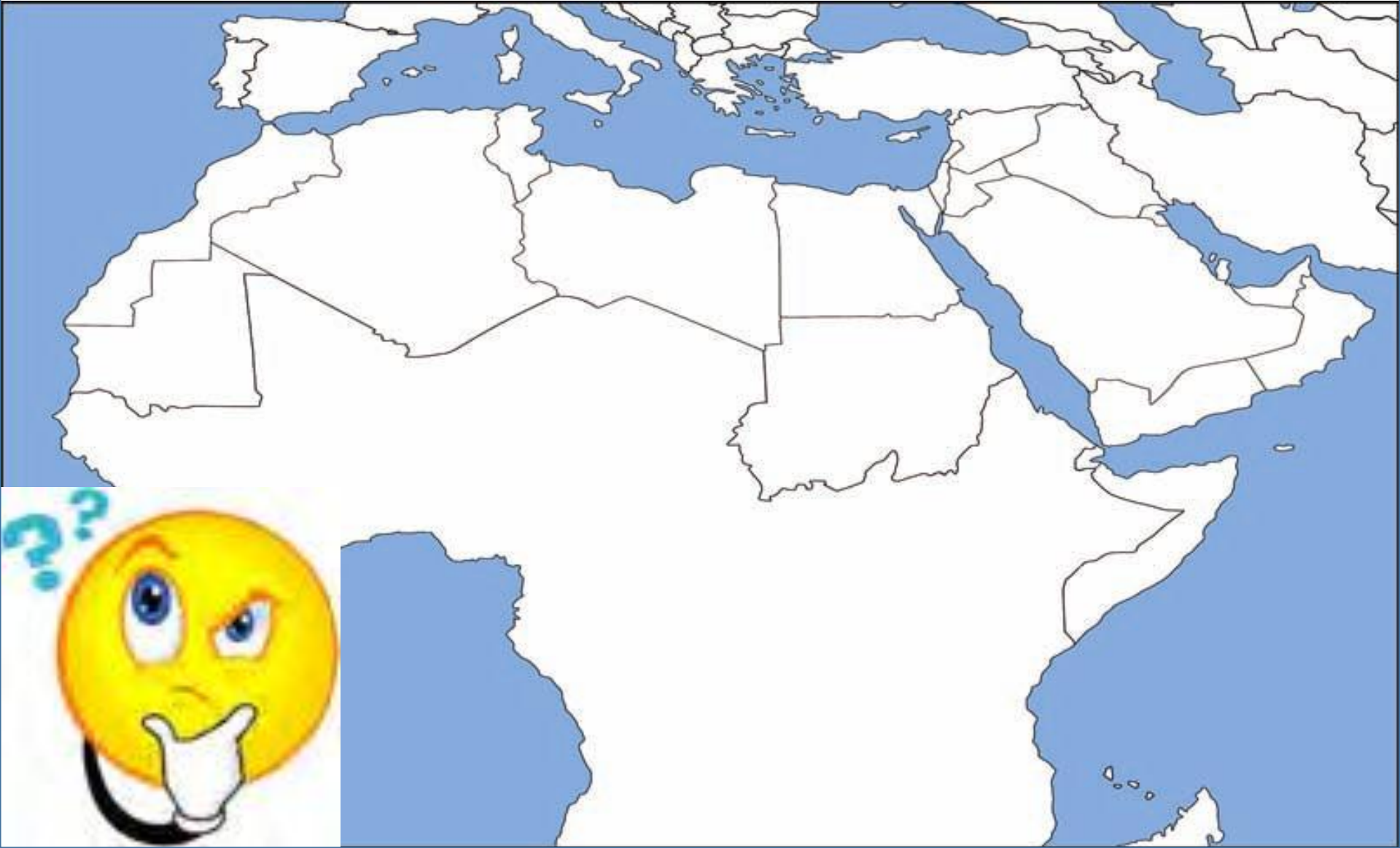
بالتوفيق

نماذج من الحضارات القديمة في الوطن العربي حضارة بلاد اليمن



إعزاز
أ. أحمد الشراحمي

هل قامت في جنوب غرب شبه الجزيرة العربية حضارة؟
حددها على الخريطة.



ما هي العوامل التي ساعدت على قيام هذه الحضارة؟

ما هي الممالك التي قامت في حضارة بلاد اليمن؟

من هي الملكة التي تعد من أشهر ملوك سبأ؟

ما هي أشهر المعالم الحضارية في بلاد اليمن؟

ما هي الكتابة التي عرفت في بلاد اليمن؟

وكم عدد حروفها؟

وما هو الخط الذي كانت تكتب به؟

اقرأ الكتاب من ص ٨٥ إلى ص ٨٧ وابحث عن إجابة للتساؤلات السابقة

الوحدة الثانية

الوطن العربي
مهد الحضارات
والديانات السماوية



- الدرس الأول : الأهمية الحضارية للوطن العربي
- الدرس الثاني : نماذج من الحضارات القديمة في الوطن العربي
- الدرس الثالث : الوطن العربي مهد الديانات السماوية الثلاث
- الدرس الرابع : الحضارة العربية الإسلامية
- التقويم



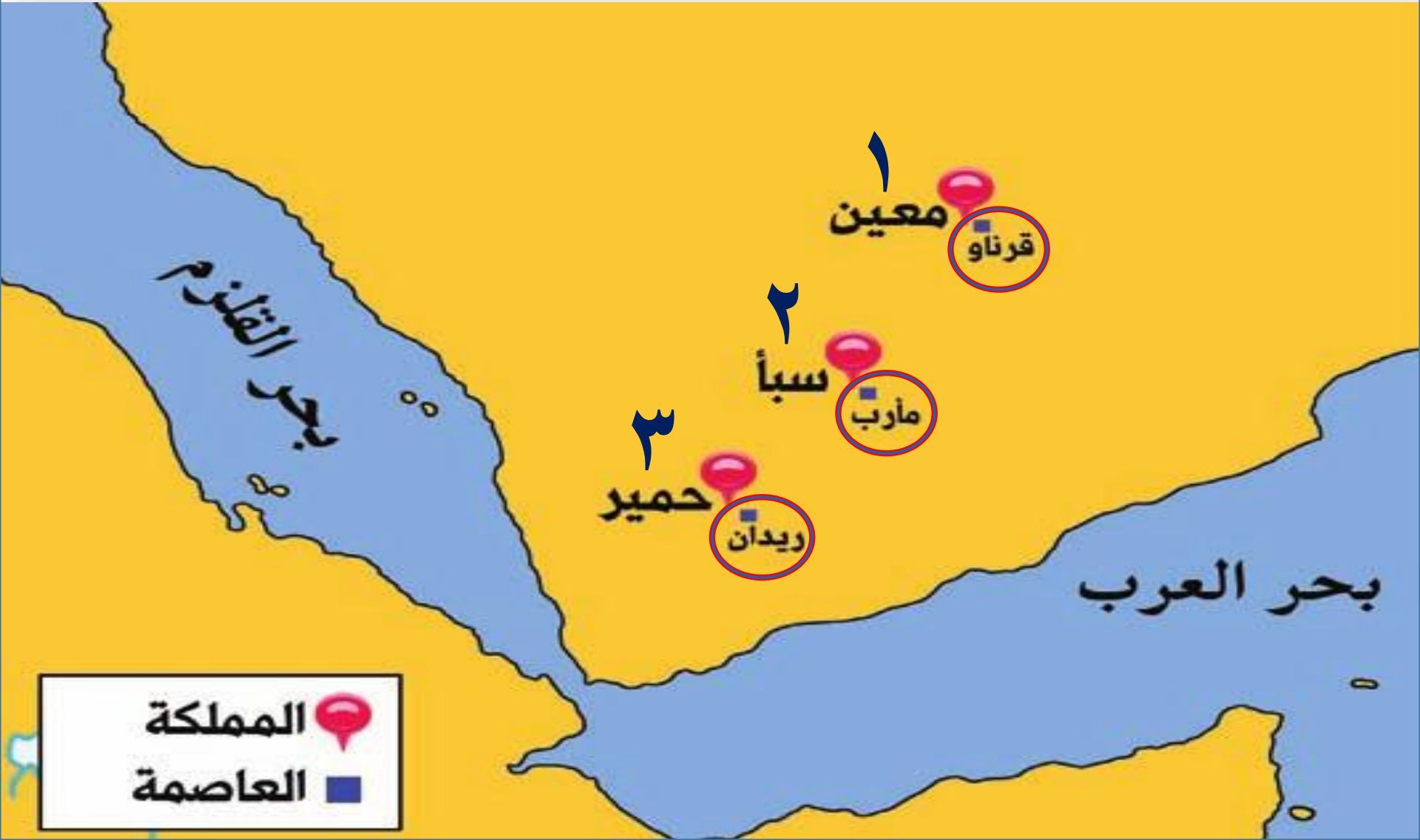
٣ - حضارة جنوب غرب شبه الجزيرة العربية (بلاد اليمن)

علل تُعدُّ منطقة جنوب غرب شبه الجزيرة العربية من أكثر مناطق شبه الجزيرة العربية ملاءمة لقيام الحضارة ؛
١ بسبب توافر المياه العذبة والمناخ المناسب لقيام الزراعة ، أيضاً **الموقع** الذي يسمح بقيام النشاط التجاري فيها ، وقد تأسست منذ الألف الثالث (ق. م) دويلات عدة في هذه المنطقة ، من أهمها :



شكل (٣٧) خريطة حضارات بلاد اليمن

على الخريطة التالية حدد أهم ممالك اليمن وأهم مدينة في كل مملكة:



نشاط (١) من خلال الخريطة شكل (٣٧) والصور (٣٨ - ٤٠)، أجب عن الأسئلة التالية .



شكل (٣٨) مدينة يثل الدينية في معين

١- حضارة معين: (١٣٠٠ - ٦٥٠ ق.م.)

أين تقع حضارة معين؟ وما عاصمتها وأهم معالمها؟

تقع شمال بلاد اليمن عاصمتها: **قرناو**

أهم معالمها: **مدينة يثل**

٢- حضارة سبأ: (٩٥٠ - ١١٥ ق.م.)

أين تقع حضارة سبأ؟ وما أهم مدنها وأهم معالمها؟

تقع: **وسط بلاد اليمن** عاصمتها: **مأرب**

أهم معالمها: **سد مأرب**

٣- حضارة حمير: (١١٥ - ٥٢٥ م.)

أين تقع حضارة حمير؟ وما أهم مدنها وأهم معالمها؟

تقع **جنوب بلاد اليمن** عاصمتها: **ريدان**

أهم معالمها: **مائدة القرايين**



شكل (٣٩) نقش سبأ بالخط المسندم



شكل (٤٠) مائدة قرايين تعود لمملكة حمير.



نشاط (٢)

أكمل الخط الزمني لحضارات بلاد اليمن ، وقم بترتيبها زمنياً من الأقدم إلى الأحدث .

معين

١٣٠٠ - ٦٥٠ ق.م

حضارة سبأ

٩٥٠ - ٦٥٠ ق.م

حمير

١١٥ - ٥٢٥ ق.م

اقرأ وتعلم :



عظم شأن سبأ ، وأصبحت أشهر ممالك اليمن القديمة ، وورد ذكرها في القرآن الكريم ، وأشهر ملوكها : **الملكة بلقيس** هي بنت شراحيل بن مالك بن الريان . وكان أبوها ملك اليمن ، وقد انحدر من سلالة ملكية ممتدة عبر أربعين جيلاً من الملوك ، ولم يكن له أبناء غيرها ، فأصبحت هي الملكة . قال تعالى : **﴿إِنِّي وَجَدْتُ امْرَأَةً تَمْلِكُهُمْ وَأُوتِيَتْ مِنْ كُلِّ شَيْءٍ وَلَهَا عَرْشٌ عَظِيمٌ﴾** سورة النمل : الآية ٢٣ .

من هي الملكة التي تعد من أشهر ملوك سبأ؟

المظاهر الحضارية لحضارة جنوب غرب شبه الجزيرة العربية :

اشتهر سكان جنوب غرب شبه الجزيرة العربية بالمشاريع الزراعية من خلال تنظيم عملية الري عن طريق بناء السدود والخزانات ، وأشهرها سد مأرب ، ومن أشهر منتجاتها الزراعية (الموز - اللبان - القرفة) .

نشاط (١) ابحث مع زملائك في أحد محركات

البحث عن سد مأرب ، واكتب تقريراً عنه من ٤ أسطر .



شكل (٤١) بقايا مأرب



شكل (٤٢) الطبيعة في اليمن

بني في القرن العاشر ق.م، وبلغ طوله ٥٧٧م وعرضه
 ٩١٥م تقريباً، بني من الحجارة المقطوعة من الجبال،
 ويقوم بجمع مياه الأمطار وتجميعها ويروي ما يقارب
 ٩٨ كم تقريباً، ومزود بثقوب تتحكم بكمية الأمطار.



أما بالنسبة للتجارة فقد كان أهل اليمن أسياد التجارة العربية ، حيث سيطروا على الطرق التجارية ،

وامتدت تجارتهم بين شمال شبه الجزيرة العربية وجنوبها ، وكان هناك تبادل تجاري مع الحضارات

المجاورة لها ، وخاصة حضارة بلاد مصر القديمة وحضارة بلاد الرافدين وحضارة بلاد الشام ، كما عرفوا

الأبجدية التي كانت تتألف من ٢٩ حرفاً ، وكانت تكتب بالخط المسند .
ما هي الكتابة التي عرفتها بلاد اليمن؟ وكم عدد أحرفها؟

النهائية



حضارة دلمون

إعداد
د. أحمد السراجي

اقرا الكتاب من ص ٨٨ إلى ص ٨٩ ثم أجب عما يلي بالتعاون مع زملائك :

أين تقع حضارة دلمون بالنسبة للخليج العربي؟

ما هي الأسباب التي جعلت دلمون مركزا تجاريا؟

ما هي الأنشطة الاقتصادية للسكان في دلمون؟

ما هو اسم القبيلة التي سكنت دلمون قديما؟



٤ - حضارة دلمون (البحرين)

قامت دلمون وسط حضارات الشرق القديم، وبحكم موقعها وسط الخليج العربي فقد كانت مركزاً مهماً للمواصلات والتجارة البحرية بين البلدان المطلة على الخليج العربي والحضارات المجاورة لها.

- اذكر حضارتين من هذه الحضارات :

١ - بلاد الرافدين

٢ - بلاد اليمن

ما هي الأنشطة الاقتصادية للسكان في دلمون؟

ازدهر العمران في دلمون ، وتنوع نشاط السكان الاقتصادي ،

مما كان ^١ فمارسوا الزراعة وصيد الأسماك ^٢ والغوص على اللؤلؤ ، وكانت

تسمى

البحرين قبل

الفتح

الإسلامي؟

تسمى قبل الفتح الإسلامي باسم «أوال»

نشاط (١)

ألصق مجموعة من الصور لآثار حضارة دلمون .



ما هو اسم القبيلة التي حكمت دلمون قديماً؟

اقرأ وتعلم : **أوال** : اسم أطلق على البحرين قديماً نسبة إلى صنم اسمه **أوال** كانت تعبده قبيلة **وائل** التي حكمت البحرين آنذاك .



حدد على الخريطة التالية موقع حضارة دلمون:



٦٠٠ ٤٠٠ ٢٠٠ ٠ ١٠٠ ٢٠٠ كيلو متر

اقتصر الدرر

بالتوفيق

الوطن العربي مهد الديانات السماوية

إعداد
د. أحمد الراحمي



اقرأ الكتاب من ص ٩٠ - ٩٢ ثم أجب عما يلي:

ما هي الديانات السماوية التي ظهرت في الوطن العربي؟

في أي عام نزل الوحي على رسول الله؟

لماذا اطلق على أوروبا في القرن العاشر عصر الظلمات؟

ما هي أهم معابر الحضارة الإسلامية إلى أوروبا؟



الدرس الثالث

الوطن العربي مهد الديانات السماوية الثلاث

يعتبر الوطن العربي مهد الديانات السماوية الثلاث التي انتشرت في أنحاء العالم ، مما أكسبه مكانة روحية مقدسة وهي كالتالي :

- ١ - **الديانة اليهودية:** وهي التي نزلت على سيدنا موسى - ﷺ - وكتابها التوراة .
- ٢ - **الديانة المسيحية:** وهي التي نزلت على سيدنا عيسى بن مريم - ﷺ - وكتابها الإنجيل .

نشاط (١)



١ - ما اسم الكتاب الذي أنزل على سيدنا موسى - ﷺ - ؟

التوراة

٢ - متى ولد سيدنا عيسى بن مريم - ﷺ - ؟ وأين ؟

١ ميلادي في بيت لحم في فلسطين

٣ - **الديانة الإسلامية:** يعتبر الإسلام خاتم الرسالات السماوية جميعاً ، ونزل القرآن الكريم على سيدنا

محمد - ﷺ - عام ٦١٠ م في مكة المكرمة ، وقد دون على يد كُتَّاب الوحي ، وتكفل الله - سبحانه وتعالى - بحفظه من التحريف والتغيير .

١ - متى نزل الوحي على الرسول - ﷺ - ؟ وأين ؟

نزل عام ٦١٠ م في مكة

٢ - دُلل على أن الله - ﷻ - تكفل بحفظ القرآن الكريم من التحريف والتغيير .

قوله تعالى: {إنا نحن نزلنا الذكر وإنا له لحافظون}



نشاط (٢) اكتب أسماء الأماكن المقدسة الموجودة في الصور التالية :



المسجد الأقصى



المسجد الحرام



المسجد النبوي



الحضارة العربية الإسلامية

قامت الحضارة العربية الإسلامية على الإسلام وتعاليمه ، وكان هذا التنظيم الإسلامي أهم الأسس التي بنيت عليها حضارة العرب في ظل الإسلام ، فالصلاة في نظامها ومواقيتها وما يترتب عليها من نظافة البدن والروح ، والصوم والزكاة التي تحقق التكافل الاجتماعي ، فضلاً عن مبادئ الإسلام المتمثلة في الشورى والعدل والمساواة ، ومع انتشار الإسلام بالفتوحات الإسلامية انتشرت اللغة العربية وأصبحت الرابطة الأساسية التي ربطت أجزاء الدولة بعضها ببعض .



اقرأ وتعلم :

أثر الحضارة العربية الإسلامية في الحضارة الأوروبية:

قامت في بلاد العرب حضارة مزدهرة ، وكان لابد لها من أن تنير أرجاء العالم مثلها في ذلك مثل كل حضارة إنسانية متفوقة ، وكان للحضارة العربية الإسلامية فضل كبير وأثر واضح في إثراء الحضارة الأوروبية منذ القرن العاشر الميلادي ، حيث كانت أوروبا تعيش آنذاك في عصور الظلام ، وذلك بسبب سيطرة الكنيسة على عقول الناس ، وقد انتقلت الحضارة العربية الإسلامية إلى أوروبا بفضل مراكز الإشعاع التي انتشرت بالقرب منها مثل بلاد الأندلس وصقلية ، أو عن طريق الاحتلال الصليبي لبلاد الشام .

نشاط (١) أكمل المخطط السهمي بالمناقشة مع معلمك :

انتقال الحضارة العربية الإسلامية إلى أوروبا عن طريق

بلاد الشام




شكل (٤٨) جامع المنصور

جزيرة صقلية



شكل (٤٧) قصر الحمراء

بلاد الأندلس



شكل (٤٦) مسجد قرطبة

انتهى الدرس
وانتهى الفصل الأول

بالتوفيق



وزارة التربية

الدراسات الاجتماعية الكويت والوطن العربي

للمصف السابع



تم التحميل من:

شبكة

ياكويت

<http://www.yakuwait.net>

TELEGRAM: @yakuwait_net_home



المرحلة المتوسطة

الطبعة الثانية



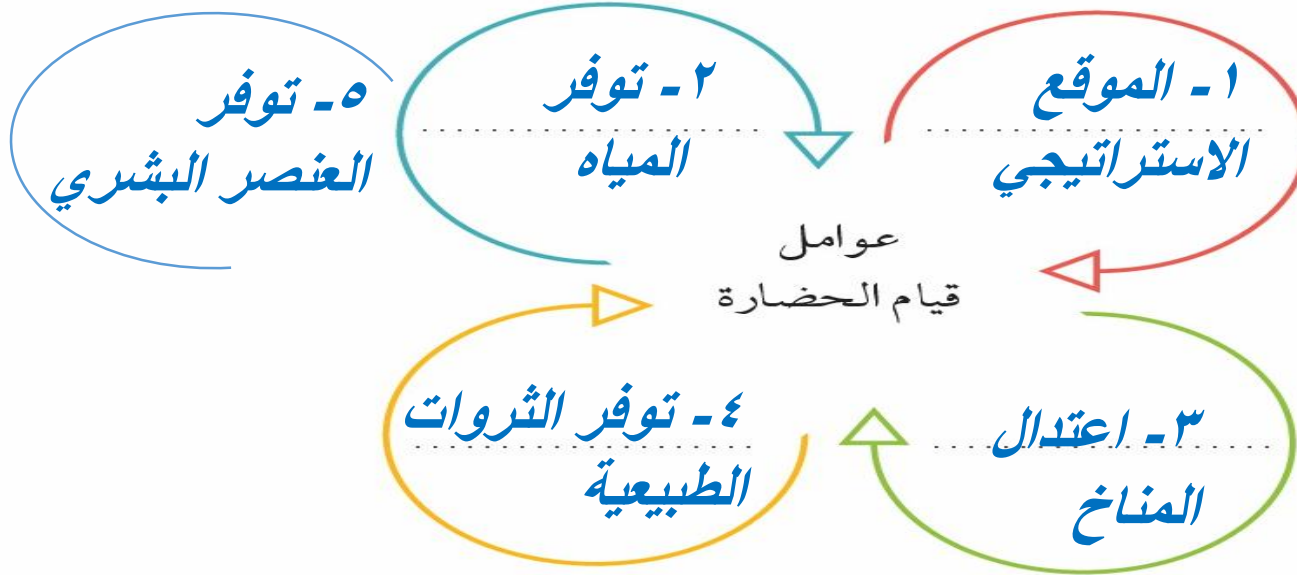
حل التقويم الوحدة الثانية

إعداد
الأستاذ المساعد
الراحمي

أولاً - أكمل الفراغات التالية بكلمات مناسبة :

- ١ - كل ما يطرأ على المجتمع من تقدم وتطور في جميع نواحي الحياة الدينية والسياسية والاقتصادية والاجتماعية والفكرية يسمى **الحضارة**.
- ٢ - تعتبر الأهرامات مظهراً من مظاهر الحضارة **المصرية القديمة**.
- ٣ - عرفت الكتابة المصرية القديمة باسم **الهيروغليفية**.
- ٤ - يطلق اسم بلاد الرافدين أو بلاد ما بين النهرين على دولة عربية تسمى **العراق**.
- ٥ - من أشهر ملوك الحضارة البابلية في العراق ملك يسمى **حمورابي**.
- ٦ - يطلق على البحرين قديماً اسم **أوال**.

ثانياً - أكمل المخطط التالي :



ثالثاً - اذكر أشهر المعالم الدينية حسب الصور في الجدول التالي :

اسم المَعْلَم الديني مكة المكرمة	اسم الدولة السعودية	
اسم المَعْلَم الديني المسجد الأقصى	اسم الدولة فلسطين	

رابعاً - لاحظ الصورة التالية ثم أجب عما يلي :

١ - اسم الشخصية التي في الصورة -

حمورابي

٢ - ما أهم ما اشتهر به؟

شريعة حمورابي

٣ - ما المبدأ الذي اعتمد عليه؟

العين بالعين والسن بالسن

خامساً - علل لما يأتي :

- كان الوطن العربي مركزاً للحضارات المختلفة عبر التاريخ -
لأنه يتمتع بمقومات طبيعية وجغرافية تساعد على الاستقرار وبناء الحضارة

- اهتمام المصريين القدماء بتحنيط جثث موتاهم -

لأنهم اعتقدوا أن الحياة تعود بعد الموت (البعث والخلود)

- ازدهار الزراعة في بلاد الرافدين -

خصوبة التربة وسعة السهول ووفرة المياه

- اقتصر ظهور المجتمعات الحضارية على الجزء الجنوبي الغربي من شبه الجزيرة العربية .
 لأنه توفر بها مقومات الحضارة أكثر من غيرها

سادساً - صف الأسماء التالية في مكانها الصحيح في الجدول التالي :

- (الإنجيل - موسى ﷺ - القرآن الكريم - عيسى ﷺ - التوراة - محمد ﷺ) .

الديانة	الكتاب	النبي
الإسلام	القرآن الكريم	محمد صلى الله عليه وسلم
المسيحية	الإنجيل	عيسى عليه السلام
اليهودية	التوراة	موسى عليه السلام

سابعاً - أجب عن الأسئلة التالية كما هو مطلوب بين القوسين :

- تُعدُّ حضارة (دلمون) مركزاً مهماً للمواصلات البحرية . (علّل)

لأنها تقع وسط الخليج العربي

- انتقلت الحضارة العربية الإسلامية إلى قارة أوروبا بفضل مراكز الإشعاع (عددتها)

١ - الأندلس

٢ - صقلية

٣ - بلاد الشام

مشروع :

- شارك زملاءك في إعداد متحف مصغر يحتوي على صور ومجسمات وبعض الآثار للحضارات القديمة في الوطن العربي بمساعدة معلمك .

اقتضاء الوحدة الثانية

بالتوفيق