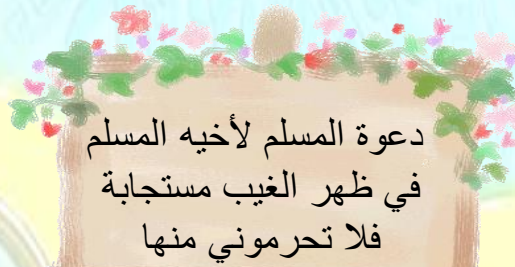



مدرسة رقية بنت محمد المتوسطة بنات
قسم الاجتماعيات

بنك أسئلة الصف التاسع
منهج الكويت والعالم
٢٠١٦ / ٢٠١٧

إعداد الأستاذة
جريدة الدخيم





١ - أكمل العبارات الآتية بما يناسبها :

بلغ سكان العالم في عام (٢٠٠٣) حوالي ٦ مليار نسمة.
 قارة غير مأهولة بالسكان تسمى القارة القطبية الجنوبية
 أكبر قارات العالم من حيث المساحة هي قارة آسيا
 أصغر قارات العالم من حيث المساحة هي قارة تسمى إستريا
٢- صنف المظاهر التضاريسية للقارات :

الملامح التضاريسية للقارات

التضاريس	آسيا	أفريقيا	أوروبا	أستراليا	أمريكا الشمالية	أمريكا الجنوبية
جبال	زاجروس - الهملايا	أطلس	الألب	الألب	* الأبلش روكي	الانديز
هضاب	الدكن - التبت	* الصحراء الكبرى الشطوط	الميزيتا	الهضبة الغربية	كولومبيا	هضبة البرازيل
سهول	تهامة	سهول البحر المتوسط	السهل الأوربي	سهول ساحلية	سهول الوسطى	* السلفاس

١- أكمل العبارات الآتية بما يناسبها :

أكثر قارات العالم تركيز سكاني هي قارة آسيا .
 ينقسم العالم إلى دوله متقدمه ودول نامية .
 يتركزون سكان العالم في المناطق السهلية ويقلون في المناطق الجبلية .
 تعاني الدول النامية من مشكلات منها سوء توزيع السكان و النمو السكاني السريع

٢- عرف المفاهيم التالية :

المشكلات السكانية	الصعوبات والعقبات التي تقف في وجه الطاقة البشرية بتعطيل حركتها دون القيام بدورها في الإنتاج والبناء .
الأوقيانوسيا	قارة أستراليا والجزر المحيطة بها.
القارة القطبية الجنوبية:	اتاركتيكا هي قارة مدفونة تحت غطاء جليدي هائل وتم اكتشافها في القرن ٢٠ وتقع في المحيط الهادي
معدل النمو السكاني:	مجموع معدل النمو الطبيعي وغير الطبيعي <input type="checkbox"/>
العوامل الديموغرافية	يقصد بها تلك العوامل التي تؤثر في عدد السكان (النمو الطبيعي والنمو غير طبيعي)
الميزان التجاري :	يطلق على قيمة صادرات و واردات الدولة خلال سنه <input type="checkbox"/>

معدل النمو غير الطبيعي	معدل النمو الطبيعي :
زيادة عدد السكان عن طريق الهجرة .	معدل المواليد .معدل الوفيات .
البلدان النامية :	البلدان المتقدمة :
هي الدول التي مازالت أقل تقدما في ميادين الاقتصاد والعلم والتكنولوجيا .	هي الدول التي أحرزت تقدما كبيرا الثراء المادي والتقدم العلمي والتطور التكنولوجي والتفوق الحضاري

أ- عددي العوامل المؤثرة في توزيع السكان

١- العوامل الطبيعية . التربة . الثروات المعدنية . المناخ . التضاريس . النبات الطبيعي

٢- العوامل الاقتصادية الرعي . الصناعة . التجارة . الزراعة ٣- العوامل الديموغرافية

ب ماهي النتائج المترتبة علي سوء توزيع السكان والنمو السكاني السريع

١- انخفاض في الناتج القومي ٢- عجز في الميزان التجاري ٣- انخفاض في مستوى المعيشة

ج- علي يتركزون السكان في المناطق السهلية ويقلون في المناطق الجبلية

يتركز السكان في المناطق المعتدلة مناخيا أكثر من المناطق الحارة والباردة

لتوفر مقومات الاستقرار السكاني وسهولة العيش والقيام بأنشطة اقتصادية

نماذج لبعض دول العالم أ- استراليا :-

السبخة	عبارة عن أرض تبخر عنها الماء وبقيت عليها طبقة مالحة.
الاقويانوسيا	قارة استراليا والجزر المحيطة بها.
الاتحاد الفيدرالي:	اتحاد مجموعة من الدول بمقتضى دستور في شكل اتحاد دائم لتسوده حكومة مركزية تمارس سلطتها بطريق مباشر على الولايات. عام ١٩٠١م
الحاجز المرجاني	عبارة عن رواسب مرجانية تمتد على شكل سلسلة من الصخور في البحار الضحلة الدافئة حيث مستعمرات حيوان المرجان.

قارني بين كل من :

الواردات	الصادرات
السلع والخدمات التي تشتريها البلد من العالم الخارجي مثال المعدات المصنعة النفط (من دول الخليج العربية)	السلع والخدمات التي تبيع للبلاد الاجنبيه. السلع المصنعة من المنتجات الزراعيه المعادن الوقود الحفري



اكملی الفراغات التالية :

- ١- اصغر القارات من حيث المساحة وتعتبر من ضمن الدول الاوقيانوسية استراليا
- ٢- تقع دولة استراليا بالنسبة لقارة اسيا في جهة الجنوب الشرقي .
- ٣- اكبر جزيرة في العالم تسمى استراليا
- ٤- يرجع اصول سكان استراليا الي اصول الاروميون
- ٥- اقاموا سكان أستراليا في بناء اول مستوطنة في مدينة سيدني
- ٦- توجد أضخم صخرة في العالم في قارة استراليا
- ٧- وجود اكبر حاجز مرجاني في العالم في قارة استراليا
- ٨- اصبحت دولة مستقلة ذات سيادة في عام ١٩٤٢ وتم تأسيس لبرلمان وطني
- ٩- قام الاتحاد الفيدرالي الاسترالي عام ١٩٠١



عددي ملامح السطح في قارة استراليا :

- ١- المرتفعات الشرقية ٢- أكبر حاجز مرجاني في العالم ٣- أضخم صخره في العالم
- الجهة الغربية ١- الهضبة الغربية ٢- تكثر فيها البحيرات والسبخات

عددي انواع المناخ الذي تمتاز به دولة استراليا :

- مناخ التندرا (يمتاز بالقسوة وتنخفض درجة الحرارة في الشتاء إلى ما دون الصفر)
المناخ المعتدل (يمتاز بالدفء في فصل الصيف وبارد في الشتاء)

- المناخ الصحراوي (ارتفاع درجة الحرارة في الصيف وانخفاضها في الشتاء وقلة تساقط الأمطار)

اذكري اهم الانشطة الاقتصادية في قارة استراليا :

- ثروة الرعوية. (الصوف) - ثروة الزراعيه (القمح، الأرز، والفاكهة والخضروات)
مجال التكنولوجيا والصناعة - مجال السياحة - لديها أكبر مساحة للصيد البحري (علي) لأنها أكبر جزيرة في العالم

نماذج لبعض دول العالم ب - الهند :-

- ١- اكملی الفراغ التالي :
- حصلت الهند على استقلالها عام ١٩٤٧ .
- سيطر الاستعمار البريطاني على الهند قرابة ثلاث قرون .
- خضوع الهند للاستعمار الأوروبي منذ وصول الرحاله فاسكودي جاما
- يزيد عدد سكانها اليوم على المليار ومائة مليون نسمة حسب عام موسوعة إنكارتا
- تحتل الهند بالنسبة لدول العالم من حيث المساحة المرتبة السابعة
- الدولة التي تجاور الهند من جهة الشمال الغربي هي باكستان
- ثاني أكثر البلدان في العالم من حيث التعداد السكاني هي الهند
- تقع الهند بالنسبة لقارة اسيا في جهة الجنوب
- تقع الهند بين دائرتي عرض ٨ - ٣٧ شمالا
- قام فاسكودي جاما برحلته فخرج بأسطول دار فيه حول جنوب أفريقيا رأس الرجاء الصالح

٢- عددي اهم المناطق الصناعية في الهند

مدراس - كلكتا - نيودهي - مومباي

٣- اذكري اهم الملامح التضاريسية في دولة الهند

١. الجهات الشمالية جبال الهملايا ٢- هضبة الدكن ٣- نهر الكانج

٤ اذكري اهم الانشطة الاقتصادية في دولة الهند

١- اشتهر الزراعة (الارز) - الصناعات اليدوية (انسجة ،الذهب ، الفضة)

٢- تربية الحيوانات: (لابقار و الجواميس والأغنام والماعز)

٣- الثروة المعدنية (الفحم الحجري الحديد البوكسيت النحاس الرصاص الذهب).

٥- التجارة من صادرات الهند (المنتجات الزراعية ، المنسوجات، الاحجار الكريمة ، والمجوهرات) ومن اهم وارداتها النفط

٥- عللي ماهي المشكلات السكانية التي تعاني منها الهند

الهند هي ثاني أكثر البلدان في العالم من حيث التعداد السكاني

تعدد الديانات واللغات يتحدثون ٢٢٠ لغة ولغة الرسمية لبلادهم اللغة الهندية

تعاقب الاستعمارات عليها لمدة ثلاث قرون .

نماذج لبعض دول العالم ج - اليابان :-

١- أكمل الفراغ التالي :

١. اهم مراكز المناطق الصناعية في اليابان نجازاكي - يوكوهاما - طوكيو

٢. المساحة الجبلية في اليابان تشكل حوالي ٧٣%

٣. تعتبر اليابان جزء مما يسمى بـ (حلقة المحيط الهادي النارية)

٤. تقع اليابان في منطقة بركانية وتتجلى مظاهرها في أمواج التسونامي

٥. تمتد اراضي اليابان في الاقاليم المعتدلة الدافئة والباردة بين دوائر عرض ٢٦ - ٤٦ شمالا

٦. الدول القريبه من اليابان هي كوريا الشمالية والجنوبية

٧. يبلغ عدد السكان في اليابان حوالي ١٢٧ مليون نسمة .

٢- عرفني كل من :

الحلقة النارية : زلازل مدمرة

الأسطول: مجموعة من السفن .

٣- عددي اهم المناطق الصناعية في اليابان

منطقة طوكيو ويوكوهاما - نجازاكي

٤- اذكري اهم الملامح التضاريسية في دولة اليابان

١. تشكل المساحة الجبلية حوالي ٧٣% من المساحة الكلية.

٢. تقع اليابان في منطقة بركانية ٤- اليابان دولة مشتتة الشكل تتألف من ٤ آلاف جزيرة

٣. لها سواحل طويلة تتميز بكثرة تعاريجها وكثرة اشباه الجزر والخلجان



ص 92-94



٥- اذكر اهم الانشطة الاقتصادية في دولة اليابان

١- اشتهر بزراعة محاصيل الحبوب (القمح ، الذرة ، الشعير ، الأرز) ٢- تتوفر على طول سواحلها مصايد ممتازة للأسماك ٣- تستورد اليابان كميات هائلة من الخامات اللازمة للصناعة من الخارج (البترول ، الحديد الخام

٦- على اعتبار اليابان نموذجاً ممتازاً للدول المتقدمة

• بسبب دور السكان في بنائها ومدى قدرتهم على تذليل العقبات والتغلب على الصعوبات

• على زراعة الأرز في شمال هوكايدو

• حيث المناخ المعتدل البارد وعلى شكل مدرجات واستخدام وسائل التدفئة للتربة واستنباط سلالات من البذور

٧- ماهي جهود سكان اليابان للتغلب على الصعوبات

• ١- إعادة بناء دولتهم بعد هزيمتهم في الحرب العالمية الثانية .

• ٢- ربط الجزر بشبكة من الجسور والأنفاق العملاقة والطرق السريعة وخطوط السكك

٨- عددي أهم الصناعات اليابانية

• الصناعات الكيماوية - وسائل النقل - الأجهزة والأدوات الكهربائية

٩- تمكنت اليابان من القضاء على الشكل المشتمت لدولتهم

بانشاء شبكه من الجسور والأنفاق العملاقة

والطرق السريعة وخطوط السكك الحديديه

١٠ ما فائدة كثرة تعاريج وكثرة أشباه الجزر والخلجان في اليابان ؟

تعتبر مصائد ممتازة للأسماك .

مفاهيم حياتية

• عرفى التالى :

الدولة	بقعة من الارض يسكنها مجموعة من الافراد يتفاعلون مع بعضهم البعض تجمعهم قيادة سياسية واحدة تنظم علاقاتهم
الديمقراطية	كلمة يونانية تعني شكل للسلطة يكون الحكم بمقتضاه بيد الشعب وهي التشاور والحوار لتحقيق المصلحة العامة
السلطة الحاكمة	الاداة التي تدير شؤون الدولة
المواطنة	الحق في المشاركة في صنع القرار
الرأي العام :	هو اراء مجموعة من الافراد بشأن قضية او موقف ما
الإنتاج	هو كل نشاط يؤدي إلى منفعة أو يسد حاجة لدى الإنسان ويجعله أحسن حالاً
الادخار	اقتطاع جزء من الدخل بشرط يأخذ طريقة إلى الإستثمار
الاستثمار	توظيف الفائض من الأموال أو النقود الناتج عن زيادة دخل الدولة
الترشيد	الإفناق الأمثل للمال بحيث يتم استخدام أساليب وتدابير حكيمه في عملة الاستهلاك
العولمة	يقصد بها سهولة الحركة والانتقال بين دول العالم من خلال تذويب الحدود
التنمية الاجتماعية	يقصد بها النهوض بمختلف المجالات البشرية والإنسانية في المجتمع
التكافل الاجتماعي	هو النظام الذي يقوم على التفاعل والإعالة بين الاعضاء بين مجتمع من المجتمعات



مقارنة	استراليا	الهند	اليابان
الموقع	جنوب شرقي لقارة اسيا	جنوب قارة اسيا	تقع شرق اسيا
الموقع المكاني	تقع على المحيط الهادي شرقاً و المحيط الهندي غرباً	تطل على بحر العرب والمحيط الهندي	تقع على المحيط الهادي غو المحيط الهندي غرباً
المساحة السكان:	تعد استراليا اصغر قارات العالم من حيث المساحة	ثاني اكثر البلدان في العالم من حيث التعداد السكاني السابعة بالنسبة لدول العالم من حيث المساحة	يبلغ عدد السكان في اليابان حوالي ٢٢٧ مليون نسمة .
اهم المدن	مدراس - كلكتا - نيودلهي مومباي	منطقة طوكيو ويوكوهاما - نجازاكي
الملامح التضاريسية	الجهة الشرقية ١- المرتفعات الشرقية ٢- اكبر حاجز مرجاني في العالم ٣- اضخم صخره في العالم الجهة الشرقية ١- الهضبة الغربية ٢- تكثر فيها البحيرات والسبخات	الجهات الشمالية جبال الهملايا هضبة الدكن ، نهر الكانج	تشكل المساحة الجبلية حوالي ٧٣٪ من المساحة الكلية. تقع اليابان في منطقة بركانية ٣. اليابان دولة مشتتة الشكل تتالف من ٤٠٠٠ آلاف جزيرة ٤. لها سواحل طويلة تتميز بكثرة تعاريجها وكثرة اشباه الجزر والخلجان
(٣) المناخ:	مناخ التندرا (يمتاز بالقسوة وتنخفض درجة الحرارة في الشتاء إلى ما دون الصفر) المناخ المعتدل (يمتاز بالدفء في فصل الصيف وبارد في الشتاء) المناخ الصحراوي (يمتاز بارتفاع درجة الحرارة في الصيف وانخفاضها في الشتاء وقلة تساقط الأمطار)	بالمناخ الموسمي الحار الممطر صيفا ويسودها مناخ بادر قاسي في المناطق الشمالية من جبال الهملايا	تمتد اراضي اليابان في الاقاليم المعتدلة الدافئة والبارده بين دوائر عرض ٢٦ - ٤٦ شمالا
٥- الأنشطة الاقتصادية	ثروتها الرعوية. (الصوف) ثروة زراعيه (القمح، الأرز، والفاكهة والخضروات) مجال التكنولوجيا والصناعة مجال السياحة لديها أكبر مساحة للصيد البحري	الزراعة (الارز) ٢- تربية الحيوانات: (لابقار و الجواميس والاعنام والماعز) ٣- الثروة المعدنية (الفحم الحجري الحديد البوكسيت النحاس الرصاص الذهب). الصناعات اليدوية (انسجة، الذهب، الفضة) ٥- التجارة من اهم صادرات الهند (المنتجات الزراعية، المنسوجات، الاحجار الكريمة، والمجوهرات) ومن اهم وارداتها النفط .	١- اتشتهر بزراعة محاصيل كثيرة مثل : الحبوب (القمح ، الذرة ، الشعير ، الأرز) ٢- تتوفر على طول سواحلها مصايد ممتازة للأسماك ٣- تستورد اليابان كميات هائلة من الخامات اللازمة للصناعة من الخارج (البترول ، الحديد الخام
لها علاقة ثقافية و تجارية متبادلة يكون فيها تبادل البضائع واستيراد النفط			

ما هي العلاقة بين المواطن ووطنه:

حقوق (التعليم والسكن) واجبات (الدفاع عن الوطن والعمل التطوعي)
مادور الفرد كمواطن الشعور بالانتماء والولاء للوطن والهوية التي يحملها الانسان وماله وما عليه
عددي مبادئ الديمقراطية: الحرية - المساواة - سيادة القانون - حكم الشعب
اذكري العناصر التي تحدد الرأي العام:



- 1- وجود قضية او مسالة تكون محل اهتمام الناس
 - 2- وجود عدد من الافراد لديهم اهتمام بالقضية أي وجود جمهور للرأي العام
 - 3- التعبير او الافصاح عن الرأي او وجهة النظر سواء بالكلمة المكتوبة او المنطوقة
- عددي أهم العوامل المؤثرة في تشكيل الرأي العام؟

- 1- وسائل الإعلام المختلفة 2- القيم
- ماهي عوامل الإنتاج؟ 1- الموارد الطبيعية 2- رأس المال 3- التنظيم الإداري 4- العمل
- ماهي موارد المال العام؟ 1- الرسوم الجمركية 2- الضرائب 3- الممتلكات العامة 4- القروض
- اذكري ركائز العدالة الاجتماعية؟ 1- المساواة 2- التعاون 3- التكافل الاجتماعي
- اذكري أنواع للتعاون؟

- أ- التعاون الأسري (التعاون بين أفراد الأسرة)
 - ب- التعاون الدفاعي (تعاون أفراد المجتمع في مواجهة الكوارث)
 - ج- التعاون الجبري (تعاون الموظفين في نطاق العمل)
 - د- التعاون الاختياري (العلم التطوعي، العمل الخيري)
- ماهو هدف التنمية الاجتماعية ج- تنمية الموارد البشرية

ماهي طرق تنمية الموارد البشرية

- 1- توفير الخدمات العامة بأنواعها 2- رفع الإنتاجية الكفاءة للقوى البشرية
- 3- رفع مستوى المعيشة للسكان

ماهي أهمية العلوم والتكنولوجيا في التنمية الاجتماعية

- 1- ساعد على ربط المناطق المائتة بالمناطق البرية 2- اتسعت دائرة العلاقات الاجتماعية
- 3- انتقال الأفراد من منطقة إلى أخرى
- 4- أدى إلى ارتفاع في مستوى المعيشة للسكان

على عمدت الدول إلى وضع مجموعة من ((قيم للحياة المدنية))

لتنظم تعاملاتها السياسية والاقتصادية والاجتماعية

ما أهم قيم الحياة المدنية

مفاهيم سياسية - مفاهيم اجتماعية - مفاهيم اقتصادية

اذكري انواع الدخل

الدخل الفردي - دخل القومي

على لكل دولة سلطة حاكمة

لتدير شؤونها وتنظمها في الداخل عن طريق اتخاذ القرارات وسن القوانين وحفظ الامان وتنظيم علاقات الخارجية بغيرها من الدول والهيئات والمنظمات العالمية

على اختيار صباح بن جابر (صباح الأول) حاكماً لهم

لحاجتهم لوجود سلطة تدير شؤونهم

عددي طرق تنمية الموارد البشرية

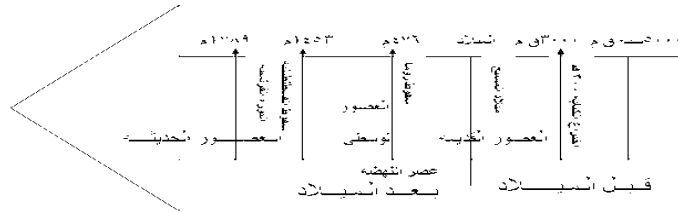
- 1- رفع الكفاءة الانتاجية للقوى البشرية 2- توفير الخدمات العامة 3- رفع مستوى المعيشة للسكان



الدخل القومي	الدخل الفردي
دخل الدولة خلال عام من مختلف المصادر	نصيب الفرد من الدخل القومي

قارني بين كل من :

المفهوم	التعريف
الرسوم الجمركية	ضريبة تفرضها الدولة بما لها من حق السيادة على البضائع المستوردة أو المصدرة.
الممتلكات العامة	هي ما توفره الدولة للجميع للاستفادة منه (كالمدارس، المستوصفات، والمستشفيات، وغيرها من الخدمات)
الضرائب	مبلغ من المال يدفعه الأفراد للدولة ليتمكنوا من القيام بواجباتها.
القروض	ما تعطيه الدولة للأفراد أو الدول من المال بشرط أن يعيده بعد أجل معلوم.
الحرية	لكل مواطن الحق بممارسة حرياته بما لا يتعارض مع حريات الآخرين .
المساواة	إتاحة الفرص لجميع الافراد في تقسيم العمل وتحمل المسؤولية .
سيادة القانون	احترام القوانين و الأنظمة .
حكم الشعب	هو ذلك الجزء من الشعب الذي تتوافر فيه شروط تؤهله الاشتراك في شؤون الدولة



العالم تحديات وتطلعات

اكمل العبارات التالية :

انتقلت اوربا الغربية من مرحلة التخلف الي عصر النهضة في القرن ١٥م (١٤٥٣م)
التنافس بين الدول الصناعية في المجالين الاقتصادي و الاجتماعي
الملاح الذي أثبت كروية الأرض هو ماجلان
الرحلات التي قام بها الاوربيون لاكتشاف عوالم جديدة تسمى الكشوف الجغرافية
اخترعت الكتابة ٣٠٠٠ ق م
قامت الثورة الصناعية في أوروبا في القرن الثامن عشر .

اذكري مظاهر عصر النهضة

١- الحركة الانسانية ٢-الاكتشافات الجغرافية ٣- حركة الاستعمار الاوربي

عللي كثرة حركة الاستعمار الاوربي

للحصول على ثروات البلاد المكتشفة بأقل كلفة ممكنة

اذكري نتائج التنافس في المجالين الاقتصادي والاجتماعي بين الدول الصناعية

قيام الاحلاف السياسية والعسكرية وسباق التسلح

من هم دول الوفاق الثلاثي ودول التحالف الثلاثي

دول الوفاق الثلاثي فرنسا - روسيا - بريطانيا

دول التحالف الثلاثي ألمانيا - نمسا - ايطاليا

عددي الملاحين الذين قادو الكشوف الجغرافية

جون كابوت - كولومبوس - ماجلان



عصر النهضة	عصر التغيرات الكبيرة في كل ميادين الحياة الهادية والفكرية
الحركة الانسانية	اهتمام المفكرين هلي دراسة الانسان بمعزل عن كل ما يحيط به من افكار
الكشوف الجغرافية	الرحلات التي قام بها الاوربيون لاكتشاف عوالم جديدة
الاستعمار الاوربي	احتلال الدول الاوربية لمناطق وأقاليم في القارات والسيطرة على شعوبها وخبراتها بالقوة
الثورة الصناعية	عملية تغيير شامل في ادوات الانتاج الصناعي ووسائله وحجمه

ص ١١٦-١٢٦

الحرب العالمية الاولى والثانية

اكمل العبارات التالية :

- الحرب العالمية أولى حرب شاركت فيها معظم دول العالم في الفترة ما بين ١٩١٤ - ١٩١٨ .
- . سرايفو المدينة التي اغتيل فيها ولي عهد النمسا سنة ١٩١٤ م .
- . بلغ عدد الدول المشاركة في الحرب العالمية الأولى ٣٣ دولة .
- . وقفت روسيا بجانب صربيا عام ١٩١٤ م .
- . دخلت الولايات المتحدة الحرب عام ١٩١٧ م ضد ألمانيا و النمسا (الحلفاء) .
- . دولة دخلت الحرب إلى جانب ألمانيا و النمسا هي تركيا .
- . سعى الحلفاء والولايات المتحدة و بريطانيا و الاتحاد السوفيتي إلى إنشاء منظمه دوليه في مؤتمر يالطا في ١٩٤٥ م وصدقت عليه ٥٠ دولة .
- الدولة التي تقف إلى جانب النمسا وتحدد روسيا واحتلت بلجيكا هي ألمانيا
- تطورت حرب الحصار البحري في عام ١٩١٧ م
- انتهت الحرب العالمية الثانية مخلفه وراءها أكثر من ٥٠ مليون قتيل .
- قامت اليابان بالهجوم علي ميناء بيرل هاربر

ألقت الولايات المتحدة قنصلتين ذريتين علي مدينة هيروشيما و ناجازاكي عام ١٩٤٥ م

اكتبي ما تعرفينه عن احداث عام ١٩١٧ م

دخول الولايات المتحدة الحرب عام ١٩١٧ ضد ألمانيا وحلفائها .

انسحاب روسيا من الحرب بعد قيام الثورة الشيوعية فيها عام ١٩١٧ الانحصار البحري ١٩١٧

علي انطلاق الثورة الشيوعية في روسيا :

بسبب استياء داخلي في فقد المؤن غي العاصمة بطرسبرغ

علي دخول الولايات المتحدة الحرب

لتكرار أعمال الغواصات الألمانية ضد البواخر اللأمريكية

علي لم تتأثر الولايات المتحدة بالحرب

دخلت متأخرة الحرب - لم تعاني أراضيها من الدمار

علي لم تستطيع الدول المهزومة اعادة بناء اقتصادها بعد الحرب

بسبب تسديد قروضها والتعويضات المفروضة عليها

اذكري أوضاع بين الحربين العالميتين الأولى والثانية

ظهور الأزمة الاقتصادية - ظهور الدكتاتوريات

- أوجه الشبه في الأنظمة الدكتاتورية :

2- الزعامه المطلقه 2- الحزب هو السلطة الوحيده في الدوله .

3- استخدام وسائل بوليسيه وإرهابيه لفرض النظام . 4- التوسع في أوروبا

اكتبي ما تعرفينه عن الازمة الاقتصادية عند الدول المنتصرة

عجزت عن سداد ديون الحرب . لانها تدين للولايات المتحدة - بدأت بإعادة بناء اقتصادها عام 1925م

الاستغناء عن البضائع الامريكية .

عرفي الدكتاتورية :

هي شكل من اشكال الحكم تكون فيه السلطة المطلقة في يد فرد واحد دون التقيد لا بالدستور ولا القوانين

لتأجله اليوم

ابتسم قليلا سننتهي

وجه المقارنة	الحرب العالمية الأولى	الحرب العالمية الثانية
السنة	١٩١٤ - ١٩١٨ م	١٩٣٩ - ١٩٤٥ م
مدتها	٤ سنوات	٦ سنوات
أسباب الحرب	١- قيام طالب صربي باغتيال ولي عهد النمسا ٢- زيادة المنافسة بين الدول الأوربية للسيطرة على منابع الثروات في الدول ٣- الصراع حول المستعمرات في قارتي آسيا وأفريقيا	قسوة شروط معاهدة فرساي على الدول المنهزمة . الأزمة الاقتصادية العالمية عام ١٩٢٩ م. ظهور الحكومات الدكتاتورية في ألمانيا وإيطاليا . سياسة هتلر التوسعية في أوروبا واستيلائه على ممر دانزج البولندي ١٩٣٩ م
القوة المتصارعة	ألمانيا + نمسا + الدولة العثمانية X (الحلفاء) فرنسا + بريطانيا + روسيا + الولايات المتحدة	دول المحور: ألمانيا + إيطاليا + اليابان + دول الصغیره X دول الحلفاء: فرنسا + اتحاد السوفييتي + بريطانيا + الولايات المتحدة + مجموعته من الدول والمستعمرات
النتائج	تراجعت ألمانيا فاستسلمت ووقعت اتفاقية الهدنة عقد مؤتمر الصلح في قصر فرساي في باريس عام ١٩١٩ لإقرار السلام في أوروبا . نتائج المؤتمر : ١- اختفاء أربع امبراطوريات ألمانيا . روسيا و نمسا وتركيا ٢. فرض غرامه ماليه كبيره على الدول المهزومة . ٣. فرض قيود على الجيش والأسطول الألماني .	١- عدلت خريطة أوروبا السياسيه من جديد . ٢. انقسمت ألمانيا إلى شرقيه . غربيه ٣. قضي على النازيه والفاشيه ٤. خرجت الولايات المتحدة واتحاد السوفييتي من الحرب كأكبر دولتين في العالم وتراجعت قوة بريطانيا وفرنسا
عدد الدول المشاركة	٣٣ دولة	٦٢ دولة

وجه المقارنة	الحزب الشيوعي	الحزب النازي	الحزب الفاشي
التعريف	نظام اجتماعي تكون فيه الملكية في يد المجتمع بأكمله وإهمها وسائل الإنتاج وملكية الأرض	هي الاشتراكية الوطنية	حزمة من العصي تدل علي القوة والتماسك وهو رمز السلطة في الإمبراطورية الرومانية
الدولة	روسيا	ألمانيا	إيطاليا
الزعيم	لينين	هتلر	موسوليني
الهدف	١- حكم جديد في روسيا ٢- وضع السلطة في يد الحزب	١- تفوق العنصر الألماني . ٢- والدعوة لقيام المانية الكبرى . استعادة المستعمرات الألمانية	١- التسلح . ٢- إعادة ايجاد الامبراطورية الرومانية (إيطاليا)

تابع



الدول المنتصرة

صربيا
روسيا - انسحاب 1917
فرنسا
بلجيكا
بريطانيا
الولايات المتحدة
يخول الحرب (1917)

1- النمسا
2- ألمانيا
3- تركيا
اعلنت الحرب عليها
احتلتها
اعلنت الحرب عليها

الدول المهزومة

ملخص
الحرب
العالمية
الاولى

اكملی الفراغات التالية :

شكل من اشكال الحكم تكون فيه السلطة مطلقة في يد التقيد بالدستور او القوانين هي الدكتاتورية
عقد مؤتمر يلطا عام 1945 م

شاركت في مؤتمر يلطا كل من الولايات المتحدة الامريكية والاتحاد السوفيتي وبريطانيا

الجهاز الرئيسي لهيئة الامم المتحدة هو الجمعية العامة

على انشأت عصابة الامم المتحدة في أعقاب الحرب العالمية الاولى

لحفظ السلام والأمن بين الدول

برهنى على فشل عصابة الامم المتحدة في مهمتها

قيام الحرب العالمية الثانية

صنفي كل من اهداف وشروط هيئة الامم المتحدة

اهداف هيئة الامم المتحدة	شروط الانضمام الي هيئة الامم المتحدة
-المحافظة على السلام والأمن في العالم . -تنمية العاقات الودية بين الدول . -تعزيز احترام حقوق الانسان وحرياته أساسيه	-ان تكون الدولة مستقلة -تكون محبة للسلام -تتعهد بتنفيذ قوانين هيئة الامم المتحدة

تتكون هيئة الامم المتحدة من عدة اجهزة منها :

مجلس الوصاية - مجلس الأمن - المجلس الاقتصادي والاجتماعي محكمة العدل الدولي - الامانة العامة - الجمعية العامة

اكتبي ماتعرفينه عن مؤتمر يالطا :

اجتمعت الدول الثلاث في مؤتمر يالطا 1945 وصدق عليها 50 دولة

اكملی الفراغات التالية :

• احد المقومات الرئيسية للمجتمعات الحضارية هي الطاقة

• تعتمد المجتمعات المتقدمة علي مصادر الطاقة المختلفة وهي الوقود الحفري

• الدول المستوردة الأولى للنفط الكويتي اليابان

• اتخذت منظمة الأمم المتحدة من مدينة نيويورك

عرني التالي :

الطاقة : هي القوى المحركة اللازمة لإدارة الآلات

علي يعد النفط والغاز الطبيعي مادة استراتيجية

توفرها بكميات كبيرة . سهولة نقلها وتخزينها .

مادة هامة في السلم والحرب . (سلم - لرفع اقتصاد الدولة ودخلها) (الحرب وسيلة للضغط علي الدول)

علي مصادر الطاقة غير المتجددة معرضة للخطر

استمرار الضغط المتزايد عليها .

عددي اهم الدول المستوردة للنفط الكويتي .

- اليابان ودول جنوب شرق اسيا - امريكا الشمالية - اوربا الغربية



الأجهزة	دورها
- مجلس الأمن الجهاز التنفيذي	ويضم ١٥ عضو (٥ أعضاء دائمين و ١٠ أعضاء مؤقتين مهمته : يصون السلام الدولي
٢- الجمعية العامة.	الجهاز الرئيسي للمنظمة وتضم جميع الدول أعضاء ولكل دولة حق في صوت واحد
٣- الامانه العامه.	يرأسها السكرتير العام لمدة ٥ سنوات . مهمته : يلعب دور الوسيط في النزاعات بين الدول
٤- محكمة العدل الدولي.	الأداة القضائية للمنظمة وتتكون من ١٥ قاضيا ومركزها مدينة <u>لاهاي</u> في هولندا مهمتها : تقضي بالمنازعات بين الدول
٥- مجلس الوصايا	يشرف على إدارة المناطق التي وضعت تحت الوصاية الدولي.
٦- المجلس الاقتصادي والاجتماعي	تنسيق الجهود الاقتصادي والاجتماعية بين الدول الأعضاء

عدي استخدامات النفط

يستخدم في الاصباغ - ويدخل في صناعة البتر وكبأوية -البلاستيك والأسمدة

أهمية النفط والغاز الطبيعي في الاقتصاد ؟

- قوة محرك آلات والمصانع . - مصدر لرؤوس الأموال

قارني بين كل من :

الطاقة المتجددة (الدائمة)	الطاقة غير المتجددة (الناضبة)
تشمل مصادر الطاقة التي لا تنفذ ابدا (الشمس - الرياح - الأمواج)	تشمل مصادر الطاقة ذات الكمية محدودة ويتناقص حجمها مع الزمن وتمثل ٩٠% مثل (الفحم - النفط - الغاز

منظمة الأوبك	منظمة الأوابك
منظمة الأقطار المصدرة للنفط	منظمة الأقطار العربية المصدرة للنفط
١٩٦٠	١٩٦٨
الكويت - فنزويلا - نيجيريا - الغابون اندونيسيا - ايران - الاكوادور - السعودية - الامارات - البحرين الجزائر - سوريا - العراق - قطر - ليبيا	الكويت - السعودية - ليبيا - الامارات قطر - بحرين العراق - سوريا - مصر - الجزائر

عرفي التالي :

منظمات دولية : هيئة يشترك فيها عدد من الدول للقيام بمجموعة الأعمال ذات الأهمية المشتركة

عصبة الأمم : منظمة دولية اسستها الدول المنتصرة في الحرب العالمية الأولى لحفظ السلام والامن ١٩١٩م

اكملى العبارات التالية :

سبب حدوث الاحتباس الحراري: *ملوثات الهواء كالمخازن والغيار
يعتبر الغاز الأساسي المسبب لظاهرة الاحتباس الحراري غاز ثاني أكسيد الكربون
عرفى التالى :

الطبقة الأوزون : هي طبقة في الغلاف الجوي تقوم بوظيفة امتصاص الأشعة الشمسية فوق البنفسجية بحيث لا يصل منها إلى الأرض سوى كميات قليلة تفيد الكائنات الحية ولا تؤذيها
الاحتباس الحراري هو ارتفاع درجات حرارة الأرض عن معدلها الطبيعي :
عددي تحديات الثورة العلمية والتكنولوجية التي يواجهها العالم .



وهو ضروري الآن
الضحك منقحة

أ-مشكلات الطاقة ب- التغيرات المناخية(الاحتباس الحراري) ج- الأمراض الحديثة

عددي الظواهر المناخية الناتجة عن التلوث الهوائي

تآكل طبقة الأوزون - الاحتباس الحراري - الأمطار الحمضية
كيف تم استنزاف طبقة أوزون ؟

يسبب تصاعد كميات كبيرة من الغازات المختلفة إلى طبقة أوزون وتفاعلت مع الذرات التي تتألف منها فأصبحت هذه الطبقة غير قادرة على امتصاص كميات كبيرة من أشعه فوق البنفسجية مما أدى إلى تفككها وحدث الثقب فيها .

- على لا يمكن السكن فى قارة انتركتيكا ؟

بسبب الظروف المناخية الغير مناسبة

قارنى بين كل من :

الأثار المناخية المترتبة على ظاهرة الاحتباس الحراري	أهم الأثار المترتبة عن تآكل طبقة الأوزون
أ - ارتفاع درجة الحرارة الأرض	أ- ارتفاع درجة حرارة الجو
ب - ذوبان الجليد في المناطق القطبية	ب - ارتفاع نسبة الإصابة بالأمراض الجلدية
ج - حدوث الجفاف وتصحر في بعض المناطق	ج - إتلاف الغطاء النباتي وانخفاض إنتاجية الزراعة

التعاون الدولي لمكافحة التلوث البيئياكملى العبارات التالى :

عقد مؤتمر قمة الارض الاول في عام ١٩٩٢م في دولة تسمى البرازيل

عقد مؤتمر مجموعة الثمانية في عام ٢٠٠٥م

اقتصرت مساعدات الصندوق الكويتي في بداية انشاءه على الدول العربية

اكبر الاقاليم في مجموع القروض التي يقدمها الصندوق الكويتي هو البلدان العربية

المدينة التي اغتيل فيها ولي عهد النمسا ١٩١٤ يسمى سرايفو

انسحبت روسيا سنة ١٩١٧ لقيام ثورة فيها تسمى الشيوعية

الوقود الحفري أي المستخرج من باطن الارض

اسبق الدول الاوروبية الى الثورة الصناعي هي اسبانيا

قائد الثورة الشيوعية في روسيا هو لينين

يقع مقر محكمة العدل الدولية في مدينة تسمى لاهاي

عددي المدن الكبرى الملوثة بالعالم

طوكيو - نيويورك - لوس انجلوس - لندن

علي وضع هيئة الامم الكويت في قائمة الشرف

لان الكويت تلتزم بإلتزام تام بقرارات الامم المتحدة



عرفى المفاهيم التالية :

الاتصال	هي عملية تبادل بين المعلومات بين الافراد من خلال الرموز والسلوك المنقول بواسطة الرسائل الشفهية.
الاقمار الصناعية	اجسام تدور حول الارض بسرعة دوراتها حول نفسها، ويغطي القمر منطقة جغرافية معينة ويستقبل المعلومات ويعيد بثها .
الحاسوب	جهاز يستعمل في مجالات المحاسبه وتخزين المعارف والاتصالات.
الانترنت	شبكة عملاقة للمعلوماتية متعددة الوسائل غير مركزيه ومتراپطه بين ملايين الحواسيب من أي نظام اتصال.

الذكري مهام الحاسوب

١- تخزين المعلومات ٢- واعدة عرضها او طبعا ٣- بثها ويمكن وصله بأجهزه الاتصال فيتلقي المعلومات ويحجب عليها.

ما فائدة الانترنت كجزء من ثورة الاتصالات والمعلومات

كثافة التخاطب وتبادل المعلومات

على استخدام الانسان وسائل عديدة لنقل المعلومات

في اوقات السلم والحرب لتوصيل الرسائل من مكان لآخر

على يعتبر الحاسوب اعظم اختراع عرفته البشرية

يدخل استخداماته في جميع مجالات الحياة اثبت بأنه ذو كفاءة عالية ويوفر الوقت والجهد والتكاليف .

قارني بين كل من :



وسائل الاتصال قديما	وسائل الاتصال حديثا
النار والدخان والحمام الزاجل والخيول	التلغراف - الهاتف - التلفزيون - الاذاعة - الحاسوب - الانترنت - الاقمار الصناعية
الاتصال	الاقمار الصناعية:
عملية تبادل المعلومات بين الافراد من خلال الرموز والسلوك المنقول بواسطة الرسائل الشفهية	هي أجسام تدور حول الأرض بسرعة دوراتها حول نفسها و يغطي القمر منطقة جغرافية معينة و يستقبل المعلومات ويعيد بثها
المميزات	الاقمار الصناعية حسب نوع المدار
تتميز بقدرتها على تغطية الموقع بفترات زمنية متقاربة .	١- اقمار تدور مع الارض دوران تزامن على ارتفاع عالي
تتميز بقدرته على تغطية كل الارض .	٢- اقمار تدور حول الارض من القطب الى القطب
الارتفاع متدن وهي قليلة الاستعمال و عالية الكلفة .	٣- اقمار تدور حول بموازة خط الاستواء

اذكر الموقف الدولي والعربي والخليجي (الإجابة الموحدة لكل هي)

(ادانت العراق وطالبت بالانسحاب - أرسلت جيوش للوقوف مع الجيش الكويتي)

هيئة الأمم المتحدة	منظمة المؤتمر الإسلامي	جامعة الدول العربية	مجلس التعاون الخليجي
١- أدانة الولايات المتحدة الأمريكية العدوان و طالبت العراق بالانسحاب.	١- أدانت العدوان العراقي متمثله بوزراء الخارجيه	١- عقدت اجتماعا طارئا لوزراء الخارجيه في 2 أغسطس	١- طالب بعودة الشرعيه والانسحاب الفوري في القمة الحاديه عشر في الدوحه
٢- جمدت الودائع العراقيه والكويتية	٢- أصدروا بيانا يطالب العراق بالانسحاب والالتزام بميثاق المنظمه.	٢- أصدروا قرار إدانة العراق وطالبوا بالانسحاب وتأكيد سيادة الكويت.	٢- وضع جميع الإمكانيات الماديه والعسكريه لتحرير الكويت.
٣- بريطانيا ودول أوربا الغربية وروسيا وأستراليا واليابان وغيرهم ساندوا الكويت			

قارني بين كل من :

اسم المؤتمر	الدولة	العام	الهدف
١- قمة الأرض	البرازيل	١٩٩٢ م	أكد من التلوث إشاعت الطاقة الغير ملوثة كطاقة الرياح و الطاقة الشمسية
٢- قمة الأرض	جنوب إفريقيا	٢٠٠٢	ركز المؤتمر على: المياه- الطاقة- الصحة- الزراعة- التنوع البيولوجي استمرار في الحفاظ على البيئة ومواردها الطبيعية من التلوث واستنزاف
٣- مجموعة الثمانية G8	جنوب إفريقيا	٢٠٠٥ م	مكافئة ظاهرة احتباس احراري .

فرقي بين كل من :

مرض الايدز :	أنفلونزا الطيور
مرض يسببه فيروس يؤدي إلى ضعف المناعة المكتسبة في جسم الإنسان ويفتق به	مرض فيروسي يصيب الطيور ويمكن أن يصيب أنواعا أخرى من الحيوانات كالخزير وينتقل لإنسان عن طريق الطيور المصابه

الكويت والعلاقات الدولية

أكمل الفراغات :

- تعتبر الكويت عضوا فعالا في الامم المتحدة منذ عام ١٩٦٣م
- أكبر القطاعات الي يمولها الصندوق الكويتي قطاع النقل
- المنظمة الإقليمية لحماية البيئة البحرية مقرها دولة الكويت
- أنشأت الهيئة العامة لحماية البيئة عام ١٩٨٠ م .
- " ساعد الناس لكي يساعدوا انفسهم " كان شعار لمنظمة تسمى الصندوق الكويتي للتنمية الاقتصادية
- أنشأ الصندوق الكويتي للتنمية الاقتصادية عام ١٩٦١
- -الشعار الذي اتخذ الصندوق الكويتي للتنمية الاقتصادية ساعد الناس لكي يساعدوا أنفسهم.
- -أدانت دول العالم الغزو العراقي ممثلة بهيئة الامم المتحدة ومن اهم القرارات الصادره هو قرار رقم ٦٧٨
- غزا النظام العراقي دولة الكويت عام ٢-٨-١٩٩٠م واستمر الغزو ٧ شهور
- الضربة الجوية في عام ١٧-١-١٩٩١ والضربة البرية ٢٤-٢-١٩٩١م
- اعلن تحرير دولة الكويت في ٢٦-٢-١٩٩١ م
- عقدت القمة الحادي عشر في مدينة الذوحة
- تقع دولة الكويت بالنسبة لقارة آسيا في الجهة الجنوب الغربي
- -انضمت الكويت إلى هيئة أمم المتحدة عام ١٩٦٣م
- اهتمت الكويت لوقف تدهور الأوضاع إقليم دارفور في السودان
- استقلت دولة الكويت منذ عام ١٩٦١م
- تتسم سياسة الكويت الخارجية منذ استقلالها بأنها معتدلة ومتوازنة
- فازت الكويت بعضوية مجلس الامن الدولي خلال عام ١٩٧٨-١٩٧٩.

ص ١٤٣



استعد
للخبر التالي

عند الإمتحان قل :

اللهم

لا سهل إلا ما جعلته سهلاً

وأنت تجعل الحزن

إذا شئت سهلاً



أتمنى للجميع

التوفيق بإذن الله

أ: جلييلة الدغيم

عرفي المفاهيم التالية :

الصندوق الكويتي للتنمية الاقتصادية : مؤسسة اقتصادية انشأتها دولة الكويت عام ١٩٦١م لتوزيع المعونات المالية والفنية المنظمة الاقليمية : مجموعة من الدول تقع في منطقة جغرافية معينه من العالم تنشأ بينها علاقات تدعو الي تكوين منظمة للتعاون في حل مشكلاتها

علي مساهمة الكويت في حل المشاكل التي تواجه بعض دول العالم.

نتيجة للمركز المالي الناتج من عائدات النفط -٢- لأنها محبة للسلام

ماهو دور دولة الكويت في المؤسسات الخيرية

تقدم المساعدات المادية والعينية - اقامة مشاريع تنمية . - بناء المساجد والمراكز الاسلامية

علي قصف قوات التحالف اهداف عسكرية داخل العراق والكويت

لإضعاف القوة العسكرية العراقية

ما هو قرار رقم ٦٧٨

قرار يعطي انذار نهائي حتى تاريخ ١٥-١-١٩٩١م بضرورة تنفيذ القرارات

ماذا لو لم ينفذ القرار

تقوم هيئة الامم المتحدة مع دول العالم ” يكون الحق في استخدام الوسائل اللازمة التي تكفل اعادة الامن والسلام الي المنطقة

برهني علي مساندة الدول الشقيقة والصديقة لدولة الكويت اثناء الغزو العراقي

كان للموقف الدولي والعربي والخليجي دور مسخر من الله للوقوف بجانب الكويت ومنها هيئة الامم المتحدة - منظمة المؤتمر الاسلامي

جامعة الدول العربية - مجلس التعاون الخليجي الذين ادانو الغزو العراقي وطالبوا بانسحاب القوات العراقية من الكويت

اذكري دور هيئة الامم المتحدة بموقف الغزو العراقي علي الكويت .

ادانة العدوان وطالبت الانسحاب العراق من الكويت - جمدت الودائع والممتلكات العراقية والكويتية

أنشطة الصندوق الكويتي للتنمية نطاق عمليات الصندوق

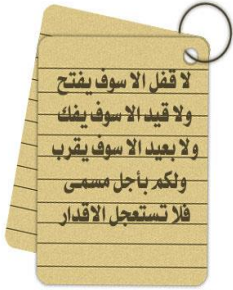
١- تقديم القروض للدول النامية ٢- تقديم المنح على سبيل المعونة الفنية.

النقل - الطاقة - الزراعة - الصناعة - المياه والصرف الصحي - الصناعة - بنوك التنمية

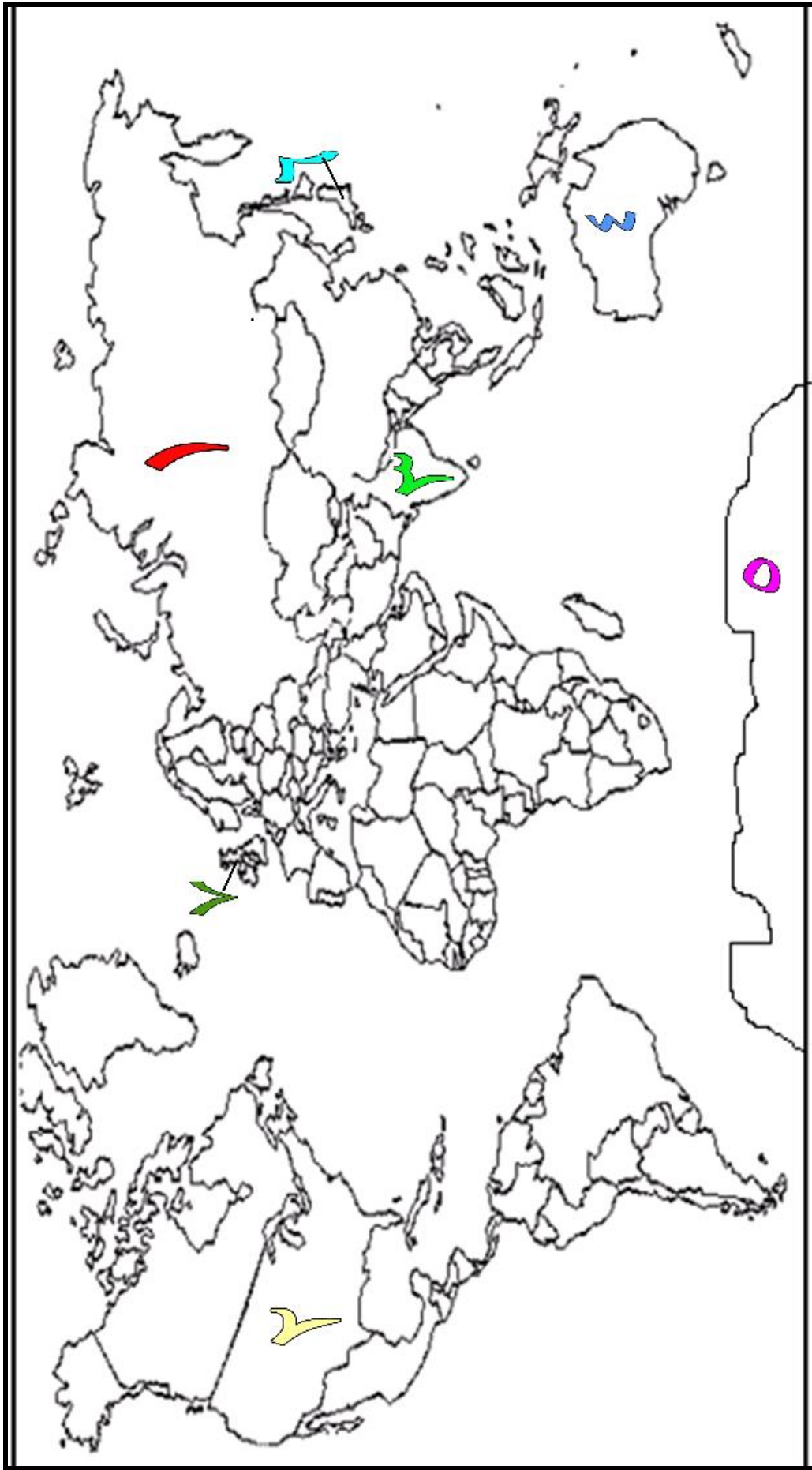
أهداف الصندوق الكويتي للتنمية اقتصاديه العربية ؟

١- تقديم القروض الميسره للدول المحتاجه ٢- تقديم كافة المساعدات المادية لقضايا العالم العربي والإسلامي

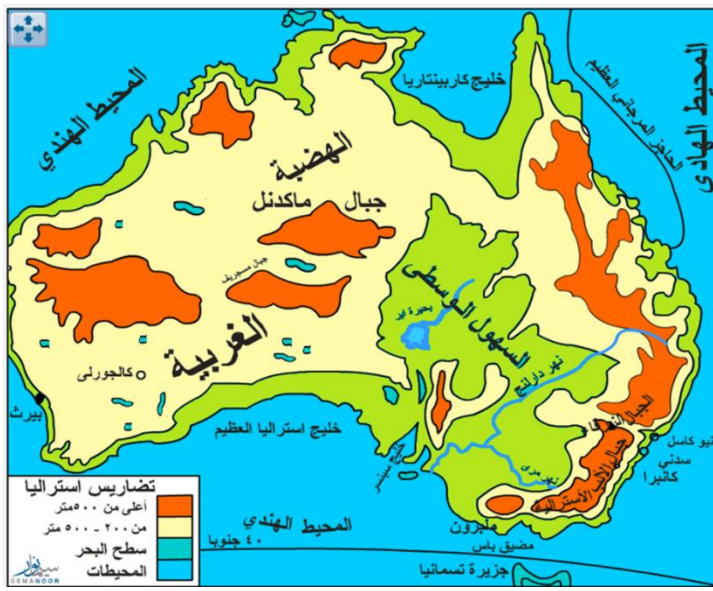
٣- تطوير التنمية في الوطن العربي والعالم الاسلامي



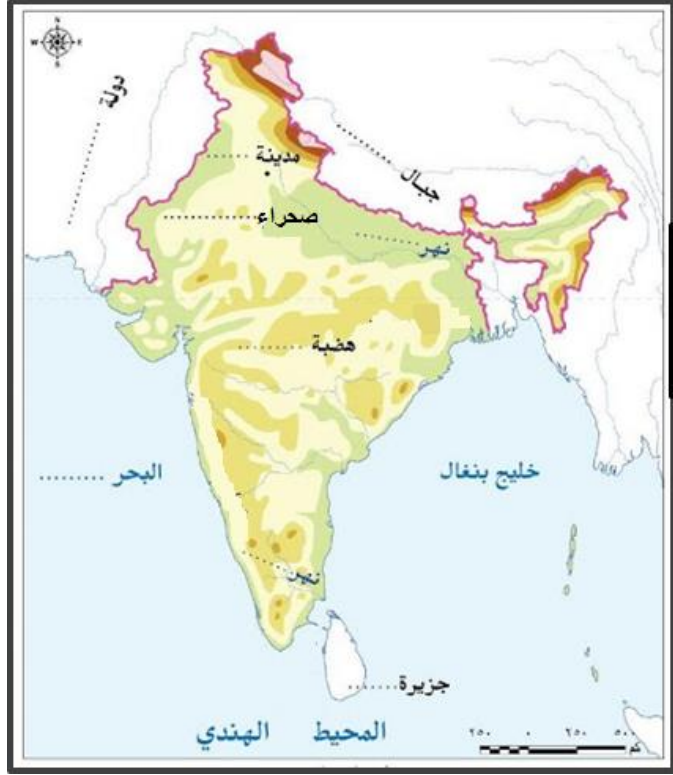
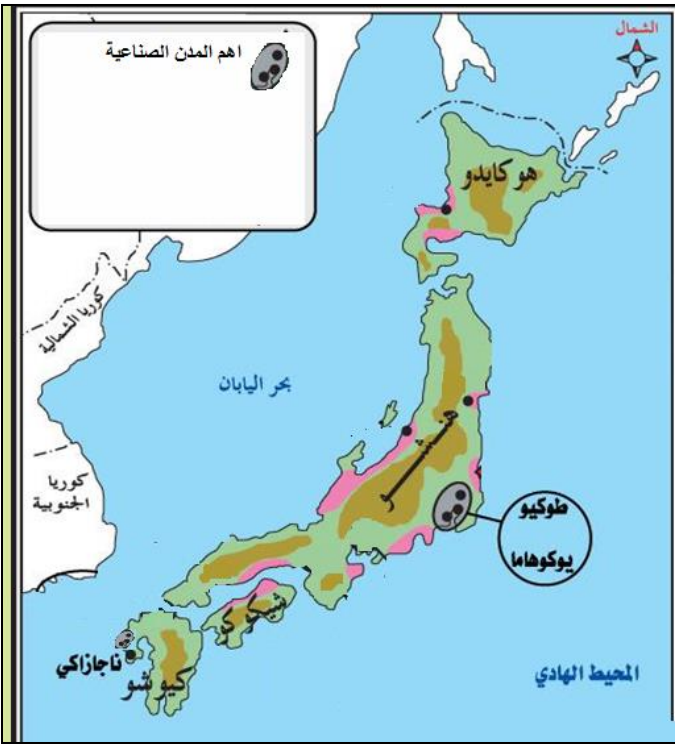
اوجدة المقارنة	منظمة على المستوى العالمي	منظمة على المستوى العربي
اسم المنظمة	هيئة المم المتحدة	جامعة الدول العربية
سنة انضمام الكويت لها	١٩٦٣م	١٩٦١
دور الكويت الفعال	١- ساهمت الكويت في القضاء علي مرض نقص المناعة المكتسبة (الايدز) ٢- التزمت الكويت بشكل دائم بقرارات الامم المتحدة فكانت علي قائمة الشرف ٣- ساهمت الكويت في غالبية المنظمات المتخصصة	١ دور بارز في تأسيس مجلس التعاون الخليجي ٢- الوقوف الي جانب الشعب الفلسطيني ودعم حقوقه السياسية ٣- الاهتمام بمشكلة اقليم دارفور في السودان ٤- استضافة المؤتمر ٣ لوزراء خارجية دول جوار العراق في الكويت ٢٠٠٨



- ١- اكثر القارات سكانا - اكبر القارات مساحة - امبراطورية تم تفكيكها (روسيا)
- ٢- دولة دخلت الحرب متأخرة - توجد بها هيئة الامم المتحدة (الولايات المتحدة الأمريكية)
- ٣- دولة اكتشفها فاسكودي جاما - دولة خضعت للاستعمار لثلاث قرون - دولة نامية تعاني من مشاكل سكانية (الهند)
- ٤- اقل القارات سكان - اصغر القارات مساحة (استراليا)
- ٥- قارة غير مأهولة بالسكان
- ٦- دولة متقدمة (اليابان)
- ٧- دولة اعلنت الحرب علي ألمانيا - من دول الحلفاء (بريطانيا)



١. حدي علي الخريطة
٢. الحاجز المرجاني العظيم
٣. الهضبة الغربية
٤. جبال الالب (المرتفعات الشرقية
٥. كل من المحيط الهادي والهندي



١. المناطق الصناعية
٢. الدول المجاورة لها
٣. العاصمة طوكيو
٤. كل من المحيط الهادي والهندي