

تنسخ في مكتبات
التصوير بسعر

التكلفة

ونسألكم الدعاء

الصف العاشر

تاريخ الكويت



الفصل الدراسي الأول

العام الدراسي ٢٠٢٠/٢٠٢١م

أولا : جغرافية دولة الكويت (ص ٢١)

س١ أكمل الجدول الآتي بما هو مناسب:

الموقع الجغرافي	تقع الكويت شمال شرق شبه الجزيرة العربية أقصى شمال غرب الخليج العربي
الموقع الضلعي	تقع بين دائرتي عرض ٢٨ - ٣٠ شمالا ، وخطي طول ٤٦ - ٤٨ شرقا
الحدود	العراق من الشمال والشمال الغربي - السعودية من الجنوب والجنوب الغربي - الخليج العربي من الشرق
المساحة	١٧,٨ ألف كم٢

س٢ دلل على صحة العبارة التالية : (الموقع الاستراتيجي لدولة الكويت جعل لها أهمية بين الدول) ص ٢٢

س٣ علل / أهمية (مميزات) الموقع الجغرافي المتميز لدولة الكويت ؟

- (١) موقعها المتميز للطريق الملاحي البحري والتجاري (طريق الهند والشرق الأقصى)
- (٢) تمثل المدخل الشمالي الشرقي لشبه الجزيرة العربية.
- (٣) تعد مركزا لتجارة السكان الوافدين عليها .
- (٤) منطقة (ترانزيت) أي منطقة لتجارة العبور قليلة الضرائب.
- (٥) أحد أهم الموانئ في شمال شرق الإحساء .
- (٦) تميز الكويتيون بالمهارة في نقل التجارة من موانئ الخليج والهند والشرق الإفريقي.

ابداً باسم الله
وتوكل على
الله

التضاريس ص٢٤



س٤ اذكر خصائص التضاريس في دولة الكويت .

- (١) انحدار السطح تدريجيا من الغرب إلى الشرق.
- (٢) لا يزيد أعلى ارتفاع عن ٣٠٠ متر.
- (٣) يتكون السطح من سهول رملية مستوية تتخللها بعض التلال قليلة الارتفاع (١٤٥ م)

س٥ أكمل المخطط السهمي:

مظاهر السطح في دولة الكويت

السهول

الأودية الجافة

الهضاب

التلال

التلال	شمالا : تلال جافة (جال الزور (١٣٧ م) - كراع المرو (١٨٣ م) - اللياح) جنوبيا : تلال على شكل قباب في (برقان - وارة) جنوب الأحمدية.
الهضاب	هضبة الأحمدية : تأخذ الشكل الطولي في اتجاه شمالي جنوبي لمسافة ٣٠ كم ، وارتفاعها (١٣٧ م)
الأودية الجافة	وادي الباطن : يسير مع الحدود الغربية ويفصل بين الحدود الكويتية العراقية بمسافة ١٥٠ كم.
السهول	(١) سهل الدبدبة : يشغل مساحة كبيرة غرب و جنوب الكويت. (٢) سهل برقان : يمتد من جون الكويت باتجاه الجنوب موازيا لخط الساحل ومنسوب سطحه من (صفر - ١٠٠ متر) (٣) سهل الروضتين : يقع شمال الكويت وينحدر باتجاه الشرق والشمال الشرقي. علل زادت أهمية سهل برقان باكتشاف النفط ؟ لأنه يضم أكبر حقول النفط الكويتية وهو حقل برقان.

س٦ عدد أهم مناطق الزراعة في دولة الكويت. (الفحيحيل - المنقف - الفنطاس - الوفرة - الجهراء - أبو حليفة - العقيلة - الشعيبه - الدمنة)

س٧ علل ما يأتي:

١- أهمية سطح الكويت الجيولوجية ؟

- لأنها تمثل جزء من الكتلة العربية حيث تفصل بين العراق والهضبة الصحراوية والتي تكون شبه الجزيرة العربية .

٢- وجود زراعة في بعض مناطق الكويت.

- بسبب وجود المياه الجوفية.

٣- الأراضي الزراعية في الكويت محدودة.

- بسبب الطبيعة الصحراوية وقلّة المياه.



المناخ في دولة الكويت ص ٣١

س١ ما النتائج المترتبة على الموقع الفلكي لدولة الكويت ؟ (المميزات المناخية لدولة الكويت)

- (١) مناخ قاري جاف وقاس .
(٢) ارتفاع درجة الحرارة في معظم أيام السنة .
(٣) وجود فصلين رئيسيين وهما (الصيف - الشتاء) وفصلين ثانويين (الربيع - الخريف)

س٢ اذكر أهم المميزات المناخية لدولة الكويت في الفصول الأربعة

الفصل	مميزاته
الصيف	(١) طويل حار وجاف وقد تصل حرارته من (٤٢ - ٤٨) مئوية وقد تصل إلى (٥٠) مئوية (٢) ارتفاع الرطوبة خلال شهرين (أغسطس وسبتمبر) (٣) هبوب رياح مثيرة للغبار.
الشتاء	(١) دافئ قصير ومعتدل ، ممطر أحيانا . (٢) الحرارة (١٨) مئوية وقد تنخفض إلى الصفر . (٣) أمطار قليلة وغير منتظمة
الربيع	- قصير ومعتدل.
الخريف	- ترتفع فيه نسبة الرطوبة ، وتقل فيه الحرارة عن الصيف.

س٣ علل ما يأتي:

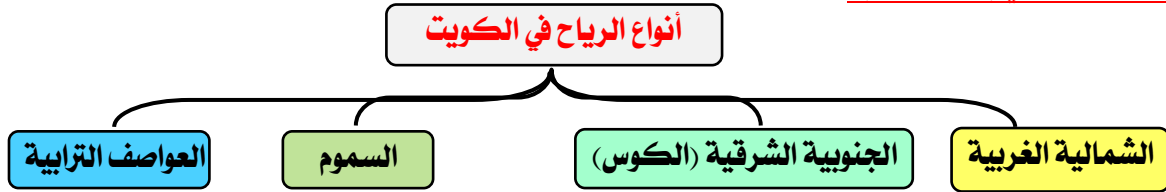
أ. يمتاز مناخ الكويت بالجفاف والرطوبة؟

- بسبب قلة الأمطار ونسبة التبخر العالية.

ب. يعاني سكان الكويت من القدم من مشكلة المياه ؟ - لأن الموارد المائية شحيحة وعالية الملوحة

س٤ عدد أهم مناطق المياه الصالحة للاستهلاك الأدمي بالكويت ؟ (الروضتين - أم العيش - الصليبية - العبدلي - الوفرة)

س٥ أكمل الشكل الآتي بما هو مناسب:



س٦ اذكر أهم المميزات المناخية وأثرها لكل نوع من أنواع الرياح الآتية:

الرياح	المميزات وأثرها المناخية
الشمالية الغربية	(١) تهب معظم أيام السنة وهي رياح جافة . (٢) تعمل على انخفاض الحرارة صيفا وقارس البرودة شتاء س٧ علل تتميز الرياح الشمالية الغربية بالجفاف ؟ - بسبب المرتفع السيبيري المتمركز شمال القارة الآسيوية.
الجنوبية الشرقية (الكوس)	(١) رطبة دافئة تهب من الجنوب الشرقي . (٢) تعمل على رفع درجة الحرارة والرطوبة صيفا . س٨ علل تتميز الرياح الجنوبية الشرقية بأنها رطبة ودافئة ؟ لأنها تهب من الجنوب الشرقي وتتأثر بالمنخفض السوداني.
السموم	(١) جافة جدا تهب من الشمال أو الشمال الشرقي . (٢) تهب في الظهيرة حيث تنخفض معها الرطوبة النسبية . (٣) تعمل على رفع درجات الحرارة . (٤) عندما تكون نشطة فإنها تثير الأتربة والرمال.
العواصف الترابية (السرايات)	(١) تهب في أواخر الربيع وأوائل الصيف فتثير الغبار . (٢) يصاحبها عواصف رعدية يسقط بسببها المطر الشديد تسمى (السرايات)

س٩ عرف السموم ؟ - رياح جافة جدا تهب من الشمال أو الشمال الشرقي في فصل الصيف.

س١٠ عرف السرايات ؟ - أمطار شديدة تسقط في أواخر الربيع وبداية الصيف.

السكان في الكويت ص ٣٦

س١ دلل على صحة العبارة التالية: (لم تكن الكويت منطقة مهجورة أو خالية من السكان)

- (١) سكنها وعاش على أرضها جماعات سكانية وبشرية انتمت لعهود وفترات زمنية متعددة.
- (٢) جماعات عاشت ومارست حياتها الطبيعية حيث كانت موجودة حولها أو على مقربة منها.

س٢ عرف إقليم البحرين؟ - إقليم يمتد من جنوب البصرة شمالا حتى عمان جنوبا. (المنطقة الغربية للخليج العربي)
س٣ علل ما يأتي:

أارتباط أصول السكان في الكويت ارتباطا وثيقا بالتركيب السكانية لشبه الجزيرة العربية بمفهومها التاريخي؟

- لأنها تقع ضمن الامتداد الجغرافي والسياسي للإقليم الذي يحتل المنطقة الغربية للخليج العربي ويعرف تاريخيا بإقليم البحرين.
بافتقدت الكويت مفهوم الدولة قبل نزول العتوب بها؟

- لأنها افتقدت لعنصرين من أهم عناصر البناء السياسي وهما (السلطة - الحدود السياسية)

س٤ عرف السلطة: - هي التي تضفي الطابع السياسي للمكان وتدير شؤونه وتحكمه

س٥ كيف تتشكل الحدود السياسية؟ - التي تشكلها هي السلطة السياسية.

س٦ دلل على صحة العبارة التالية: (يعود الوجود البشري في منطقة الكويت إلى أكثر من أربعة آلاف ق.م)

- وجود بقايا الآثار الحضارية القديمة التي عثر عليها في جزيرة فيلكا وواره وتلال القرين وبرقان.....(حضارة العبيد)
س٧ أكمل:

- أول تعداد رسمي للسكان عام.....١٩٥٧ م

- الأمير الذي أجري في عهده أول تعداد سكاني عام ١٩٥٧ م يسمى عبد الله السالم.

- الجهة المسؤولة عن إجراء التعداد السكاني تسمى.... دائرة الشؤون الاجتماعية.

- بلغ عدد سكان الكويت عام ١٩٩٠ م نحو ٢,١٤١٦٥ نسمة

- نسبة عدد السكان الوافدين بالنسبة لسكان الكويت نحو ٧٢٪.

- أجرى تعداد عام ٢٠١٤ م للسكان في عهد سمو الأمير... صباح الأحمد

إحصائية السكان عام ٢٠١٤ م

الإجمالي	الوافدون	الكويتيون
٤,٠٠٠,٠٥٢	٢,٧٨٩,٣٠٠	١,٢٦٢,١٠٠

س٨ فند العبارة التالية: (استمر وضع السكان في منطقة الكويت دون تغير عام ١٩٩٠ م) أو علل/ تعرض السكان في الكويت عام ١٩٩٠ م لتغيرات كبيرة؟

(١) بسبب العدوان العراقي الغاشم للكويت.

(٢) هجرة عدد كبير من الوافدين إلى أوطانهم.

الأنشطة الاقتصادية قديما ص ٣٩

س١ برهن على صحة العبارة التالية:

(عرف المجتمع الكويتي قديما وقبل اكتشاف النفط أنه مجتمع بسيط وهادئ يتميز بالتلاحم والعمل الجماعي)

(١) مجتمع يعي أن مبدأ الشورى والحكم المشترك هو الضمان والأساس لوحده.

(٢) تقبل الهجرات والانفتاح على جميع الثقافات.

(٣) له قدرة كبيرة على المواجهة والتحدي وقت الأزمات.

(٤) استطاع النجاح والحفاظ على وجوده وكيانه.

(٥) كان للتجار دور مهم في انفتاح الكويت والكويتيين على الشعوب والثقافات المختلفة.

(٦) كان الغوص والرعي أساس قام عليه اقتصاد المجتمع البسيط .

س٢ اذكر العناصر التي أثرت في المجتمع الكويتي قبل اكتشاف النفط.

(١) النشاط البحري: (الصيد - الغوص على اللؤلؤ - صناعة السفن)

(٢) النشاط الرعوي: (الرعي - الصيد - أعمال البداوة)

(٣) النشاط الزراعي: (خارج مدينة الكويت مثل قرية (الجهراء - الفحيحيل)



س٣ دتل على صفة العبارة التالية: (يشكل الخليج العربي حلقة وصل واتصال حضاري وانساني لمختلف الشعوب)

- أو علل / اعتبار الخليج العربي أحد أهم الطرق التجارية القديمة ؟

(١) لأنه يقع في متوسط قارات العالم القديم.

(٢) وجود مضيق هرمز الذي يربط خليج عمان بالخليج العربي.

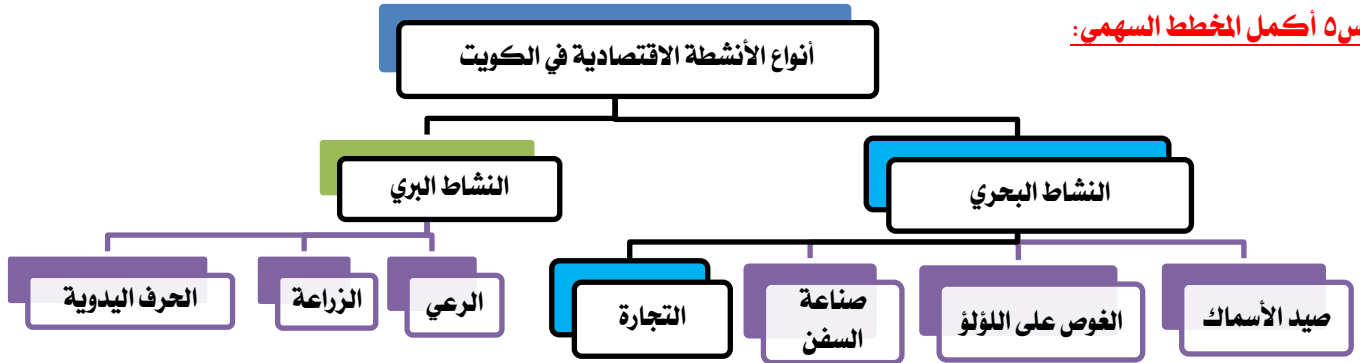
(٣) توافر الموارد الطبيعية البرية والبحرية (التمر- اللؤلؤ)

(٤) توافر وسائل نقل التجارة برا وبحرا للبلدان المجاورة.

س٤ ما المقصود بطريق الحرير؟ - أهم طرق التجارة الدولية في العالم القديم ويبدأ من الصين متخذاً مساريين البحري شمالاً - البحري غرباً)

طريق الحرير البري	طريق الحرير البحري
يتجه شمالاً:- يبدأ من الصين إلى أوروبا.	يتجه غرباً:- يبدأ من ميناء (كانتون) بالصين ويلف حول سواحل الهند ليدخل البحار المحيطة بشبه الجزيرة العربية
	يتفرع الطريق البحري إلى فرعين: الأول شمالاً: إلى الخليج العربي الثاني غرباً: إلى البحر الأحمر

س٥ أكمل المخطط السهمي:



س٦ عدد أنواع النشاط البشري. (صيد الأسماك - صناعة السفن - الغوص على اللؤلؤ - التجارة)

س٧ علل ما يأتي:

١- كان النشاط البحري في الكويت هو النشاط السائد ؟

(١) الموقع الجغرافي على الخليج العربي

(٢) قلّة المياه العذبة والمناخ القاس.

(٣) طبيعة أرضها الرملية والتي لا يصلح أغلبها للزراعة .

بد لعب المناخ دوراً مهماً في اتجاه معظم السكان الكويتيين قديماً إلى العمل البحري.

- لأن الكويت تقع في منطقة صحراوية قليلة الموارد والمياه.

ج- كانت حرفة الصيد مصدراً من مصادر الدخل قبل النفط.

(١) كان السمك الغذاء الرئيسي لسكان الكويت .

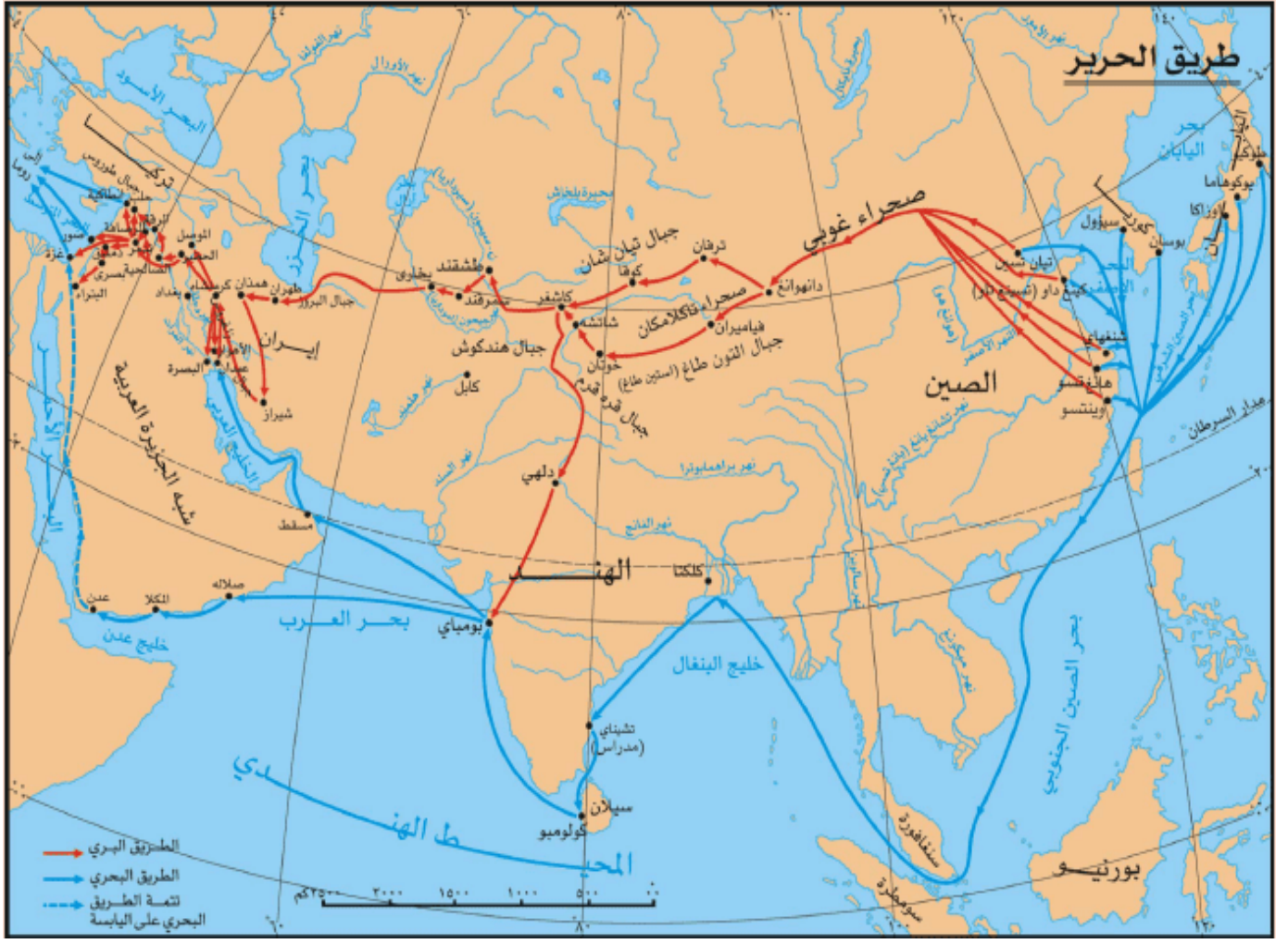
(٢) تعدد وتنوع الأسماك في مياه الخليج .

د- وجود فائض من الأسماك كان يملح ويجفف ويصدر في الموانئ المجاورة قديماً.

- بسبب انتعاش حرفة صيد الأسماك في الكويت قديماً



صيد الأسماك	
الزبيدي - الهامور - الصبور - النقرور - البياح - السبيطي - الربيان	س٨ عدد أنواع الأسماك.
الشباك - الحظور - القرقور - الميذار (سنارة لوضع الطعم) - الإضاءة	س٩ عدد طرق الصيد قديماً
الشوعي - الهوري - الجالبوت.	س١٠ عدد أنواع سفن الصيد قديماً
فيلكا - وربه - خور الزبير - مسكان - كاظمة - الصبية - رأس الزور - الجليعة.	س١١ أماكن الصيد بدولة الكويت
الشباك - القرقور	س١٢ ما أدوات الصيد قديماً؟
كان الصياد يحمل سراج حيث يتجمع السمك فيقوم بضربه بالآلة حادة كالسيف أو العصا في نهايتها حربة.	س١٣ ما طريقة الصيد بالإضاءة (القمبان)؟



أنواع الأنشطة الاقتصادية في الكويت



INSTGRAM: KUW.MOZKRAT



<https://t.me/Mozartmohamed>



66176078

س١ عدد العوامل التي ساعدت على ازدهار صناعة السفن؟

- (١) هبوب الرياح الموسمية لدفع السفن.
- (٢) توفر الأيدي العاملة لصناعة السفن.
- (٣) تمتع الكويت بوجهه بحرية طويلة.
- (٤) توفر مصادر المواد المستخدمة في صناعة السفن.
- (٥) براعة الأساتذة والقلاليف

س٢ عرف العمائر الساحلية؟ - مخازن المواد المستخدمة في صناعة السفن.

فرق بين كلا مما يلي من حيث التعريف:

قبلكم الدعاء

القلاف	الأساذ
الشخص الذي يقوم بعملية إعداد المواد اللازمة للصناعة ثم بناء السفن	الشخص الذي يقوم بتصميم السفينة

(١)
صناعة
السفن

أنواع السفن الكويتية



س٣ اذكر مظاهر اعتزاز الكويت بتراثها البحري.

- (١) اتخاذ صور سفينة البوم الكويتي لتكون شعارا للدولة وكذلك للعملة الوطنية.
- (٢) غالبا ما تزين المؤسسات بصور ومشاهد تعبر عن عمق ارتباط الكويت بتراثها البحري.

س٤ علل / لعب البحر قديما دورا مهما في تشكيل طبيعة وشكل المجتمع الكويتي.

- بسبب ما وفره من أنشطة معيشية مختلفة حيث ارتبطت حرفة استخراج اللؤلؤ بحياة الكويتيين ارتباطا وثيقا منذ التأسيس.

س٥ علل / تعتبر حرفة الغوص على اللؤلؤ أشهر حرفة مارسها أهل الكويت؟

- (١) لأنها بدأت منذ نشأة الكويت حتى بداية الخمسينات.
- (٢) حرفة موسمية يشارك فيها أغلب رجال الكويت وشبابها.

القفال	الذشة
إنهاء موسم الغوص في شهر (سبتمبر أو أكتوبر)	بداية موسم الغوص في شهر مايو

(٢)
الغوص
على
اللؤلؤ

س٦ عرف الهيرات: - منابت المحار المحتوى على اللؤلؤ.

من أهم مسميات اللؤلؤ... (دانه - قماشت)

س٧ علل / كساد تجارة اللؤلؤ عام ١٩٢٨م؟ بسبب ظهور اللؤلؤ الصناعي.

س٨ ما قانون الغواصين؟ قانون صدر عام ١٩٤٠م ينظم علاقة العمل بين النوخة والبحارة.

س٩ أكمل: صدر قانون الغواصين عام ١٩٤٠م في عهد الشيخ أحمد الجابر الصباح.

س١٠ ما مدى تأثير حرفة الغوص على أهل الكويت؟

- (١) تقوية العلاقات بين السكان.
- (٢) الاحترام المتبادل وتكوين الأسرة الواحدة.
- (٣) التعاون.
- (٤) الالتزام والطاعة.



العاملون في حرفة الغوص



المهنة	وظائفه
الנוخة	قائد السفينة والمسؤول عنها وعن تحديد أماكن الغوص والبحث عن اللؤلؤ. عدد الشروط الواجب توافرها في النوخة؟ (١) القدرة على معرفة المسالك والطرق. (٢) الإلمام بالاتجاهات البحرية. (٣) اتخاذ جميع القرارات. (٤) له الحق في إعطاء إذن للبحارة بمغادرة السفينة. (٥) ضمان سلامة طاقمها.
المجدي	رئيس البحار والمسؤول عن إدارة السفينة من الداخل.
الغيص	الشخص الذي يغوص في قاع البحر بحثاً عن المحار.
السيب	الشخص الذي يصحب الغيص للسطح عند شد الغيص للحبل (الأيد) ومساعدته في فتح المحار.
النهام	الشخص الذي ينشد المواويل تشجيعاً لطاقم السفينة في رحلتهم.
الرضيف	صغار السن الذين يقومون ببعض الأعمال الأقل من السيب.
الطواش	تاجر اللؤلؤ.



INSTGRAM: KUW.MOZKRAT

<https://t.me/Mozartmohamed>

66176078

مع دعائي بالتوفيق والنجاح

